



Мирас®  
Университеті

6B04202 – "Құқықтану"  
білім беру бағдарламасы  
бойынша түсу  
сынақтарының  
бағдарламасы

Мирас Университеті



Құқық секторы

«БҒКГЕМН»  
Жаңа білім беру технологиялары мен бағдарламаларын сынақтан өткізу үшін экспериментті іске асыру жөніндегі жұмыс тобының бөлімшесі



Даниярова А.Б.-П.  
(ф.и.о.) (ф.и.о.)  
« 21 » тамыз 2023 ж.

Қабылдау сынақтары  
БАҒДАРЛАМАСЫ


6B04202 « Құқықтану »  
(БББ шифры) (БББ бағдарламасы)

Жаңа білім беру технологиялары мен бағдарламаларын сынақтан өткізу үшін экспериментті іске асыру жөніндегі жұмыс тобының отырысында қаралды және бекітілді  
Хаттама № 2 от « 21 » тамыз 2023 ж.

Шымкент, 2023 ж.

Қабылдау сынақтарының бағдарламасы 6В04202 – "Құқықтану" білім беру бағдарламасына кіретін оқу пәндерінің бағдарламалары негізінде жасалды

Бағдарламаны дайындаған: аға оқытушы Шинтаева Ф.Е.

Сектор менеджері  Жуматаева Ж.А.

## 1. Терминдер мен анықтамалар

1. *Бакалавриат* – білім беру бағдарламалары тиісті мамандық бойынша «бакалавр» дәрежесін бере отырып, кадрлар даярлауға бағытталған жоғары білім беру сатысы;
2. *МЖМББС* – Мемлекеттік жалпыға міндетті білім беру стандарты;
3. *Білім беру бағдарламасы* – оқытудың мақсаттарын, нәтижелері мен мазмұнын, білім беру процесін ұйымдастыруды, оларды іске асыру тәсілдері мен әдістерін, оқыту нәтижелерін бағалау өлшемдерін қамтитын білім берудің негізгі сипаттамаларының бірыңғай кешені;
4. *Білім алушылардың оқу жетістіктері* – білім алу процесінде алған және жеке тұлғаның қол жеткізілген даму деңгейін көрсететін білім алушылардың білімі, іскерліктері, дағдылары мен құзыреттері.

## 2. Нормативтік құжаттар

6В04202 – Құқықтану Білім беру бағдарламасы бойынша қабылдау сынақтарының бағдарламасы мынадай нормативтік-құқықтық актілер негізінде әзірленді:

1. «Мирас» университетін эксперименттік алаң ретінде белгілеу туралы» ХҚКО-ның 2023 жылғы 16 тамыздағы №406 бұйрығы;
2. «Білім туралы» Қазақстан Республикасының 2007 жылғы 27 шілдедегі № 319-III Заңы (өзгертулермен және толықтырулармен);
3. «Мирас» университетінің Академиялық саясаты.

## 3. Жалпы ережелер

1. Қабылдау сынақтары БББ-ға енгізілген пәндердің жұмыс оқу бағдарламалары негізінде әзірленген осы бағдарлама шеңберінде өткізіледі.
2. 6В04 Бизнес, басқару және құқық білім беру саласы бойынша қабылдау сынақтары – тест нысанында өткізіледі.
3. Қабылдау сынақтарының нәтижелері «Мирас» университетінің Академиялық саясатында келтірілген бағалау жүйесі бойынша бағаланады.
4. Қабылдау сынақтарының нәтижелері «Мирас» университетінің Академиялық саясатына сәйкес жарияланады.

## 4. 6В04202 – «Құқықтану» білім беру бағдарламасының негізгі құзыреттері

### *Кәсіби құзыреттер (КҚ):*

#### **КҚ-1**

Әлеуметтік маңызы бар проблемалар мен азаматтық процестерді талдау, нормалар мен нормативтік құқықтық актілердің жобаларын әзірлеу, заң іс-әрекеттерінің барлық түрлерін жүзеге асыру, ҚР Қылмыстық құқығының жалпы және Ерекше бөлігінің негізгі санаттарын, қылмыстық құқық бұзушылықтар жүйесін, түрлерін игеру; ҚР ҚК бойынша құқық бұзушылықтардың әрбір түрінің ерекшеліктері туралы білімді қалыптастыру, қаржы және салық құқығының теориялық негіздері, қаржыландыру практикасы және салық салу бойынша анализ жасау қабілеттілікті қалыптастыру.

#### **КҚ-2**

Қолданыстағы заңнаманың мәселелерін түсіну, нормативтік құқықтық актілерді талдау, күнделікті тәжірибеде моральдық және құқықтық нормаларды сақтау; құқықтық салада полемика жүргізу, материалдық және іс жүргізу құқығының нормаларын, Қазақстан Республикасының заңнамасын жүзеге асыру дағдыларын меңгеру, қылмыстық істер бойынша анықтамаларды жүзеге асыра білу; кәсіби қызмет нәтижелерін процессуалдық және қызметтік құжаттамада дұрыс және нақты көрсете білу.

#### **КҚ-3**

Заңды фактілер мен құқықтық қатынастарды талдай білу, құқықтық нормаларды дұрыс қолдана білу, техникалық-криминалистикалық және тактикалық-криминалистикалық құралдарды қолдануда негізгі дағдыларды меңгеру, қылмыстық және криминалистикалық қызметтің негізгі заңдылықтарын білу.

#### **КҚ-4**

Кеден заңнамасының және халықаралық келісімдердің мәнін, кедендік құқық бұзушылықтардың түрлері мен жауапкершілік шараларын, кеден органдарының қызметін түсіну, кедендік инфрақұрылым элементтерінің даму динамикасын талдау, кедендік бақылаудың техникалық құралдарын дұрыс қолдану, кедендік төлемдер мен салықтардың жүйесі мен түрлерін тұжырымдау қабілеті

## ДҮНИЕЖҮЗІ ТАРИХЫ

### Тест сұрақтарының үлгілік тізімі

1. 1958 жылы Англия қай мемлекетке тәуелсіздік берді

- A) Гвинеяға
- B) Гавай аралдарына
- C) Египетке
- D) Мальтаға
- E) Филиппинге

2. «Әлеуметтік нарықтық экономика» терминінің авторы кім ?

- A) А. Мюллер-Армак
- B) Л. Эрхард
- C) Ф.Вольтер
- D) К.Маркс
- E) Я.Данилевский

3. Португалия отарлары арасында алғашқылардың бірі болып тәуелсіздікке қол жеткізген ел?

- A) Гвинея-Бисау
- B) Занзибар
- C) Замбия
- D) Малави
- E) Гамбия

4. 1947 жылы қай ел тәуелсіздік алды?

- A) Үндістан
- B) Қытай
- C) Монғолия
- D) Ливия
- E) Марокко

5. 1974 жылы Жасыл мүйіс аралдары, Ангола, Мозамбик, Сан-Томе және Принсипи аралдарының Тәуелсіздігіне арналған іс-шара:

- A) «Қалампыр төңкерісі»
- B) «Жауқазын төңкерісі»
- C) «Бәйшешек төңкерісі»
- D) «Раушан төңкерісі»
- E) «Тюльпан төңкерісі»

6. 1946 жылы АҚШ кімге тәуелсіздік берді?

- A) Филиппинге
- B) Гавай аралдарына
- C) Аляскаға
- D) Канадаға
- E) Мексикағаға

7. 1956 жылдан бастап отарлық иеліктерінен бас тарта бастаған қандай отаршыл мемлекет?

- A) Англия
- B) Португалия
- C) АҚШ
- D) Германия
- E) КСРО

8. Үштік одаққа қандай елдер кірді?

- A) Германия, Италия, Австрия-Венгрия
- B) Англия, АҚШ, Германия
- C) Ресей, Италия, Болгария
- D) Португалия
- E) Жапония

9. Францияның РУР көмір бассейнін басып алуына не себеп болды?

- A) Германияның өтемақы төлеуден бас тартуы
- B) Әлемдегі тепе-теңдіктің бұзылуына байланысты
- C) Экономикадағы тұрақтандыру
- D) Сайлау
- E) Инфляция

10. АҚШ президенті В. Уилсон не құруды ұсынды?

- A) Ұлттар Лигасы
- B) Бейбітшілік Корпусы
- C) БҰҰ
- D) НАТО
- E) Версаль-Вашингтон конференциясы

11. Шығыс Пәкістан жерінде құрылған қазіргі мемлекет:

- A) Бангладеш
- B) Непал
- C) Вьетнам
- D) Ауғанстан
- E) Бирма

12. 1946 жылғы сайлауда Үндістанның қай партиясы саяси күшке ие болды?

- A) Мұсылмандар лигасы
- B) Үнді либералдық партиясы
- C) Үнді демократиялық партиясы
- D) Үнді Ұлттық партиясы
- E) Тибет монахтарының партиясы

13. Мұсылмандар лигасының жетекшісі кім?

- A) Мұхаммед Әли Джинна
- B) Мұджибур Рахман
- C) Беназир Бхутто
- D) Джемал Баяр
- E) Мұхаммед Даул

14. Ұлыбританияның қай премьер-министрі Үндістанның тәуелсіздігін беруді ұйымдастырды?

- A) К.Эттли
- B) Г.Макбилан
- C) У.Черчилль
- D) Г. Вильсон
- E) А. Иден

15. Отарлық жүйе ыдырауының экономикалық факторы?

- A) Отар елдерінде жергілікті буржуазияның қалыптасуы
- B) Батыс елдерінде демократияның артуы
- C) Бірінші дүниежүзілік соғыс
- D) Екінші дүниежүзілік соғыс
- E) «Еуропалықтардың өркениеттендіруші миссиясы» идеологиясының әлсіреуі

16. «Біздің ісіміз дұрыс, жау жеңіледі, жеңіс біз үшін болады» деген сөздер кімге тиесілі

- A) КСРО Халық Комиссарлары Кеңесінің төрағасы В. М. Молотовқа
- B) политрук 316 дивизия Клочковқа
- C) Мерген Василий Зайцевке
- D) Франция Президенті Ш. Де Голльге
- E) КСРО Бас хатшысы М. Андроповқа

17. «Ресей керемет, бірақ шегінерге жер жоқ -артта Мәскеу!» - сөзі кімге тиесілі?

- A) Политрук 316 дивизия Клочковқа
- B) Пулеметші Мәншүк Мәметова
- C) Мерген Василий Зайцевке
- D) Франция Президенті Ш. Де Голльге
- E) КСРО Бас хатшысы М. Андроповқа

18. Екінші дүниежүзілік соғыс кезінде ядролық жарылысты бастан өткерген ел?

- A) Жапония
- B) Болгария
- C) АҚШ
- D) Англия
- E) Кеңестік Ресей

19. Суэц каналы қай жылы ашылды?

- A) 1869
- B) 1901
- C) 1912
- D) 1915
- E) 1850

20. 1959 ж. желтоқсанында Біріккен Ұлттар Ұйымының шешімімен 1960 жыл -

- A) Африка жылы
- B) Индонезия жылы
- C) Азия жылы
- D) Әйелдер жылы
- E) Дүниежүзілік діндер жылы

21. Екінші дүниежүзілік соғыста экономика, ғылым және техника саласында күші ерекше арта түскен ел?

- A) АҚШ
- B) Германия
- C) Италия
- D) КСРО
- E) Жапония

22. Екінші дүниежүзілік соғыстан кейінгі жылдары КСРО-ның қолдауымен социализм құруға кіріскен елдер?

- A) Шығыс Еуропа елдері
- B) АҚШ
- C) Батыс Еуропа елдері
- D) Оңтүстік Корея
- E) Латын Америка елдері

23. АҚШ пен КСРО-ның қарулы текетіресі алған атау?

- A) «Қырғи қабақ соғыс»
- B) «Трансатлантикалық соғыс»
- C) «Аляска дағдарысы»
- D) «Атомдық террор»
- E) «Темір мен болат»

24. 1949 ж. 29 тамызында кеңестік атом бомбасының алғашқы сынағы өткізілген полигон орналасқан қала?

- A) Семей
- B) Павлодар
- C) Верный
- D) Орал
- E) Петропавл

25. Фултондағы кімнің сөзі «қырғи қабақ соғыстың» басталуына түрткі болды?

- A) У.Черчилль
- B) К.Этли
- C) А.Иден
- D) Г.Вильсон
- E) Г.Макмиллан

26. Түркия Ассамблеясы қай жылы М. Кемалға "Ататүрік" (түркілердің әкесі) фамилиясын берді?

- A) 1934
- B) 1945
- C) 1937
- D) 1967
- E) 1925

27. Екінші дүниежүзілік соғыстан кейін социализмнің әлемдік жүйесін құрмақ болған ел?

- A) КСРО
- B) Жапония
- C) Түркия
- D) Франция
- E) Португалия

28. «Милитаризм» терминіне анықтама беріңіз?

- A) Қару-жарақты күшейту
- B) Қоғамдастықтың білімі
- C) Ұлттық ұлылық идеясы
- D) Соғыс
- E) Ұлтты жою

29. АҚШ-тың «Еуропаны қалпына келтіру бағдарламасы» құжатының тарихта алған атауы?

- A) «Маршалл жоспары»
- B) «Жаңа белестер»
- C) «Монро доктринасы»
- D) «Жаңа бағыт»
- E) «Тафт-Хартли Заңы»

30. Маршалл жоспарының үлгісі бойынша 1950-1953 жж. америкалық көмекті алған дамушы елдер саны?

- A) 37
- B) 14
- C) 25
- D) 45
- E) 10

31. АҚШ және Канада бастамашылығымен 1949 ж. сәуірде құрылған ұйымды атаңыз?

- A) Солтүстік атлантикалық келісім ұйымы (НАТО)
- B) Оңтүстік Америка ортақ нарығы
- C) Варшава шарты Ұйымы

- D) Еуропалық көмір және болат қауымдастығы
- E) Латынамерикалық еркін сауда ассоциациясы

32. Әлемнің Версаль жүйесі кезінде қай ел барлық колонияларынан айырылды?

- A) Германия
- B) Африка
- C) Ресей, АҚШ
- D) Жапония, Англия
- E) Франция

33. 1955 жылы 14 Мамырда қандай келісімге қол қойылды (достық, ынтымақтастық және өзара көмек туралы келісім)?

- A) Варшава шарты
- B) Біріккен Ұлттар Ұйымы
- C) Еуропалық көмір және болат қауымдастығы
- D) Латынамерикалық еркін сауда ассоциациясы
- E) Бағдат пактісі

34. Қос билік кезеңіндегі үкіметтердің құрамын көрсетіңіз?

- A) Уақытша үкімет және жұмысшылар мен сарбаздар депутаттарының Кеңестері
- B) Кеңестер мен монархиялық үкімет
- C) Пролетариат диктатурасы және монархиялық үкімет
- D) Монархиялық үкімет және Уақытша үкімет
- E) Пролетариат диктатурасы және Уақытша үкімет

35. АҚШ, Аустралия және Жаңа Зеландия «қауіпсіздік туралы шарт» (АНЗЮС) жасады?

- A) 1951 жылы
- B) 1955 жылы
- C) 1939 жылы
- D) 1944 жылы
- E) 1958 жылы

36. 1949 ж. сәуірде құрылған Солтүстік атлантикалық келісім ұйымына кірген мемлекеттер саны?

- A) 12
- B) 15
- C) 16
- D) 18
- E) 20

37. 1948 ж. құрылған Америка мемлекеттер ұйымында (АМҰ) құрылып, онда жетекші рөл атқарған мемлекет?

- A) АҚШ
- B) Канада
- C) Мексика
- D) Аргентина
- E) Бразилия

38. Қай президент АҚШ-ты әлемдік экономикалық дағдарыстан алып шықты?

- A) Т. Рузвельт
- B) Г. Труман
- C) Д. Эйзенхауэр
- D) Ф. Рузвельт
- E) Дж. Кенеди

39. Бірінші дүниежүзілік соғыстың басталуына не себеп болғанын көрсетіңіз:

- A) Сараеводағы кісі өлтіру 28.06.1914 ж. герцог Фердинанд

- B) Жетекші капиталистік елдер арасындағы өткір Қайшылықтар
- C) Жеке меншік
- D) Әлемдік экономикалық дағдарыс
- E) Социализмнің келуі

40. Соғыстан кейінгі халықаралық қатынастар жүйесі қалай аталды?

- A) Ялта-Потсдам жүйесі
- B) Версаль-Вашингтон
- C) Мудрос-Лозанна
- D) Сан-Стефано-Берлин
- E) Ништадт-Санкт-Петербург

41. АҚШ пен КСРО және олар негізін қалаған әскери- саяси блоктар арасындағы қарама-қайшылыққа негізделген жүйе?

- A) Биполярлы жүйе
- B) Монополярлы жүйе
- C) Атомдық жүйе
- D) Реакциялық жүйе
- E) Контрреволюциялық жүйе

42. Үштік одақ әскери-саяси блогы қай жылы құрылды?

- A) 1914ж.
- B) 1920 ж.
- C) 1907ж.
- D) 1882 ж.
- E) 1918 ж.

43. Алғаш болып ғарышқа Жер серігін ұшырған мемлекет?

- A) КСРО
- B) АҚШ
- C) Жапония
- D) Англия
- E) Германия

44. КСРО өзінің бірінші атом бомбасына сынақ қай жылы жасады?

- A) 1949 жылы
- B) 1946 жылы
- C) 1950 жылы
- D) 1953 жылы
- E) 1955 жылы

45. Сталин диктатурасынан бас тартқан Югославия басшысы кім?

- A) Броз Тито
- B) М.Ковач
- C) В.Гавел
- D) А.Дубчек
- E) Милошевич

46. Жанталаса қарулану кезінде КСРО АҚШ-тан қай салада озып кетті?

- A) Зымыран жасаудан
- B) Ядролық қару санынан
- C) Сүңгуір қайықтар санынан
- D) Танктер санынан
- E) Әскери базалар санынан

47. 1948 ж. КСРО-мен қатынастар үзіп, «өзін-өзі басқару социализмі» моделін қабылдаған ел?

- A) Югославия
- B) Албания
- C) Чехословакия
- D) Польша
- E) Эстония

48. 1954 ж. Кореяның екіге бөлінуін бекіткен құжат?

- A) Женева Декларациясы
- B) Париж Декларациясы
- C) Лондон Декларациясы
- D) Анкара Декларациясы
- E) Вена Декларациясы

49. Адамды айға қондырған алғашқы мемлекет?

- A) АҚШ
- B) Жапония
- C) КСРО
- D) Англия
- E) Германия

50. «Еділден арғы жеріміз жоқ» деген сөздің иесі кім?

- A) Сталинград шайқасының атақты батырларының бірі мерген Василий Зайцев
- B) Пулеметші М.Мәметова
- C) 316-дивизияның саяси нұсқаушысы Клочков
- D) Ұшқыш пен Кожедубқа
- E) Кеңестік шабуылдаушы ұшағы Т.Бегелдинов

51. 1949 жылы Қытайда билікке кім келді?

- A) Коммунистер
- B) Гоминьдан партиясы
- C) Милитаристер
- D) Империалистер
- E) Кадеттер

52. XX ғ. 50-жж. соңына қарай БҰҰ-ға мүше болып кірген мемлекет саны?

- A) 83
- B) 45
- C) 71
- D) 59
- E) 93

53. 1948 жылы БҰҰ қабылдаған құжат?

- A) Адам құқықтарының жалпыға бірдей Декларациясы
- B) Нәсілдік кемсітушіліктің нысандарын жою туралы Декларация
- C) Ядролық қаруды таратпау Декларациясы
- D) Бала құқықтары туралы Конвенция
- E) Халықаралық бейбітшілікті сақтау туралы Декларациясы

54. Біріккен Ұлттар Ұйымының барлық мүшелерінен тұратын кеңесші әрі өкілетті саяси органы?

- A) Бас Ассамблея
- B) Жоғарғы Президиум
- C) Халықаралық форум
- D) Халықаралық Кеңес
- E) Орталық Комитет

55. 2017 жылы Біріккен Ұлттар Ұйымының Бас хатшысы болып кім тағайындалды?

- A) А.Гутерриш
- B) К.Аннан
- C) А.Сандино
- D) Т.Альвеар
- E) С.Альенде

56. БҰҰ-ның ресми тілдері:

- A) Ағылшын, орыс, француз, испан, араб және қытай
- B) Ағылшын, орыс, француз, испан, араб және хинди
- C) Ағылшын, иврит, француз, испан, араб және жапон
- D) Ағылшын, иврит, француз, испан, араб және жапон
- E) Ағылшын, португал, француз, испан, араб және қытай

57. Әлемдік державаларда ядролық сынауларды 3 салада тоқтату туралы шарт жасалған мерзім?

- A) 1963 жылы
- B) 1961 жылы
- C) 1973 жылы
- D) 1975 жылы
- E) 1956 жылы

58. Білім, ғылым және мәдениет саласындағы халықаралық ынтымақтастықты кеңейту арқылы бейбітшілік пен қауіпсіздікті нығайтуға жәрдемдесу мақсатында құрылған Біріккен Ұлттар Ұйымын көрсетіңіз:

- A) ЮНЕСКО
- B) ЮНИСЕФ
- C) АСЕАН
- D) НАТО
- E) ВШО

59. 1940 жылғы Мәскеу бейбітшілік шартына қай екі мемлекет қол қойды?

- A) КСРО және Финляндия
- B) Қытай мен Жапония
- C) Англия және АҚШ
- D) Франция және Германия
- E) Италия және Бельгия

60. БҰҰ Бас Ассамблеясы әйелдерге қатысты кемсітудің барлық түрлеріне тыйым салу туралы конвенцияны қай жылы қабылдады?

- A) 1979 жылы
- B) 1989 жылы
- C) 1856 жылы
- D) 1968 жылы
- E) 1981 жылы

61. 1963 жылы БҰҰ Бас Ассамблея қабылдаған құжат:

- A) Нәсілдік кемсітушіліктің барлық нысандарын жою туралы Декларациясы
- B) Даму құқығы туралы Декларация
- C) Бала құқықтарын қорғау туралы Конвенция
- D) Ядролық қаруды таратпау туралы келісімшарт
- E) Апартеидті жоюды көздейтін Конвенция

62. 1963 ж. АҚШ, Ұлыбритания, КСРО атмосферада, ғарышта және суастында ядролық сынақтарға тыйым салу туралы шартқа қай жерде қол қойды?

- A) Мәскеуде
- B) Женевада
- C) Дублинде

- D) Ослода
- E) Нью-Йоркте

63. Қазіргі уақытта БҰҰ-ға мүше болып кірген мемлекет саны?

- A) 193
- B) 220
- C) 181
- D) 156
- E) 172

64. 1986 жылы БҰҰ қабылдаған құжат:

- A) Даму құқығы туралы Декларация
- B) Нәсілдік кемсітушіліктің нысандарын жою туралы Декларация
- C) Ядролық қаруды таратпау Декларациясы
- D) Бала құқықтары туралы Конвенция
- E) Халықаралық бейбітшілікті сақтау туралы Декларациясы

65. 1963 ж. тамыздағы Мәскеу шартының нәтижесі:

- A) Ядролық сынақтар тек жер астында жасалды
- B) Теңізде қарулануға шектеу қойылды
- C) Ядролық сынақтар тек су астында жасалды
- D) Ядролық сынақтар тек атмосферада жасалды
- E) Әуе күштерінің әлеуетін көтеруге тыйым салынды

65. 1957 ж. Римде ЕКББ-ға мүше елдердің басшылары қол қойған шарт:

- A) Еуропалық экономикалық қауымдастық (ЕЭК) құру туралы
- B) Біріккен Ұлттар Ұйымы Қауіпсіздік Кеңесінің тұрақты мүшелер санын арту туралы
- C) Еуропалық көмір және болат қауымдастығын құру туралы
- D) Бағдат пактісін құру туралы
- E) Оңтүстік Америка ортақ нарығын құру туралы
- A) Р.Пуанкаре

66. Сайланғанға дейін ешқашандай министрлік қызмет атқармаған Франция президенті:

- A) Франсуа Олланд
- B) Л. Блум
- C) Ж. Клеменсо
- D) Э. Эррио
- E) Р. Пуанкаре

67. «Қырғи қабақ соғыс» аяқталғаннан кейін ЕҚЫК-ға қатысушы мемлекеттер қабылдаған құжат:

- A) «Жаңа Еуропа Хартиясы»
- B) «Атлант Хартиясы»
- C) «Антарктида хартиясы»
- D) «Жаңа әлем хартиясы»
- E) «Тәуелсіздік хартиясы»

68. 1992 ж. Маастрихте құрылған біртұтас қаржылық-экономикалық және саяси одақтас ұйым?

- A) Еуропалық одақ
- B) ОПЕК
- C) Бенилюкс
- D) АТЭС
- E) МЕРКОСУР

69. Франция мен Батыс Германияның металлургия, темір және көмір өнеркәсібін біріктіруді ұсынған құжат:

- A) Р. Шуманның Декларациясы

- В) Р.Пуанкаре Декларациясы
- С) А.Мильеран Декларациясы
- Д) Ф.Гуэн Декларациясы
- Е) Л.Блюм Декларациясы

70. «Қырғи қабақ соғыс» аяқталды:

- А) 1990 жылы
- В) 1980 жылы
- С) 1970 жылы
- Д) 1960 жылы
- Е) 1950 жылы

71. Германияның КСРО-ға қарсы найзағай соғысының жоспары қалай аталды?

- А) Барбаросса
- В) Эдельвейс.
- С) Сатурн.
- Д) Блау.
- Е) Юпитер.

72. 1966 жылы КСРО-мен ынтымақтастық орнатуға бағыт алған Франция президенті:

- А) Ш.де Голль
- В) В.Брандт
- С) Т.Коль
- Д) О.Гротеволь
- Е) К.Аденауэр

73. 1944 жылы Бреттон-Вуд конференциясында әлемнің айырбасталатын валютасының рөлі ретінде белгіленген ақша бірлігі:

- А) Доллар
- В) Марка
- С) Юань
- Д) Йен
- Е) Рубль

74. ГФР І канцлері К.Аденауэр жетекші болған партия?

- А) Христиан-демократиялық одағы
- В) Герман социал демократиялық партиясы
- С) Еңбекші жұмысшы партиясы
- Д) Герман Коммунистік партиясы
- Е) Христиан партиясы

75. Батыс Германияны қалпына келтіруде үлкен үлес қосқан АҚШ-тың қабылдаған жоспарларының бірі

- А) «Маршалл жоспары»
- В) «Экономикалық ғажап»
- С) «Трумэн доктринасы»
- Д) «Тафт-Хартли» Заңы
- Е) «Монро доктринасы»

76. Екінші дүниежүзілік соғыста ресурстары басқа елдер ресурстарынан бірнеше есе артқан ел?

- А) АҚШ
- В) КСРО
- С) Германия
- Д) Жапония
- Е) Қытай

77. Ресейдегі Азаматтық соғыс жылдары?

- A) 1914-1918жж.
- B) 1941-1945жж.
- C) 1939-1945жж.
- D) 1918-1920жж.
- E) 1917-1918жж.

78. 1947 жылы Франция үкіметі қабылданған жоспар?

- A) Монне жоспары
- B) Пуанкаре жоспары
- C) Понсе жоспары
- D) Кондорсе жоспары
- E) Монтескье жоспары

79. 1917 жылғы Ақпан төңкерісі Ресей үшін қандай мәселені шешті?

- A) Патшаны құлату
- B) Халық Майданын құру
- C) Бірінші дүниежүзілік соғысты тоқтатты
- D) Карта жүйесін енгізді
- E) Экономиканы мемлекет меншігіне алу

80. Франциядағы Үшінші республика орнаған уақыт?

- A) 1875 ж.
- B) 1871 ж.
- C) 1873 ж.
- D) 1874 ж.
- E) 1876 ж.

81. Германия тарихына 1949-1963 жж. аралығы алған атау?

- A) «Экономикалық керемет»
- B) «Саяси керемет»
- C) «Экологиялық керемет»
- D) «Әлеуметтік керемет»
- E) «Идеологиялық керемет»

82. КОКП Орталық Комитетінің қай съезінде «Сталиннің жеке басына табынушылық» ашылды?

- A) XX съезі
- B) X съезі
- C) XIV съезі
- D) XV съезі
- E) XXI съезі

83. «Әлеуметтік мемлекет» саясатының негізгі жақтастары:

- A) Социал-демократтар
- B) Коммунистер
- C) Муралистер
- D) Консерваторлар
- E) Кадеттер

84. БКП (б) нешінші съезінде 1928-1929 жылдары ауыл шаруашылығын ұжымдастыру курсы қабылдады?

- A) XV
- B) XVI
- C) XIV
- D) XI
- E) X

85. Екінші дүниежүзілік соғыс қай жылы аяқталды?

- A) 1 қыркүйек 1945ж
- B) 2 қазан 1946ж
- C) 22 маусым 1945ж
- D) 9 мамыр 1945ж
- E) 2 қыркүйек 1945ж

86. АҚШ президенті Л. Джонсонның «Ұлы қоғамды» құру бағдарламасын соңына дейін іске асыруға кедергі келтірген оқиға?

- A) «Вьетнам соғысы»
- B) «Корей соғысы»
- C) «Куба дағдарысы»
- D) «Прага көтемі»
- E) «Араб көктемі»

87. Потсдам Конференциясының шешімі бойынша КСРО құрамына қосылған жер:

- A) Шығыс Пруссия
- B) Шлезвиг
- C) Батыс Пруссия
- D) Бессарабия
- E) Добруджа

88. Кеңестік-германдық шабуыл жасамау туралы келісімге қай жылы қол қойылды?

- A) 1939
- B) 1937
- C) 1940
- D) 1945
- E) 1934

89. Тұңғыш ғарышкер әйел:

- A) В. Терешкова
- B) Н.Крупская.
- C) К.Цеткин.
- D) Е.Дмитриева.
- E) Р.Люксембург.

90. 1960 жж. басында тың игерілген жерлерден астық жинау күрт төмендеу себебі?

- A) Жер өңдеудің қате технологиясы
- B) Неміс автономиясының құрылуына қарсы шерулер
- C) Қатаң бюрократиялық жүйе
- D) Қажетті техниканың жетіспеушілігі
- E) Мал шаруашылығының артуы

91. Варшава келісіміне сәйкес Чехословакияға 1968 жылғы әскерлерді енгізу операциясы қалай аталды?

- A) «Дунай» операциясы
- B) «Эдельвейс» операциясы
- C) «Вайс» операциясы
- D) «Шлиффен» операциясы
- E) «Шөл даладағы түлкі» операциясы

92. 1986 жылы «Балалар– бейбітшілік қолдаушылары» ұйымының шақыруымен АҚШ -қа барып қайтқан кеңестік оқушы?

- A) Катя Лычева
- B) Настя Смирнова
- C) Катя Иковенко
- D) Наталья Белова

Е) Женя Симонова

93. 1979 ж. Никарагуада құлатылған режім?

- А) Сомоса
- В) Туссен
- С) Идальго
- Д) әл Атасси
- Е) Фуад

94. 1981 ж. қаңтарда АҚШ әкімшілігіне келген президент?

- А) Р.Рейган
- В) Д.Кеннеди
- С) Д.Картер
- Д) Д.Эйзенхауэр
- Е) Р.Никсон

95. Вашингтонда КСРО мен АҚШ басшылары қол қойған келісім, 1987 ж. желтоқсан:

- А) Орташа және қысқа қашықтықтағы зымырандарды азайту
- В) Әскери-теңіз күштерінің қысқаруы
- С) Ядролық қаруды қысқарту бойынша
- Д) Стратегиялық қару-жарақты шектеу туралы
- Е) Ядролық қаруды қайта бөлу бойынша

96. Варшава Шарты Ұйымы өз қызметін тоқтатты:

- А) 1991 ж. 1шілдеде
- В) 1990 ж. 1шілдеде
- С) 1986 ж. 1шілдеде
- Д) 1989 ж. 1шілдеде
- Е) 1993 ж. 1шілдеде

97. 1989 ж. 3 желтоқсанда Мальта аралында КСРО мен АҚШ басшылары кездесуінің нәтижесі?

- А) «Қырғиқабақ соғыстың» аяқталуы ресми жарияланды
- В) Кеңес әскерлері Ауғанстаннан шығарылды
- С) Кариб дағдарысы тоқтатылды
- Д) Германияның бірігу шарттары қарастырылды
- Е) КСРО-ның НАТО құрамына кіру шарттары анықталды

98. 1982 жылы Саманта Смит ядролық соғыстың басталуы мүмкін екендігіне өз алаңдаушылығын білдіріп кімге хат жазды?

- А) Ю.Андроповқа
- В) М.Горбачевке
- С) Л.Брежневке
- Д) В.Молотовқа
- Е) Д.Устиновқа

99. 1983 ж. наурызда АҚШ президенті Р. Рейган ұсынған бағдарлама?

- А) Стратегиялық қорғаныс бастамасы
- В) Шабуыл қаруын пайдалануға тыйым салу
- С) Бактериологиялық қаруды қысқарту
- Д) Стратегиялық қаруды қысқарту
- Е) Химиялық қару бастамасы

100. 1980 жылдары КСРО мен АҚШ арасындағы қарым-қатынасты шиеленістірген АҚШ Президенті:

- А) Р.Рейган
- В) Д.Кеннеди
- С) Д.Картер

- D) Д.Эйзенхауэр
- E) Р.Никсон

101. Бірінші дүниежүзілік соғыс басталды:

- A) В 1914 ж.
- B) 1916ж.
- C) 1917 ж.
- D) 1919ж.
- E) 1920ж.

102. Бірінші дүниежүзілік соғыс жылдарында химиялық қару алғаш рет келесі шайқаста қолданылды:

- A) Ипр қаласының түбінде
- B) Верден түбінде
- C) Марна түбінде
- D) Парижде
- E) Искра шайқасында

103. Бірінші дүниежүзілік соғысты жүргізудің германдық бас жоспарларын жасаған:

- A) А. Шлиффен
- B) О. Бисмарк
- C) Ф. Шехтель
- D) Ф. Фердинанд
- E) Г. Трумен

104. Бірінші дүниежүзілік соғыстың себебі не болды?

- A) Австрия мұрагер ханзадасы Франц Фердинандтың өлтірілуі
- B) Англияның өзінің басты бәсекелесі – Францияны жоюға ұмтылысы
- C) Ресейдің отаршыл держава болуға ұмтылысы
- D) Германияның отарларды қайта бөлісу үшін күрес бастауға ұмтылысы
- E) Францияның озбырлығы мен зорлық-зомбылығы

105. Қоғам өмірінің барлық салаларын толық бақылауға алатын саяси режим қалай аталады?

- A) Тоталитаризм
- B) Авторитаризм
- C) Либерализм
- D) Ұлтшылдық (Национализм)
- E) Шовинизм

106. «Ұлы депрессияның» мерзімдері

- A) 1929–1933 жж..
- B) 1926–1933 жж..
- C) 1929–1934 жж..
- D) 1927–1934 жж..
- E) 1934–1938 жж..

107. 1930-жылдары Испанияның басшысы:

- A) Франко
- B) Муссолини
- C) Черчилль
- D) Перрон
- E) Сталин

108. Соғыс қарсаңында Антантаның құрамында кімдер болды?

- A) Англия, Ресей, Франция
- B) Англия, АҚШ, Франция
- C) Англия, Ресей, Италия

- D) Германия, Венгрия, Югославия
- E) Армения, Грузия, Латвия

109. 1938 жылғы Мюнхен келісінде қай аумақ туралы мәселе қаралды?

- A) Чехословакия
- B) Польша
- C) Эльзас
- D) Австрия
- E) Италия

110. Екінші майдан ашылған елді көрсетіңіз:

- A) Югославия
- B) Франция
- C) Польша
- D) Германия
- E) Италия

111. 20-30-жылдары тоталитарлық мемлекет қай елде құрылды (артықты таңдаңыз):

- A) Болгария
- B) Германия
- C) Италия
- D) КСРО
- E) Франция

112. КСРО мен Германия арасында шабуыл жасамау пактісі қай жылы қол қойылды?

- A) 1939 ж.
- B) 1937 ж.
- C) 1938 ж.
- D) 1936 ж.
- E) 1945 ж.

113. Бірінші дүниежүзілік соғыстан кейін бейбітшілікті реттеудің басты құжаты қандай болды?

- A) Версаль бейбітшілік шарты
- B) Рейн кепілдігі пактісі
- C) Портсмут бейбітшілігі
- D) Мюнхен келісімі
- E) Болгария келісімі

114. Фашизмге қарсы күресте халықты біріктірудің формасы қандай болды?

- A) Халықтық фронт
- B) Коалиция
- C) Пацифизм
- D) Демократиялық фронт
- E) Унитаризм

115. Тоталитарлық саяси режим қандай сипаттамалармен ерекшеленеді?

- A) Мемлекеттің өмірдің барлық салаларында кең ауқымды бақылауы
- B) Халық билігі принциптерін мойындау
- C) Жергілікті жерде өзін-өзі басқару
- D) Азаматтық құқықтар мен еркіндіктердің болуы
- E) Мемлекеттің суверенитетін мойындау

116. 1918 жылы Вудро Вильсон ұсынған «14 пункт» келесілерді көздеді (артықты таңдаңыз):

- A) Ресейге қарсы әскери интервенция
- B) Тәуелсіз Польша құру
- C) Сауда мен кеме қатынасының еркіндігі

- D) Қару-жарақтарды қысқарту
- E) Тауарларды сату нарықтарын құру

117. Соғыстан кейінгі 1920-жылдары Батыс елдерінің тұрақтануы қандай сипаттамалармен ерекшеленді?

- A) Жеңіске жеткен мемлекеттердің өз өнімдерін сату нарықтарының кеңеюі
- B) Экономиканы мемлекеттік реттеудің күшеюі
- C) Революциялық қозғалыстың белсенділігі
- D) Экономикалық шектеулердің енгізілуі
- E) Қозғалыстардың құлдырауы мен төмендеуі

118. 1936 жылы Испанияда халықтық фронтқа қарсы фашистік көтерілісті кім басқарды?

- A) Франсиско Франко
- B) Ларго Кабальеро
- C) Эрнст Рем
- D) Ласаро Карденас
- E) В. Вильсон

119. Потсдам конференциясының шешімдеріне жатпайды...

- A) Екінші майданды ашу
- B) Әскери қылмыскерлерді соттау
- C) Еуропадағы жаңа шекараларды анықтау
- D) Германияның толық қарусыздануы
- E) Соғыстан кейінгі жылдары Германияны бейбіт құрылысқа салу

120. Бұл елде билікке фашистер келді, басында Б. Муссолини болды:

- A) Италия
- B) Испания
- C) Германия
- D) Франция
- E) Ұлыбритания

121. Екінші дүниежүзілік соғыс қашан басталды?

- A) 1939 жылғы 1 қыркүйек
- B) 1941 жылғы 22 маусым
- C) 1939 жылғы 3 тамыз
- D) 1940 жылғы 3 сәуір
- E) 1946 жылғы 25 мамыр

122. Әлемдік экономикалық дағдарыс қай елде басталды?

- A) АҚШ
- B) Италия
- C) Ұлыбритания
- D) Франция
- E) Венгрия

123. «Барбаросса» жоспары Германияның қай елге шабуыл жасауын көздеді?

- A) КСРО
- B) Ұлыбритания
- C) Польша
- D) Франция
- E) Англия

124. XX ғасырдың басында Батыс елдерінде экономикалық өрлеу келесіге ықпал етті:

- A) Халықтың жұмыспен қамтылуының өсуі
- B) Қоғамның білім деңгейінің артуы

- C) Саяси құқықтар үшін жұмысшы қозғалысының өсуі
- D) Жұмысшылардың мәдени деңгейінің артуы
- E) Қоғамның дамуы мен прогресі

125. 1945 жылдың тамызында КСРО соғыс жариялаған ел:

- A) Жапония
- B) Италия
- C) Германия
- D) Финляндия
- E) Испания

126. Шығыстағы «жылдам соғыс» жоспары қалай аталды?

- A) «Барбаросса»
- B) «Блицкриг»
- C) «Тайфун»
- D) «Цитадель»
- E) «Лев»

127. Басқа елдердің аумақтарын өз пайдасына алу – бұл...

- A) Аннексия
- B) Шовинизм
- C) Репарация
- D) Оппортунизм
- E) Унификация

128. Бірінші дүниежүзілік соғыстан кейін революциялар болған мемлекеттер. Артықты табыңыз:

- A) Польша
- B) Германия
- C) Моңғолия
- D) Венгрия
- E) Италия

129. 1930-жылдары Германияның басшысы:

- A) А. Гитлер
- B) И. В. Сталин
- C) У. Черчилль
- D) Б. Бернадес
- E) А. Вильсон

130. Ең бірінші жүзеге асқан оқиға:

- A) Дауэс жоспары
- B) Маршалл жоспары
- C) Ост жоспары
- D) Юнг жоспары
- E) Остен жоспары

131. 1922 жылғы 28 қазанда Муссолини:

- A) Маттеоттидің өлтірілуін ұйымдастырды
- B) Эфиопиямен соғыс бастады
- C) Патшаға қастандық жасады
- D) Фашистердің Римге жорығын ұйымдастырды
- E) Мемлекеттік төңкеріс жасады

132. 1938 жылы Германия, Ұлыбритания, Италия және Франция арасында жасалған Мюнхен келісімі не туралы болды?

- A) Чехословакияның Судет облысын Германияға қосу

- B) Қатысушы елдердің біріне шабуыл жасалған жағдайда өзара көмек көрсету
- C) Рейн облысын қосу
- D) КСРО-мен соғыс болған жағдайда бірлескен әрекеттер
- E) КСРО-ға қарсы сөз сөйлеу

133. Ұлы депрессия — бұл:

- A) 1930-жылдардағы іскерлік белсенділіктің төмендеуі мен өндірістің қысқару кезеңі
- B) 1930-жылдардың екінші жартысындағы АҚШ-тағы экономиканы қалпына келтіруге бағытталған мемлекеттік саясат
- C) 1920-жылдардағы Бірінші дүниежүзілік соғыстың экономикалық салдары
- D) 1940-жылдардағы Екінші дүниежүзілік соғыстың экономикалық салдары
- E) КСРО-ның экономикалық саясаты

134. 1925–1927 жылдардағы Қытайдағы ұлт-азаттық революциясының нәтижесінде билікке кім келді?

- A) Гоминьдан партиясы
- B) Жапон әкімшілігі
- C) Қытай Коммунистік партиясы
- D) Неміс әкімшілігі
- E) Италиян делегациясы

135. Бірінші дүниежүзілік соғысқа қанша ел қатысты?

- A) 38
- B) 45
- C) 10
- D) 28
- E) 50

136. Келтірілген сөйлемнен артық тұрғанды анықтаңыз. 1915 жылы Үштік одақ жағында соғысқан елдер:

- A) Германия
- B) Австро-Венгрия
- C) Италия
- D) Ұлыбритания
- E) Болгария

137. «Веймар Республикасы өмір сүрген жылдар:

- A) 1918 жылдан 1927 жылға дейін
- B) 1919 жылдан 1929 жылға дейін
- C) 1920 жылдан 1928 жылға дейін
- D) 1921 жылдан 1932 жылға дейін
- E) 1920 жылдан 1926 жылға дейін»

138. Кейінірек болған оқиғаны көрсетіңіз:

- A) «Берлин, Токио, Рим» осінің құрылуы
- B) Римге жорық
- C) Германияда фашистердің билікке келуі
- D) Италияда фашистердің билікке келуі
- E) Еуропаға жорық

139. Венгриядағы революцияның басталуы деп саналады:

- A) 1918 жылдың қарашасы
- B) 1917 жылдың қарашасы
- C) 1920 жылдың қарашасы
- D) 1930 жылдың қарашасы
- E) 1940 жылдың қарашасы

140. Польша мемлекетінің басшысы болды:

- A) Ю.Пилсудский
- B) Деладье
- C) Клинтон
- D) М.Хорти
- E) В.Вышинский

141. Түріктердің атасы деп атаған:

- A) М.Кемаль
- B) Сталин
- C) Буш
- D) Егоров
- E) М.Ганди

142. Испаниядағы азаматтық соғыстың кезеңі болып табылады:

- A) 1936-1939 жж.
- B) 1936-1937 жж.
- C) 1937-1941 жж.
- D) 1945-1950 жж.
- E) 1960-1970 жж.

143. Қытайдағы демократиялық қозғалыс мынадай атқа ие болды:

- A) 4 мамыр қозғалысы
- B) 5 наурыз қозғалысы
- C) 10 қаңтар қозғалысы
- D) 15 мамыр қозғалысы
- E) 15 маусым қозғалысы

144. АҚШ Халықаралық Лиганың мүшесі болды:

- A) 1920 ж.
- B) 1919 ж.
- C) 1922 ж.
- D) 1923 ж.
- E) 1935 ж.

145. Берілген сөйлемде артықты көрсетіңіз. 1916 жылы болды:

- A) Галиция шайқасы
- B) Верден шайқасы
- C) Брусилов шабуылы
- D) Ютландия теңіз шайқасы
- E) Марна шайқасы

146. Ұлы жан деп атаған:

- A) М.Ганди
- B) Ю.Гагарин
- C) В.М.Молотов
- D) Е.Леонов
- E) А.Жаркова

147. Италия Эфиопияға шабуыл жасады:

- A) 1934 ж.
- B) 1933 ж.
- C) 1936 ж.
- D) 1937 ж.
- E) 1938 ж.

148. Бірінші еңбекші үкіметінің басшысы Ұлыбританияда болған:

- A) Р.Мақдональд
- B) Ф.Рузвельт
- C) И.Сталин
- D) У.Черчилль
- E) Г.Пальмерстон

149. Германия Лига Ұлттарынан шықты:

- A) 1933 жылдың қазанында
- B) 1933 жылдың қарашасында
- C) 1933 жылдың қыркүйегінде
- D) 1934 жылдың қаңтарында
- E) 1945 жылдың наурызында

150. Франциядағы Халықтық фронттың алғашқы үкіметін басқарған:

- A) Л.Блюм
- B) М.Торез
- C) Э.Деладье
- D) Ф.Тьер
- E) Ж.Батиста

151. Ұсынылған тізімнен артықты көрсетіңіз:

- A) М.Торез
- B) Р.Пуанкаре
- C) Л.Блюм
- D) Э.Деладье
- E) Ф.Тьер

152. Болгарияда 1919-1923 жылдары әлеуметтік-экономикалық реформаларды кім жүргізді:

- A) А. Стамболийский
- B) А. Цанков
- C) И. Вышков
- D) Е. Станков
- E) Х. Стоичков

153. Түркия республика болып жарияланды:

- A) 1923 ж.
- B) 1925 ж.
- C) 1935 ж.
- D) 1945 ж.
- E) 1956 ж.

154. 1940 жылы Румынияда диктатор болған:

- A) И. Антонеску
- B) В. Чаушеску
- C) Ж. Деладье
- D) Робеспьер
- E) Марат

155. Биология саласы бойынша Нобель сыйлығының лауреатын көрсетіңіз:

- A) И. Павлов
- B) С. Сеченов
- C) А. Державин
- D) Дантон
- E) Вольтер

156. «Берлин – Рим» осі құрылған жыл:

- A) 1936 ж.
- B) 1934 ж.
- C) 1937 ж.
- D) 1940 ж.
- E) 1945 ж.

157. Испанияда фашистерге қарсы тұрған:

- A) Халық майданы
- B) Демократиялық майдан
- C) Азаттық майданы
- D) Әскери майдан
- E) Реакциялық майдан

158. Чехословакия мемлекеті құрылды:

- A) 1918 жылдың қарашасында
- B) 1917 жылдың қарашасында
- C) 1920 жылдың қаңтарында
- D) 1930 жылдың қазанында
- E) 1956 жылдың желтоқсанында

159. Ертерек болған оқиғаны көрсетіңіз:

- A) Италияда фашистердің билікке келуі
- B) Римге жорық
- C) «Берлин - Рим – Токио» одағының құрылуы
- D) Германияда фашистердің билікке келуі
- E) Крест жорығы

160. Экономикалық тұрақтану кезеңі болып табылады:

- A) 1923–1928 жылдар
- B) 1925–1928 жылдар
- C) 1935–1940 жылдар
- D) 1960–1980 жылдар
- E) 1978–1989 жылдар

161. Танктер алғаш рет қолданылды:

- A) Ағылшын-француз армиясы
- B) Орыс армиясы
- C) Неміс армиясы
- D) Италия армиясы
- E) Испан армиясы

162. Шарль де Голль Франция президенті болды:

- A) 1950-жылдары
- B) 1980-жылдары
- C) 1970-жылдары
- D) 1990-жылдары
- E) 2000 жылы

163. 1947 жылы Франция үкіметі «Модернизация және қайта құру жоспарын» мақұлдады — жоспар:

- A) Монне
- B) Юнг
- C) Дауэс
- D) Трумэн
- E) Эйзенхаур

164. КСРО-да КОКП XX съезі жеке адамға табынушылықты әшкереледі:

- A) И.В. Сталин
- B) Л.П.Берия
- C) Л.И. Брежнев
- D) Н.С. Хрущев
- E) М.С. Горбачев

165. 1955 жылы социалистік жүйедегі мемлекеттерді біріктірген ұйым:

- A) НАТО
- B) ОВД
- C) АНЗЮС
- D) СЕАТО
- E) ЮНЕСКО

166. 1950 жылы араб-израиль қақтығыстары нәтижесінде әлем картасында пайда болған мемлекет:

- A) Иордания
- B) Израиль
- C) Пәкістан
- D) Палестина
- E) Ирак

167. Германиядағы әлеуметтік нарықтық экономиканың саяси жүзеге асуы мына есіммен байланысты:

- A) Л. Эрхард
- B) М. Тэтчер
- C) Ф. Миттеран
- D) Г. Вильсон
- E) Г. Геринга

168. Суэц каналы 1956 жылы ұлттандырылды:

- A) Египет
- B) Франция
- C) Ұлыбритания
- D) Израиль
- E) Англия

169. Контекстті пайдалана отырып, Үндістанның тәуелсіздік жарияланған жылын анықтаңыз:

- A) 1947 ж.
- B) 1960 ж.
- C) 1962 ж.
- D) 1945 ж.
- E) 1980 ж.

170. Контекстті пайдалана отырып, Африкада колониялық жерлерге ие болмаған мемлекетті анықтаңыз:

- A) КСРО
- B) Ұлыбритания
- C) Франция
- D) Бельгия
- E) Испания

171. Тәуелсіз Индияның алғашқы үкіметін басқарған адам:

- A) Махатма Ганди
- B) А. Гитлер
- C) Б. Муссолини
- D) А. Вамбери
- E) И. Сталин

172. Кашмир аймағы Үндістан мен Пәкістан арасындағы бәсекелестіктің нысаны болып табылады.

- A) Үндістан мен Пәкістан
- B) Испания мен Англия
- C) Ресей мен Қытай
- D) Қытай мен Жапония
- E) Испания мен Италия

173. Үндістандағы жетекші саяси партия

- A) Үндістанның ұлттық конгресі
- B) Социалистік партия комитеті
- C) Халықтық демократиялы
- D) Федералистік партия
- E) Консервативтік партия

174. КОКП-ның 20-съезі тарихтағы бетбұрысты кезең болды

- A) КСРО
- B) СФРС
- C) ГДР
- D) ҚХР
- E) Пәкістан

175. Индияның вице-королі, 1947 жылы елді діни принцип бойынша бөлген:

- A) Маунтбеттен
- B) Корнуоллис
- C) Дафферин
- D) Гамильтон
- E) Вашингтон

176. 1960 жылы қанша африкалық мемлекет тәуелсіздігін алды?

- A) 17
- B) 29
- C) 30
- D) 45
- E) 50

177. Африка жылын көрсетіңіз:

- A) 1960 ж.
- B) 1970 ж.
- C) 1989 ж.
- D) 1990 ж.
- E) 1997 ж.

178. Алжирдің тәуелсіздік жариялаған жылы:

- A) 1962 ж.
- B) 1970 ж.
- C) 1980 ж.
- D) 1999 ж.
- E) 2000 ж.

179. Отарсыздандыру (Декolonизация) процесіне ең қатты қарсылық көрсеткен елдер:

- A) Үндістан мен Пәкістан
- B) АҚШ пен Ресей
- C) Қытай мен Англия
- D) Испания мен Ресей
- E) Франция мен АҚШ

180. 1947 ж. Үндістанның бұрынғы британдық колониясы екі мемлекетке бөлінді:

- A) Үндістан мен Пәкістан
- B) Пәкістан мен Индонезия
- C) Англия мен Франция
- D) Испания мен Ресей
- E) Франция мен АҚШ

181. Италия тілінде – "Ринашименто", француз тілінде – "Ренессанс", орыс тілінде –

- A) Қайта өрлеу (қайта туу)
- B) Қайырма
- C) Даму
- D) Қайталау
- E) Оралу

182. 1968 жылы әскерлер енгізілді:

- A) Чехословакияға
- B) Германияға
- C) Францияға
- D) Италияға
- E) Венгрияға

183. Потсдам конференциясының қатысушылары Халықаралық әскери трибунал құру туралы келісімге келді, ол өз жұмысын мына уақыттан бастады:

- A) 1943 жылдың қарашасы
- B) 1950 жылдың қаңтары
- C) 1960 жылдың ақпаны
- D) 1990 жылдың наурызы
- E) 1978 жылдың мамыры

184. XX ғасырдың басында Ресей мына ұйымдардың қайсысына кірді:

- A) Үштік одаққа
- B) НАТО
- C) Ұлттар Лигасы
- D) Еуропа Кеңесі
- E) БҰҰ

185. Қырғи қабақ соғыс қашан өтті?

- A) 1946 жылдан 1991 жылға дейін
- B) 1930 жылдан 1960 жылға дейін
- C) 1920-1940 жылдар аралығында
- D) 1960-1978 жылдар аралығында
- E) 1975-1989 жылдар аралығында

186. XX ғасырдың 50-60-жылдарындағы АҚШ-тағы нәсілдік кемсітушілікке қарсы қозғалыстың жетекшісі кім?

- A) Р. Кеннеди
- B) И. Сталин
- C) Г. Спенсер
- D) Ю. Шланк
- E) Ф. Моне

187. КСРО мен Германия арасында шабуыл жасаспау туралы пакт қай жылы қол қойылды?

- A) 1939 ж.
- B) 1937 ж.
- C) 1938 ж.

- D) 1936 ж.
- E) 1934 ж.

188. «Барбаросса» жоспары Германияның шабуылы туралы не айтқан?

- A) КСРО-ға
- B) Ұлыбританияға
- C) Польшаға
- D) Францияға
- E) Англияға

189. Билікке келген Гитлер үкіметі:

- A) Экономиканы мемлекеттік реттеуді кеңейтті
- B) Салықтық жеңілдіктерді жойды
- C) Жекеменшік меншікті жойды
- D) Жалпыға бірдей сайлау құқығын енгізді
- E) Коммунистік және социал-демократиялық партияларды тыйым салды

190. Шығыстағы «жарқылдама соғыс» (немесе «найзағайдай соғыс») жоспары қалай аталды?

- A) «Барбаросса»
- B) «Блицкриг»
- C) «Тайфун»
- D) «Цитадель»
- E) «Арыстан»

191. Екінші дүниежүзілік соғыс қайдан басталды?

- A) Германияның Польшаға шабуылынан
- B) Германияның Францияға шабуылынан
- C) Германияның Голландияға шабуылынан
- D) Германияның Италияға шабуылынан
- E) Испандықтардың Еуропаға басып кіруі

192. Империализмнің белгілеріне қайсысы жатпайды?

- A) Жұмысшы қозғалысының белсенділенуі
- B) Монополиялардың құрылуы
- C) Қаржылық олигархияның құрылуы
- D) Дүниені бөлісу үшін күрес
- E) Метрополиялардың құрылуы

193. Еуропада фашизмнің пайда болуы мен таралуының негізгі себебі:

- A) Халықтың негізгі бөлігінің жағдайының нашарлауы және кедейленуі
- B) Дүниежүзілік буржуазияның қаржылық көмегі
- C) Дүниежүзілік экономикалық дағдарыс
- D) Фашистік көшбасшылардың жеке беделі
- E) Бағалардың либерализациясы

194. Мюнхен келісімі қай жылы қол қойылды?

- A) 1938 ж.
- B) 1937 ж.
- C) 1935 ж.
- D) 1936 ж.
- E) 1950ж.

195. Соғыс алдындағы Үштік одақтың құрамында кімдер болды?

- A) Германия, Австро-Венгрия, Италия
- B) Германия, Австро-Венгрия, Осман империясы
- C) Германия, Австро-Венгрия, Болгария

- D) Испания, Англия, Франция
- E) Ресей, Үндістан, Чили

196. 1940 жылы қыркүйекте әлемді бөлу туралы Үштік пактқа кімдер қол қойды?

- A) Италия, Германия, Жапония
- B) Түркия, Германия, Австрия
- C) СССР, Германия, Жапония
- D) СССР, Англия, Франция
- E) Иран, Үндістан, Чили

197. Екінші дүниежүзілік соғыста немістердің бірінші ірі жеңілісі қай жерде болды?

- A) 1941 жылы желтоқсанда Мәскеу түбінде
- B) 1942 жылы қарашада Сталинград түбінде
- C) 1941 жылы шілдеде Смоленск түбінде
- D) 1942 жылы жазда Волга бойында
- E) 1944 жылы қарашада Курск доғасында

198. Берлинді кеңес әскерлерінің алуы жылы қай жылы болды?

- A) 1945 ж.
- B) 1956 ж.
- C) 1987 ж.
- D) 1976 ж.
- E) 1980 ж.

199. Кімнің есімімен Кеңес Одағындағы қайта құру (перестройка) байланысты?

- A) М.С. Горбачев
- B) И. Сталин
- C) Н.С. Хрущев
- D) В.И. Ленин
- E) Л.И. Брежнев

200. Қытайдағы мәдени революциямен кімнің есімі байланысты?

- A) Мао Цзэдун
- B) Чан Кайши
- C) Л.П. Берия
- D) Н.С. Хрущев
- E) И.В. Сталин

201. Үндістанның поэтикалық шығармалары:

- A) Рамайна, Махабхарата
- B) Үндістан халқы
- C) Панчатантра
- D) Гүл тізбелі жатак
- E) Ганга жағалауы

202. Ежелгі Үндістанда құлдар «даса» деп аталды. Ол қандай мағына береді?

- A) Жау, жат елдік
- B) Дос, құрбы
- C) Көршілес достар
- D) Бауырлар
- E) Ақсүйектер

203. Ежелгі Үндістанда жоғары екі варнаны атаңыз:

- A) Брахмандар және кшатрилер

- В) Вайшьтер және шудралар
- С) Брахмандар және шудралар
- Д) Брахмандар және вайшьтер
- Е) Кшатрилер және шудралар

204. Ежелгі Үндістанда өздерін Брахманың аузынан жаралғанмыз деп атайтын варнаны көрсетіңіз:

- А) Абыздар
- В) Шудралар
- С) Вайшьтер
- Д) Кшатрилер
- Е) Ақсүйектер

205. Ежелгі Үндістанда Брахманың иығынан жаралған варна және киімінің түсі қандай болған

- А) Кшатрилер, қызыл
- В) Брахмандар, ақ
- С) Шудралар, кара
- Д) Кесапаттар, жасыл
- Е) Вайшьтер, сары

206. Ежелгі Үндістанда егінші қауымдастар, сонымен қоса қолөнершілер және көпестер варнасына кіретін адамдар

- А) Вайшьтер
- В) Шудралар
- С) Кшатрилер
- Д) Брахмандар
- Е) Кесапаттар

207. Ежелгі Үндістанда Брахма құдайының табанынан жаратылған, сондықан шаң – тозаңда жүруге тиісті төменгі варна адамын атаңыз:

- А) Шудралар
- В) Вайшьтер
- С) Кшатрилер
- Д) Брахмандар
- Е) Кесапаттар

208. Ежелгі Үндістанда әр варнаның праволары мен міндетері қандай заң жинақтарында көрсетілді?

- А) «Ману заңдары»
- В) «Хамурапи заңдары»
- С) «Бокхорис заңдары»
- Д) «Иосияның заңдары»
- Е) «Кодекс куманикус»

209. Ежелгі Үндістанда шудра брахманмен дауласып ерегiссе, оған қандай жаза қолданды?

- А) Аузына отқа қыздырылған бір кесек темір тығатын болған
- В) Өлім жазасына кескен
- С) Өлімші етіп сабап, үш тәулікке күн астында дарға іліп қойған
- Д) Басқа брахманға сатып жіберген
- Е) Қолдап қолпаштаған

210. Ведаларда «аспан құдайы» кім болған?

- A) Варуна
- B) Агни
- C) Сурья
- D) Эрот
- E) Аполон

211. Ведаларда «от құдайын» қалай атаған?

- A) Агни
- B) Варуна
- C) Сурья
- D) Зевс
- E) Аполон

212. Ведаларда «күн құдайын» не деп атаған?

- A) Сурья
- B) Варуна
- C) Агни
- D) Афродита
- E) Дионис

213. Ежелгі Үндістанда Маурья державасының астанасы қай қала болды?

- A) Паталипутра
- B) Ганг
- C) Дели
- D) Менес
- E) Маур

214. Ежелгі Үндістанда Маурья державасының негізін салған кім?

- A) Чандрогупта
- B) Махадхи Дхан Нанд
- C) Александр Македонский
- D) Менес
- E) Селевк

215. Ежелгі Үндістанда Чандрагуптаның мұрагері?

- A) Ашок
- B) Менес
- C) Селевк
- D) Нанд
- E) Калидаса

216. Ежелгі Үндістанда Маурья династиясының орнына келген династия?

- A) Шунга
- B) Маурья II
- C) Ашокка елі
- D) Грек – Бактрий патшалығы
- E) Гупт патшалығы

217. Б.э. дейінгі V ғасырда ежелгі Үндістанның аса ұлы драматургы кім болды.

- A) Калидаса
- B) Салман
- C) Шахрух
- D) Бимбисара
- E) Панини

218. Буддалық монахтар өмірдегі барлық дүниелерден бас тарта отырып, «нағыз рахатты» өмірді не деп атаған

- A) Нирвана
- B) Пейіш
- C) Храм
- D) Алла үйі
- E) Тазалық үйі

219. Пали тілінен аударылған түпнұсқа шығармалардың бірі?

- A) «Гүл тізбелі жатак» санскриті
- B) «Гүл тізбелі атак» санскриті
- C) «Гүл тізбелі жатак» петроглифі
- D) «Раушан гүлдер тізбегі»
- E) «Рамаяна» поэмасы

220. «Гүл тізбелі жатак» туындысының авторыны атаңыз?

- A) Арья Шура
- B) А.П.Баранников
- C) О.Ф.Волкова
- D) Б.А.Захарьина
- E) Бодхисавтв

221. Сиқырлы күші бар деп есептелген және үндістік шығармалардың басына қойылатын сөз:

- A) Ом
- B) Шива
- C) Брахма
- D) Вишну
- E) Су

222. Ежелгі Үндістанда дәруіш, тақуа, қасиетті данышпан, «үндемеуші» атағына ие кісі?

- A) Муни
- B) Бодхи
- C) Брахма
- D) Якши
- E) Пишача

223. Ежелгі Үндістанда алғашқы шындық, әлемдік жан ұғымын білдіретін сөз?

- A) Брахман
- B) Шудра
- C) Арья
- D) Шакра
- E) Шиби

224. Ежелгі Үндістанда «ізгілік», «құштарлық», «қараңғылық» қай заңның үш сапасына жатады?

- A) «Ману заңдары»
- B) «Хамурапи заңдары»
- C) «Бокхорис заңдары»
- D) «Иосияның заңдары»
- E) «Кодекс куманикус»

225. Ежелгі Үндістанда күннің көне құдайларының бірі ол

- A) Митра
- B) Зевс
- C) Дионис
- D) Сан – Күн
- E) Апалон

226. Артхашастра дегеніміз:

- A) Үнді мәдениетінің аса мәнді ескерткіші
- B) Иран шығармаларының ең үздігі
- C) Үнділердің құлдарға көрсеткен мейірімі
- D) Ақсүйектерді тонау әдісі
- E) Брахман және шудра варнасындағы некелесу

227. Үнді салтына сәйкес Артхашастраның пайда болу мерзімі?

- A) б.з.б. IV – III ғғ.
- B) б.з.б. V – IV ғғ.
- C) б.з.б. VI – V ғғ.
- D) б.з. XV ғ.
- E) б.з.б. II – I ғғ.

228. Ежелгі Үндістанда Критаюга қандай кезеңнің атауы?

- A) Бірінші әлемдік кезеңі
- B) Адамзаттың пайда болу кезеңі
- C) Жаңа уақыт, қазіргі заман
- D) Жердің пайда болу кезеңі
- E) Неолит төңкерісі болған кезең

229. Аспан бишілерін, музыканттарды, гандхарва әйелдерін және үнді мифологиясындағы әйел сұлулығын дәріптеушілерді қалай атаған?

- A) Апсара
- B) Йоджана
- C) Ана
- D) Шакра
- E) Меру

230. Ежелгі Үндістанда талшық өсімдігі тектес аса жіңішке, үлбіреген мата түрі?

- A) Дукула
- B) Жібек
- C) Атлас
- D) Мақта

Е) Жатак

231. Ежелгі Үндістанда мифтік сәулетші және құдайлардың суретшісі:

- А) Вишвакарман
- В) Чатака
- С) Кама
- Д) Наги
- Е) Суара

232. Ежелгі Үндістанда Асава, Сидху, Майрея дегеніміз не?

- А) Мас ететін түрлі ішімдіктер атауы
- В) Жаңа туылған сәбиге берілетін сусын
- С) Адам ауырығанда ішетін емдік шәй
- Д) Цейлонда өсетін шәйдің шөптері
- Е) Спыр сүтінен даярланатын ішімдік

233. Ежелгі Үндістанда Мәңгілік ғұмыр беретін сусын?

- А) Амрита
- В) Асава
- С) Сидху
- Д) Майрея
- Е) Кәусәр

234. Ежелгі Үндістанда кезбе жыршылар мен жыраулардан құралған? ерекше топ

- А) Чаран
- В) Маричи
- С) Ригвед
- Д) Махат
- Е) Гухьяка

235. Джива термині бұл

- А) Өмір, өмірлік рух
- В) Заман және өмір
- С) Өмір және байлық
- Д) Өмірге деген көз қарас
- Е) Рухтар мен періштелер

236. Ежелгі Үндістанда алдын ала жазылған ұстамды қалай атайды?

- А) Дхарма
- В) Амрита
- С) Нара
- Д) Махат
- Е) Чаран

237. Үнділердің отты дәстүрі:

- А) Мәйітті жағу
- В) Қоныстарға от қою
- С) Отты айналып билеу
- Д) Отқы табыну

Е) Отты сөндіріп алмау

238. Ежелгі Үндістанда Меру тауын мекендейтін мифтік тіршілік. Ол жартылай жылан, жартылай адам кейіпінде көрінеді. Будда аңызында үлкен мәнге ие?

- А) Наги
- В) Чаран
- С) Махат
- Д) Рамаюна
- Е) Сита

239. Ежелгі Үндістанда Йоджана деген:

- А) Ұзындық өлшемі
- В) Құдайға табыну
- С) Ұлттық тағам түрі
- Д) Ұлттық киімдері
- Е) Ата – баба аруақтары

240. Қытай мемлекеті қай бассейнде пайда болды?

- А) Хуанхэ
- В) Ніл
- С) Ганга
- Д) Ефрат
- Е) Иордан

241. Хуанхэ өзені қытай әдебиетінде қалай аталады?

- А) Жүректі жарақаттайтын өзен
- В) Тамаша жауынгер
- С) Қарапайым халық
- Д) Аспандағы жұлдыздар
- Е) Төменгі лауазымды адамдар

242. Қытай әндерінің ең ежелгі жинағы:

- А) Ши Цзин
- В) Ли бо
- С) Ян Гуан
- Д) Фан Чжен
- Е) Хань Юй

243. Қытай қағазды қай ғасырда ойлап тапты?

- А) б.э. I ғ.
- В) б.э. III ғ.
- С) б.э.д. II ғ.
- Д) б.э. V ғ.
- Е) б.э.д. VII ғ.

244. Қытай жылнамашыларының жинағы:

- А) Бамбук анналдары
- В) Библия
- С) Авеста

- D) Махабхарата
- E) Рамайна

245. Бамбук анналдары қай жылда пайда болған?

- A) б.э.д. 776 ж.
- B) б.э.д. 976 ж.
- C) б.э. 865 ж.
- D) б.э.д. 796 ж.
- E) б.э.д. 567 ж.

246. Чун Цю қандай мағына береді?

- A) Көктем мен күз
- B) Қыс пен жаз
- C) Жаз бен көктем
- D) Күз бен қыс
- E) Көктем мен қыс

247. Чун Цю-дің авторы кім?

- A) Конфуции
- B) Геродот
- C) Шампольон
- D) Грозный
- E) Раулинсон

248. Б.з.д. II ғасырда құрастырылған іргелі тарихи шығарманың авторы кім?

- A) Сыма Цянь
- B) Конфуции
- C) Шан-Инь
- D) Ян Гуан
- E) Чжан лин

249. Бірінші хан династиясының тарихын кімдер құрастырған?

- A) Бань Бяо, Бань Гу, Бань Чжао
- B) Ян Цзянь, Хань Юй
- C) Бо Цзюй-и, ду Фу, Ли Бо
- D) Чжан Лин, Фань Чжень, Ян Гуан
- E) Сыма Цзян, Конфуции

250. Ши Цзин жинағында не суреттеледі?

- A) Қарапайым егіншілердің тұрмысы
- B) Байлар мен кедейлер теңсіздігі
- C) Патшалардың билігі
- D) Құлдардың көтерілісі
- E) Қарапайым халықтың әлеуметтік жағдайы

251. Документтер кітабы...

- A) Шу-Цзин
- B) Ши-Цзин
- C) Ду Фу

- D) Ли Бо
- E) Ян Гуан

252. Мендоза жазған Ұлы қытай халқының тарихы қай жылы пайда болды?

- A) 1585 ж.
- B) 1638 ж.
- C) 1460 ж.
- D) 1865 ж.
- E) 1598 ж.

253. Э.Шаванн Сыма Цзянның тарихи жазбаларын қай ғасырда аударды?

- A) XIX ғ.
- B) XIVғ.
- C) XVII ғ.
- D) XV ғ.
- E) XVI ғ.

254. Қытай тарихын зерттеген орыс саяхатшысы?

- A) Бичурин
- B) Грозный
- C) Ломоносов
- D) Петровский
- E) Симоновская

255. Бичурин Қытайда қанша жыл діни миссияның бастығы болды?

- A) 14 ж.
- B) 17 ж.
- C) 13 ж.
- D) 19 ж.
- E) 16 ж.

256. Қытайда адамдар қай ғасырда қоныс тепкен?

- A) Ежелгі тас ғасырда
- B) Орта палеолитте
- C) Мезолитте
- D) Неолитте
- E) Қолада

257. Қытай халқы қашан аналық праводан аталық правоға көшті?

- A) б.э.д II м/ж.
- B) б.э.д III м/ж.
- C) б.э.д. V м/ж.
- D) э.д IV м/ж.
- E) б.э.д. VIII м/ж.

258. Шан тайпасы қашан күшейді?

- A) б.э.д. II м/ж.
- B) б.э.д. V м/ж.
- C) б.э.д. IV м/ж.

- D) б.э.д. VI м/ж.
- E) б.э.д. III м/ж.

259. Қытай деректерінде Чэн Тан қай ғасырда мемлекет құрды?

- A) б.э.д. XVIII ғ.
- B) б.э.д. XV ғ.
- C) б.э.д. XXVI ғ.
- D) б.э.д. XIX ғ.
- E) б.э.д. XII ғ.

260. Қытай данышпаны Конфуций мемлекет әміршісіне айтқан ілімі:

- A) Ауыр жазамен адамдардың жанын қинамай, үлгі көрсетіп тәрбиелеу.
- B) Ауыр жазамен адамдардың жанын қинап, қорқытып тәрбиелеу.
- C) Өз халқын қорғай білу.
- D) Қала және ғибадатханалар салу.
- E) Адамдарды үлкен сый беру арқылы қызықтырып тәрбиелеу.

261. Чжоу патшалығы қай уақытта өмір сүрді?

- A) б.э.д. XII ғ. – б.э.д. III ғ.
- B) б.э.д. X ғ. – б.э.д. XI ғ.
- C) б.э.д. IX ғ. – б.э.д. XVI ғ.
- D) б.э.д. II ғ. – б.э.д. I ғ.
- E) б.э.д. X ғ. – б.э.д. V ғ.

262. Грецияда демократиялық партияның көсемі-Эфиальттің реформасы қашан жүзеге асты?

- A) б.э.д. 462 ж.
- B) б.э.д. 411 ж.
- C) б.э.д. 422 ж.
- D) б.э.д. 480 ж.
- E) б.э.д. 378 ж.

263. Эфиальттың жолын қуушы:

- A) Перикл
- B) Анаксагор
- C) Клисфен
- D) Мильтиод
- E) Кимон

264. Афины мемлекетінің басты билік органы:

- A) Халық жиналысы
- B) Буле
- C) Ант берушілер соты
- D) Стратегтер коллегиясы
- E) Плутакрат

265. Перикл тұсында кедей адамдарға, өздерінің барлық уақыттарын мемлекеттік істер атқаруға жұмсай алу үшін, тұңғыш мемлекеттік қызметке ақы төлеу қалай аталды?

- A) Диета
- B) Буле

- С) Гемэй
- Д) Эфор
- Е) Герусия

266. Афины архэсы (үстемдік) өз өмір сүруін қашан тоқтаты?

- А) б.э.д. Vғ. аяғында
- В) б.э.д. IV ғ. басында
- С) б.э.д. V ғ. ортасында
- Д) б.э.д. IV ғ. аяғында
- Е) б.э.д. IIIғ.

267. Пелопоннес соғысы:

- А) б.э.д. 431 – 404 жж.
- В) б.э.д. 431 – 421 жж.
- С) б.э.д. 462 ж.
- Д) б.э.д. 460 – 370 жж.
- Е) б.э.д. 422 ж.

268. Пелопоннес соғысынан кейін Грецияда гегемондыққа ие болған қала:

- А) Спарта
- В) Коринф
- С) Афина
- Д) Фивы
- Е) Карфаген

269. Пелопоннес соғысындағы негізгі қарсыластар:

- А) Спарта, Афина
- В) Спарта, Аттика
- С) Радос, Лесбос
- Д) Афина, Троя
- Е) Спарта, Коринф

270. Архидамның соғысы:

- А) б.э.д. 431-421 жж.
- В) б.э.д. 431-404 жж.
- С) б.э.д. 460-370 жж.
- Д) б.э.д. 462-460 жж.
- Е) б.э.д. 413-404 жж.

271. Спарталықтардың қолбасшысы болған:

- А) Брасид
- В) Перикл
- С) II Архидам
- Д) Алкивиад
- Е) Никий

272. Афиныда демократия қашан қалпына келтірді?

- А) б.э.д. 403 ж.
- В) б.э.д. 462 ж.

- С) б.э.д. 421 ж.
- Д) б.э.д. 404 ж.
- Е) б.э.д. 431 ж.

273. Ежелгі Грецияда софистер кімдер болған?

- А) Даналық мұғалімдер
- В) Театр әртістері
- С) Кезбе әртістер
- Д) Бай, шонжарлар
- Е) Кедейлер, қолөнершілер

274. Ежелгі грек мифологиясында шарап пен ойын-сауық құдайы:

- А) Дионис
- В) Апполон
- С) Пасейдон
- Д) Фемида
- Е) Артемида

275. Ежелгі гректерде трагедияның әкесі деп кімді атады?

- А) Эсхил
- В) Софокл
- С) Еврипид
- Д) Аристафан
- Е) Гесиод

276. Грек комедиясының классигі:

- А) Аристофан
- В) Софокл
- С) Эсхил
- Д) Поликет
- Е) Еврипид

277. Ежелгі Грецияда алғашқы ғимараттар қай стильде салынды?

- А) Дорий
- В) Роман
- С) Готика
- Д) Борокко
- Е) Ионий

278. Коринф соғысы:

- А) б.э.д. 395-387 жж.
- В) б.э.д. 431-421 жж.
- С) б.э.д. 462-460 жж.
- Д) б.э.д. 460-370 жж.
- Е) б.э.д. 387-304 жж.

279. б.э.д. 379 ж. демократия қай қалада орнатылды?

- А) Фивы
- В) Спарта

- С) Вавилон
- Д) Коринф
- Е) Карфаген

280. Македония басшылығымен грек мемлекеттерінің одағы құрылған конгресс және болған уақыты:

- А) Коринф, б.э.д. 337 ж.
- В) Афины, б.э.д. 377 ж.
- С) Спарта, б.э.д. 337 ж.
- Д) Фивы, б.э.д. 377 ж.
- Е) Мегара, б.э.д. 337 ж.

281. Қай патшаның тұсында Македония толық орталықтанған держава ретінде қалыптасты?

- А) Филипп II
- В) Александр
- С) Архелай
- Д) Исократ
- Е) Птоломей

282. Македонияға қарсы партияны басқарушы:

- А) Демосфен
- В) Эсхил
- С) Сократ
- Д) Аристотель
- Е) Платон

283. Египеттің негізгі территориясындағы гректің үш қаласы:

- А) Александрия, Навкратис, Птолемайда
- В) Александрия, Мемфис, Навкратис
- С) Александрия, Птолемайда, Фивы
- Д) Александрия, Навкратис, Гераклеополь
- Е) Александрия, Фивы, Гераклеополь

284. Афин демократиясы қашан өз өмір сүруін тоқтатты?

- А) б.э.д. 322 ж.
- В) б.э.д. 362 ж.
- С) б.э.д. 321 ж.
- Д) б.э.д. 331 ж.
- Е) б.э.д. 332 ж.

285. б.э.д. 334 ж. Грансададағы шайқас кімдердің арасында болды?

- А) Македондықтар мен парсылар
- В) Македондықтар мен скифтер
- С) Македондықтар мен египеттіктер
- Д) Македондықтар мен фракийлер
- Е) Македондықтар мен үнділер

286. Грецияның Македония үстемдігіне қарсы күресте қандай одақ құрылды?

- А) Ахей
- В) Этолий

- С) Пелопоннес
- Д) Делос
- Е) Афины теңіз одағы

287. Этолия одағының өмір сүрген уақыты:

- А) б.э.д. 367-168 жж.
- В) б.э.д. 280-146 жж.
- С) б.э.д. 378-355 жж.
- Д) б.э.д. 371-370 жж.
- Е) б.э.д. 478-470 жж.

288. Б.э.д. III ғ. Спарта ішкі жағдайының ауырлауына байланысты, жүргізілген саяси реформа кімдермен байланысты?

- А) Агис пен Клеомен
- В) Леонид пен Клеомен
- С) Агис пен Арат
- Д) Антигон мен Досон
- Е) Клеомен мен Антигон

289. Рим жаулап алған бірінші эллиндік мемлекет?

- А) Сиракузы
- В) Парфян
- С) Пергам
- Д) Селевкид
- Е) Грек-Бактрия

290. Койне дегеніміз:

- А) Жалпы гректік тіл
- В) Египеттік жазу
- С) Философиялық ағым
- Д) Діни ағым
- Е) Архитектуралық стиль

291. Ежелгі Грекиядағы өнертапқыш инженер-ғалым:

- А) Архимед
- В) Диодор
- С) Эвклид
- Д) Пифагор
- Е) Гераклит

292. Б.э.д. II ғ. Никеядан шыққан ең алғаш күн мен түннің теңесуін, 900-дей жарық жұлдыздардан тұратын т.б. ашқан аса көрнекті астроном:

- А) Гиппарх
- В) Аристарх
- С) Герон
- Д) Архимед
- Е) Эрастосфен

293. Солтүстік Қара теңізде құрылған Греция отарлары үшін қауіпті ең ірі мемлекет:

- A) Боспор патшалығы
- B) Скиф патшалығы
- C) Парян патшалығы
- D) Пергам патшалығы
- E) Селевкидтер патшалығы

294. Қара теңіздегі Боспор мемлекеті мен скиф мемлекеттерінен басқа ірі қала-мемлекеттері

- A) Ольвия, Херсонес, Тананс
- B) Ольвия, Тананс, Неаполь
- C) Херсонес, Ольвия, Пантикапей
- D) Неаполь, Тананс, Мермеки
- E) Неаполь, Тиритака, Фанагория

295. Б.э.д. VI ғ. негізі қаланған ең алғашқы грек полисі:

- A) Ольвия
- B) Херсонес
- C) Танаис
- D) Пантикапей
- E) Фанагория

296. Селевкид мемлекетінің ең тұрақты облысы

- A) Солтүстік Сирия
- B) Шығыс Киликия
- C) Оңтүстік Палестина
- D) Капподокия
- E) Батыс Понт

297. Эллинизм терминін алғаш рет ұсынған тарихшы:

- A) И. Дройзен
- B) А.Б. Ранавич
- C) Р. Пельман
- D) Э. Мейер
- E) А. Н. Зограф

298. Эллинизм терминіне, Дройзеннің ұсынысы бойынша берілген баламасы:

- A) Гректерге еліктеу
- B) Мәдениеттің дамуы
- C) Грек полисі
- D) Техниканың дамуы
- E) Гректерге ұқсамау

299. Перипатетикалық мектептің негізін қалаушы:

- A) Аристотель
- B) Платон
- C) Сократ
- D) Эпикур
- E) Демокрит

300. Ежелгі Грецияда Аристархтың гелиоцентрлік болжамына қарсы шығып, астрономияда қате геоцентрлік жүйені ұзақ уақытқа бекіткен кім?

- А) Гиппарх
- В) Эристорос
- С) Герон
- Д) Архимед
- Е) Страбон

301. Ежелгі Египет туралы ең көне жазба ескерткіштің авторы?

- А) Геродот
- В) Цицерон
- С) Гераклит
- Д) Плутарх
- Е) Якубит

302. Египет дініне арнап кім «Исид және Осирис туралы» кітап жазды?

- А) Плутарх
- В) Геродот
- С) Манефон
- Д) Цицерон
- Е) Наполеон

303. Египет тарихын жазушы абыз Манефон қандай еңбек жазды?

- А) «Египет тарихы»
- В) «Египет халқы»
- С) «Тарих»
- Д) «Исид және Осирис»
- Е) «Египет жері»

304. Ф. Шампольон қай жылы Египет иероглифтерін оқудың жолын тапты?

- А) 1822жыл
- В) 1850 жыл
- С) 1902 жыл
- Д) 1869 жыл
- Е) 1569 жыл

305. 1922 жылы ағылшын археологы Г. Картер қай қаладан Египет перғауыны Тутанхамонның моласын тапты?

- А) Фивы
- В) Мемфис
- С) Каир
- Д) Асуан
- Е) Афины

306. 1954 жылы кім Сехемхеттің III династиясының бір фараонын тапты?

- А) М.З. Гонейм
- В) В.С. Голещев
- С) Д.Г. Брэстед
- Д) Г. Каитер

Е) Б.А. Тураев

307. Египеттің діні мен әдебиеті жайында «Тот құдай», «Египет әдебиеті» деген еңбектердің авторы?

- А) Б.А. Тураев
- В) В.С.Голонищев
- С) Ю.Я. Перепелкин
- Д) Г. Картер
- Е) Д.Г. Брестед

308. «IV Аменхотептың төңкерісі» деген еңбектің авторы?

- А) Ю.Я. Перепелкин
- В) В.И. Авдиев
- С) М.А.Коростовцев
- Д) Р.И. Рубинштейн
- Е) Геродот

309. Египетті халықтар қай ғасырдан мекендеген?

- А) Ежелгі тас ғасыры
- В) Кейінгі тас ғасыры
- С) Орта тас ғасыры
- Д) Қола ғасыры
- Е) Темір ғасыры

310. Ежелгі Египет халықтарының егіншілік пен мал шаруашылығына көшуіне не әсер етті?

- А) Мұздықтардың еруі
- В) Темірдің шығуы
- С) Соқаның ойлап табылуы
- Д) Мысты игеру
- Е) Қоланың ойлап табылуы

311. Ежелгі Египет халқы қандай тілде сөйлеген?

- А) Семит-хамит
- В) Үнді-европа
- С) Моңғол-түрік
- Д) Аккад-шумер
- Е) Хетт-финикия

312. Египеттіктердің батпақты Ніл Аңғарын игеруі қай ғасырдан басталады?

- А) Неолит
- В) Энеолит
- С) Палеолит
- Д) Мезолит
- Е) Қола

313. Ежелгі Египеттегі ең ірі неолиттік тұрақ Меримде –Бенислам тұрғындарының негізгі шаруашылығы?

- А) Балық аулау
- В) Мал шаруашылығы
- С) Егіншілік

- Д) Терімшілік
- Е) Аңшылық

314. Ежелгі Египетте мыс құралдарды кеңінен пайдалана бастаған кезең?

- А) б.з.д. IV мыңжылдық
- В) б.з.д. III мыңжылдық
- С) б.з.д. II мыңжылдық
- Д) б.з.д. VI мыңжылдық
- Е) б.з.д. VII мыңжылдық

315. Фаянсты ойлап табу Ежелгі Египеттегі үлкен жетістіктердің бірі болды. Ол неден жасалды?

- А) Кварцты құм мен әйнек
- В) Мыс пен қола
- С) Сазбалшық пен әйнек
- Д) Алтын мен темір
- Е) Сазбалшық пен құм

316. Египеттегі негізгі қатынас құралы?

- А) Өзен
- В) Темір жол
- С) Түйе
- Д) Ұшақ
- Е) Піл

317. Грек термині. Египеттше мұндай ұсақ мемлекеттік құрылымдар «сенат» деп аталған

- А) Номдар
- В) Құлдар
- С) Құдай
- Д) Рулар
- Е) Сикыршы

318. Ежелгі Египетте Номадты басқарушы әкім қалай аталады?

- А) Номарх
- В) Перғауын
- С) Султан
- Д) Патша
- Е) Хан

319. Жоғарғы Египеттің орналасқан аумағы?

- А) Оңтүстікте
- В) Батыста
- С) Солтүстікте
- Д) Шығыста
- Е) Оңтүстік-Шығыста

320. Жоғарғы Египет патшалығының негізін қалаған патша?

- А) Менес
- В) Аменепхатеп
- С) Хамурапи

- Д) Нармер
- Е) Джосер

321. Менес қашан Төменгі Египетті бағындырып, I династияның негізін қалады?

- А) б.з.б. 3000 жыл
- В) б.з.б. 3200 жыл
- С) б.з.б. 1500 жыл
- Д) б.з.б. 1489 жыл
- Е) б.з.б. 1300 жыл

322. Египеттегі ертедегі патшалық неше жыл өмір сүрді?

- А) 200 жыл
- В) 150 жыл
- С) 100 жыл
- Д) 300 жыл
- Е) 120 жыл

323. Египеттіктердің негізгі шаруашылығы?

- А) Егіншілік
- В) Мал шаруашылығы
- С) Аңшылық
- Д) Балық шаруашылығы
- Е) Қолөнер

324. Көне Египетте үй хайуанаттарынан нені көп өсірген?

- А) Ірі қара
- В) Қой
- С) Ешкі
- Д) Шошқа
- Е) Піл

325. Ежелгі патшалық қай жылдар аралығында өмір сүрді?

- А) б.з.б. 2800-2250
- В) б.з.б. 2500-5698
- С) б.з.б. 2690-2269
- Д) б.з.б. 2600-2300
- Е) б.з.б. 2600-2556

326. Джосер патшалық құрған кездегі елдің астанасы:

- А) Мемфис
- В) Фивы
- С) Абидос
- Д) Афины
- Е) Гераклеополь

327. Египетте Ежелгі патшалықтағы мемлекет билігі қандай сипатта болды?

- А) Деспоттық
- В) Зайырлы
- С) Әлеуметтік

- Д) Демократиялық
- Е) Монархиялық

328. Ежелгі Египеттегі жер кімнің меншігі болды?

- А) Перғауынның
- В) Номархтардың
- С) Патшаның
- Д) Шонжарлардың
- Е) Құлдардың

329. Ежелгі Египетте құлдарды кімдер құрады?

- А) Соғыс тұтқындары
- В) Малшылар
- С) Қылмыскерлер
- Д) Дінсіздер
- Е) Қарапайым халық

330. Египеттегі көп сатылы пирамида кімге арнап салынған?

- А) Джосер
- В) Хамурапи
- С) Менес
- Д) Хеопс
- Е) Хафра

331. Ең алғашқы пирамида кімге арнап салынған?

- А) Джосе
- В) Хамурапи
- С) Хуфу
- Д) Хеопс
- Е) Хафра

332. Ең үлкен пирамида кімге арнап салынған?

- А) Хеопс
- В) Хамурапи
- С) Джосер
- Д) Менес
- Е) Хафра

333. Хеопс пирамидасы 20 жыл салынған және онда 100000 құл жұмыс істегенін айтқан грек тарихшысы

- А) Геродот
- В) Плутарх
- С) Птоломей
- Д) Аристотель
- Е) Манефон

334. IV династияның негізін салушы Снофру қай елді жаулап алған?

- А) Эфиопия
- В) Палестина

- С) Греция
- Д) Вавилон
- Е) Ливия

335. Қай ғасырда Египет бірнеше ұсақ мемлекеттерге бөлініп кетті?

- А) XXIII
- В) XXI
- С) XXII
- Д) XIX
- Е) XII

336. Ежелгі Египеттегі Қызыл және Ақ тәж нені білдіреді?

- А) Екі патшалықтың болғанын
- В) Екі діннің үстемдігін
- С) Екі шаруашылық түрін
- Д) Әйел мен ер адамды айырды
- Е) Күн мен түннің ауысуын

337. Ежелгі Египетте шетелдік басқыншылар үстемдігі қанша уақытқа созылды?

- А) 100 жылдан аса
- В) 50 жылдан аса
- С) 85 жылдан аса
- Д) 145 жылға дейін
- Е) 200 жылға дейін

338. Ежелгі Рим қайда қалыптасты?

- А) Аппенин түбегі
- В) Корсика аралы
- С) Саламин аралы
- Д) Оңтүстік Филиппин
- Е) Солтүстік грекияда

339. Ежелгі Рим алғашқы патшасы?

- А) Ромул
- В) Тарквиний
- С) Рем
- Д) Труба
- Е) Август

340. Римнің соңғы патшасы?

- А) Тарквиний
- В) Рем
- С) Труба
- Д) Август
- Е) Ромул

341. Римде ру бірлестіктерінің жиналысы не деп аталады?

- А) Курия
- В) Агора
- С) Центуриат

- Д) Еней
- Е) Принципат

342. Октавиан іргесін қалаған мемлекеттік басқару жүйесі.

- А) Курия
- В) Агора
- С) Центуриат
- Д) Еней
- Е) Принципат

343. Патрицейлер мен плебейлердің жиналысы?

- А) Центуриат
- В) Курия
- С) Агора
- Д) Еней
- Е) Принципат

344. Римдіктер карфагендіктерді кімдер деп атады?

- А) Пундар
- В) Трибалар
- С) Магистраттар
- Д) Турлар
- Е) Римдіктер

345. Рим және Карфаген арасындағы I Пуни соғысы неше жылға созылды?

- А) 23
- В) 18
- С) 27
- Д) 21
- Е) 15

346. II Пуни соғысы неше жылға созылды?

- А) 17
- В) 25
- С) 50
- Д) 20
- Е) 55

347. Римдіктер Карфаген қаласын қашан алды?

- А) б.з.б. 146 ж.
- В) б.з.б. 113 ж.
- С) б.з.б. 133 ж.
- Д) б.з.б. 46 ж.
- Е) б.з.146 ж.

348. Рим билеушілері мен байлары соғыс кезінде қолға түскен тұтқындарды арнайы дайындықтан кейін цирктер мен амфитеатрларда шайқастырды. Шайқас барысында жеңгені жеңілгенін өлтіруге тиіс болды? Бұларды кім деп атады?

- А) Гладиатор

- В) Салтаттылар
- С) Құлдар
- Д) Нобилдер
- Е) Пундар

349. Спартак бастаған құлдар құлдар көтерілісі қашан болды?

- А) б.з.б 74 ж.
- В) б.з.б 33 ж.
- С) б.з.б 44 ж.
- Д) б.з.б 10 ж.
- Е) б.з.б 79 ж.

350. Ежелгі Римде елді дара басқарушыны кім деп атайды?

- А) Император
- В) Магистрат
- С) Патша
- Д) Гладиатор
- Е) Хан

351. Октавиан Римді билеген жылдар?

- А) б.з.б.27-б.з.14 ж.
- В) б.з.б.44ж-б.з.27 ж.
- С) б.з.б.17-б.з.9 ж.
- Д) б.з.б.14 ж.-б.з.28 ж.
- Е) б.з.б.27 ж.-б.з.44 ж.

352. Император Константин нешінші жылы қайтыс болды?

- А) б.з. 330
- В) б.з.430
- С) б.з. 44
- Д) б.з.200
- Е) б.з. 100

353. Император Юлий Цезарь атымен аталған ай?

- А) Июль
- В) Май
- С) Март
- Д) Январь
- Е) Июнь

354. Рим поэзиясының «Алтын ғасыры»?

- А) б.з.б. Іғ. соңы мен б.з. Іғ. басы
- В) б.з.б. Іғ.соңы – б.з.Іғ. басы
- С) б.з.б.ІІғ. соңы мен ІІғ. басы
- Д) б.з.б. ІІғ.соңы мен б.з.ІІғ. басы
- Е) б.з.б.ІІІғ. соңы мен б.з.ІІІғ.басы

355. Римнің атақты ақындарының бірі?

- А) Вергилий

- В) Тарквиний
- С) Тит Ливий
- Д) Филипп
- Е) Родос

356. «Энелда» дастанының авторы?

- А) Вергилий
- В) Цицерон
- С) Тит Ливий
- Д) Тарквиний
- Е) Филипп

357. Римнің ең атақты шешені, саяси қайраткер?

- А) Цицерон
- В) Вергилий
- С) Тит Ливий
- Д) Тарквиний
- Е) Гораций

358. Римде «Ең жақсы император» атағын алған кім?

- А) Траян
- В) Октавиан
- С) Август
- Д) Юлий Цезарь
- Е) Константин

359. Римдіктер не жасауды ойлап тапты?

- А) Бетон
- В) Кме
- С) Қыш ыдыс
- Д) Көлік
- Е) Орак

360. Спартакты жеңген қолбасшылар?

- А) Красс пен Помпей
- В) Цезарь мен Траян
- С) Октавиан мен Август
- Д) Константин мен Красс
- Е) Красс пен Цезарь

361. Нешінші жылы Рим империясы екіге бөлінді?

- А) 395жылы
- В) 435жылы
- С) 310жылы
- Д) 391жылы
- Е) 445жылы

362. Батыс Рим империясы нешінші жылы құлады?

- A) 476жылы
- B) 435жылы
- C) 410жылы
- D) 395жылы
- E) 495жылы

363. Шығыс рим империясы не деп аталады?

- A) Византия
- B) Италия
- C) Константинополь
- D) Вести
- E) Рим

364. Император Юстиниан билігі нешінші жылдар?

- A) 527-565жж.
- B) 510-545жж.
- C) 565-585жж.
- D) 527-585жж.
- E) 560-585жж.

365. Спартак көтерілісі қай жерде болды?

- A) Италияда
- B) Францияда
- C) Грецияда
- D) Македонияда
- E) Англияда

366. Колизей амфитеатры қанша адамға арналған?

- A) 50 мың
- B) 10 мың
- C) 30 мың
- D) 60 мың
- E) 20 мың

367. «Евангелие» қандай мағына береді?

- A) Ізгі хабар
- B) Қорқыныш
- C) Қуаныш
- D) Аңыз
- E) Ақырет

368. Пантеон - храмының диаметрі қанша?

- A) 43,5м.
- B) 50м.
- C) 45,5м.
- D) 42м.
- E) 41,5м.

369. Пантеон храмында жерленген көрнекті қайраткер?

- A) Рафаель
- B) Цицерон
- C) Форум
- D) Гораций
- E) Вергилий

370. Цицеронның қанша трактаты бар?

- A) 800
- B) 500
- C) 600
- D) 700
- E) 900

371. Шешендік өнер қай жерлерде жетілген?

- A) Афины мен Кіші Азия
- B) Македония мен Греция
- C) Дакия мен Сицилия
- D) Карфаген мен Олимп тауы
- E) Аппенин мен Сардинияда

372. Ежелгі Дүниедегі Солтүстік Африкадағы аса бай ел?

- A) Карфаген
- B) Македония
- C) Рим
- D) Греция
- E) Франция

373. 395 жылы Батыс Рим империясы қалай бөлінді?

- A) Шығыс және батыс
- B) Оңтүстік және солтүстік
- C) Жоғарғы және төменгі
- D) Оңтүстік және батыс
- E) Орталық және шығыс

374. Парсы патшалығы қай ғасырда құрылды?

- A) б.д.д. VI ғ.
- B) б.д.д. IV ғ.
- C) б.д.д. VII ғ.
- D) б.д.д. III ғ.
- E) б.д.д. XI ғ.

375. Парсы мемлекетінің негізін қалаушы кім?

- A) Кир
- B) Ксеркс
- C) Мидий
- D) Дарий
- E) Камбиз

376. Шығыс иран тайпаларының діни сенімдері қай кезеңде қалыптаса бастады?

- A) Көшпенділіктен егіншілікке көшкен кезде

- В) Көшпенділіктен отырықшылыққа көшкен кезде
- С) Екіншілік гулденген дәуірде
- Д) Колөнердің егіншіліктен бөлінген кезде
- Е) Екіншіліктен көшпенділікке көшкен

377. Демокрит кім?

- А) Философ-материалист
- В) Философ-идеалист
- С) Комедиялар атасы
- Д) Тарих атасы
- Е) Демократияның қайраткері

378. Мидиялықтар Иранның қай жерінде қоныстанды?

- А) Солтүстік-батыс
- В) Оңтүстік-шығыс
- С) Солтүстік-шығыс
- Д) Оңтүстік-батыс
- Е) Орталық

379. Грециядағы медицина ғылымының негізін салған кім?

- А) Гиппократ
- В) Гераклит
- С) Гекатей
- Д) Геродот
- Е) Эмпедок

380. Экклесия дегеніміз не?

- А) Жоғарғы саяси орган
- В) Жоғарғы заң шығарушы
- С) Азаматтардың жоғарғы тобы
- Д) Басы бос еріктілер тобы
- Е) Құлдар тобы

381. Клерухиялар дегенді қалай түсінеміз?

- А) Афина отарлары
- В) Афиннаға қарсы елдер
- С) Афина храмдары
- Д) Афина флоты
- Е) Афина жоғарғы органдары

382. Афина шешендерінің I ғ. аяқ шені мен II ғ. ерекше публицистика шығармалары болды. Афины шешендерінен кімдерді білесің?

- А) Андокид, Демосфен, Исократ
- В) Аристотель, Платон, Ксенофонт
- С) Фалес, Анаксимандр
- Д) Гекатит, Гелланик, Гесиод
- Е) Геродот, Фукидид, Плутарх

383. “Преториандықтар” деп Ежелгі Римде кімдерді атаған?

- A) Император әскерлерін
- B) Құлдарды
- C) Римнің еркін тұрғындарын
- D) Келген саудагерлерді
- E) Ақсақалдарды

384. Қай жылдары Кир Армения, Мидия, Каппадокияны бағындырды?

- A) б.з.б. 546-545
- B) б.з.б. 528-526
- C) б.з.б. 536-535
- D) б.з.б. 550-548
- E) б.з.б. 566-565

385. Кир қай жылы өлтірілді?

- A) б.з.б. 529
- B) б.з.б. 535
- C) б.з.б. 528
- D) б.з.б. 525
- E) б.з.б. 523

386. Б.э. дейінгі III ғ-дағы Римнің басты қарсыласы кім болды

- A) Карфаген
- B) Афиндер
- C) Парсы
- D) Египет
- E) Македония

387. Ежелгі Грек демократиясы қандай демократияға жатты?

- A) Құл иеленушілік демократияға
- B) Әскери демократияға
- C) Алғашқы қауымдық демократияға
- D) Феодалдық демократияға
- E) Далалық демократияға

388. Архаикалық дәуір қай кезенді қамтиды?

- A) б.э.д. VIII-VI
- B) б.э.д. II-III
- C) б.э.д. VI-IV
- D) б.э.д. IX-VII
- E) б.э.д. X-VII

389. Ортағасырлардың басталуын Римнің “варварлардың” қысымымен құлаған кезімен байланыстырады. Бұл қай жыл?

- A) 476ж.
- B) 630ж.
- C) 438ж.
- D) 500ж.
- E) 320ж.

390. Гай Юлий Цезарь 10 жыл шамасында қайда соғысты?

- A) Альпілік Галлияда
- B) Солтүстік Африкада
- C) Грецияда
- D) Испанияда
- E) Парфияда

391. Үкіметті басып алғаннан соң Рим Сенаты Цезарьға қандай атақ сыйлады?

- A) Диктатор
- B) Император
- C) Консул
- D) Халық жаршысы
- E) Триумфатор

392. Цезарьды өлтіргеннен соң, жеке басшылық үшін күрес кімдердің арасында болды?

- A) Антоний мен Октавианның
- B) Помпей мен Крассстың
- C) Лукул мен Бруттың
- D) Нерон мен Троянның
- E) Октавиан мен Клеопатранның

393. Кай жылы Камбиз Египетке қарсы аттанды?

- A) б.з.б. 526
- B) б.з.б. 529
- C) б.з.б. 520
- D) б.з.б. 530
- E) б.з.б. 533

394. Иранда кай патшаның тұсында монета шығара бастады?

- A) Кир
- B) Дарий
- C) Камбиз
- D) Киаксар
- E) Мидий

395. Иранның оңтүстік-батысы қалай аталған?

- A) Элам
- B) Пенджаб
- C) Фарс
- D) Мезендаран
- E) Мешхед

396. Ежелгі Иранның қай ауданында ақшалай сауда дамыды?

- A) Батыс аудандарда
- B) Шығыс аудандарда
- C) Солтүстік аудандарда
- D) Оңтүстік аудандарда
- E) Орталықта

397. I Дарий кезінде Персия державасы неше сатрапияларға бөлінді?

- A) 23-24
- B) 30-31
- C) 25-26
- D) 22-23
- E) 20-21

398. I Дарий патша тұсында Парсы патшалығы қандай жағдайда болды?

- A) Ең қуатты патшалық болды
- B) Ең әлсіз патшалық болды
- C) Бытыраңқылық жағдайда
- D) Қатардағы қарапайым ел болды
- E) Тәуелді ел болды

399. Ежелгі афина мифтеріне қарағанда мемлекет басқарушысы базилилер резиденциясы қай қалада орналасты?

- A) Акрополь
- B) Афина
- C) Македония
- D) Спарта
- E) Египет

400. Парсы патшалығының негізін қандай тайпалар құрады?

- A) Иран
- B) Массaget
- C) Сак
- D) Мидия
- E) Луллубей

## АДАМ. ҚОҒАМ. ҚҰҚЫҚ.

### Тест сұрақтарының үлгілік тізімі

1. Адамды, оның пайда болуын, дамуын, табиғи және мәдени (жасанды) ортада болуын зерттейтін ғылым:
  - A) Антропология
  - B) Этнография
  - C) Биология
  - D) Экология
  - E) Әлеуметтану
2. Антропогенездің әлеуметтік факторларына мыналар жатады:
  - A) Еңбек, әлеуметтік өмір салты, сөйлеу және ойлау
  - B) Мидың дамуы
  - C) Табиғаттың өзгеруіне бейімделу
  - D) Тік жүру және сөйлеу
  - E) Өмір сүру және табиғи сұрыпталу үшін күрес
3. Адамзаттың жеке өкілі, басқалардан сыртқы түрі, бойы, салмағы және т. б. биологиялық ерекшеліктерімен ерекшеленеді:
  - A) Индивид
  - B) Тұлға
  - C) Жеке түр
  - D) Тұқымдас
  - E) Сапасы
4. Объективті шындық субъектісінің жоғары ұйымдасқан тіршілік иелерінің сыртқы әлеммен өзара әрекеттесу процесінде пайда болатын және олардың мінез-құлқында (қызметінде) реттеуші функцияны жүзеге асыратын белсенді бейнелеу формасы:
  - A) Психика
  - B) Қабілеті
  - C) Қабылдау
  - D) Регуляция
  - E) Мінез-құлық
5. Келесі кезеңдердің - адам табыны, рулық қауымдастық, көршілер қауымдастығы және т. б. дәйекті өзгеруімен сипатталатын адамзат қоғамының тарихи және эволюциялық пайда болуы мен қалыптасу процесі:
  - A) Социогенез
  - B) Антропогенез
  - C) Биоәлеуметтілік
  - D) Онтогенез
  - E) Дәстүр
6. Тұлғаның қалыптасуында туылғанынан бастап өмірге қажетті білімді, дағдылар мен тәжірибені меңгеру процесі:
  - A) Әлеуметтену
  - B) Антропогенез
  - C) Даралану
  - D) Ритмикалық
  - E) Бейімделу

7. Тұлғаның адамгершілік қасиеттері:

- A) Парыз сезімі, әлеуметтік жауапкершілік
- B) Демалу мүмкіндігі
- C) Немқұрайлылық және төзімділіктің болмауы
- D) Жалқаулық пен немқұрайлылық
- E) Адамдарға деген әдептілік пен сыйластықтың болмауы

8. Адамның ерекше жеке қасиеттерінің бірлігі және оның психофизиологиялық құрылымының ерекшелігі (темперамент түрі, физикалық және психикалық ерекшеліктері, интеллект, дүниетаным, өмірлік тәжірибе) қалай аталады:

- A) Даралық
- B) Қабілет
- C) Төзімділік
- D) Үнемділік
- E) Білімділік

9. Жер бетіндегі тірі организмдердің ең жоғары сатысы, әлеуметтік-тарихи қызмет пен мәдениеттің субъектісі:

- A) Адам
- B) Қоғам
- C) Мәдениет
- D) Социум
- E) Эстетика

10. Әлеуметтік маңызды белгілердің жеке тасымалдаушысы, саналы ерікті қызметтің еркін және жауапты субъектісі:

- A) Тұлға
- B) Индивид
- C) Адам
- D) Жаратушы
- E) Көшбасшы

11. Адамзат бүкіл өмір сүру кезеңінде жинақтаған материалдық және рухани құндылықтардың жиынтығы:

- A) Мәдениет
- B) Ғылым
- C) Таным
- D) Жаратушы
- E) Дін

12. Адамның әлемге және оның әлемдегі орнына деген көзқарасы жүйесі; жалпы көзқарасты, әлемді түсінуді, адамның осы әлемдегі орнын анықтайтын көзқарастар, бағалаулар, принциптер мен бейнелі түсініктер жиынтығы:

- A) Дүниетаным
- B) Сана
- C) Қабілет
- D) Қабылдау
- E) Елестету

13. Жаңа білімге жету, адамның санасында объективті шындықты көрсету процесі:

- A) Таным
- B) Тілек
- C) Сана
- D) Елестету
- E) Қабылдау

14. Адамның өз мүдделері мен мақсаттарына сәйкес әрекет ету, өзінің саналы таңдауын жүзеге асыру және өзін-өзі жүзеге асыру үшін жағдай жасау қабілеті:

- A) Еркіндік
- B) Қызығушылық
- C) Тілек
- D) Қызметі
- E) Қабылдау

15. Заттар мен құбылыстардың жалпы маңызды белгілерін бейнелейтін ой:

- A) Ұғым
- B) Елестету
- C) Тұжырым
- D) Термин
- E) Білім

16. Арнайы құралдар мен әдістердің көмегімен алынған әлем мен адам туралы білім; жүйелілігімен, негізділігімен, дәлелділігімен (экспериментпен, практикамен, теорияның бұрын негізделген ережелерінің көмегімен) ерекшеленетін; ғалымдардың күшімен жасалған білім:

- A) Ғылыми білім
- B) Елестету
- C) Дәлелді білім
- D) эксперименталды білім
- E) объективті шындық

17. Адами қарым-қатынастың барлық тәсілдері мен формаларын қамтитын, материалдық әлемнің табиғаттан оқшауланған, бірақ онымен тығыз байланысты бөлігі, адамзаттың өткен және қазіргі өміріндегі тарихи дамып келе жатқан жиынтығы:

- A) Қоғам
- B) Дәстүр
- C) Тұқымдас
- D) Тайпа
- E) Әлеуметтік топ

18. Адамдардың өзара әрекеттесуінің әртүрлі формалары, әртүрлі әлеуметтік топтар арасында пайда болатын байланыстар:

- A) Қоғамдық қатынастар
- B) Қоғам
- C) Жеке қатынастар
- D) Көпшіліктің қарым-қатынасы
- E) Табиғи қатынастар

19. Өз аумағының, экономикалық байланыстарының, әдеби тілінің, мәдениеті мен мінезінің этникалық ерекшеліктерінің ортақтығын қалыптастыру процесінде пайда болатын адамдардың тарихи қауымдастығы:

- A) Ұлт

- B) Әлеуметтік топ
- C) Ру
- D) Тайпа
- E) Қоғам

20. Зорлық-зомбылық теориясы бойынша мемлекеттің пайда болуының басты себебі

- A) Бір халықтың екіншісін жаулап алу және басқаларға үстемдігін орнату
- B) Қалалардың, ақша мен қолөнердің пайда болуы
- C) Таптардың пайда болуы және олардың арасындағы күрес
- D) Адамдар арасында ерікті келісім жасасу
- E) Климаттық жағдайлардың өзгеруі және өндіріс құралдарының дамуы

21. Қоғамдық-саяси билік - бұл ... жүйесі.

- A) Билік өкілеттігі бар мемлекеттік органдар
- B) Қоғамның саяси өміріне қатысатын қоғамдық ұйымдар
- C) Нормалар, ережелер, әдет-ғұрыптар, мораль
- D) Саяси мекемелер, партиялар, қоғамдық қозғалыстар
- E) Нормативтік-құқықтық актілер

22. Құқықтық мемлекеттің негізгі белгісі:

- A) заңның үстемдігі
- B) дербес қоғамдық ұйымдардың болуы
- C) бір діннің үстемдігі
- D) бір партияның үстемдігі
- E) мемлекет рәміздерінің болуы

23. Біртұтас Конституциясы, сот-құқықтық жүйесі, азаматтығы бар, өзінің мемлекеттілігі жоқ әкімшілік-аумақтық бірліктерден тұратын саяси біртекті мемлекет:

- A) Унитарлық
- B) Азаматтық
- C) Құқықтық
- D) Демократиялық
- E) Прогрессивті

24. Бірнеше рет қайталау нәтижесінде әдетке айналған мінез-құлықтың тарихи қалыптасқан ережесі:

- A) Әдет
- B) Норматив
- C) Заң
- D) Құқық нормасы
- E) Кодекс

25. Мүшелері жалпы тіршілік пен өзара жауапкершілікпен байланысты некеге және туыстық қатынастарға негізделген шағын топ:

- A) Отбасы
- B) Ру
- C) Тайпа
- D) Элита
- E) Каста

26. Басқару және мәжбүрлеу аппараты бар және егемендікке ие, бекітілген аумақтағы бүкіл халыққа билікті орнықтыратын қоғамның біртұтас саяси ұйымы:

- A) Мемлекет
- B) Партия
- C) Бірлестік
- D) Ұйымдастыру
- E) Мекеме

27. Қазақстан Республикасындағы мемлекеттің басқару нысаны

- A) Президенттік
- B) Парламенттік
- C) Унитарлы
- D) Федеративті
- E) Конфедерация

28. Мемлекеттің бүкіл органдарының өзара әрекет етуі және ұйымдасу жүйесі мен әдісі:

- A) Басқару нысаны
- B) Мемлекеттік құрылым нысаны
- C) Саяси режим
- D) Тоталитарлық режим
- E) Аумақтық құрылымы

29. Мемлекеттік биліктің жоғарғы органдарын белгілі бір мерзімге халық сайлайтын, не болмаса өкілдік мекемелері құратын басқару формасы:

- A) Республика
- B) Монархия
- C) Мемлекет
- D) Тоталитаризм
- E) Теократия

30. Мемлекеттегі саяси билікті жүзеге асырудың құралдары мен әдістердің жиынтығы:

- A) Саяси режим
- B) Басқарма
- C) Үстемдік
- D) Тоталитаризм
- E) Құрылғы

31. Тоталитарлық саяси режимнің белгілері:

- A) Биліктің билеуші азшылық қолында жалпы шоғырлануы
- B) Діни сенім бостандығы
- C) Көп партиялыққа еліктеу
- D) Билік органдарын қалыптастыру саяси көшбасшының жеке жанашырлығына сәйкес жүргізіледі
- E) Азаматтардың саяси құқықтары мен бостандықтарын айтарлықтай шектеу

32. Биліктің жалғыз көзі - халық деп танылатын саяси режим:

- A) Демократия
- B) Басқарма
- C) Теократия
- D) Тоталитаризм
- E) Құрылғы

33. Мемлекеттік құрылым нысаны бойынша Қазақстан болады:

- A) Унитарлық мемлекет

- В) Президенттік республика
- С) Аралас республика
- Д) Авторитарлық республика
- Е) Әкімшілік құрылғы

34. Мемлекеттік-аумақтық бірліктері заң тұрғысынан бекітілген саяси дербестік мәртебесіне ие болатын мемлекеттік құрылымның нысаны:

- А) Федерация
- В) Республика
- С) Монархия
- Д) Конфедерация
- Е) Одақ

35. Өздерінің егемендігі мен тәуелсіздігін толық сақтай отырып, белгілі бір әрекеттерді үйлестіру үшін өз билігінің бір бөлігін бірлескен билікке беретін, нақты мақсаттарға жету үшін біріккен тәуелсіз елдердің ерікті одағы:

- А) Конфедерация
- В) Республика
- С) Монархия
- Д) Федерация
- Е) Достастық

36. Сайлау құқығы бар адамдардың дауыс беруі арқылы жүзеге асырылатын мемлекеттік органды қалыптастыру немесе лауазымды адамға өкілеттік беру рәсімі:

- А) Сайлау
- В) Референдум
- С) Монархия
- Д) Федерация
- Е) Одақ

37. Саяси қайраткерлерді сайлауды ұйымдастырумен, дауыс беру нәтижелерін өткізу және анықтау тәсілімен және партиялар арасында мандаттарды бөлумен байланысты саяси институт:

- А) Сайлау жүйесі
- В) Сайлау
- С) Референдум
- Д) Дауыс беру
- Е) Атқарушы жүйе

38. Сыртқы істердегі мемлекеттің тәуелсіздігі және ішкі істердегі мемлекеттік биліктің үстемдігі:

- А) Егемендік
- В) Бостандық
- С) Бірлік
- Д) Дербестік
- Е) Өзін-өзі қамтамасыз ету

39. Мемлекет заңдастырған және қорғайтын барлығына міндетті нормалар жүйесі:

- А) Құқық
- В) Мораль
- С) Әдет ғұрып
- Д) Дәстүр

Е) Психология

40. Адамдардың мінез-құлқын реттейтін қоғамда қабылданған нормалар, идеалдар, принциптер жүйесі:

- А) Мораль
- В) Көңіл күй
- С) Әдет ғұрып
- Д) Дәстүр
- Е) Психология

41. Құқықтың негізгі дерек көздерін (формаларын) атаңыз

- А) Құқықтық әдет, сот прецеденті, нормативтік-құқықтық акт
- В) Құқықтық мәдениет, құқықтық сана
- С) Құқықтық қатынас, құқық бұзушылық, қылмыс
- Д) Конституциялық құқық, әкімшілік құқық,
- Е) Конституциялық құқық, құқық бұзушылық

42. Мазмұны бойынша құқықтық сананы қандай түрлерге бөлуге болатындығын көрсетіңіз

- А) Қарапайым, кәсіби, ғылыми
- В) Жаппай, топтық, жеке
- С) Оң, теріс, бейтарап
- Д) Коммунистік, буржуазиялық, саясаттан тыс
- Е) Авторитарлық, тоталитарлық, демократиялық

43. Құқықтық жүйедегі адам

- А) Құқық субъектісі
- В) Тұлға
- С) Азамат
- Д) Құқық объектісі
- Е) Құқықтық қатынастардың мазмұны

44. Құқықтың арнайы заңды функцияларын атаңыз

- А) Реттеуші, қорғаушы
- В) Тәрбиелік, көтермелеу
- С) Ұсыныстық, үстемдік
- Д) Жазалаушы, бейбіт
- Е) Тәрбиелік, отбасылық

45. Біртекті, сипаты бойынша жақын әлеуметтік қатынастардың бүкіл саласын реттейтін құқықтық нормалардың үлкен тобы (жиынтығы):

- А) Құқық саласы
- В) Жәй заңдар
- С) Заңдар
- Д) Құқық жүйесі
- Е) Заң негізінде қабылданатын актілер

46. Адамның өзінің әлеуметтік маңыздылығын түсінуі және қоғам тарапынан бұл мағынаны мойындауы:

- А) Абырой
- В) Ұят
- С) Шындық

- D) Эгоизм
- E) Альтруизм

47. Құқықтық норманың негізгі элементтері

- A) Диспозиция, санкция, гипотеза
- B) Санкция, гипотеза, лицензия
- C) Санкция, лизинг, лицензия
- D) Гипотеза, санкция, лизинг
- E) Лицензия, патент, лизинг

48. Қазақстандағы өкілді және заң шығарушы билік органы:

- A) Парламент
- B) Үкімет
- C) Министрлік
- D) Комитеттер мен ведомстволар
- E) Соттар

49. Қазақстандағы атқарушы билік органы

- A) Үкімет
- B) Парламент
- C) Сот
- D) Конституциялық Кеңес
- E) Прокуратура

50. ҚР адам және азаматының экономикалық құқықтары

- A) Меншік құқығы
- B) Сайлау және сайлану құқығы
- C) Митингілер мен ереуілдерге қатысу
- D) Білім алу
- E) Шығармашылық қызметі

51. Қазақстан Республикасы Парламентінің депутаты болып сайлануы мүмкін:

- A) Қазақстан Республикасы азаматы
- B) Кез келген адам
- C) Кәмелетке толған
- D) Тек лауазымды тұлға
- E) Партияның кез келген мүшесі

52. Қазақстан Республикасындағы жергілікті өзін-өзі басқару жүйесіне кіретін органдар

- A) Мәслихаттар
- B) Қоғамдық кеңестер
- C) Әкімдер
- D) Муниципалдық жиналыс
- E) Атқару комитеттері

53. 1995 жылғы Қазақстан Республикасының Конституциясының бірінші бөлімін атаңыз

- A) «Жалпы ережелер»
- B) «Адам және азамат»
- C) «Жергілікті мемлекеттік басқару және өзін-өзі басқару»
- D) «Президент»
- E) «Үкімет»

54. Қазақстан Республикасының Конституциясында бекітілген мемлекеттің жоғары құндылықтары:

- A) Адам, оның өмірі, құқықтары мен бостандықтары
- B) Табиғи ортаны қорғау
- C) Парламенттік сайлау өткізу
- D) Жер мәселесін шешу
- E) Журналистердің құқықтарын қорғау

55. Қазақстан Республикасының Конституциясына сәйкес Президент қызметінен мерзімінен бұрын босатылған кезде оның өкілеттігі уақытша жүктеледі

- A) Парламент Сенатының Төрағасына
- B) Премьер-Министрге
- C) Жоғарғы Сот Төрағасына
- D) Парламент Мәжілісінің Төрағасына
- E) Сенаторға

56. Билікті жүзеге асыруға халықтың қатысу нысаны

- A) Сайлауға қатысу
- B) Конференцияларға қатысу
- C) Өз ісін ашу
- D) Әкімдікке мемлекеттік қызметке кіру
- E) Мәслихат депутаттығына сайлану

57. Қазақстан Республикасының Конституциясына сәйкес:

- A) Басқа мемлекеттердің саяси партиялары мен кәсіптік одақтарының, діни негіздегі партиялардың қызметіне жол берілмейді
- B) Заңнамада көзделген жағдайларда басқа мемлекеттер партияларының қызметіне жол беріледі
- C) Конституцияда көзделген жағдайларда діни негіздегі партиялардың қызметіне жол беріледі
- D) Конституцияға қарсы мақсаттарды көздейтін партиялардың қызметіне жол беріледі
- E) Кез келген шетелдік саяси бірлестіктердің қызметіне жол беріледі

**58. Мемлекетке тән белгілер:**

- A) Аумақтың, халықтың, басқару аппаратының, заңның, армияның болуы**
- B) Халықтың, мекемелердің, соттың, зауыттардың, негізгі заңның болуы**
- C) Халықтың, басқару аппаратының, зауыттардың, негізгі заңның болуы**
- D) Аумақтың, Президенттің, полицияның, үкіметтің болуы**
- E) Басқару аппаратының, заңның, полицияның, үкіметтің болуы**

59. Әлеуметтік құқықтарға жатады:

- A) Тегін және ақылы білім алу құқығы
- B) Митингілерге қатысу құқығы
- C) Өмір сүру құқығы
- D) Сайлауға қатысу құқығы
- E) Қызмет пен кәсіп түрін еркін таңдау

60. Заңға сәйкес адамның әкімшілік жауапкершілікке тартылатын жасы:

- A) 16 жас
- B) 18 жас

- С) 20 жас
- Д) 21 жас
- Е) 15 жас

61. Еңбек шарты бойынша қызметкердің міндеті:

- А) Ішкі еңбек тәртібін сақтау
- В) Демалыс уақытын жұмыс берушімен келісу
- С) Күн сайын әр іс бойынша жазбаша есеп беру
- Д) Партия мүшесі болу
- Е) Қызмет түрін еркін таңдау

62. Сынақ мерзімі белгіленеді

- А) Үш айдан аспайтын мерзімге
- В) Бір ай мерзімге
- С) Екі айдан аспайтын мерзімде
- Д) Екі апта мерзімге
- Е) Орнатылмайды

63. Кәмелетке толмағандар үшін заңда белгіленген бір апталық жұмыс уақытының ұзақтығы:

- А) 36 сағат
- В) 40 сағат
- С) 41 сағат
- Д) 28 сағат
- Е) 15 сағат

64. Мәжбүрлі түрде жұмысқа тартуға мүмкіндік беретін мән-жай:

- А) Төтенше жағдайлар кезінде
- В) Қызметкерлердің өзара келісімі бойынша
- С) Отбасылық мән-жайлар бойынша
- Д) Кез келген уақытта
- Е) Дұрыс жауап жоқ

65. Түнгі сағат 12-де көршілер қабырғаны бұрғылай бастады. Олар қандай құқық бұзушылыққа жол береді?

- А) Әкімшілік теріс қылық
- В) Қылмыстық құқық бұзушылық
- С) Тәртіптік теріс қылық
- Д) Халықаралық қылмыс
- Е) Азаматтық құқық бұзушылық

66. Сот әрекетке қабілетсіз деп таныған кәмелетке толмаған адамдарды қорғаудың құқықтық нысаны:

- А) Қамқоршылық
- В) Патронат
- С) Шарт
- Д) Отбасы
- Е) Неке

67. Кәмелетке толмаған адамдардың құқықтық жағдайы

- А) Балалық шақ
- В) Патронат

- C) Қамқоршылық
- D) Алимент
- E) Отбасы

68. Қазақстан заңы бойынша неке жасы

- A) 18 жас
- B) 15 жас
- C) 19 жас
- D) 17 жас
- E) 14 жас

69. Азаматтың өз іс-әрекеттерімен азаматтық құқықтарды алу және жүзеге асыру, өзі үшін азаматтық міндеттер құру және оларды орындау қабілеті

- A) Азаматтық іс-әрекет қабілеттілігі
- B) Құқық қабілеттілігі
- C) Заңды тұлға
- D) Субъект
- E) Нысан

70. Қайтыс болғаннан кейін өз мүлкіне билік ету бойынша өз еркін білдіру

- A) Өсиет
- B) Шарт
- C) Тапсырма
- D) Кепілгер
- E) Беру

71. Кез келген уақытта өсиеттің күшін өзгерте немесе жоя алады:

- A) Өсиет қалдырушы
- B) Туысы
- C) Кепілгер
- D) Кепіл беруші
- E) Нотариус

72. Азаматтардың негізгі заңды қасиеттері:

- A) Құқық қабілеттілігі және әрекет қабілеттілігі
- B) Төлем қабілеттілігі
- C) Физикалық денсаулық
- D) Сайлау және сайлану мүмкіндігі
- E) Өз елінің патриоты болу

73. Жанама дауыс беру арқылы сайланатын мемлекеттік орган

- A) Сенат
- B) Мәжіліс
- C) Мәслихат
- D) Президент
- E) Конституциялық сот

74. Азаматтық-құқықтық нормалардың негізінде жатқан ең маңызды (бастама) идеялар

- A) Принциптер
- B) Критерийлер
- C) Формулалар
- D) Заңдар

Е) Фактілер

75. Құқыққабилеттілік туындайды:

- А) Туған сәттен бастап
- В) Әрекет қабилеттілігімен бірге
- С) 15 жастан бастап
- Д) 18 жастан бастап
- Е) Зейнеткерлік жасқа жеткенде

76. Толық қабилеттілік ... жастан қалыптасады.

- А) 18
- В) 14
- С) 16
- Д) 12
- Е) туғаннан бастап

77. Бір адамның өз атынан өкілдік ету үшін басқа адамға беретін жазбаша өкілеттігі:

- А) Сенімхат
- В) Қолхат
- С) Нормативтік акт
- Д) Мәміле
- Е) Келісім

78. Субъектінің өз қалауы бойынша мүлікті иелену, пайдалану және оған билік ету құқығы:

- А) Меншік құқығы
- В) Құқықсубъектілігі
- С) Құқықтық қабилеттілік
- Д) Құқықтық қатынас
- Е) Құқықтық әрекет

79. Әрекетке қабилетсіз адам:

- А) Ақыл есі кем
- В) Мүгедек
- С) Науқас
- Д) Апатқа ұшыраған
- Е) Сал ауруына шалдыққан

80. Адамның материалдық және рухани құндылықтарды құруға бағытталған қызметі:

- А) Еңбек
- В) Жұмыс берушінің актілері
- С) Еңбек қатынастары
- Д) Талаптар
- Е) Демалыс уақыты

81. Еңбек шартын жасасу үшін қажетті құжат:

- А) Жеке куәлік
- В) Бұрынғы жұмысынан анықтама
- С) Бұрынғы жұмысынан ұсыныс
- Д) Мүліктік жағдайы туралы анықтама
- Е) Жер комитетінен туралы анықтама

82. Адамның өз құндылығына деген ішкі сенімділігі, өзін-өзі бағалау сезімі
- A) Қадір қасиеті
  - B) Еңбекқорлық
  - C) Қоғамдық қызығушылық
  - D) Ұжымшылдық
  - E) Өзара Көмек
83. Қылмыс құрамының субъективті жағының белгісі:
- A) Кінәлігі
  - B) Әрекеті
  - C) Әрекетсіздік
  - D) Қылмыс құралы
  - E) Жазалану
84. Құқық бұзушылықтың негізгі түрлері
- A) Қылмыстар, теріс қылықтар
  - B) Қылмыстар мен жазалар
  - C) Құқық бұзушылықтар мен теріс қылықтар
  - D) Шағын және орташа ауыр
  - E) Ауыр және аса ауыр
85. Мемлекеттің негізгі заңы?
- A) Конституция
  - B) Қаулы
  - C) Нормативтік актілер
  - D) Жоба
  - E) Жарлық
86. Қазақстан Республикасындағы мемлекет басшысы:
- A) Президент
  - B) Жоғарғы Соттың Төрағасы
  - C) Федерация Кеңесінің Төрағасы
  - D) Мемлекеттік Думаның Төрағасы
  - E) Премьер-министр
87. Жалға алушы мен жалға беруші арасындағы қатынастарды реттейтін шарт:
- A) Жалдау шарты
  - B) Сыйға тарту шарты
  - C) Жүктерді тасымалдау шарты
  - D) Еңбек шарты
  - E) Сатып алу-сату шарты
88. Адам құқықтарының жалпыға бірдей декларациясы қабылданды:
- A) 1948 жылы
  - B) 1981 жылы
  - C) 2001 жыл
  - D) 2023 жылы
  - E) 2013 жылы
89. Басқа адамдарға риясыз қызмет ету және олардың игілігі үшін өздерінің жеке мүдделерін құрбан етуге дайын болу адамгершілік қағидасы:
- A) Альтруизм

- В) Индивидуализм
- С) Ұжымшылдық
- Д) Қоғамдық қызығушылық
- Е) Өзара көмек

90. Парламентке, жергілікті мәслихаттарға депутаттыққа кандидаттар ұсыну, саяси партиялар мен басқа да қоғамдық бірлестіктер құру құқығы қалай аталады?

- А) Саяси құқықтар
- В) Жеке құқықтар
- С) Адамдардың еркі
- Д) Жеке тұлғаның еркі
- Е) Азаматтық құқықтар

91. Жеке тұлғаның мемлекетпен тұрақты саяси-құқықтық байланысы:

- А) Азаматтық
- В) Құқықтар
- С) Адамдардың еркі
- Д) Тұлғаның еркі
- Е) Мемлекеттің еркі

92. Ата-анасының туған жеріне қарамастан олардың азаматтығымен азаматтықты айқындайтын қағидат:

- А) Қанына байланысты анықтау
- В) Туылған жеріне байланысты анықтау
- С) Ата-ананың еркі
- Д) Натурализация құқығы
- Е) Мемлекеттің еркі

93. Азаматтықты алу және жоғалту тәртібі қандай заңмен реттеледі?

- А) «Қазақстан Республикасындағы азаматтығы туралы» конституциялық заңмен
- В) Натурализация принципімен
- С) Қазақстан Республикасының Конституциясымен
- Д) Президент Жарлығымен
- Е) Үкімет Қаулыларымен

94. Ақпарат, тәжірибе, қабілеттер және қызмет нәтижелерімен алмасатын адамдардың, әлеуметтік топтардың, қауымдастықтардың өзара әрекеттесу процесі:

- А) Қарым қатынас
- В) Ой өрісі
- С) Пікір
- Д) Ауытқу
- Е) Фактілер

95. Қос азаматтығы бар адам:

- А) Бипатрид
- В) Монопатрид
- С) Полипатрид
- Д) Босқын
- Е) Сол мемлекеттің субъектісі

96. Судья сот төрелігін жүзеге асыруда тәуелсіз және тек Конституция мен заңға бағынады. Бұл қандай принципке сәйкес келеді?

- A) Құқықтық мемлекет қағидаты
- B) Міндеттілік принципі
- C) Плюрализм принципі
- D) Парламенттік мемлекет қағидаты
- E) Президенттік республика қағидаты

97. Қолданыстағы Конституция қабылданды:

- A) 1995 ж.
- B) 1993 ж.
- C) 2007 ж.
- D) 1998 ж.
- E) 2022 ж.

98. 1995 жылғы Конституцияның құрылымы:

- A) 9 бөлім және 99 бап
- B) 9 бөлім және 98 бап
- C) 11 бөлім және 99 бап
- D) 7 бөлім және 98 бап
- E) 11 бөлім және 98 бап

99. Азаматтардың денсаулық сақтау құқығы:

- A) Әлеуметтік құқық
- B) Азаматтық құқық
- C) Саяси құқық
- D) Азаматтардың міндеттері
- E) Экономикалық құқық

100. Қазақстан Республикасының бүкіл аумағында Қазақстан Республикасы Конституциясының үстемдігін қамтамасыз ететін Қазақстан Республикасындағы жоғары сот органы:

- A) Конституциялық сот
- B) Жоғарғы Сот
- C) Облыстық сот
- D) Сот Пленумы
- E) Мамандандырылған сот

101. Әлемнің көптеген елдерінде құқықтың негізгі көзін атаңыз

- A) Конституция
- B) Моральдық норма
- C) Діни мәтін
- D) Дәстүр
- E) Әдет-ғұрып

102. Азаматтардың мемлекет істерін басқаруға қатысу құқығы қалай аталады?

- A) Сайлауға қатысу құқығы
- B) Ар-ождан бостандығы құқығы
- C) Еңбек ету құқығы
- D) Сот арқылы қорғалу құқығы
- E) Еркін жүріп тұру құқығы

103. Қазақстан Республикасындағы ең жоғары сот органын атаңыз

- A) ҚР Жоғарғы Соты
- B) ҚР Конституциялық Кеңесі
- C) ҚР Жоғары Сот Кеңесі
- D) ҚР Бас прокуратурасы
- E) ҚР Әділет министрлігі

104. Адамды жануардан не ажыратады?

- A) Саналы мақсатты қызметі
- B) Тыныс алу қабілеті
- C) Инстинкттердің болуы
- D) Ортаға бейімделу
- E) Органикалық заттарды қолдану

105. Адамның биологиялық табиғаты ... көрінеді.

- A) физиологиялық қажеттіліктерінде
- B) тілінің болуында
- C) еңбек құралдарын жасай алуында
- D) еңбек етуінде
- E) мәдениетті жасауда

106. Адамның әлеуметтік табиғатының көрінісі қандай?

- A) қарым-қатынасқа түсу қабілеті
- B) ағзаның өсуі мен дамуы
- C) тамақтану және ұйқы
- D) зат алмасу
- E) инстинкттер

107. Адамды биоәлеуметтік болмыс ретінде зерттейтін ғылыми бағыт қалай аталады?

- A) Антропология
- B) Саясаттану
- C) Экономика
- D) Этика
- E) Эстетика

108. «Адамдағы әлеуметтік» ұғымы нені қамтиды?

- A) Шығармашылық
- B) Қан айналымы
- C) Өзін-өзі сақтау инстинкті
- D) Рефлекстер
- E) Биохимиялық процестер

109. Қандай қасиет адамға тән емес?

- A) Инстинктивті мінез-құлық
- B) Ойлау
- C) Еңбек құралдарын жасау
- D) Саналы мінез-құлық
- E) Моральдық таңдау

110. «Адам-биоәлеуметтік жаратылыс» деген қалай түсіндіріледі?

- A) Адамның биологиялық және әлеуметтік ерекшеліктері бар
- B) Адам табиғатта өмір сүреді
- C) Адамның инстинкттері басым

- Д) Адам тек биологиялық заңдар бойынша әрекет етеді
- Е) Адам толығымен қоғамға тәуелді

111. Адамды басқа тіршілік иелерінен қандай қабілет ажыратады?

- А) Ойлау
- В) Тітіркену
- С) Тыныс алу
- Д) Тамақтану
- Е) Қозғалыс

112. Сыйластық пен тану қажеттіліктің қандай түріне жатады?

- А) Әлеуметтік
- В) Биологиялық
- С) Экономикалық
- Д) Саяси
- Е) Моральдық

113. Жоғарыда айтылғандардың қайсысы адамның рухани саласын сипаттайды?

- А) Адамгершілік
- В) Ұйқы
- С) Тамақтану
- Д) Тыныс алу
- Е) Дене белсенділігі

114. "Тұлға" ұғымын анықтаңыз

- А) Әлеуметтік маңызды қасиеттері бар адам
- В) Адамның генетикалық ерекшеліктері
- С) Мінез ерекшеліктерінің жиынтығы
- Д) Ата-ана тәрбиесінің нәтижесі
- Е) Биологиялық табиғаттың белгісі

115. Тұлғаның қалыптасуын анықтайтын факторды атаңыз

- А) Әлеуметтік орта
- В) Терінің түсі
- С) Гендер
- Д) Темперамент
- Е) Биологиялық жас

116. Адамның даралығын не ажыратады?

- А) Мінездің, мінез-құлықтың, ойлаудың ерекше белгілері
- В) Интеллект деңгейі
- С) Білімі
- Д) Кәсіп түрі
- Е) Әлеуметтік мәртебе

117. Даралықтың көрінісіне қандай қасиет жатады?

- А) Ойлаудың өзіндік стилі
- В) Көбею қабілеті
- С) Бейімделу қабілеті
- Д) Қоғам нормаларына бағыну
- Е) Ережелерді сақтау

118. Адамды ерекше белгілердің тасымалдаушысы ретінде көрсететін терминді таңдаңыз

- A) Даралық
- B) Индивид
- C) Тұлға
- D) Қоғам
- E) Ұжым

119. Жеке тұлғаны әлеуметтендіру процесі мыналарды қамтиды

- A) Қоғамның нормалары мен құндылықтарын игеру
- B) Биологиялық даму
- C) Зат алмасуы
- D) Сезім мүшелерінің дамуы
- E) Ағзаның өсуі

120. Жеке ерекшелікті адам қалай аталады?

- A) Уникум
- B) Типтік
- C) Жаппай
- D) Жеке
- E) Тұрақты

121. Адамның іс-әрекеті қоршаған әлеммен өзара әрекеттесудің саналы түрі болып табылады, бұл саналық қасиет неден көрінеді?

- A) Саналы және мақсатты әрекеттердің жиынтығы
- B) Тек биологиялық белсенділік
- C) Инстинкттер жиынтығы
- D) Рефлекстердің нәтижесі
- E) Еліктеуге негізделген қызметі

122. Адам мен жануарлардың мінез құлқының негізгі айырмашылығы

- A) Мақсаттылығы және зейінділігі
- B) Іс-әрекеттің циклдік сипаты
- C) Табиғатқа бейімделуі
- D) Сыртқы әсердің болуы
- E) Инстинктивтілік

123. Жоғарыда айтылғандардың қайсысы адам қызметінің айрықша белгісі екенін көрсетіңіз

- A) Зейін мен мақсат
- B) Инстинктивтілік
- C) Биологиялық белсенділік
- D) Рефлекторлық
- E) Басқаларға еліктеу

124. Адам қызметінің құрылымы

- A) Мақсат, мотив, әрекеті, нәтиже
- B) Есте сақтау, ойлау, сөйлеу
- C) Инстинкт, рефлекс, әдет
- D) Шабыт, тілек, қызығушылық
- E) қажеттіліктер, тілектер, сезімдер

125. Адамның іс-әрекетінің себебі неде болуы мүмкін?

- A) Қажеттіліктен туындаған ынталандыру
- B) Мақсатқа жету құралы
- C) Жұмыс нәтижесі
- D) Әрекеттер тізбегі
- E) Нақты міндет

126. Қызметтің қай түрі қоршаған әлемді тануға бағытталған?

- A) Танымдық
- B) Еңбек
- C) Коммуникативті
- D) Әрекетсіздік
- E) Практикалық

127. Бала конструктор ойнайды, өзінше болашақтағы қаланы елестетеді, достарымен байланысады және олардың арасында әрбірінің ролін анықтайды. Баланың әрекеті қандай қызмет түрінің мысалы?

- A) Шығармашылық қызмет
- B) Өндірістік еңбек
- C) Діни дағды
- D) Әлеуметтік роль
- E) Құқықбұзушылық

128. Алексей күні бойы құрылысшының міндеттерін атқарды: ол кірпіш төсейді, ерітіндіні илейді, жұмыс нұсқауларын қатаң сақтайды. Бұл әрекет келесіні сипаттайды...

- A) Еңбек
- B) Ойын
- C) Қарым қатынас жасау
- D) Білім алу
- E) Тану

129. Тарих сабағында әңгіме барысында оқушылар өткен оқиғалар туралы пікір алмасты, мұғалімді тыңдап, сұрақтар қойды. Бұл әрекет қай қызмет түрінің мысалы

- A) Коммуникативтік
- B) Практикалық
- C) Ойын
- D) Эстетикалық
- E) Творчестволық

130. Еңбек қызмет түрі ретінде ... бағытталған.

- A) материалдық және рухани құндылықтарды жасау үшін
- B) дем алуға
- C) ойын нысанына
- D) тек эмоциялық қасиетке
- E) тапсырманы тез орындауға

131. Іс-әрекеттің мотивін анықтайды

- A) Қажеттілік немесе қызығушылық
- B) Оқиғалар барысы
- C) Соңғы нәтиже
- D) Сыртқы фактор
- E) Есептерді өздігінен шешу

132. Көптеген елдерде қазіргі заманғы құқықтың негізгі қайнар көзі қандай?

- A) заңдар мен Конституциялар
- B) Әдет-Ғұрыптар
- C) Табиғи нормалар
- D) Этикалық кодекстер
- E) Дәстүрлер

133. Танымдық қызметке қатысты қызмет түрін атаңыз

- A) Оқу
- B) Іскерлік
- C) Еңбек
- D) Әлеуметтік
- E) Бос уақыт

134. Танымдық қызметтегі негізгі әдісті атаңыз

- A) Бақылау
- B) Ойын
- C) Байланыс
- D) Еңбек
- E) Демалыс

135. Сайлау округі бұл

- A) Дауыс беру өткізілетін аумақтық бірлік
- B) Сайлауды ұйымдастыратын орган
- C) Сайлауды реттейтін арнайы заң
- D) Дауыстарды санауға арналған орын
- E) Сайлауға қатысатын партиялар тобы

136. Адам үшін мотивацияның негізгі көзі

- A) Жеке мүдделер мен қажеттіліктер
- B) Қоғамдық пікір
- C) Қаржылық ынталандыру
- D) Сыртқы жағдайлар
- E) Әлеуметтік нормалар

137. Мотивация туралы дұрыс анықтаманы таңдаңыз

- A) Мотивация жағдайға байланысты өзгеруі мүмкін
- B) Мотивация әрқашан материалдық игіліктермен байланысты
- C) Барлық адамдардың мотивациясы бірдей
- D) Мотивация еңбек өнімділігіне әсер етпейді
- E) Мотивация әрқашан жағымды

138. Құқық туралы тұжырымдаманың қайсысы дұрыс?

- A) Құқық қоғамның тарихи жағдайлары мен қажеттіліктеріне байланысты өзгеруі мүмкін
- B) Құқық әрқашан қоғамның моральдық нормаларына сәйкес келеді
- C) Құқық әрқашан азаматтар арасындағы жеке қатынастарды ғана реттейді
- D) Құқық мемлекетпен байланысты емес
- E) Құқық тек демократиялық елдерде бар

139. Әлеуметтену - бұл процесс:

- A) Әлеуметтік нормалар мен рөлдерді игеру
- B) Генетикалық мұра
- C) Білім

- Д) Тану және құрмет
- Е) Адамның мінез-құлқы

140. Тұлғаны қалыптастыру процесі қалай аталады?

- А) Әлеуметтену
- В) Эволюция
- С) Революция
- Д) Даралау
- Е) Саясаттандыру

141. «Адам қоғамдық жануар» деп айтқан философ

- А) Аристотель
- В) Платон
- С) Гегель
- Д) Кант
- Е) Декарт

142. Қоғам бұл

- А) Бірлескен өмірмен біріктірілген адамдар жиынтығы
- В) Барлық өсімдіктер мен жануарлардың жиынтығы
- С) Тек мемлекет
- Д) Саяси жүйенің бөлігі
- Е) Адамның табиғи тіршілік ету ортасы

143. Адамдар арасындағы саяси, экономикалық және мәдени қатынастарды қамтитын тұтас жүйе

- А) Қоғам
- В) Табиғат
- С) Халық
- Д) мемлекет
- Е) Технология

144. Қоғамның тұтас жүйе ретіндегі негізгі белгісі бұл

- А) Элементтерінің құрылымдылығы мен өз ара байланысы
- В) Оқшаулық
- С) Кездейсоқтық
- Д) Хаотикалық
- Е) Адамнан толық тәуелсіздік

145. Әлеуметтік ұтқырлық

- А) Қоғамдық құрылымдағы адамның алатын орнының өзгеруі
- В) Ауа массасының орын ауыстыруы
- С) Өндірістің жетілуі
- Д) Көлікте жүру
- Е) Желілік сымтетіктердің дамуы

146. Қоғамның саяси саласының элементі

- А) Мемлекет
- В) Мектеп
- С) Театр
- Д) Завод
- Е) Отбасы

147. Қоғамның рухани саласының негізгі элементін ата

- A) Ғылым
- B) Өндірістік үрдістер
- C) Отбасы қатынастар
- D) Қаржы
- E) Саяси партия

148. Мария қоғам жүйесі құрамына не кіретіні туралы білгісі келді. Ұстазы қоғам өз ара қарым қатынаста болатын бөлімдерден тұратындығын түсіндірді. Қай берілген жауап дұрыс деп есептейсіз?

- A) Адамдар, олардың қызметі мен әлеуметтік институттар
- B) Тек табиғат
- C) Табиғат пен техника
- D) Тек мемлекет
- E) Тек саяси құрылымдар

149. Экономикада оқушылар қоғам өмірінің қай саласына тауар өндірісі жататынын талқылады. Қай нұсқа дұрыс?

- A) Экономикалық
- B) Саяси
- C) Рухани
- D) Құқықтық
- E) Идеологиялық

150. Әлеуметтану сабағында қандай институттар тәрбиімен, әлеуметтік қолдаумен және ұрпақтар арасындағы өзара іс-қимылмен байланысты екендігі талқыланды. Отбасы қай салаға жатады?

- A) Әлеуметтік
- B) Саяси
- C) Рухани
- D) Құқықтық
- E) Идеологиялық

151. Қоғам құрылымын зерттеу барысында ұстаз қоғамдық өмірдің салалары туралы айтты. Дәстүрлі түрде қоғам құрылымында қандай төрт сала ерекшеленеді?

- A) Саяси, экономикалық, әлеуметтік, рухани
- B) Тарихи, географиялық, математикалық, биологиялық
- C) Қаржылық, мемлекеттік, құқықтық, экономикалық
- D) Білім беру, медициналық, спорттық, мәдени
- E) Нарықтық, ауылдық, қалалық, өнеркәсіптік

152. Неліктен отбасы қоғамның маңызды элементі болып саналады?

- A) Адамның әлеуметтенуін қамтамасыз етеді
- B) Тауарлар шығарады
- C) Мемлекеттің шекарасын айқындайды
- D) салықтарды реттейді
- E) Экономиканы басқарады

153. Білім беру саласының қоғамның құрамдас бөлігі ретіндегі функциясы

- A) Білім мен дағдыларды беру
- B) Өндірісті реттеу

- С) Құқықтық базаны қалыптастыру
- Д) Сыртқы саясатты жүргізу
- Е) Экономиканы басқару

154. Қоғамның рухани саласын басқа салалардан не ажыратады?

- А) Моральдық құндылықтарды қалыптастыру
- В) Тауарлар өндірісі
- С) Мемлекетті басқару
- Д) Ақша қатынастары
- Е) Еңбекті ұйымдастыру

155. Қоғамдық қатынастар қалыптасады

- А) адамдар арасында
- В) жануарлар арасында
- С) табиғи объектілермен
- Д) мемлекет және табиғат
- Е) машина жасау процесінде

156. Қоғамдық қатынастардың маңызды элементтерін атаңыз

- А) Қарым-қатынас және ынтымақтастық мәдениетін дамыту
- В) Мемлекетте бағаны көтеру
- С) Қатаң тәртіпті енгізу
- Д) Еркін жүріп тұруға тыйым салу
- Е) бақылау санын көбейту

157. Этностың қауымдастықтың басқа түрлерінен айырмашылығы

- А) Ол ортақ тілдік, мәдени және тарихи белгілермен біріктірілген
- В) Оның мәдени белгілері жоқ
- С) Ол тек қалалық ортада болады
- Д) Тек саяси құрылым болып табылады
- Е) Тек діни салаға қатысты

158. Тайпа мен халықтың айырмашылығы

- А) Халыққа бірнеше тайпалар кіреді
- В) Тайпа саны жағынан көп
- С) Халықтың ортақ аумағы жоқ
- Д) Тайпа күрделі әлеуметтік құрылымға ие
- Е) Тайпа тек жазбаша тілді қолданады

159. Этностың қалыптасуындағы негізгі маңызды белгі

- А) Шығу тегі мен мәдени дәстүрлерінің ортақтығы
- В) Экономикалық қуаттылық
- С) Ортақ дін
- Д) Саяси жүйе
- Е) Армияның болуы

160. Мемлекеттің міндетті белгісі

- А) Аумағы
- В) Мәдениеті
- С) Саяси партия
- Д) Дін
- Е) Білім

161. Азамат сотқа өз құқықтарының бұзылуына шағымданады. Бұл жағдайда мемлекеттің қандай қызметі жүзеге асырылады?

- A) Құқық қорғау
- B) Әлеуметтік
- C) Экономикалық
- D) Тәрбиелік
- E) Идеологиялық

162. Президент сайлауын өткізу-бұл көрініс ... мемлекеттің функциясы.

- A) саяси
- B) әлеуметтік
- C) экономикалық
- D) тәрбиелік
- E) идеологиялық

163. Демократиялық мемлекеттің сипаттамасын анықтаңыз

- A) Заңның үстемдігі және азаматтардың басқаруға қатысуы
- B) Бір адамның қолында барлық билікті орталықтандыру
- C) Сайлаудың болмауы
- D) Діни басқару
- E) Мемлекеттік ақпараттың жабықтығы

164. Мемлекеттегі демократияның жоғары деңгейін сипаттайтын белгіні атаңыз

- A) Еркін сайлау және биліктің бөлінуі
- B) Бір партияның монополиясы
- C) Парламенттің жабық отырыстары
- D) Оппозицияның болмауы
- E) Тек бір дінді қолдау

165. Мемлекет басшысының сайлануын және оның өкілеттіктерін мерзімімен шектеуді көздейтін мемлекет нысанын атаңыз

- A) Республика
- B) Монархия
- C) Теократия
- D) Олигархия
- E) Абсолютизм

166. Президент мемлекет басшысы және атқарушы биліктің басшысы болып табылатын басқару нысаны

- A) Президенттік республика
- B) Парламенттік республика
- C) Теократия
- D) Абсолютті монархия
- E) Конфедерация

167. Теократиялық мемлекеттің жалпы белгісін анықтаңыз

- A) Басқарудың негізін діни билік құрайды
- B) Биліктің бөлінуі
- C) Барлық лауазымдарды таңдау
- D) Толық діни бостандық
- E) Көп деңгейлі партиялық жүйе

168. Мемлекеттік құрылымның федеративті нысанының оң жағын анықтаңыз

- A) Басқарудағы өңірлердің ерекшеліктерін ескеру мүмкіндігі
- B) Билікті орталықтандыру және біркелкілік
- C) Аймақтық айырмашылықтардың болмауы
- D) Жергілікті өзін-өзі басқаруды жою
- E) Орталықта жылдам шешім қабылдау

169. Табиғат пен қоғамның айырмашылығы

- A) Стихиялық даму
- B) Еңбекке қабілеттілік
- C) Саналы қызмет
- D) Мәдениетті дамыту
- E) Ақпарат алмасу

170. Жоғарыда айтылғандардың қайсысы табиғатты ұтымсыз пайдаланудың салдары

- A) Экологиялық дағдарыс
- B) Биоәртүрліліктің артуы
- C) Қорықтар санының өсуі
- D) Өнімділікті арттыру
- E) Тұтыну деңгейін төмендету

171. Адамның экономикалық қызметінің негізі

- A) Өндіріс
- B) Демалыс
- C) Спорт
- D) Өнер
- E) Туризм

172. "Еңбек" ұғымының мәнін анықтаңыз

- A) Игіліктер жасауға бағытталған адам әрекеті
- B) Жер учаскесі
- C) Зауыт
- D) Ақша
- E) Табиғи ресурстар

173. Жалақы деген не?

- A) Еңбегі үшін ақы
- B) Жалға алу ақысы
- C) Капиталдан табыс
- D) Жер сатудан табыс
- E) Бизнестен табыс

174. Нарықтың негізгі белгісі

- A) Еркін бағаға көшу
- B) Орталықтандырылған басқару
- C) Жоспарлы бөлу
- D) Жеке меншіктің болмауы
- E) Мемлекеттік басқару

175. Тауарлар мен қызметтерді сатып алу және сату орны

- A) Базар

- В) Завод
- С) Көше
- Д) Банк
- Е) Склад

176. Неліктен бәсекелестік нарықтық қатынастардың маңызды элементі болып саналады?

- А) Өндірушілерді тауарлар мен қызметтерді жақсартуға ынталандырады
- В) Тұтынушылардың таңдауын шектейді
- С) Бағаның өсуіне ықпал етеді
- Д) Өнім сапасын төмендетеді
- Е) Сұранысты жояды

177. Меншік әлеуметтік-экономикалық мағынада

- А) заттардың белгілі бір адамдарға, ұйымдарға немесе мемлекетке тиесілі болуы
- В) тек мемлекетке тиесілі мүлік
- С) мүлікті иелену туралы заңдар жиынтығы
- Д) қоғамдық ресурстарды пайдалану
- Е) мұраға алынған кез келген мүлік

178. Жекешелендіру бұл

- А) Қоғамдық меншікті жеке меншікке айналдыру
- В) Азаматтардан мүлікті мемлекетке беру
- С) Меншік иелену құқығынан бас тарту
- Д) Халықтың тауарларды сатып алуы
- Е) Мемлекеттен субсидиялар алу

179. Қоғамның әлеуметтік құрылымы дегеніміз не?

- А) Әлеуметтік топтар мен олардың арасындағы қатынастардың тұрақты реттелген өзара әрекеті
- В) Барлық экономикалық процестердің жиынтығы
- С) Барлық саяси институттардың жиынтығы
- Д) Барлық заңдар мен нормалардың жиынтығы
- Е) Мемлекеттік органдардың жиынтығы

180. Қоғамның әлеуметтік құрылымына мыналар кіреді

- А) Әлеуметтік топтар, таптар, этностар
- В) Тек саяси партиялар
- С) Тек мәдени институттар
- Д) Тек мемлекеттік билік органдары
- Е) Тек экономикалық қатынастар

181. Отбасы қандай әлеуметтік топқа жатады?

- А) Шағын әлеуметтік топқа
- В) Үлкен әлеуметтік топқа
- С) Этникалық топқа
- Д) Кәсіби топқа
- Е) Саяси топқа

182. Әлеуметтік стратификацияға тән

- А) Қоғамның табыс, билік, білім және бедел деңгейіне қарай иерархиялық бөлінуі
- В) Азаматтардың толық теңдігі
- С) Адамдар арасындағы айырмашылықтардың болмауы

- Д) Қан байланысының мұрагерлік принципі
- Е) Рөлдерді кездейсоқ бөлу

183. Әлеуметтік ұтқырлыққа тән

- А) Адамның бір әлеуметтік топтан екіншісіне ауысуы
- В) Қоғамды басқару нысаны
- С) Өндіріс тәсілі
- Д) Мәдени құндылықтарды беру
- Е) Мектепте тәрбиелеу

184. Тік әлеуметтік ұтқырлық

- А) Лауазымын жоғарылату
- В) Бір жас тобынан екіншісіне ауысу
- С) Бір діни топтан екіншісіне ауысу
- Д) Тұрғылықты жерін өзгерту
- Е) Хоббиді өзгерту

185. Әлеуметтік қамсыздандыру дегеніміз не?

- А) Мұқтаж азаматтар үшін мемлекетті қолдау жүйесі
- В) Мемлекет шекараларын қорғау жөніндегі бағдарлама
- С) Мемлекеттік лауазымдарды бөлу процесі
- Д) Салықты ұлғайту механизмі
- Е) Тек шенеуніктерді қаржылық қолдау

186. Әлеуметтік қамсыздандыру шаралары

- А) Зейнетақы, жәрдемақы, әлеуметтік төлемдер
- В) Бизнеске субсидиялар
- С) Ең жоғарғы жалақыны белгілеу
- Д) Тауарларға бағаны көтеру
- Е) Жаңа салықтарды енгізу

187. Мемлекет қарттық бойынша зейнетақы төленеді

- А) Белгілі бір жасқа толған және еңбек өтілі бар барлық азаматтарға
- В) Университетті бітіргендердің барлығына
- С) Тек депутаттарға
- Д) Барлық балаларға
- Е) Тек жұмыс істейтін азаматтарға

188. Жоғарыда айтылғандардың қайсысы әлеуметтік жәрдемақыға жатады

- А) Бала күтімі бойынша жәрдемақы
- В) Жалақы
- С) Банктегі несие
- Д) Бизнесстен түскен пайда
- Е) Жалдау ақысы

189. Қазақстан Республикасында зейнетақы есептейтін ұйым

- А) «Бірыңғай жинақтаушы зейнетақы қоры» АҚ
- В) Еңбек және әлеуметтік қорғау комитеті
- С) Халыққа қызмет көрсету орталығы
- Д) Каспий банкі
- Е) Халық банкі

190. Халықты әлеуметтік қорғау

- A) Ең төменгі өмір сүру деңгейін сақтау және мұқтаж жандарға көмектесу
- B) Салықтық бақылауды күшейту
- C) Халықаралық қатынастарды дамыту
- D) Тауарларға бағаны көтеру
- E) Саяси партияны құрылуы

191. «Мемлекеттік құрылымның нысаны» ұғымын анықтаңыз

- A) Мемлекеттік билікті аумақтық ұйымдастыру тәсілі
- B) Сайлауда дауыс беру әдісі
- C) Мемлекеттегі білім беру жүйесі
- D) Саяси партияның түрі
- E) Экономиканың даму деңгейі

192. Біртұтас мемлекетке тән ерекшелік

- A) Бірыңғай орталықтандырылған билік жүйе
- B) Толық дербестігі бар тәуелсіз субъектілер
- C) Бірнеше мемлекеттер одағы
- D) Орталық билігі жоқ мемлекет
- E) Шіркеу басқаратын мемлекет

193. Аталған елдерден унитарлық мемлекетті атаңыз

- A) Франция
- B) АҚШ
- C) Германия
- D) Швейцария
- E) Ресей

194. Конфедерация-бұл

- A) егеменді мемлекеттердің уақытша бірлестігі
- B) күшті орталықтандырылған мемлекет
- C) мұрагерлік билігі бар мемлекет
- D) жалпы Конституциясы бар Республикалар Одағы
- E) билік органдары жоқ мемлекет

195. Мына белгілердің қайсысы федералды мемлекетке тән

- A) Өзінің Конституциясы немесе жарғысы бар субъектілердің болуы
- B) Бірыңғай валютаның болмауы
- C) Өңірлік органдардың болмауы
- D) Аймақтардың орталыққа толық бағынуы
- E) Жалпы армия және полиция

196. Сайлау жүйесі-бұл

- A) Мемлекеттік органдарға сайлауды реттейтін нормалар мен рәсімдердің жиынтығы
- B) Билік органдарында шешім қабылдау тәсілі
- C) Сайлаушыларды өңірлер бойынша бөлу процесі
- D) Сайлау алдындағы үгітті ұйымдастыру
- E) Дауыстарды санау әдісі

197. Көпшілік сайлау жүйесі дегеніміз не?

- A) Жеңімпаз бір округтегі ең көп дауыс саны бойынша анықталатын жүйе
- B) Парламенттегі орындарды бөлу партиялардың санына байланысты болатын жүйе

- С) Жеңімпаз партиялардың ең көп саны бойынша айқындалатын жүйе
- Д) Сайлау жергілікті билік деңгейінде өткізілетін жүйе
- Е) Әр сайлаушы бірнеше кандидатқа дауыс бере алатын жүйе

198. Жеңімпаз әр саяси партия алған орындар санымен анықталатын сайлау жүйесі қалай аталады?

- А) Пропорционалды сайлау жүйесі
- В) Көпшілік сайлау жүйесі
- С) Аралас сайлау жүйесі
- Д) Тікелей дауыс беру
- Е) Жалпыға бірдей дауыс беру

199. Құқықтың әлеуметтік норма ретіндегі негізгі белгісі

- А) Мемлекеттік және азаматтық тұлғалардың орындауы үшін міндеттілік
- В) Жеке пікір білдіру мүмкіндігі
- С) Кез келген жағдайда таңдау және әрекет ету еркіндігі
- Д) Тек іс-әрекеттерді моральдық бағалау
- Е) Сыртқы бақылаудан еркіндік

200. Адамның азаматтығын растайтын құжат

- А) Азаматтың төлқұжаты
- В) Неке туралы куәлік
- С) Виза
- Д) Жұмыс орнынан анықтама
- Е) Емханадан анықтама

**201. Құқықтық нормаларды мораль нормаларынан түбегейлі ажырататын белгі**

- А) Мемлекет тарапынан белгіленіп, қорғалады
- В) Тарихи даму сипатына ие
- С) Қоғамдық санада қалыптасады
- Д) Адамдардың мінез-құлқын реттейді
- Е) Қоғамдық пікірге сүйенеді

202. Антикалық құқықтық ойдың ең жоғары жетістігі болып саналатын ауқымды Азаматтық құқық жинағы қай ежелгі өркениетте жасалды?

- А) Ежелгі Римде (Юстиниан дәуіріндегі Византияда)
- В) Ежелгі Мысырда
- С) Ежелгі Вавилонда
- Д) Ежелгі Грекияда
- Е) Ежелгі Қытайда

**203. Құқықты моральмен, саясатпен немесе экономикамен байланысы жоқ, тұйық иерархиялық таза нормалар жүйесі ретінде қарастырған құқықтық мектепті атаңыз**

- А) Нормативизм (позитивизм)
- В) Табиғи құқық теориясы
- С) Құқықтың тарихи мектебі
- Д) Маркстік теория
- Е) Психологиялық теория

**204. Қазіргі Қазақстанның құқықтық жүйесінде басым орын алатын құқық қайнар көзін атаңыз**

- A) Нормативтік-құқықтық акт
- B) Сот прецеденті
- C) Құқықтық доктрина
- D) Діни мәтін
- E) Халықаралық әдет-ғұрып

**205. Мемлекетке дейінгі (алғашқы қауымдық) кезеңде адамдардың мінез-құлқын реттеуші негізгі құрал не болды?**

- A) Әдет-ғұрыптар, тыйымдар және мононормалар
- B) Конституциялық заңдар
- C) Көсемдердің жазбаша жарлықтары
- D) Ақсақалдардың сот прецеденттері
- E) Тайпалардың халықаралық шарттары

**206. Құқықтың пайда болуын адамның психикасының дамуымен және белдеге бағыну қажеттілігімен ғана байланыстыратын теорияны атаңыз**

- A) Психологиялық теория
- B) Теологиялық теория
- C) Органикалық теория
- D) Қоғамдық шарт теориясы
- E) Күштеу теориясы

**207. Қазақстан Республикасының Конституциясына сәйкес азаматтық туралы заңнаманың сөзсіз негізделетін қағидатын анықтаңыз**

- A) Қазақстан азаматының басқа мемлекеттің азаматтығын тануға жол бермеу
- B) Экономикалық келісімшарт болған жағдайда қос азаматтыққа рұқсат беру
- C) Тұрақты тұруға шетелге кеткен кезде азаматтықтан автоматты түрде айыру мүмкіндігі
- D) Шетел азаматымен некеде тұрған азаматтардың құқықтарын шектеу
- E) Кәмелетке толған кезде ата-анасының азаматтығынан міндетті түрде бас тарту

**208. Қазақстан Республикасының азаматтығына қабылдау, азаматтықты қалпына келтіру және азаматтықтан шығу мәселелері бойынша түпкілікті шешім қабылдайтын мемлекеттік орган**

- A) Қазақстан Республикасының Президенті
- B) Қазақстан Республикасының Ішкі істер министрлігі
- C) Қазақстан Республикасының Парламенті
- D) Қазақстан Республикасының Конституциялық Соты
- E) Қазақстан Республикасының Сыртқы істер министрлігі

**209. Қазақстан Республикасының азаматтығын жоғалтуды мемлекеттік органдар автоматты түрде тіркейтін негізді атаңыз**

- A) Қазақстан азаматының басқа мемлекеттің азаматтығын алуы
- B) Ел аумағында жол қозғалысы ережелерін бұзуы
- C) Республикадан тыс жерде шетел азаматымен некеге тұруы
- D) Үш айдан астам уақыт үздіксіз шетелде туристік сапарда болуы
- E) Шетелдік жеке коммерциялық компанияға жұмысқа орналасуы

**210. Қазақстан Республикасының құқықтық жүйесі өзінің негізгі сипаттамалары, құқық қайнар көздерінің құрылымы және салаларға бөлінуі бойынша қай құқықтық отбасыға жатады?**

- A) Романо-германдық құқықтық отбасыға (континенттік құқық)
- B) Англо-саксондық құқықтық отбасыға (жалпы құқық)

- С) Мұсылмандық құқықтық отбасыға (діни құқық)
- Д) Дәстүрлі құқықтық отбасыға (әдет-ғұрып құқығы)
- Е) Социалистік құқықтық отбасыға

**211. Қазақстан Республикасының бүкіл аумағында ең жоғары заңдық күші бар және елдің бүкіл құқықтық жүйесінің негізі болып табылатын нормативтік-құқықтық актіні атаңыз**

- А) Қазақстан Республикасының Конституциясы
- В) Қазақстан Республикасының конституциялық заңы
- С) Қазақстан Республикасы Президентінің Жарлығы
- Д) Қазақстан Республикасының Азаматтық кодексі
- Е) Қазақстан Республикасы Үкіметінің қаулысы

**212. Қазақстан Республикасы ратификациялаған халықаралық шарттардың елдің құқықтық жүйесіндегі орны**

- А) ҚР заңдарынан басым күшке ие және тікелей қолданылады (заң шығаруды талап ететін жағдайларды қоспағанда)
- В) Қазақстан Республикасының Конституциясынан жоғары тұрады
- С) Заңға тәуелді актілермен (Үкімет қаулыларымен) тең заңдық күшке ие
- Д) Елде мүлдем заңдар болмаған жағдайда ғана қолданылады
- Е) Тек ұсынымдық сипатқа ие және орындауға міндетті емес

**213. Қазақстан Республикасының құқық жүйесіндегі қатысушылардың ерік теңдігі мен мүліктік дербестігіне негізделген мүліктік және соған байланысты жеке мүліктік емес қатынастарды реттейтін құқық саласын анықтаңыз**

- А) Қазақстан Республикасының азаматтық құқығы
- В) Қазақстан Республикасының әкімшілік құқығы
- С) Қазақстан Республикасының қылмыстық құқығы
- Д) Қазақстан Республикасының конституциялық құқығы
- Е) Қазақстан Республикасының еңбек құқығы

214. Қазақстан Республикасының құқықтық жүйесіндегі Конституция нормаларына ресми түсіндірме беретін және заңдардың елдің Негізгі заңына сәйкестігін тексеретін жалғыз орган

- А) Қазақстан Республикасының Конституциялық Соты
- В) Қазақстан Республикасының Жоғарғы Соты
- С) Қазақстан Республикасының Әділет министрлігі
- Д) Қазақстан Республикасының Бас прокуратурасы
- Е) Қазақстан Республикасы Парламентінің Мәжілісі

**215. Елдің қолданыстағы Конституциясының 1-бабына сәйкес Қазақстан Республикасының ең жоғары құндылықтары болып табылады**

- А) Адам, оның өмірі, құқықтары мен бостандықтары
- В) Мемлекеттік шекаралар, экономикалық өсім және өнеркәсіп
- С) Идеологиялық әралуандылық, саяси партиялар және цензура
- Д) Халықаралық шарттар, ұлттық қорлар және алтын қоры
- Е) Атқарушы, заң шығарушы және сот билігі тармақтары

**216. Қазақстан Республикасы Конституциясының оның нормалары елдегі барлық өзге заңдар мен нормативтік актілерден басым болатынын білдіретін қасиеті қалай аталады?**

- А) Ең жоғары заңдық күш

- В) Формальды айқындылық
- С) Құқықтың сабақтастығы
- Д) Идеологиялық плюрализм
- Е) Шектеулі қолданылу

**217. ҚР Конституциясындағы азаматтардың негізгі міндеттері туралы бөлімге сәйкес, республика азаматтарының қасиетті парызы мен міндеті болып табылады**

- А) Қазақстан Республикасын қорғау
- В) Жоғары білімді уақтылы алу
- С) Саяси партияларға міндетті түрде мүше болу
- Д) Кәсіпкерлік қызметпен айналысу
- Е) Соттардың қызметіне тұрақты бақылау жүргізу

**218. Қазақстан Республикасы өз Конституциясына сәйкес мемлекеттік құрылыс нысаны бойынша қандай мемлекет болып табылады?**

- А) Унитарлық
- В) Федеративтік
- С) Конфедеративтік
- Д) Монархиялық
- Е) Коалициялық

**219. Қазақстан Республикасы азаматтарының мемлекеттік органдарға сайлау және сайлану, сондай-ақ референдумдарға қатысу жөніндегі конституциялық құқығы пайда болатын ең төменгі жас мөлшерін атаңыз**

- А) 18 жас
- В) 14 жас
- С) 16 жас
- Д) 20 жас
- Е) 21 жас

220. Қазақстан Республикасы азаматының заңды түрде иеленген кез келген мүлікті иеленуге, пайдалануға және оған билік етуге заңдық мүмкіндік беретін конституциялық құқығы

- А) Жеке меншік құқығы
- В) Еңбек ету бостандығына құқық
- С) Жеке бас бостандығына құқық
- Д) Сөз бостандығына құқық
- Е) Сот арқылы қорғалу құқығы

**221. Қазақстан Республикасы азаматтарының Негізгі заңның 35-бабында бекітілген және әр адамның мемлекет алдындағы борышы деп танылатын конституциялық міндеті**

- А) Заңда белгіленген салықтар мен алымдарды төлеу
- В) Кәсіптік одақтарға міндетті түрде мүше болу
- С) Жоғары кәсіби білім алу
- Д) Саяси партиялардың қызметіне қатысу
- Е) Қайырымдылық шараларын өткізу

**222. Кәмелетке толған азаматтардың ата-аналарына қатысты конституциялық міндеті**

- А) Еңбекке жарамсыз жасында қамқорлық жасау міндеті
- В) Ата-анасының барлық коммуналдық шығындарын толық төлеу міндеті

- С) Ата-анасымен бір елді мекенде бірге тұру міндеті
- Д) Ата-анасының кәсіби дәстүрін жалғастыру міндеті
- Е) Өз табыстары туралы ай сайын ата-анасына есеп беру міндеті

223. Қазақстандағы бүкілхалықтық дауыс беруді ұйымдастыру, референдумдарды дайындау және өткізу тәртібін реттейтін нормативтік-құқықтық акт

- А) «Республикалық референдум туралы» ҚР Конституциялық заңы
- В) ҚР Қылмыстық кодексі
- С) ҚР Әкімшілік рәсімдік-процестік кодексі
- Д) ҚР Үкіметінің сайлау туралы қаулысы
- Е) ҚР Азаматтық кодексі

**224. Республикалық референдум тағайындау туралы шешім қабылдауға айрықша құқығы бар лауазымды тұлға**

- А) Қазақстан Республикасының Президенті
- В) Қазақстан Республикасының Премьер-Министрі
- С) ҚР Парламенті Мәжілісінің Төрағасы
- Д) ҚР Жоғарғы Сотының Төрағасы
- Е) ҚР Бас Прокуроры

**225. Республикалық референдум тағайындау туралы шешім қабылдауға айрықша құқығы бар лауазымды тұлға**

- А) Қазақстан Республикасының Президенті
- В) Қазақстан Республикасының Премьер-Министрі
- С) ҚР Парламенті Мәжілісінің Төрағасы
- Д) ҚР Жоғарғы Сотының Төрағасы
- Е) ҚР Бас Прокуроры

**226. Қазақстан Республикасының қолданыстағы Конституциясы қашан қабылданды?**

- А) 1995 жылғы 30 тамы
- В) 1991 жылғы 16 желтоқсан
- С) 1990 жылғы 25 қазан
- Д) 1993 жылғы 28 қаңтар
- Е) 2022 жылғы 5 маусым

227. Қазақстан Республикасының алғашқы Конституциясы қашан қабылданды?

- А) 1993 жылғы 28 қаңтар
- В) 1991 жылғы 16 желтоқсан
- С) 1990 жылғы 25 қазан
- Д) 1993 жылғы 28 қаңтар
- Е) 2022 жылғы 5 маусым

**228. Қазақстан Республикасының жаңа Конституциясы қашан қабылданды?**

- А) 2026 жылғы 15 наурыз
- В) 1991 жылғы 16 желтоқсан
- С) 1990 жылғы 25 қазан
- Д) 1993 жылғы 28 қаңтар
- Е) 2022 жылғы 5 маусым

**229. Саяси биліктің басты белгісі**

- А) Қоғамның мінез-құлқына нормалар мен шешімдер арқылы ықпал ету мүмкіндігі

- В) Көшбасшының жеке танымалдығы
- С) Экономикалық байлық
- Д) Мәдени ықпал
- Е) Діни бедел

**230. Саяси институттарға қай элемент жатады?**

- А) Мемлекет
- В) Отбасы
- С) Мектеп
- Д) Спорт клубы
- Е) Діни қауымдастық

231. Саяси жүйе дегеніміз не?

- А) Саяси институттар мен қатынастардың жиынтығы
- В) Экономикалық кәсіпорындардың жиынтығы
- С) Нормалар мен дәстүрлердің жиынтығы
- Д) Мәдени құндылықтардың жиынтығы
- Е) Білім беру мекемелерінің жиынтығы

**232. Мемлекеттің саяси жүйедегі негізгі қызметі**

- А) Қоғамды басқару және тәртіпті қамтамасыз ету
- В) Ойын-сауық қызметі
- С) Сәнді бақылау
- Д) Тауар өндіру
- Е) Өнерді қалыптастыру

233. Саяси қызметке не жатады?

- А) Сайлауға қатысу
- В) Фильм көру
- С) Спортпен айналысу
- Д) Кітап оқу
- Е) Тауар сатып алу

234. Қоғамның саяси ұйымының негізгі элементін атаңыз

- А) Мемлекет
- В) Отбасы
- С) Дін
- Д) Білім беру
- Е) Экономика

**235. Саяси қатынастар дегеніміз не?**

- А) Азаматтар мен мемлекет арасындағы билікке байланысты қатынастар
- В) Сатып алушы мен сатушы арасындағы қатынастар
- С) Достық қатынастар
- Д) Отбасылық қатынастар
- Е) Оқу үдерісіндегі қатынастар

**236. Мемлекетке тән белгі қайсы?**

- А) Егемендік
- В) Ерiкті түрде кіру
- С) Заңдардың болмауы
- Д) Аумақтың болмауы

Е) Биліктің болмауы

**237. Саяси жүйенің қызметтеріне не жатады?**

- А) Билік пен ресурстарды бөлу
- В) Тамақ өндіру
- С) Табиғатты зерттеу
- Д) Өнер туындату
- Е) Халықты көңілдендіру

**238. Қай элемент саяси салаға жатпайды?**

- А) Тауар нарығы
- В) Билік
- С) Мемлекет
- Д) Саяси партиялар
- Е) Сайлау

**239. Саяси режим**

- А) Билікті жүзеге асырудың әдістері мен тәсілдерінің жиынтығы
- В) Экономикадағы өндіріс тәсілі
- С) Отбасылық қатынастар нысаны
- Д) Білім беру жүйесі
- Е) Мәдени дәстүр

**240. Демократияның негізгі белгісі**

- А) Саяси плюрализм
- В) Сөз бостандығына тыйым салу
- С) Биліктің толық орталықтандырылуы
- Д) Сайлаудың болмауы
- Е) Бірпартиялық жүйе

**241. Мемлекет — бұл**

- А) Белгілі бір аумақтағы саяси билікті ұйымдастыру нысаны
- В) Спорттық ұйым
- С) Экономикалық компания
- Д) Діни топ
- Е) Мәдени бірлестік

**242. Мемлекеттің ішкі қызметіне қайсысы жатады?**

- А) Қоғамдық тәртіпті сақтау
- В) Дипломатиялық қызмет
- С) Қорғаныс қызметі
- Д) Халықаралық сауда
- Е) Сыртқы саясат қызметі

**243. Қоғамға мемлекет тарапынан қатаң бақылау жүргізілетін режим қалай аталады?**

- А) Авторитарлық/тоталитарлық
- В) Демократиялық
- С) Либералдық
- Д) Парламенттік
- Е) Федеративтік

**244. Азаматтық қоғамның негізгі белгісін атаңыз**

- A) Тәуелсіз қоғамдық ұйымдардың болуы
- B) Мемлекеттің толық бақылауы
- C) Ұйымдардың болмауы
- D) Азаматтардың құқықтарының болмауы
- E) Бірпартиялық жүйе

**245. Саяси элита — бұл**

- A) Негізгі саяси шешімдер қабылдайтын адамдар тобы
- B) Кәсіпорын жұмысшылары
- C) Жоғары оқу орнының студенттері
- D) Журналистер
- E) Мемлекеттің барлық азаматтары

**246. Қазіргі Қазақстанда саяси элита қалай қалыптасады?**

- A) Сайлау, тағайындау және мансаптық өсу арқылы
- B) Тек мұрагерлік жолмен
- C) Кездейсоқ түрде
- D) Тек діни қағидалар бойынша
- E) Тек әскери қызмет арқылы

**247. Саяси партиялар — бұл**

- A) Билік үшін күресетін және сайлауға қатысатын ұйымдар
- B) Театр үйірмелері
- C) Спорт клубтары
- D) Қайырымдылық қорлары
- E) Білім беру мекемелері

**248. БАҚ-тың саясаттағы рөлі қандай**

- A) Қоғамдық пікір қалыптастыру және ақпараттандыру
- B) Тек ойын-сауық қызмет
- C) Тауар өндіріс
- D) Әскерді басқару
- E) Мемлекетті алмастыру

**249. Саяси идеология — бұл**

- A) Билік пен қоғам туралы көзқарастар жиынтығы
- B) Табиғат туралы ғылыми білімдер жүйесі
- C) Экономикалық теория
- D) Спорттық стратеги
- E) Заң кодексі

**250. Демократиялық құндылықтардың мысалы не болып табылады**

- A) Сөз бостандығы
- B) Сайлауға тыйым салу
- C) Цензур
- D) Бірпартиялық жүйе
- E) Құқықтарды шектеу

**251. Саяси процесс — бұл**

- A) Қоғамдағы саяси оқиғалар мен әрекеттердің жиынтығы
- B) Тауар өндіріс

- С) Білім беру жүйес
- Д) Экономикалық қызме
- Е) Мәдени іс-шаралар

252. Құқықтық мемлекеттің маңызды белгісін атаңы

- А) Заңның үстемдіг
- В) Бір партияның толық бақылау
- С) Заңдардың болмау
- Д) Сайлаудың болмау
- Е) Оппозицияға тыйым салу

253. Адам құқықтарын халықаралық қорғаудың негізі болып табылатын құжа

- А) Адам құқықтарының жалпыға бірдей декларацияс
- В) Париж шарт
- С) Версаль шарт
- Д) НАТО жарғыс
- Е) Маастрихт шарты

254. Адам құқықтарын қорғаудың халықаралық тетіктеріне не жатады

- А) БҰҰ және оның органдар
- В) Мектеп кеңестер
- С) Спорт федерациялар
- Д) Коммерциялық банкте
- Е) Саяси партиялар

255. Азаматтық қоғам — бұл

- А) Мемлекеттен тәуелсіз ұйымдар мен институттардың жиынтығ
- В) Әскери жүй
- С) Мемлекеттік органда
- Д) Сот жүйес
- Е) Саяси партия

256. Жергілікті өзін-өзі басқару — бұл

- А) Қалалық әкімдік пен мәслихатта
- В) Ел Парламент
- С) Президент
- Д) Со
- Е) Әскер

257. БАҚ-тың саясаттағы негізгі қызмет

- А) Қоғамдық пікір қалыптастыру және ақпараттандыр
- В) Тауар өндірі
- С) Әскерді басқар
- Д) Заң шығар
- Е) Сот билігі

258. Сайлау жүйесі — бұ

- А) Сайлауды өткізу және дауыстарды санау тәртібі
- В) Білім беру жүйес
- С) Экономикалық жүй
- Д) Сот жүйес
- Е) Әскери жүйе

259. Қазақстан Республикасында сайлауды ұйымдастырып, өткізетін мемлекеттік орган қайсы?

- A) Орталық сайлау комиссиясы
- B) Конституциялық Сот
- C) Парламент
- D) Жоғарғы Сот
- E) Авторитарлық

260. Сайлау жүйесінің түрін анықтаңыз

- A) Пропорционалды
- B) Феодалдық
- C) Әкімшілік
- D) Монархиялық
- E) Авторитарлық

261. Мажоритарлық жүйеге не тән

- A) Округ бойынша кандидат жеңіске жетед
- B) Дауыстар саны бойынша партия жеңед
- C) Сайлаусыз тағайында
- D) Дауыс берудің болмау
- E) Мұрагерлік бойынша таңдау

262. Көппартиялылық нені білдіреді

- A) Бірнеше саяси партиялардың болу
- B) Бір партияның болу
- C) Партиялардың болмау
- D) Сайлауға тыйым сал
- E) Монархия

263. Демократияға қандай партиялық жүйе тән

- A) Екіпартиялы немесе көппартиялы жүй
- B) Бірпартиялы жүй
- C) Партиясыз жүй
- D) Әскери жүй
- E) Кландық жүйе

264. Саяси процесс — бұл

- A) Саяси әрекеттер мен оқиғалардың жиынтығ
- B) Тауар өндірі
- C) Білім бер
- D) Спор
- E) Өнер

265. Саяси мәдениет — бұл

- A) Саяси білімдер, құндылықтар мен мінез-құлықтың жиынтығ
- B) Тамақтану мәдениет
- C) Білім бер
- D) Діни мәдениет
- E) Спорттық мәдениет

266. Саяси қатысудың мысалы не болып табылады

- A) Сайлауда дауыс бер
- B) Театрға бар
- C) Тамақ сатып ал
- D) Мектепте оқ
- E) Теледидар көру

267. Сайлау жүйесінің мақсатын анықтаңы

- A) Сайлау арқылы билік органдарын қалыптастыр
- B) Экономиканы басқар
- C) Халықты көңілдендір
- D) Білім бер
- E) Өндіріс

268. Әскери міндет дегеніміз не

- A) Азаматтардың әскери қызметті немесе оны алмастыратын қызметті атқару міндет
- B) Азаматтардың еңбек ету құқығы
- C) Білім алу құқығы
- D) Салық төлеу міндет
- E) Демалыс құқығы

269. Қандай жағдайда азамат баламалы азаматтық қызметтен өте алады

- A) Әскери қызметке қайшы келетін діни немесе жеке наным-сенімдеріне байланыст
- B) Ешқандай негізсіз өз қалауыме
- C) Тек жасына байланыст
- D) Тек денсаулық жағдайына байланысты
- E) Тек жұмыс берушінің шешімі бойынша

270. Салық төлеушінің міндеттеріне не жатады

- A) Заңда белгіленген салықтарды төле
- B) Зейнетақы ал
- C) Тегін білім ал
- D) Сайлауға қатыс
- E) Жәрдемақы алу

271. Салық төлеушінің құқығы

- A) Салықтар мен жеңілдіктер туралы ақпарат ал
- B) Мүлде салық төлеме
- C) Заңдарды өзгерт
- D) Мемлекетті басқар
- E) Судьяларды тағайындау

272. Қолайлы қоршаған ортаға құқы

- A) Экологиялық таза жағдайда өмір сүру құқығы
- B) Тегін тұрғын үй алу құқығы
- C) Шетелде демалу құқығы
- D) Білім алу құқығы
- E) Қару ұстау құқығы

273. Экологиялық құқықтарды қорғаудың заңды тәсілі қайсы

- A) Сотқа жүгін
- B) Заңдарды елеме
- C) Өз бетінше әрекет ет

- Д) Азаматтықтан бас тарт
- Е) Ережелерді бұзу

274. Экологиялық құқық бұзушылы

- А) Қоршаған ортаны ласта
- В) Ағаш отырғыз
- С) Қоқыс жина
- Д) Қалдықтарды сұрыпта
- Е) Суды үнемдеу

275. Азаматтық құқықтың субъектісі кім бола алады

- А) Жеке және заңды тұлғала
- В) Тек мемлеке
- С) Тек со
- Д) Тек полици
- Е) Тек әскер

276. Азаматтық құқық субъектілеріне не жатады

- А) Азаматтар мен ұйымда
- В) Тек мемлекеттік органда
- С) Тек кәсіпорында
- Д) Тек сотта
- Е) Тек халықаралық ұйымдар

277. Кәсіпкерлік қызмет — бұ

- А) Пайда табуға бағытталған дербес қызме
- В) Тегін жұмы
- С) Мектепте оқ
- Д) Әскери қызме
- Е) Мемлекеттік басқару

278. Кәсіпкерліктің қандай нысаны заңды тұлға болып табылады

- А) Жауапкершілігі шектеулі серіктесті
- В) Жеке кәсіпке
- С) Тіркелмеген жеке тұлғ
- Д) Мектеп үйірмес
- Е) Отбасы

279. Жеке кәсіпкерге тән ерекшелі

- А) Міндеттемелері бойынша бүкіл мүлкімен жауап беред
- В) Жауапкершілік көтермейд
- С) Мемлекет болып табылад
- Д) Бизнес жүргізе алмайд
- Е) Салықтан босатылған

280. Кәсіпкерлік қызметтің негізгі мақсат

- А) Пайда таб
- В) Азаматтарды оқыт
- С) Мемлекетті басқар
- Д) Шекараны қорға
- Е) Сайлау өткізу

281. Кәсіпкерлік қызметтің құқықтық режим  
А) Бизнесі тіркеу және салық заңнамасын сақта  
В) Заңдардың болмау  
С) Пайда табуға тыйым сал  
Д) Бақылаудың болмау  
Е) Ережесіз толық еркіндік

282. Мүліктік құқы  
А) Меншік құқығ  
В) Ар-намыс құқығ  
С) Атына құқы  
Д) Білім алу құқығ  
Е) Сөз бостандығы құқығы

283. Зияткерлік меншіктің объектісін атаңы  
А) Кітап немесе өнертабы  
В) Пәте  
С) Көлі  
Д) Ақш  
Е) Жер учаскесі

284. Мұрагерлік — бұ  
А) Мұра қалдырушы қайтыс болғаннан кейін мүліктің ауысу  
В) Білім ал  
С) Шарт жасас  
Д) Салық төле  
Е) Тауар сатып алу

285. Кім мұрагер бола алады  
А) Жеке және заңды тұлғала  
В) Тек сот  
С) Тек банк  
Д) Тек жұмыс беруші  
Е) Тек мемлекет

286. Азаматтың өз азаматтық құқықтарын қорғау тәсілін анықтаңыз  
А) Сотқа жүгіну  
В) Заңды елемей  
С) Шартты бұзу  
Д) Өз бетінше әрекет ету  
Е) Құқықтардан бас тарту

287. Ар-намыс пен қадір-қасиет дегеніміз не?  
А) Қоғамның адамға берген бағасы және өзін-өзі құрметтеу  
В) Материалдық құндылықтар  
С) Мүліктің түрі  
Д) Банктік шот  
Е) Шарт

288. Некені қиюды қандай құжат реттейді?  
А) Неке және отбасы кодексі  
В) Қылмыстық кодекс

- С) Еңбек кодексі
- Д) Салық кодексі
- Е) Әкімшілік кодекс

289. Некені қиюдың шарты

- А) Тараптардың ерікті келісімі
- В) Зейнеткерлік жасқа жету
- С) Жұмыстың болуы
- Д) Мүліктің болуы
- Е) Білім

290. Неке қашан бұзылуы мүмкін?

- А) Ерлі-зайыптылардың өтініші бойынша немесе сот арқылы
- В) Тек жұмыс берушінің шешімімен
- С) Тек мемлекет арқылы
- Д) Тек шіркеу арқылы
- Е) Ешқашан

291. Ақылы білім беру қызметі нені қамтиды?

- А) Қызмет ақысын төлеу негізіндегі оқу
- В) Тегін оқу
- С) Тек стипендиялар
- Д) Тек мемлекеттік гранттар
- Е) Тек онлайн ойындар

292. Жұмыспен қамту дегеніміз не?

- А) Азаматтардың жеке және қоғамдық қажеттіліктерін қанағаттандыруға байланысты қызметі
- В) Тек зауытта жұмыс істеу
- С) Тек оқу
- Д) Әскери қызмет
- Е) Тіркеусіз кәсіпкерлік

293. Жұмысқа орналасу деген не?

- А) Жұмысты іздеу және жұмысқа тұру процесі
- В) Білім алу
- С) Мүлік сатып алу
- Д) Салық төлеу
- Е) Емделу

294. Жұмысқа қабылдаудағы негізгі құжат

- А) Еңбек шарты
- В) Денсаулық паспорты
- С) Әскери билет
- Д) Банк анықтамасы
- Е) Аттестат

295. Еңбек шарты деген не?

- А) Жұмыс беруші мен қызметкер арасындағы жұмысты орындау туралы келісім
- В) Ауызша уәде
- С) Сатып алу-сату шарты
- Д) Отбасылық келісім

Е) Салық құжаты

296. Еңбек шартында міндетті түрде көрсетілетін шарт

- А) Қызметкердің еңбек функциясы
- В) Саяси көзқарастар
- С) Ұлты
- Д) Діни сенім
- Е) Отбасылық дәстүрлер

297. Еңбек шартының тараптары

- А) Қызметкер және жұмыс беруші
- В) Тек мемлекет
- С) Тек сот
- Д) Тек кәсіподақ
- Е) Тек банк

298. Әлеуметтік қорғау дегеніміз не?

- А) Халықты қолдау шараларының жүйесі
- В) Тауар өндіру
- С) Сайлау өткізу
- Д) Сот жұмысы
- Е) Әскер қызметі

299. Әлеуметтік қамсыздандыру жүйесіне не кіреді?

- А) Зейнетақы мен жәрдемақы төлеу
- В) Әскери қызмет
- С) Сауда
- Д) Саяси қызмет
- Е) Сот процесі

300. Еңбек дауы дегеніміз не?

- А) Қызметкер мен жұмыс беруші арасындағы келіспеушілік
- В) Сатушы мен сатып алушы арасындағы дау
- С) Отбасылық жанжал
- Д) Халықаралық қақтығыс
- Е) Саяси дау

301. Қоғамның негізгі белгісі қандай?

- А) Адамдардың бірлескен әрекеті
- В) Жануарлардың болуы
- С) Табиғи ресурстардың болуы
- Д) Орман аумағының ортақтығы
- Е) Климаттық жағдайлар

302. Адамдардың бірлескен әрекетінің тарихи қалыптасқан ұйымдасу формасы қалай аталады?

- А) Қоғам
- В) Мемлекет
- С) Халық
- Д) Тап
- Е) Отбасы

303. Дәстүрлі қоғамға тән белгі қайсы?  
А) Ауыл шаруашылығының басым болуы  
В) Ақпараттық технологиялардың дамуы  
С) Өнеркәсіптің басым болуы  
D) Әлеуметтік мобильділіктің жоғары болуы  
E) Демократияның дамуы
304. Адамдардың өзара әрекеттесуінің нәтижесі не болып табылады?  
А) Мәдениет  
В) Табиғат  
С) Климат  
D) Биология  
E) Экология
305. Адамдардың өзара әрекет тәсілдері мен бірлестік формаларының жиынтығы қалай аталады?  
А) Қоғам  
В) Саясат  
С) Экономика  
D) Мораль  
E) Ғылым
306. Қоғамның қай түрі өнеркәсіптің дамуына негізделген?  
А) Индустриялық  
В) Аграрлық  
С) Дәстүрлі  
D) Рулық  
E) Алғашқы қауымдық
307. Қоғамдық қатынастарға не жатады?  
А) Адамдар арасындағы қарым-қатынас  
В) Жанартаудың атқылауы  
С) Жыл мезгілдерінің ауысуы  
D) Планеталардың қозғалысы  
E) Өсімдіктердің өсуі
308. Қоғамның даму процесі қалай аталады?  
А) Қоғамдық прогресс  
В) Урбанизация  
С) Әлеуметтену  
D) Жаһандану  
E) Индустрияландыру
309. Адамзаттың жаһандық мәселесіне не жатады?  
А) Экологиялық дағдарыс  
В) Оқушылардың үлгерімі  
С) Жол құрылысы  
D) Үйлерді жөндеу  
E) Жалақының көтерілуі
310. Білім мен ақпаратқа негізделген қоғам қалай аталады?  
А) Ақпараттық қоғам

- B) Аграрлық қоғам
- C) Индустриялық қоғам
- D) Дәстүрлі қоғам
- E) Рулық қоғам

311. Әлеуметтік институт дегеніміз не?

- A) Қоғамдық өмірді ұйымдастырудың тұрақты формасы
- B) Спорт түрі
- C) Тарихи оқиға
- D) Табиғи құбылыс
- E) Биологиялық процесс

312. Отбасылық қатынастарды реттейтін әлеуметтік институт қайсы?

- A) Отбасы
- B) Дін
- C) Мемлекет
- D) Ғылым
- E) Әскер

313. Елдер мен халықтардың бірігу процесі қалай аталады?

- A) Жаһандану
- B) Әлеуметтену
- C) Урбанизация
- D) Жаңғырту
- E) Даралану

314. Қоғамдық прогрестің критерийі не болып табылады?

- A) Ғылым мен техниканың дамуы
- B) Мәдениеттің құлдырауы
- C) Халық санының азаюы
- D) Білімнің төмендеуі
- E) Жұмыссыздықтың өсуі

315. Жаңашылдықтар нәтижесіндегі қоғам өзгерісі қалай аталады?

- A) Реформа
- B) Дәстүр
- C) Регресс
- D) Қақтығыс
- E) Көші-қон

316. Қоғамның рухани саласына не жатады?

- A) Өнер
- B) Тауар өндіру
- C) Саяси сайлау
- D) Сауда
- E) Салықтар

317. Қоғамдық құрылыстың күрт өзгеруі қалай аталады?

- A) Революция
- B) Реформа
- C) Эволюция
- D) Урбанизация

Е) Интеграция

318. Өркениет дегеніміз не?

- А) Қоғам дамуының деңгейі
- В) Жабайы қоғам
- С) Биологиялық түр
- Д) Саяси партия
- Е) Мемлекет формасы

319. Қоғамның дамуына қандай фактор ықпал етеді?

- А) Ғылыми прогресс
- В) Оқшаулану
- С) Сауатсыздық
- Д) Қақтығыстар
- Е) Экономикалық дағдарыс

320. Қоғам өмірінің негізі не болып табылады?

- А) Материалдық игіліктерді өндіру
- В) Климат
- С) География
- Д) Өсімдіктер әлемі
- Е) Жануарлар әлемі

321. Адамды жануарлардан не ерекшелендіреді?

- А) Сана мен сөйлеу
- В) Инстинктер
- С) Тамақтану
- Д) Қозғалу
- Е) Көбею

322. Адамның ойлау қабілеті қалай аталады?

- А) Сана
- В) Инстинкт
- С) Рефлекс
- Д) Эмоция
- Е) Әдет

323. Тұлға дегеніміз кім?

- А) Әлеуметтік қасиеттердің иесі ретіндегі адам
- В) Кез келген адам
- С) Биологиялық тіршілік иесі
- Д) Бала
- Е) Жануар

324. Адамның әлеуметтік нормаларды меңгеру процесі қалай аталады?

- А) Әлеуметтену
- В) Бейімделу
- С) Урбанизация
- Д) Жаһандану
- Е) Көші-қон

325. Адамның биологиялық қажеттіліктеріне не жатады?

- A) Тамақ
- B) Қарым-қатынас
- C) Шығармашылық
- D) Білім алу
- E) Өзін-өзі жүзеге асыру

326. Жаңа нәрсе жасауға бағытталған адам әрекеті қалай аталады?

- A) Шығармашылық
- B) Ойын
- C) Оқу
- D) Еңбек
- E) Қарым-қатынас

327. Дүниетаным дегеніміз не?

- A) Әлем туралы көзқарастар жүйесі
- B) Адамның сыртқы келбеті
- C) Білім деңгейі
- D) Әлеуметтік мәртебе
- E) Материалдық жағдайы

328. Маслоу бойынша адамның ең жоғарғы қажеттілігі қандай?

- A) Өзін-өзі жүзеге асыру
- B) Тамақ
- C) Қауіпсіздік
- D) Ұйқы
- E) Демалыс

329. Адамның өзін-өзі тануы қалай аталады?

- A) Өзіндік сана
- B) Өзін-өзі тану
- C) Өзін-өзі бақылау
- D) Өзін-өзі бағалау
- E) Өзін-өзі тәрбиелеу

330. Оқушылар үшін жетекші әрекет түрі қандай?

- A) Оқу
- B) Еңбек
- C) Ойын
- D) Саясат
- E) Бизнес

331. Мінез дегеніміз не?

- A) Тұлғаның тұрақты қасиеттерінің жиынтығы
- B) Адамның сыртқы келбеті
- C) Көңіл-күй
- D) Эмоция
- E) Ес

332. Рухани қажеттіліктерге не жатады?

- A) Өнермен қарым-қатынас
- B) Тамақ
- C) Су

- D) Ұйқы
- E) Киім

333. Адамның ішкі дүниесі қалай аталады?

- A) Сана
- B) Биосфера
- C) Табиғат
- D) Инстинкт
- E) Рефлекс

334. Адам әрекетінің нәтижесі не болып табылады?

- A) Өнім
- B) Рефлекс
- C) Инстинкт
- D) Эмоция
- E) Әдет

335. Адамның өз іс-әрекетіне жауап беру қабілеті қалай аталады?

- A) Жауапкершілік
- B) Еркіндік
- C) Белсенділік
- D) Тәртіп
- E) Ерік

336. Талант дегеніміз не?

- A) Қабілеттің жоғары деңгейі
- B) Кездейсоқтық
- C) Әдет
- D) Инстинкт
- E) Эмоция

337. Тіл арқылы адамдардың қарым-қатынасы қалай аталады?

- A) Сөйлеу
- B) Еңбек
- C) Ойын
- D) Оқу
- E) Бақылау

338. Тұлғаның ең маңызды қасиеті қандай?

- A) Жауапкершілік
- B) Бойы
- C) Салмағы
- D) Жасы
- E) Сыртқы келбеті

339. Эмоциялар дегеніміз не?

- A) Адамның ішкі сезімдері
- B) Биологиялық процесс
- C) Әрекет түрі
- D) Әлеуметтік топ
- E) Құқықтық норма

340. Адамның тұлға болып қалыптасуына не көмектеседі?

- A) Әлеуметтену
- B) Оқшаулану
- C) Жалғыздық
- D) Инстинктер
- E) Тұқымқуалаушылық

341. Мәдениет дегеніміз не?

- A) Қоғам мен адамның даму деңгейі
- B) Тек өнер
- C) Табиғи орта
- D) Саяси жүйе
- E) Экономика

342. Рухани мәдениетке не жатады?

- A) Ғылым
- B) Зауыттар
- C) Машиналар
- D) Пайдалы қазбалар
- E) Ауыл шаруашылығы

343. Жақсылық пен жамандық туралы көзқарастар жүйесі қалай аталады?

- A) Мораль
- B) Құқық
- C) Саясат
- D) Экономика
- E) Ғылым

344. Дін дегеніміз не?

- A) Сенімге негізделген дүниетаным формасы
- B) Ғылыми білім
- C) Спорт түрі
- D) Экономикалық жүйе
- E) Саяси қозғалыс

345. Білім берудің қызметі не болып табылады?

- A) Білімді беру
- B) Тауар өндіру
- C) Сауда
- D) Мемлекетті басқару
- E) Қоғамдық тәртіпті қорғау

346. Өнер дегеніміз не?

- A) Шындықты шығармашылық тұрғыдан бейнелеу
- B) Өндіріс
- C) Саяси қызмет
- D) Заң шығару
- E) Сауда

347. Ғылыми білімдердің жиынтығы қалай аталады?

- A) Ғылым
- B) Дін

- C) Өнер
- D) Мораль
- E) Техника

348. Моральдық нормаларға не жатады?

- A) Адалдық пен әділдік
- B) Мемлекет заңдары
- C) Жол қозғалысы ережелері
- D) Салықтар
- E) Конституция

349. Білім алу процесі қалай аталады?

- A) Таным
- B) Еңбек
- C) Қарым-қатынас
- D) Ойын
- E) Бақылау

350. Ғылымның ерекшелігі неде?

- A) Дәлелдерге негізделуі
- B) Сенімге негізделуі
- C) Эмоцияларға негізделуі
- D) Дәстүрлерге негізделуі
- E) Әдет-ғұрыптарға негізделуі

351. Этикет дегеніміз не?

- A) Мінез-құлық ережелері
- B) Саяси бағдарлама
- C) Заң
- D) Дін
- E) Экономикалық жүйе

352. Бұқаралық мәдениетке не жатады?

- A) Поп-музыка
- B) Халық эпостары
- C) Симфониялық музыка
- D) Ғылыми еңбектер
- E) Философиялық трактаттар

353. Адамның өз іс-әрекетіне ішкі бағасы қалай аталады?

- A) Ар-ождан
- B) Заң
- C) Ғылым
- D) Құқық
- E) Дәстүр

354. Діннің басты белгісі қандай?

- A) Табиғаттан тыс күшке сену
- B) Ғылымилық
- C) Экономикалық пайда
- D) Саяси билік
- E) Заң шығару

355. Дәстүр дегеніміз не?

- A) Ұрпақтан ұрпаққа берілетін әдет-ғұрып
- B) Жаңалық енгізу
- C) Заң
- D) Ғылыми жаңалық
- E) Экономикалық реформа

356. Көркем шығармашылықтың нәтижесі не?

- A) Өнер туындысы
- B) Заң
- C) Ғылыми теория
- D) Экономикалық жоба
- E) Саяси бағдарлама

357. Мәдениетке баулу процесі қалай аталады?

- A) Әлеуметтену
- B) Индустрияландыру
- C) Урбанизация
- D) Көші-қон
- E) Жаһандану

358. Элитарлық мәдениетке не жатады?

- A) Опера
- B) Жарнама
- C) Телешоу
- D) Комикстер
- E) Поп-музыка

359. Адамгершілік нормалардың қайнар көзі не?

- A) Мораль
- B) Техника
- C) Биология
- D) География
- E) Экономика

360. Адамның рухани құндылықтарды жасау қабілеті қалай аталады?

- A) Шығармашылық
- B) Инстинкт
- C) Рефлекс
- D) Тұтыну
- E) Өндіріс

361. Экономика нені зерттейді?

- A) Адамдардың шаруашылық қызметін
- B) Табиғатты
- C) Саясатты
- D) Өнерді
- E) Дінді

362. Тауар дегеніміз не?

- A) Сату үшін өндірілген еңбек өнімі

- B) Кез келген зат
- C) Пайдалы қазба
- D) Ақша
- E) Қызмет

363. Тауар алмасу қалай аталады?

- A) Сауда
- B) Өндіріс
- C) Тұтыну
- D) Бөлу
- E) Инвестиция

364. Өндірістің негізгі факторы не?

- A) Еңбек
- B) Өнер
- C) Дін
- D) Саясат
- E) Мораль

365. Ақша дегеніміз не?

- A) Жалпыға ортақ эквивалент қызметін атқаратын тауар түрі
- B) Табиғи ресурс
- C) Салық
- D) Қызмет
- E) Заң

366. Шығындардың табыстан артық болуы қалай аталады?

- A) Тапшылық
- B) Пайда
- C) Бюджет
- D) Табыс
- E) Несие

367. Нарық дегеніміз не?

- A) Сауда және экономикалық қатынастар орны
- B) Саяси жүйе
- C) Мемлекет формасы
- D) Өнер түрі
- E) Әлеуметтік топ

368. Мемлекетке төленетін міндетті төлем қалай аталады?

- A) Салық
- B) Жалақы
- C) Несие
- D) Пайда
- E) Бонус

369. Кәсіпкерліктің мақсаты не?

- A) Пайда табу
- B) Дінді дамыту
- C) Заң шығару
- D) Мемлекетті басқару

Е) Өнерді дамыту

370. Инфляция дегеніміз не?

- А) Бағаның өсуі және ақшаның құнсыздануы
- В) Бағаның төмендеуі
- С) Жалақының көтерілуі
- Д) Экономикалық өсу
- Е) Сауданың дамуы

371. Қызмет көрсетуге не жатады?

- А) Медициналық көмек
- В) Автокөлік
- С) Нан
- Д) Киім
- Е) Жиһаз

372. Еңбек үшін берілетін ақшалай сыйақы қалай аталады?

- А) Жалақы
- В) Салық
- С) Несие
- Д) Бонус
- Е) Пайыз

373. Тұтыну дегеніміз не?

- А) Тауарлар мен қызметтерді пайдалану
- В) Тауар өндіру
- С) Тауар алмасу
- Д) Жүк тасымалдау
- Е) Өнім сату

374. Мемлекеттік меншіктің мысалы қайсы?

- А) Мемлекеттік мектеп
- В) Жеке үй
- С) Жеке автокөлік
- Д) Дүкен
- Е) Фермерлік шаруашылық

375. Кәсіпорын капиталына қатысуды растайтын бағалы қағаз қалай аталады?

- А) Акция
- В) Несие
- С) Облигация
- Д) Чек
- Е) Вексель

376. Бәсекелестік дегеніміз не?

- А) Өндірушілердің сатып алушылар үшін бәсекесі
- В) Өндірушілердің ынтымақтастығы
- С) Мемлекеттік басқару
- Д) Салық жүйесі
- Е) Меншік түрі

377. Банктен қарыз ақша алу қалай аталады?

- A) Несие
- B) Депозит
- C) Пайда
- D) Салық
- E) Инфляция

378. Банктің негізгі қызметі қандай?

- A) Ақшаны сақтау және беру
- B) Заң шығару
- C) Тауар өндіру
- D) Ғылымды дамыту
- E) Азаматтарды оқыту

379. Бюджет дегеніміз не?

- A) Кірістер мен шығыстар жоспары
- B) Салық түрі
- C) Банк шоты
- D) Өндірістік жоспар
- E) Сауда операциясы

380. Жеке меншікке негізделген экономикалық жүйе қалай аталады?

- A) Нарықтық экономика
- B) Командалық экономика
- C) Натуралды шаруашылық
- D) Дәстүрлі экономика
- E) Жоспарлы экономика

381. Әлеуметтік топ дегеніміз не?

- A) Ортақ белгілері бар адамдар бірлестігі
- B) Кездейсоқ адамдар тобы
- C) Мемлекеттік орган
- D) Саяси партия
- E) Экономикалық ұйым

382. Кіші әлеуметтік топқа не жатады?

- A) Отбасы
- B) Ұлт
- C) Тап
- D) Мемлекет
- E) Халық

383. Адамның қоғамдағы орны қалай аталады?

- A) Әлеуметтік мәртебе
- B) Бедел
- C) Қызмет
- D) Мамандығы
- E) Рөл

384. Әлеуметтік рөл дегеніміз не?

- A) Адамнан күтілетін мінез-құлық
- B) Материалдық жағдай
- C) Саяси көзқарас

- D) Білім деңгейі
- E) Ұлты

385. Адамның бір әлеуметтік топтан екінші топқа ауысуы қалай аталады?

- A) Әлеуметтік мобильділік
- B) Әлеуметтену
- C) Урбанизация
- D) Интеграция
- E) Жаһандану

386. Ұлт дегеніміз не?

- A) Тарихи қалыптасқан адамдар қауымдастығы
- B) Кіші топ
- C) Отбасы
- D) Ұжым
- E) Тап

387. Әлеуметтік топтар арасындағы қақтығыс қалай аталады?

- A) Әлеуметтік қақтығыс
- B) Саяси режим
- C) Әлеуметтену
- D) Урбанизация
- E) Индустрияландыру

388. Әлеуметтік норманың мысалы қайсы?

- A) Қоғамдағы мінез-құлық ережелері
- B) Бүкіләлемдік тартылыс заңы
- C) Климаттық өзгерістер
- D) Биологиялық процесс
- E) Химиялық реакция

389. Қоғам нормаларын меңгеру процесі қалай аталады?

- A) Әлеуметтену
- B) Көші-қон
- C) Интеграция
- D) Урбанизация
- E) Революция

390. Этникалық қауымдастыққа не жатады?

- A) Ұлыс
- B) Тап
- C) Отбасы
- D) Ұжым
- E) Ұйым

391. Отбасы дегеніміз не?

- A) Әлеуметтік институт
- B) Саяси партия
- C) Экономикалық жүйе
- D) Мемлекеттік орган
- E) Қоғамдық қозғалыс

392. Отбасының қызметі не болып табылады?

- A) Балаларды әлеуметтендіру
- B) Заң шығару
- C) Мемлекетті басқару
- D) Ғылымды дамыту
- E) Сауда жүргізу

393. Әлеуметтік нормалардан ауытқу қалай аталады?

- A) Девиантты мінез-құлық
- B) Конформизм
- C) Әлеуметтену
- D) Урбанизация
- E) Бейімделу

394. Толеранттылық дегеніміз не?

- A) Басқа адамдарға төзімділік
- B) Агрессия
- C) Қақтығысқа бейімділік
- D) Оқшаулану
- E) Немқұрайлылық

395. Ұлтаралық келісімнің мысалы не?

- A) Әртүрлі этностардың ынтымақтастығы
- B) Халықтар арасындағы араздық
- C) Кемсіту
- D) Қақтығыс
- E) Оқшаулану

396. Жастар дегеніміз не?

- A) Әлеуметтік топ
- B) Саяси партия
- C) Этникалық топ
- D) Мемлекеттік орган
- E) Экономикалық ұйым

397. Әлеуметтік нормаларға не жатады?

- A) Мораль
- B) Физика заңдары
- C) Биологиялық процестер
- D) Климат
- E) Инстинктер

398. Қоғам нормаларына сәйкес келетін мінез-құлық қалай аталады?

- A) Конформды мінез-құлық
- B) Девиантты мінез-құлық
- C) Құқыққа қарсы мінез-құлық
- D) Агрессивті мінез-құлық
- E) Қақтығысты мінез-құлық

399. Қоғамның әлеуметтік құрылымының негізі не?

- A) Әлеуметтік топтар
- B) Табиғат

- C) Климат
- D) Жануарлар әлемі
- E) Пайдалы қазбалар

400. Қоғамның тұрақтылығына не ықпал етеді?

- A) Әлеуметтік нормаларды сақтау
- B) Қақтығыстар
- C) Жұмыссыздық
- D) Оқшаулану
- E) Кемсіту

## ЛОГИКА ЖӘНЕ СЫНИ ОЙЛАУ

### Тест сұрақтарының үлгілік тізімі


1. Қиылысты құрап тұрған бір көшенің бойына 11 ағаш, қиылысты құрап тұрған екінші көшенің бойына 11 ағаш отырғызуға болатын орын бар. Қиылысты құрап тұрған екі көшеге отырғызылатын ағаштардың ең аз саны қанша болмақ?

- A) Ағаштар саны 21
- B) Ағаштар саны 23
- C) Ағаштар саны 15
- D) Ағаштар саны 17
- E) Ағаштар саны 19



2. Дәптер - қаламсапқа қарағанда арзан, ал қарындашқа қарағанда қымбат. Қайсысы арзан?


- A) Қарындаш
- B) Қаламсап
- C) Дәптер
- D) Кітап
- E) Бояу



3. Белгісіз азаматтың әкесінің аты - Абай САМАТҰЛЫ, ұлының аты – Жамбыл

ОМАРҰЛЫ. Белгісіз азаматтың аты-жөні кім?

- A) Омар Абайұлы
- B) Абай Жамбылұлы
- C) Абай Омарұлы
- D) Самат Омарұлы
- E) Жамбыл Абайұлы



4. Ваня Петядан жоғарғы қабатта, бірақ Сенядан төменгі қабатта, ал Коля - Петядан төменгі этажда тұрады. Олардың әрқайсысы төрт қабатты үйдің қай қабаттарында тұрады?

- A) 1 қабатта-Коля, 2 қабатта-Петя, 3 қабатта-Ваня, 4 қабатта-Сеня
- B) 1 қабатта-Ваня, 2 қабатта – Коля, 3 қабатта-Сеня, 4 қабатта-Петя
- C) 1 қабатта-Петя, 2 қабатта – Коля, 3 қабатта-Сеня, 4 қабатта-Ваня
- D) 1 қабатта-Коля, 2 қабатта-Ваня, 3 қабатта-Сеня, 4 қабатта-Петя
- E) 1 қабатта-Сеня, 2 қабатта – Петя, 3 қабатта-Ваня, 4 қабатта-Коля



5. Екі жолаушыөзенге жақындады. Өтуге болатын қайық бір адамға арналған. Екі адамның салмағын көтере алмайды! Жағадағы екі жолаушыешбір көмексіз екеуі де осы қайықпен келесі жағаға өтті. Олар мұны қалай жасады?

- A) Екеуі бір өзеннің қарам-қарсы жағаларында болды. Алдымен біреуі, содан кейін екіншісі өтті.
- B) Екеуі өзеннің бір жағасында болды. Біреуі қайықпен өтті, екіншісі жүзіп кетті. Шаршаған кезде орындарын ауыстырды.
- C) Екеуі өзеннің бір жағасында болды. Екеуі де қайықпен өтті.
- D) Екеуі өзеннің бір жағасында болды. Екеуі де жүзіп өтті.
- E) Екеуі екі түрлі өзеннің жағасында болды. Ешқайсысы келесі жағаға өте алмады.



6. Бір жарым лимон - 150 теңге тұрады. 10 лимон қанша тұрады?

- A) 1000 теңге
- B) 150 теңге
- C) 200 теңге
- D) 300 теңге
- E) 1500 теңге



7. Кітап үшін 1000 теңге және кітап құнының тағы жартысы төленді. Кітап қанша тұрады?

- A) 2000 теңге
- B) 100 теңге
- C) 300 теңге
- D) 400 теңге
- E) 500 теңге



8. Бір минут сайын бөрненің бір метрлік бөлігі кесіледі. Ұзындығы 6 метр болатын бөрене

қанша минутта кесіледі?

- A) 5 минутта кесіледі
- B) 10 минутта кесіледі
- C) 15 минутта кесіледі
- D) 20 минутта кесіледі
- E) 30 минутта кесіледі



9. Қайсысы ауыр? 1 килограмдық таразы тасы немесе 1 килограмм шарлар?

- A) Олардың салмағы тең
- B) 1 килограмдық таразы тасы ауыр
- C) 1 килограмм шарлар ауыр
- D) Алдымен тең салмақ болады, бірақ біртіндеп, шарлардың көлемі үлкен болғандықтан, оларға архимедтік күш әсер ететіндіктен таразы басы ауырлай түседі
- E) Алдымен салмағы бірдей болады, бірақ олардың массасы әртүрлі, сондықтан 1 килограмдық таразы тасы біртіндеп ауырлай түседі (Архимедтік заң күшін ескере отырып).



10. Санап шығыңыз! Автобус жүріп келеді. Онда 5 жолаушы отыр. Аялдамада 6 жолаушы кірді. Келесі аялдамада 4 жолаушы түсіп қалды, және 2 жолаушы кірді, келесі аялдамада

3 жолаушы шығып кетті де 4 жолаушы кірді, келесі аялдамада ешкім шықпады, бірақ 8 жолаушы кірді, келесі аялдамада 6 жолаушы шығып, 1 адам кірді, келесіде - 5 шығып, 4 кірді. Автобус барлығы неше аялдамаға тоқтады?

- A) 8
- B) 9
- C) 7
- D) 6
- E) 5



11. Сізде 5 таяқша бар деп елестетіңіз. Егер олардың екеуін екіге бөлсеңіз, барлығы қанша таяқша болады?

- A) Жеті таяқша.
- B) Үш таяқша.
- C) Бес таяқша.
- D) Он таяқша.
- E) Он бір таяқша.



12. Бір отбасыдағы екі апалы-сіңлілі қыздардың әрқайсысының үш ағасы бар. Отбасында қанша бала бар? Әрбір қыздың үш ағасы болса, онда отбасында қанша ұл бар?

- A) 5 бала: үш ұл және екі қыз.
- B) 8 бала: алты ұл және екі қыз.
- C) 6 бала: үш ұл және үш қыз.
- D) 7 бала: үш ұл және төрт қыз.
- E) 9 бала: бес ұл және төрт қыз.



13. Дүкенге 4 бала барды: Дима, Коля, Никита және Андрей, дүкенге барар жолда олар 4 теңге тапты. Никита дүкенге жалғыз барса, қанша ақша табар еді? Ал егер фильмде 25 бала болса, олар қанша ақша табады?

- A) 4 теңге
- B) 20 теңге
- C) 16 теңге
- D) 12 теңге
- E) 100 теңге

14. Бір күндік жәндіктер қанша уақыт өмір сүреді ?

- A) 1 күн
- B) 1 ай
- C) 1 жыл
- D) 1 апта
- E) 10 жыл

15. Аулада тауықтар мен қойлар болды. Олардың 3 басы және 8 аяғы бар. Қанша тауық және қанша қой болды?

- A) 3 тауық және 2 қой.
- B) 2 тауық және 2 қой.
- C) 3 тауық және 3 қой.
- D) 2 тауық және 1 қой.
- E) 1 тауық және 2 қой.

16. Менің әкем 31 жаста болғанда, мен 8 жаста едім, ал қазір әкем менен екі есе үлкен. Мен қазір неше жастамын?

- A) 16, әкесі 40.
- B) 18, Әкеге 42.
- C) 23, Әкеге 46.
- D) 20, әкесі 40.
- E) 22, Әкеге 44.

17. Ағасы 14 жаста, ал әпкесі 10 жаста. Әпкесі қазір қанша жаста болса, ағасы қанша жаста болады?

- A) 16 жыл.
- B) 18 жаста.
- C) 20 жыл.
- D) 22 жыл.
- E) 21 жыл.



18. Ең жылдам жәндікті көрсетіңіз?

- A) Шабандоз-қоңыз
- B) Тарақан
- C) Ұлу
- D) Құмырсқалар
- E) Қырықаяқ


19. Ұмытшақ бала үйден шығып, досы Эндрюге барды. Ол жарты жолдан өтіп, демалуға отырғанда, кітабын үйінде қалдырып кеткенін есіне түсірді. Бала үйіне оралып, кітапты алып, Эндрюге қайта барды. Ол Эндрюдің үйіне енді жеткенде бағана демалуға отырған жерде сөмкесін ұмытып кеткенін білді. Бала сөмкесіне қайтадан барып, содан соң досына келуге мәжбүр болды. Ол Эндрюге келгенде екі шақырымның орнына әлдеқайда көп жүргенін түсінді. Бала неше шақырым жер жүрді?

- A) 2 км.
- B) 4 км.
- C) 6 км.
- D) 7 км.
- E) 8 км.



20. Екі ана, Екі қыз және Әжесі мен немересі. Барлығы қанша?

- A) 3
- B) 6
- C) 4
- D) 5
- E) 2



21. Бөренені 2 бөлікке кесу үшін 1000 теңге төлеу керек. Бөренені 4 бөлікке кесу қанша тұрады?

- A) 3000 теңге.
- B) 4000 теңге.
- C) 2000 теңге.
- D) 1000 теңге.
- E) 5000 теңге.



@dreamstime.com

22. Терезенің алдында 8 жасыл қызанақ жатты. Үш күннен кейін олар қызарып кетті. Қанша жасыл қызанақ қалды?

- A) 0
- B) 8
- C) 16
- D) 4
- E) 2



23. Екі бояушы екі сағат ішінде екі бөлмені бояй алады. Алты сағат ішінде 18 бөлмені бояу

үшін қанша суретші қажет?

- A) 24
- B) 8
- C) 18
- D) 12
- E) 6



24. Ваня мен Коля - Серёжа мен Сашадан үлкен. Серёжа мен Саша - Петядан үлкен. Ең кішісі кім?

- A) Петя
- B) Саша
- C) Серёжа
- D) Ваня
- E) Коля

25. Пәтерде иттер мен мысықтар тұрады. Барлық жануарлардың тек біреуі ит емес, ал бір үй жануарынан басқасының бәрі мысық. Мысықтар мен иттердің барлығы қанша?

- A) Бір ит пен бір мысық
- B) Бір ит пен үш мысық
- C) Төрт ит және көптеген мысықтар
- D) Бір ит пен үш мысық
- E) Екі ит пен екі мысық



26. Маша мен Ваняның әрқайсысында 3 соратын кәмпиттен бар. Маша өзінің 2 кәмпитін жеді. Ваня да солай істеді. Ваняда қанша кәмпит қалды?

- A) 1
- B) 2
- C) 0
- D) 4
- E) 3



27. Егер сіз жарысқа қатысып, үшінші орындағы адамды басып озсаңыз, қандай орынға ие боласыз?

- A) Үшінші
- B) Екінші
- C) Үшінші
- D) Бірінші
- E) Бесінші



28. 100-ден 2-ні қанша рет шегеруге болады?

- A) 1 рет,  $100-2=98$ . Келесі азайту 100-ден шегеруге жатпайды.
- B) 100
- C) 0
- D) 25
- E) 50.

29. Фермада екі жылқы, бір қоян, бір күшік, бір мысық, шошқа мен шошқа, сиыр мен бұзау, күркеауық пен қаз болды. Иесі итпен келді. Фермада қанша аяқ болды?

- A) Екі аяқ
- B) 44
- C) 46
- D) 34
- E) 26

30. Бұл тізімге қайсысы енбеуі керек? Майшабақ, кит, акула, тунец, треска.

- A) Кит
- B) Майшабақ
- C) Акула
- D) Тунец
- E) Треска

31. Адамдар қартайған Атадан:

- Сіз неше жастасыз?- деп сұрады

"Мен кейбір туыстарымнан алты жүз есе үлкенмін", - деп жауап берді ол.

Рас па?

Солай болуы мүмкін бе?

- A) Егер атасы 50 жаста болса, ал немересі 1 айлық болса, онда атасы немересінен 600 есе үлкен.
- B) Егер атасы 50 жаста болса, ал немересі 1 айлық болса, онда атасы немересінен 100 есе үлкен.
- C) Егер атасы 50 жаста болса, ал немересі 1 айлық болса, онда атасы немересінен 200 есе үлкен.
- D) Егер атасы 50 жаста болса, ал немересі 1 айлық болса, онда атасы немересінен 60 есе үлкен.
- E) Егер атасы 50 жаста болса, ал немересі 1 айлық болса, онда атасы немересінен 65 есе үлкен.



32. Жеті ағайынды ұлдардың әрқайсысының бір-біреуден қарындасы бар.

Ол үйде барлығы неше қарындас бар?

- A) Біреу
- B) Үшеу
- C) Екеу
- D) Төртеу
- E) Алтау



33. Қаздар ұшып барады. Аңшы біреуін атып құлатты.

Нешеуі қалды?

- A) Оқ тиіп құлаған біреуі қалды, қалғандары ұшып кетті
- B) Үш

- C) Он
- D) Екі
- E) Бес



34. Үйректер тобы ұшып барады: бір үйрек алдында, екеуі артта; біреуі - артта, екеуі алдында; біреуі екеуінің арасында және үшеуі қатарда. Барлығы қанша үйрек болды?

- A) 3 үйрек
- B) 4 үйрек
- C) 5 үйрек
- D) 2 үйрек
- E) 10 үйрек



35. “Ия, сен. Иә, мен - иә, сен екеуміз”.

Біз нешеуміз?

- A) Екеу
- B) Үшеу
- C) Жетеу
- D) Он
- E) Біреу

36. Әкесі мен ұлы, ұлы мен әкесі, немересі және атасы.

Олар барлығы нешеу?

- A) Үшеу
- B) Екеу
- C) Жетеу
- D) Он

Е) Біреу

37. Олар тобымен жүріп келеді: қайыненесі, күйеуі және күйеуі әйелімен, Анасы қызымен, әжесі - немересімен, қызы - әкесімен. Олар барлығы нешеу?

- A) Төртеу
- B) Үшеуі
- C) Жеті
- D) Бір
- E) Екеу



38. Алмұртта 37 алмұрт жемісі өсіп тұр, ал анар талының жемісі аздау. Анар талында қанша алмұрт өсіп тұр?

- A) Анар талында алмұрт өспейді
- B) Сансыз көп
- C) 37
- D) 50
- E) 100

39. Күн мен түн бірге қанша сағатқа созылады?


- A) 24 сағат.
- B) 48 сағат.
- C) 72 сағат.
- D) 12 сағат.
- E) 10 сағат.

40. Көшенің бір бетіндегі соңғы үйдің нөмірі 27. Көшенің қарсы бетінде қанша үй бар?

- A) 14
- B) 27
- C) 13
- D) 28
- E) 12

41. Екі шаңғышы бір уақытта бір-бірімен кездесуге қарсы бағытта жолға шықты. Біріншісі кездесетін жерге дейін 2 сағат жүрді. Екінші шаңғышы кездесуге дейін қанша уақыт жүрді?

- A) 2 сағат
- B) 3 сағат
- C) 1 сағат
- D) 4 сағат
- E) 30 минут



42. Екі оқушы қыз мектептен үйіне, ал үш ұл оларға қарсы жүріп келеді. Барлығы қанша бала үйлеріне қайтып барады?

- A) 2
- B) 5
- C) 7
- D) 10
- E) 1



43. Үстелде 1 алма жатыр. Ол 4 бөлікке бөлінді. Енді үстелде қанша алма бар?

- A) 1
- B) 4
- C) 2
- D) 5
- E) 3



44. Үш түйеқұс ұшып кетті. Бір аңшы атып тастады. Қанша түйеқұс қалды?

- A) 0
- B) 2
- C) 1
- D) 3
- E) 4

45. Қызда 5 алма бар. Ол 3-нен басқасының бәрін жеді. Қызда қанша алма қалды?

- A) 3
- B) 2

- C) 1
- D) 4
- E) 5

46. Неліктен тарақандар лас жерлерде жорғаласа да жұқпалы ауруларға шалдықпайды?

- A) Тарақандардың миында антибиотиктер бар.
- B) Тарақанның құрсау тәрізді терісі оны инфекциядан қорғайды.
- C) Тарақанның мұрты инфекцияны дереу залалсыздандырады.
- D) Тарақанның қанаттары оны инфекциядан қорғайды.
- E) Тарақанның денесі кез-келген сыртқы инфекцияны өлтіреді.

47. Ағайынды үш ұлдың әрқайсысының бір-бір қарындасы бар. Отбасында барлығы қанша бала бар?

- A) 4
- B) 5
- C) 1
- D) 2
- E) 3

48. 6 трактормен жер жыртылды.

Олардың 2-уі тоқтап қалды.

Далада барлығы қанша трактор бар?

- A) 6
- B) 2
- C) 3
- D) 4
- E) 1



49. Бөлменің 4 бұрышы бар. Әр бұрышта 1 мысықтан отыр. Әр мысыққа қарама-қарсы 3 мысық отыр. Бөлмеде қанша мысық бар?

- A) 4
- B) 2
- C) 3
- D) 1
- E) 5

50. Таяқтың 2 ұшы бар. Егер біреуін кессеңіз, онда қанша ұшы қалады?

- A) 2
- B) 1
- C) 3
- D) 0

Е) 4

51. Бір аяғымен тұрған әтештің салмағы 3 кг. Екі аяғымен тұрса салмағы қанша болады?

- А) 3 кг.
- В) 2 кг.
- С) 1 кг.
- Д) 4кг.
- Е) 0 кг.

52. Сағатына үш жылқы қосылып бірге 24 км шапты. Сонда, аттың әрқайсыс неше шақырым шапты?

- А) 24 км
- В) 0 км.
- С) 12 км
- Д) 2 км
- Е) 10 км

53. Бір жұмыртқаны 5 минут пісіру керек. Ал 6 жұмыртқаны пісіру қанша уақыт алады?

- А) 5 минут.
- В) 10 минут.
- С) 15 минут.
- Д) 20 минут.
- Е) 30 минут.



54. Төрт адам 20 минут бойы домино ойнады. Сонда олардың әрқайсысы неше минут ойнады?

- А) 10 минуттан.
- В) 20 минуттан.
- С) 20 минуттан.
- Д) 20 минуттан.
- Е) 20 минуттан.

55. Отбасында екі бала бар. Самат - Бейбіттің ағасы, бірақ Бейбіт - Саматтың інісі емес. Бұлай болуы мүмкін бе? Бейбіт кім?

- А) Қарындасы
- В) Көршісі
- С) Ағайы
- Д) Жиені
- Е) Немере бауыры

56. Қала бағыты бойынша 3 көлік, ал оларға қарсы 5 автобус жүріп келеді. Қалаға қанша көлік келе жатыр?

- А) 3 машина.
- В) 1 машина.
- С) 2 Машина.

- D) 0 машина.  
E) 5 машина.
57. Үш бала дойбы ойнады. Барлығы үш партия ойналды. Әр бала қанша партия ойнады?  
A) Үш партиядан.  
B) Алты партиядан.  
C) Бес партиядан.  
D) Бір партиядан.  
E) Екі партиядан.
58. Бүкіл әлем қандай жәндікке "қол шапалақтайды"?  
A) "Күйе-көбелекке"  
B) Көбелектерге  
C) Инеліктерге  
D) Масаларға  
E) Шыбындарға
59. Алты аяғы, екі басы, құйрығы бір. Мынау не?  
A) Атқа мінген шабандоз  
B) Қолтырауын  
C) Айдаһар  
D) Ұлу  
E) Медуза
60. Үйлері жоқ қалалар, суы жоқ өзендер және ағаштары жоқ ормандар қайда бар?  
A) Географиялық картада  
B) Фильмдерде  
C) Қиялда  
D) Жұмақта  
E) Түнде көретін түстерде
61. Кімдер бір орныда отырып "жүреді"?  
A) Шахматшылар  
B) Арбадағы мүгедектер  
C) Жүргізуші  
D) Тракторшы  
E) Нашақорлар
62. Бастау оңай, мүмкін, аяқтау қиын.  
A) Әңгіме  
B) Сым  
C) Белдік  
D) Жанжал  
E) Арақатынас
63. Сұрақ болып табылмайды. Бірақ жауап беруді қажет етеді. Ол не?  
A) Сыртқы есіктің қоңырауы немесе телефонның қоңырауы.  
B) Хат  
C) Жеделхат  
D) Достық  
E) Жанжал

64. Барлығын көре алатын кезде сіз оны көре алмайсыз,  
Ал ештеңе көрінбейтін кезде оны көресіз.

- A) Қараңғылық
- B) Тұман
- C) Өрт
- D) Таңсәрі
- E) Жаңбыр

65. Профессор достарына өз қолымен көкөніс салатын дайындап беруді шешті. Ол үшін оған қажет болды: бұрыш - 3 дана және сонша қызанақ; қияр қызанақтан аздау, бірақ шалғамнан көп. Профессор салатқа қанша түрлі көкөністі қолданды?

- A) 9
- B) 6
- C) 7
- D) 8
- E) 5



66. Сізге тиесілі нәрсе, бірақ сізден гөрі басқалар көп қолданатын нәрсе.

Ол не?

- A) Сіздің есіміңіз
- B) Сіздің бойыңыз
- C) Сіздің мейірімділігіңіз
- D) Сіздің көркіңіз
- E) Сіздің ақыл-қабілетіңіз

67. Құлағында жүрекшесі бар жалғыз құс?

- A) Үкі
- B) Түйеқұс
- C) Тырна
- D) Феникс
- E) Қырғауыл

68. Римдіктер шанышқының дизайнына революциялық жаңалық енгізді-барлық кейінгі модельдер римдік шешімнің жетілдірілген түрі. Римдік жаңалыққа дейін шанықылар қандай болды?

- A) Біртісті
- B) Көптісті
- C) Тұтастісті
- D) Үштісті
- E) Төртбұрышты

69. Ең үлкен жемісі бар өсімдікті атаңыз.

- A) Асқабақ
- B) Қарбыз
- C) Қауын
- D) Қызанақ

Е) Кокос

70. Кез келген ғарышкер ұшу кезінде не жоғалтады?

- A) Салмақ
- В) Оттегі
- С) Әлеммен байланыс
- D) Ұйқы
- Е) Қорқыныш

71. Адамның он екі жұп қабырғасы бар. Ненің үш жүзге жуық қабырғасы бар?

- A) Жыланның
- В) Пілдің
- С) Қырықаяқтың
- D) Тасбақаның
- Е) Киттердің

72. 90% ы өртеніп, 10% ы тасталатын дақылды атаңыз.

- A) Темекі
- В) Тары
- С) Жүгері
- D) Бидай
- Е) Арпа

73. Ең үлкен мүйіздің иесі - мүйізтұмсық (158 см-ге дейін). Ал, ең жұмсақ мүйізі бар қай жәндік?

- A) Ұлу
- В) Ешкі
- С) Ақбөкен
- D) Сиыр
- Е) Бұғы

74. Неліктен “бір күндік” жәндіктер тез өледі?

- A) Олардың ас қорыту жүйесі, тіпті аузы жоқ
- В) Олар - жұқпалы ауруға шалдыққан
- С) Олар суыққа төзбейді
- D) Олар ыстыққа төзбейді
- Е) Олар у-шу мен жарыққа төзбейді

75. "Бұл ауру. Бірақ өте сирек кездесетін дерт. Өкінішке орай, жұқпалы емес", - деді Гиппократ. Гиппократ не туралы айтты?

- A) Данышпандық туралы
- В) Психика туралы
- С) Ұйқы туралы
- D) Батылдық туралы
- Е) Әзілкештік туралы

76. Егер түріктер "ауылды күзет" деп айтқысы келсе олар "қара авыл" дейтін болған. Ал бүгінгі күні ол қалай айтылады?

- A) "Қарауылда!"
- В) "Тоқта!"
- С) "Қатып қал!"
- D) "Кетпе!"

Е) "Қарама!"

77. Юлий Цезарь шеберлерге өз сарбаздарының қалқандары мен қаруларын зергерлік бұйымдармен безендіруді бұйырды. Неге?

- А) Лақтырып тастап кетпеулері үшін
- В) Мотивация үшін
- С) Бедел үшін
- Д) Рухты көтеру үшін
- Е) Батылдық үшін

78. Егер түнгі сағат 12-де жаңбыр жауса, "72 сағаттан кейін күн ашық болады" деп күтуге бола ма?

- А) Жоқ, өйткені 72 сағаттан кейін қайтадан түн ортасы болады
- В) Түскі уақыт болады
- С) Күн болады
- Д) Қар жауады
- Е) Иә, күн ашық болады

79. Шамда 20 лампа бар болған. Оның 5-і жанып кетті. Қанша лампа қалды?

- А) 20 (жиырма шам - 15 жұмыс істейтін және 5 күйген лампа).
- В) 15
- С) 19
- Д) 12
- Е) 5.

80. Қай жәндіктің мұрты өз аяқтарынан ұзын болады?

- А) Тарақанның
- В) Жирафтың
- С) Бұғының
- Д) Медузаның
- Е) Ұлудың

81. Бір джентльмен өзінің досына тапсырыс бойынша суретшіге салдырған портретті көрсетіп тұрып: "Менің әпкелерім де, бауырларым да жоқ, бірақ бұл адамның әкесі - менің әкемнің ұлы болған", - деді. Портретте кім бейнеленген?

- А) Джентльменнің ұлы.
- В) Джентльменнің ағасы.
- С) Джентльменнің атасы.
- Д) Джентльменнің немересі.
- Е) Джентльменнің өзі.

82. Саябақта 8 орындық бар. Үшеуі қайта боялды. Саябақта қанша орындық қалды?

- А) Сегіз
- В) Бес
- С) Алты
- Д) Жеті
- Е) Он

83. Термометр плюс +15 градусты көрсетіп тұр. Егер термометр екеу болса қанша градус көрсеткен болар еді?

- А) + 15 градус
- В) + 30 градус

- C) + 45 градус
- D) + 60 градус
- E) 0 градус

84. Қайсысы ауыр, қайсысы жеңіл: 1 кг мақта немесе 1 кг темір?

- A) Бірдей
- B) 1 кг алма
- C) 1 кг бидай
- D) 1 кг тұз
- E) 1 кг мақта

85. “Екі рет туады, бір рет өледі”?

- A) Жылан
- B) Тасбақа
- C) Кесіртке
- D) Сушаян
- E) Өрмекші

86. Адам бойындағы еш азаймайтын, тек көбейе беретін нәрсе не?

- A) Адамның жасы
- B) Ақыл
- C) Адамның салмағы
- D) Білімпаздық
- E) Достық.

87. Сіз одан көп алған сайын ол үлкейе береді. Ол не?

- A) Шұңқыр
- B) Ақша
- C) Жад
- D) Махаббат
- E) Ластанбау

88. Күн сайын тауға барады, таудан қайтады, бірақ орнында қалады?

- A) Жол
- B) Күн
- C) Ай
- D) Жаңбыр
- E) Өзен

89. Денесіне шеге қағуға болатын жалғыз жануар?

- A) Жылқы
- B) Бұқа
- C) Мүйізтұмсық
- D) Піл
- E) Ит

90. Қандай жануардың терісінен ағаш және мәрмәр тасты жылтырататын егеуіш жасалады?

- A) Ақулалардың
- B) Бұқаның
- C) Мүйізтұмсықтың
- D) Пілдің

- Е) Жылқылардың
91. Аш қарынға қанша жұмыртқа жеуге болады?  
А) 1 (қалғандары “аш қарынға жеген“ деп саналмайды).  
В) 10  
С) 2  
D) 3  
Е) 0
92. “Әкемнің ұлы, бірақ менің ағам емес”. Кім туралы айтылып тұр?  
А) Немере аға туралы  
В) Туған аға туралы  
С) Менің ұлым  
D) Мен өзім  
Е) Менің немерем
93. “Тамақтандырсаңыз ол тіріледі. Шөлін қандырсаңыз, ол өледі”. Ол не?  
А) От  
В) Жануарлар  
С) Өсімдіктер  
D) Достық  
Е) Қақтығыстар
94. Отқа жанбайтын және суға батпайтын не?  
А) Мұз  
В) Титан  
С) Шыны  
D) Пластик  
Е) Ғалымдардың еңбектері
95. Австралиялықтар қай жәндікті “теңіз арасы” деп атайды?  
А) Медузаны  
В) Пингвиндерді  
С) Итбалықтарды  
D) Теңіз кірпілерін  
Е) Кірпікшешенді
96. Үш тауық үш күнде үш жұмыртқа береді. 12 күнде 12 тауық қанша жұмыртқа салады?  
А) 48  
В) 12  
С) 24  
D) 36  
Е) 4
97. Адам қолға үйреткен насеком?  
А) Аралар  
В) Көбелектер  
С) Инелік  
D) Масалар  
Е) Шыбындар
98. Қандай сұраққа "иә" деп жауап беру мүмкін емес?

- A) "Сіз ұйықтап жатырсыз ба?"»
- B) "Сіз серуендеп жүрсіз бе?"»
- C) "Сіз істеп жатырсыз ба?"»
- D) "Сен бақыттысың ба?"»
- E) "Сен ақылдысың ба?"»


99. Қандай түйінді тарқату мүмкін емес?

- A) Теміржол
- B) Туыстық қатынастар
- C) Мемлекеттік
- D) Махаббат
- E) Қылмыстық

100. Қандай жануарлар әрқашан көздерін ашып ұйықтайды?

- A) Балықтар
- B) Балалар
- C) Маймылдар
- D) Қолтырауындар
- E) Үкі

101. Екі солдат өзеннің сол жағалауына жақындады, олар келесі жағалауға өтуі керек еді. Екі жасөспірім жағаға жақын жерде қайықпен жүзіп жүрді, суда басқа қалқымалы қайықтар болған жоқ. Алайда қайық суда 100 кг-нан артық салмақты көтере алмайды. Сарбаздарды оң жағалауға өткізуді қалай ұйымдастыруға болады және мұны қанша сапарда жасауға болады? Бір сарбазды өткізу үшін екі сапар қажет: бірінші сапарда екі жасөспірім қарсы жағалауға өтеді, екеуінің біреуі сол жерде қалады, ал екінші жасөспірім қайықпен бастапқы жағалауға оралады. Екінші рейсте жасөспірім қайықты солдаттардың біреуіне береді. Солдат оң жағалауға өтіп, қайықты екінші жасөспірімге қайтарады. Екінші жасөспірім бастапқы жағалауға жетеді. Осылайша, бір сарбазды паромға апару үшін екі сапар қажет болса, екеуін судан өткізу үшін неше сапар қажет?



- A) 4 рейс қажет болады
- B) 3 рейс қажет болады
- C) 2 рейс қажет болады
- D) 5 рейс қажет болады
- E) 1 рейс қажет болады

102. Англияда бұл гүлді ақындар жырлаған



Ол сәби перілер мен нәзік эльфтер үшін бесік ретінде қызмет етеді. Отаны - Парсы, ол жерден Түркияға қоныс аударып, XIX ғасырда Еуропаға тарады. Голландияда бұл гүлге табыну болды. Амстердамда бұл гүлдің екі үш пиязына (ұрығына) екі тас үй сатып алынғаны туралы тарихи дәлел бар.

- A) Қызғалдақтар
- B) Раушан гүлі
- C) Орхидеялар
- D) Магнолия
- E) Лиандралар

103. Өрттен қорқынышты не бар?



- A) Түтін
- B) Жанартаудың оянуы
- C) Жер сілкінісі
- D) Соғыс
- E) Сел


104. Әнді музыкасыз орындау қалай аталады?



- A) Акапелла
- B) Ария


- C) Хор
- D) Соло
- E) Речитатив

105. Қандай жануардың салмағы 190 тоннаға дейін жетеді?



- A) Көк кит
- B) Гиппопотам
- C) Піл
- D) Мүйізтұмсық
- E) Қолтырауын

106. Катя Ирадан жылдам,  
ал Ира Ленадан жылдамырақ.  
Сонда, кім бәрінен жылдам қимылдайды?



- A) Катя
- B) Ира
- C) Лена
- D) Надя
- E) Оля

107. Екі көліктің біреуі кең жолмен, екіншісі тар жолмен келе жатыр.  
Жүк көлігі тар жолмен келе жатқан жоқ.  
Жеңіл көлік қандай жолмен келеді?  
Жүк көлігі ше?



- A) Жүк көлігі кең жолмен келе жатыр
- B) Жеңіл көлік кең жолмен келе жатыр

- С) Жүк көлігі кең жолмен келе жатқан жоқ
- Д) Жүк көлігі тар емес жолмен келе жатқан жоқ
- Е) Жеңіл көлік тар жолмен келе жатқан жоқ

108. Вераның терісі Людамен салыстырғанда қара түсті.  
Вера Катямен салыстырғанда әлдеқайда ақ түсті.  
Олардың ішіндегі ақшылы кім?



- А) Вера
- В) Люда
- С) Катя
- Д) Оля
- Е) Наташа

109. Нені дайындауға болады, бірақ жеуге болмайды?

- А) Сабақ бойынша үй тапсырмасын
- В) Бәліш
- С) Тамақ
- Д) Сусын
- Е) Бауырсақ

110. Толя Игорьден биік,  
Игорь Колядан биік.  
Сонда, ең ұзыны кім?

- А) Толя
- В) Игорь
- С) Коля
- Д) Юра
- Е) Андрей

111. Құрлықтағы адамдар ауырмайтын ауру?

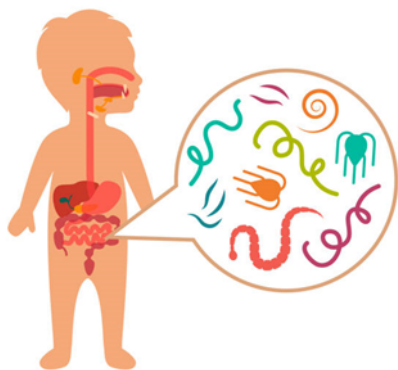
- А) «Теңіз ауруы»
- В) Құтыру
- С) Іш сүзегі
- Д) Летаргиялық ұйқы
- Е) Туретта синдромы

112. Саша Толяға қарағанда көңілді,  
Толя Ванядан көңілді.  
Сонда, ең көңілдісі кім?

- А) Саша
- В) Толя
- С) Ваня
- Д) Юра

Е) Андрей

113. Қандай құрттардың ішектері болмайды?



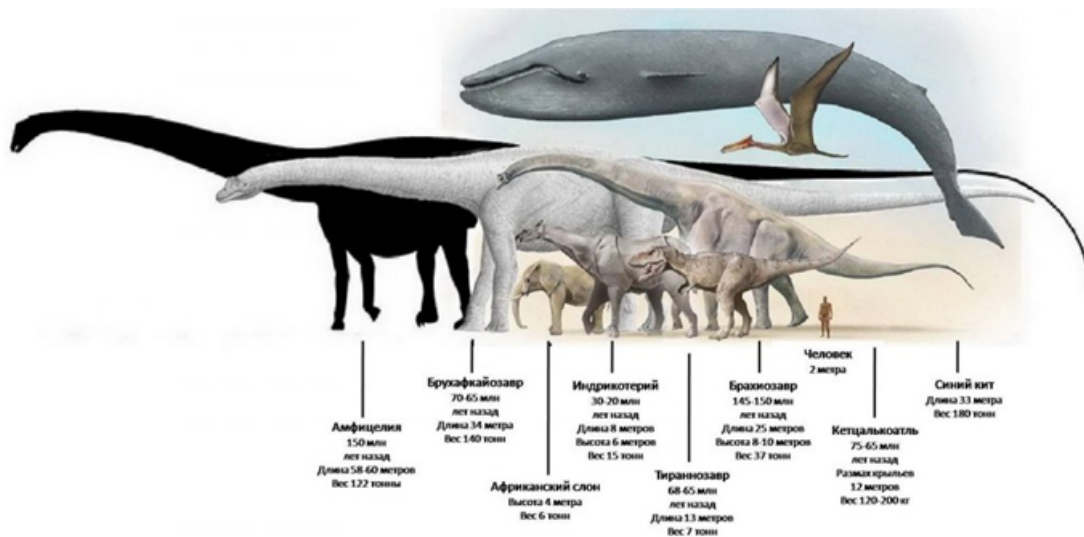
- A) Таспа құрттар
- B) Қосмекенділер
- C) Жұлдызды құрттар
- D) Жауын құрттары
- E) Мұз құрттары

114. Қандай моллюскілерді тірідей жейді?



- A) Устрицалар (Ostreidae)
- B) Брондалған (Polyplacophora)
- C) Қосжақпақтылар (Bivalvia)
- D) Күрекаяқтар (Scaphopoda)
- E) Қарынаяқтылар (Gastropoda)

115. Ең ірі жануар?



- A) Көк кит – «жолақ кит»
- B) Гиппопотам
- C) Мүйізтұмсық
- D) Піл
- E) Мегалодон

116. Өзге организмдегі ағза шырындарымен қоректенетін, басқалардың есебінен өмір сүретін тіршілік қалай аталады?



- A) Паразиттер
- B) Құрттар
- C) Жатыпішерлер
- D) Арамтамақтар
- E) Өзгенің нанын жегіштер

117. Аралдар салатын су тіршілігі қалай аталады?



- A) Инжу-маржан полиптері
- B) Балықтар
- C) Құрттар
- D) Аралар
- E) Құстар

118. Қандай құстар ұша алмайды?



- A) Түйеқұстар
- B) Тотықұстар
- C) Көгершіндер
- D) Үкілер
- E) Қаршыға құс

119. Бәліш үш бөлікке кесілді.

Бәлішті үшке бөлу үшін барлығы неше тілік жасалды?



- A) Үш
- B) Екі
- C) Бір
- D) Төрт
- E) Бес

120. Терезе әйнегін бес ағайындылардың қайсысы сындырды?

Андрей: «Бұл Витя немесе Толя», - деді.

Витя: «Мұны мен де, Юра да жасаған жоқпыз», - деді.

Дима: «Бұлардың біреуі шындықты айтты, ал екіншісі айтпады», - деді.

Юра: «Жоқ, Дима, сен қателесесің», - деді.

Әкелері кем дегенде үш ағайынды шындықты айтқанына сенімді.

Терезені кім сындырды?

- A) Толя сындырды
- B) Андрей сындырды
- C) Витя сындырды
- D) Дима сындырды
- E) Юра сындырды

121. Маша Светаға қарағанда жылдам жүгіреді.

Света Оляға қарағанда жылдам.

Қай қыз бәрінен жылдам жүгіреді?



- A) Маша
- B) Света
- C) Оля
- D) Надя
- E) Галя

122. Лиза мен Петя саңырауқұлақтар мен жидектерді жинауға орманға барды. Лиза саңырауқұлақ терген жоқпын. Петя не жинады?



depositphotos image ID: 28758132 www.depositphotos.com

- A) Петя саңырауқұлақ жинады
- B) Петя саңырауқұлақ жинамады
- C) Петя жидек жинады
- D) Петя жидек жинамады
- E) Лиза саңырауқұлақ жинады

123. Ираның бойы Клаваға қарағанда 3 см қысқа.

Клава Любадан 5 см қысқа.

Сонда, ең ұзыны кім?

- A) Люба
- B) Клава

- C) Ира
- D) Майя
- E) Надя

124. Екі қайың өсіп тұр. Әр қайыңда төрт бұр (шишка) бар. Екі қайыңда барлығы неше бұр бар?

- A) қайың ағашында бұр (шишка) болмайды
- B) 8 бұр
- C) 7 бұр
- D) 6 бұр
- E) 12 бұр

125. Қандай жәндік өз салмағынан 10 есе ауыр жүкті көтере алады?

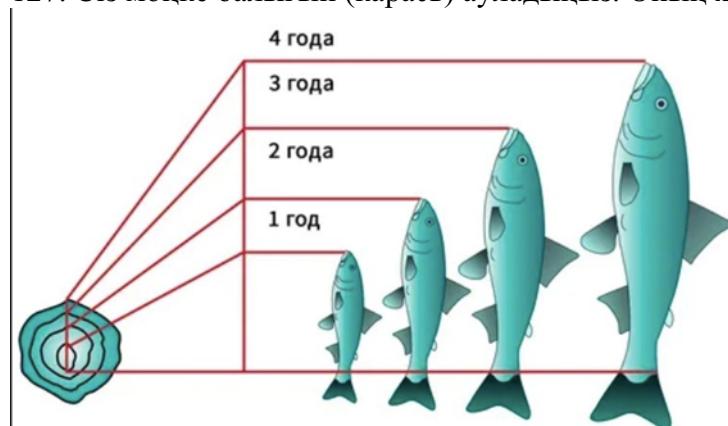


- A) Құмырсқа
- B) Кірпі
- C) Ақуыз
- D) Ара
- E) Тасбақа

126. Су қоймасындағы судың температурасы Цельсий бойынша 17 градус. Онда тіршілік ететін балықтардың дене температурасы қандай?

- A) 18 градус Цельсий
- B) 20 градус Цельсий
- C) 25 градус Цельсий
- D) 22 градус Цельсий
- E) 23 градус Цельсий

127. Сіз мөңке балығын (карась) ауладыңыз. Оның жасы нешеде екенін қалай білеміз?



- A) Қабыршағындағы сақиналарды санаңыз
- B) Балықтың ұзындығын өлшеңіз
- C) Тұмсығының ұшынан құйрық қанатына дейін өлшеңіз
- D) Қабыршақты жамылғыны өлшеңіз

Е) Балықтың қалыңдығын өлшеңіз

128. Қандай организмдер өмір бойы тоқтаусыз өседі?



- A) Маржандар
- B) Киттер
- C) Мөңке балығы
- D) Кірпікшелілер
- E) Сегізаяқтар

129. Оттегісіз ортада өмір сүре алмайтын тіршілік иелері?



- A) Балық
- B) Балдырлар
- C) Гельминттер
- D) Анаэробты микроорганизмдер
- E) Аскаридалар

130. Дөңгелекте 8 спиц бар.

Спицалар арасында қанша бөлік бар?

- A) 7
- B) 8
- C) 6
- D) 5
- E) 3

131. Тоғайға қарай бір топ құс ұшып келді.

Олар бір бұтаққа екеуден қонып еді, бір бұтақ бос қалды.

Әрқайсысы жеке қонып еді, біреуіне бұтақ жетпей қалды.

Тоғайда неше ағаш бар, барлығы қанша құс ұшып келді?



- А) Үш ағаш, төрт құс
- Ә) Төрт ағаш, төрт құс
- С) Төрт ағаш, үш құс
- Д) Үш ағаш, үш құс
- Е) Төрт ағаш, бес құс

132. Толя мен Игорь сурет салып отыр.

Бірі - үйдің, екіншісі - жапырақты бұтақтың бейнесін салуда.

Игорь үйді салмаса, Толя ненің суретін салды?

- А) Толя үйдің суретін салып отыр
- В) Толя жапырақтың суретін салып отыр
- С) Толя ұшақтың суретін салып отыр
- Д) Толя машинаның суретін салып отыр
- Е) Толя ағаштың суретін салып отыр

133. Үш құрбы ақ, жасыл, көк көйлек, аяқ киім киіп шықты. Бірдей түсті көйлек пен аяқ киім Аняда ғана бар. Валяның аяқ киімі де, көйлегі де аппақ емес. Наташа жасыл аяқ киім киген.




Құрбылардың әрқайсысының көйлектері мен аяқ киімдерінің түсін анықтаңыз.

- А) Наташа көк көйлек пен жасыл туфлимен, Валя - жасыл көйлек пен көк туфлимен, Аня ақ көйлек пен ақ туфлимен шықты. Наташа көк көйлек пен жасыл туфлимен, Аня жасыл көйлек пен көк туфлимен шықты. Валя жасыл көйлек пен көк туфлиде
- В) Наташа көк көйлек пен жасыл туфлимен, Аня жасыл көйлек пен көк туфлимен шықты
- С) Валя - жасыл көйлек пен көк туфлиде

D) Валя - жасыл көйлек пен көк туфлиде

E) Аня ақ көйлек, ақ туфли киген

134. Халықаралық конгрессте төрт ғалым кездесті: физик, тарихшы, биолог және математик. Олардың ұлттары әртүрлі болды және ғалымдардың әрқайсысы төрт тілдің екеуінде (орыс, ағылшын, француз және итальян) сөйлегенімен, олардың төртеуі де сөйлейтін тіл болмады. Үшеуі де сөйлейтін тіл болды. Ғалымдардың ешқайсысы бір мезгілде французша да, орысша да сөйлемеген. Физик ағылшын тілін білмесе де, биолог пен тарихшы бір-бірімен сөйлескісі келсе, аудармашы қызметін атқара алатын. Тарихшы француз тілінде сөйлейді және математикпен сөйлесе алады, бірақ соңғысы бірде-бір орыс сөзін білмейді. Физик, биолог және математик бір тілде бірге сөйлесе алмайды.



Әрбір ғалым қандай екі тілді біледі?

A) Физик француз және итальян тілдерінде, тарихшы орыс және итальян тілдерінде, биолог ағылшын және француз тілдерінде, математик ағылшын және итальян тілдерінде сөйлейді.

B) Физик орыс және итальян тілдерінде, биолог ағылшын және француз тілдерінде, математик ағылшын және итальян тілдерінде сөйлейді.

C) Физик ағылшын және француз тілдерінде, тарихшы орыс және итальян тілдерінде, биолог ағылшын және француз тілдерінде, математик француз және итальян тілдерінде сөйлейді.

D) Физик араб және итальян тілдерінде, тарихшы француз және испан тілдерінде, биолог ағылшын және француз тілдерінде, математик ағылшын және итальян тілдерінде сөйлейді.

E) Физик француз және итальян тілдерінде, тарихшы орыс және итальян тілдерінде, биолог ағылшын және француз тілдерінде, математик ағылшын және итальян тілдерінде сөйлейді.

135. Кино билеттеріне кезекте тұрғандар: Юра, Миша, Володя, Саша және Олег.

Белгілі болғаны:

1) Юра билетті Мишадан ерте, бірақ Олегтен кеш сатып алады.

2) Володя мен Олег бір-бірінің қасында тұрған жоқ.

3) Саша Олегке, Юраға немесе Володяға жақын тұрған жоқ.



Кезекте кім кімнен кейін тұр?



- A) Ұлдар келесі ретпен тұр: Олег, Юра, Володя, Миша және Саша
- B) Миша мен Саша, Олег, Юра, Володя
- C) Юра, Володя, Миша және Саша, Олег
- D) Саша, Олег, Юра, Миша және Володя
- E) Саша, Миша, Володя, Олег, Юра

136. Отбасыда үш перзент бар.

Ұлдардан гөрі қыздар көп.  
Отбасында неше әпке бар?

- A) Екі әпкесі бар
- B) Екі ұл, бір әпкесі бар
- C) Бір әпкесі, екі інісі бар
- D) Үш әпкесі бар
- E) Үш інісі бар

137. Отбасында төрт бала бар. Олар 5, 8, 13 және 15 жаста. Балалардың есімдері - Аня, Боря, Вера және Галя.

Бір қыз бала бақшаға барса, Аня Борядан үлкен болса, Аня мен Вераның жасының қосындысы үшке бөлінсе, әр бала неше жаста?

- A) Вера 5 жаста, Бор 8 жаста, Аня 13 жаста, Галя 15 жаста
- B) Вера 5 жаста, Боря 8 жаста, Аня 13 жаста, Галя 5 жаста
- C) Вера 15 жаста, Боря 18 жаста, Аня 3 жаста, Галя 5 жаста
- D) Вера 5 жаста, Бор 8 жаста, Аня 13 жаста, Галя 12 жаста
- E) Вера 3 жаста, Бор 8 жаста, Аня 3 жаста, Галя 5 жаста

Шешім. Аня мен Вераның жасының қосындысы үшке бөлінеді және бұл бір қыз 5 жаста, екіншісі 13 жаста болған жағдайда мүмкін болады. Бірақ мәселе бойынша Аня Борядан үлкен. Демек, Аня 13 жаста, ал Вера 5 жаста. Сонымен бірге Галя 15 жаста екені анық.

138. Саша Игорьден 10 жас кіші.

Игорь Лешадан 2 жас үлкен.

Ең жасы кім?

- A) Саша

- B) Леша
- C) Игорь
- D) Дима
- E) Юра

139. Төрт қыз әңгімелесіп отыр: Аня, Валя, Галя және Надя.

- 1) Жасыл көйлектегі қыз - Аня емес, Валя емес - көк көйлектегі қыз бен Надяның арасында тұрады.
  - 2) Ақ көйлек киген қыз қызғылт көйлекті қыз бен Валяның арасында тұрады. Әр қыз қандай түсті көйлек киеді?
- A) Галаның көйлегі жасыл, Надяныкі қызғылт, Валяныкі көк, Аняныкі ақ.
  - B) Галя қызыл түсті көйлек киген
  - C) Надя ақ түсті көйлек киген
  - D) Вали қызғылт түсті көйлек киген
  - E) Аня көк көйлек киген

140. Төрт дос (Петя, Боря, Алеша және Коля) апаларымен бірге мектептегі Жаңа жылдық балға барды.

Бірінші би кезінде олардың әрқайсысы өз әпке-қарындастарынан өзгелермен биледі. Лена - Петямен, Светлана - Наташаның ағасымен, Оля - Светлананың ағасымен, Боря - Алешаның әпкесімен, Алеша Петяның әпкесімен биледі. Кім-кімнің ағасы? Кім кіммен билеген?



- A) Петя - Оляның ағасы, Петя Ленамен биледі  
Боря - Наташаның ағасы, Боря Светланамен биледі  
Алеша - Светлананың ағасы, Алеша Олямен биледі  
Коля - Ленаның ағасы, Коля Наташамен биледі
- B) Петя - Наташаның ағасы, ал Боря Светланамен биледі
- C) Коля - Оляның ағасы, ал Петя Ленамен биледі
- D) Алеша - Светлананың ағасы, Алеша Олямен биледі
- E) Алеша Ленаның ағасы, Коля Наташамен биледі

141. Миша Олегтен күшті,  
Миша Петядан әлсіз.

Ең күштілері кім?

- A) Петя
- B) Миша
- C) Олег
- D) Алексей
- E) Иван

142. Ең ірі маймыл қайсысы?

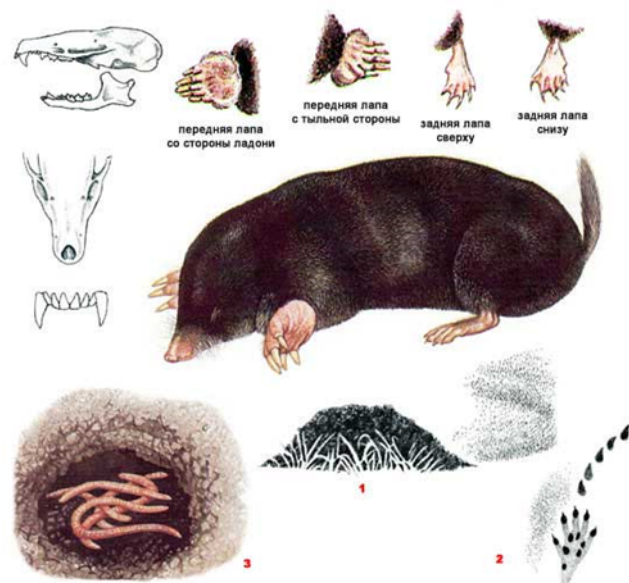


- A) Горилла
- B) Непалдық сұр лангур
- C) Мандрель
- D) Тибет макакасы
- E) Сары бабуиндар

143. Жүзге дейінгі сандардың қосындысы неге тең?

- A) 1-ден 100-ге (қоса алғанда) дейінгі сандардың қосындысы 5050-ге, 1-ден 100-ге дейінгі сандардың қосындысы (100-ді қоспағанда) 4950-ге тең.
- B) 5050
- C) 5000
- D) 4500
- E) 4900

144. Көртышқан қыс мезгіліне арналған азықты қалай дайындайды?



- A) Бастарын кесіп, қоймаға салады
- B) Жерге көмеді
- C) Жапырақтарға орап қояды

- D) Кептіреді
- E) Ұсақтайды және жинап қояды

145. Көктемнің алғашқы хабаршысы қандай құстар?



- A) Қарғалар
- B) Бұлғаулар
- C) Жұлдызқұрттар
- D) Қарақұйрықтар
- E) Далалық қызғыш құс

146. Құйрығы үш метрлік этеш сорты қай елде шығарылды?



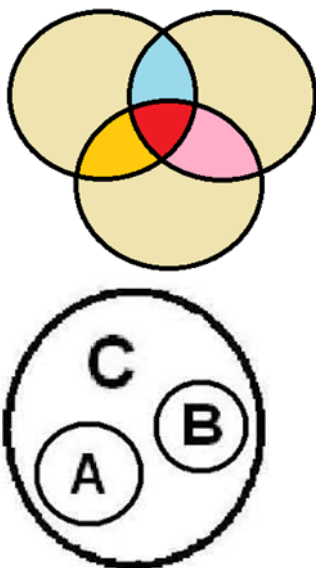
- A) Жапонияда
- B) Австралияда
- C) Австрияда
- D) Тайландта
- E) Индонезияда

147. Қай жәндіктің есту қабілеті жоқ?



- A) Шыбында
- B) Инелікте
- C) Масада
- D) Көбелекте
- E) Тарақанда

148. «Студент» және «спортшы» ұғымдарының арасындағы байланысты анықтаңыз:



- A) Қиылысу
- B) Бағыныштылық
- C) Ерекшелік
- D) Сәйкестік
- E) Қайшылық

149. (Жауапсыз махаббат).



Үш жас жігіт: Коля, Петя және Юра үш қызға ғашық: Таня, Зина және Галя. Бірақ бұл жауапсыз махаббат.

1. Коля - Таняны жақсы көретін жас жігітке ғашық болған қызды жақсы көреді.
2. Петя - Зинаны жақсы көретін жас жігітке ғашық болған қызды жақсы көреді.
3. Зина Юраны жақсы көрмейді.

Кім кімге ғашық?

- A) Коля – Галяға, Галя – Петяға, Петя – Таняға, Таня – Юраға, Юра – Зинаға, Зина – Коляға ғашық.
- B) Коля Таняны жақсы көреді

- С) Петя Зинаны жақсы көреді
- Д) Тая Юраны жақсы көреді
- Е) Петя Галяға ғашық

150. Қандай қосмекенділер бір жылда төрт рет терісін ауыстырады және әр жолы алдыңғысын өзі жейді.



- А) Бақалар
- В) Жыландар
- С) Шаян
- Д) Сегізаяқтар
- Е) Жыланбалықтар мен сәулелер

151. «Икебана» гүл шоғын жинау өнері қай елде қалыптасты?



- А) Жапонияда
- В) Қытайда
- С) Тайландта
- Д) Тайванда
- Е) Малайзияда

152. Қайсы гүл Күннің және Жапонияның символы саналады?



- А) Хризантема
- В) Пиондар
- С) Қызғалдақ
- Д) Гербера
- Е) Гортензиялар

153. Қандай гүл өз-өзіне сұқтанып, тек өзін ғана тамашалайды?



- A) Нарцисс
- B) Гортензиялар
- C) Хризантема
- D) Гербера
- E) Пиондар

154. Қандай тірі тіршіліктің бойында үш жүректен бар?



- A) Сегізаяқ, кеспе, кальмар
- B) Бақалар, жыландар
- C) Шаяндар, сегізаяқтар
- D) Жыланбалықтар мен сәулелер
- E) Киттер, кірпікшелілер

155. Моллюсктердің қанының түсі қандай?



- A) Көілдір
- B) Мөлдір
- C) Қызыл
- D) Сұр
- E) Қара

156. Қай өсімдіктен бал жақсы жиналады?



- A) Линден
- B) Жалбыз
- C) Қарақұмық
- D) Жоңышқа
- E) Бақ-бақ

157. Құрлықтағы ең жылдам хайуанат?



- A) Гепард, 110 км/сағ.
- B) Түйеқұс
- C) Кенгуру
- D) Барыс
- E) Жолбарыс

158. Табиғаттағы ең жіңішке жіп?



- A) Веб
- B) Табиғи жіп
- C) Синтетикалық жіп
- D) Нейлон жіп
- E) Жібек жіп

159. Қай жылан түкіреді?

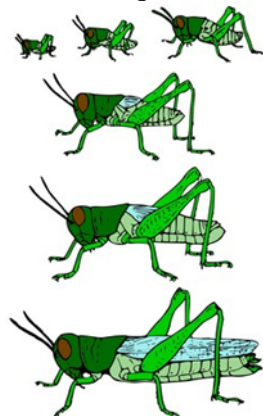
- A) Кобра
- B) Боа тартқышы
- C) Сужылан
- D) Мамба
- E) Анаконда

160. Ең ұзын тілдің иегері?



- A) «Құмырсқажегіш», ұзындығы 61 см.
- B) Жылан
- C) Сиыр
- D) Жираф
- E) Комодо айдаһары

161. Шегірткенің құлағы қайда орналасқан?



- A) Аяғында
- B) Маңдайында
- C) Қанаттарында
- D) Артқы жағында
- E) Құйрығында

162. Бекас-құстың маңыраған даусы қай жерінен шығады?



- A) Құйрық
- B) Іш
- C) Бас
- D) Қанаттарынан
- E) Бүкіл денесінен

163. Қандай жануар тамақ ішкеннен кейін тісін жуады - аузын шаяды?



- A) Жолбарыс
- B) Түйе
- C) Аю
- D) Піл
- E) Жираф

164. Қандай құстардың қанаттары қырлы болады?

У каких птиц крылья покрыты не перьями, а чешуей?



**У пингинов**

- A) Пингвиндердің
- B) Пеликандардың
- C) Құтанның
- D) Ләйлектің

Е) Қаздың

165. Қандай хайуанаттың мойын омыртқалары көбірек?



- А) Жираф
- В) Шошқа
- С) Піл
- Д) Қолтырауын
- Е) Жылан

166. Түйе су қорын қайда сақтайды?




- А) Қанында
- В) Өркешінде
- С) Асқазанда
- Д) Тері астында
- Е) Денеде

167. Сіріңке қандай ағаштан жасалады?



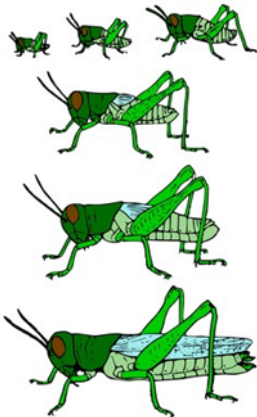
- А) Көктерек
- В) Қайың
- С) Үйеңкі
- Д) Емен
- Е) Тал

168. Қандай балық шахмат тақтасына айнала алады?



- A) Камбала
- B) Тұқы
- C) Иваси
- D) Килька
- E) Мөңке балығы

169. Шегірткенің шырылы қалай шығады?



- A) Аяқты қанатқа үйкеу арқылы
- B) Іш
- C) Бас
- D) Таразылар
- E) Бүкіл денемен

170. Қандай құстың қанаты мүлде жоқ?



- A) Киви-киви
- B) Пингвин
- C) Түйеқұс
- D) Тотықұс
- E) Шағала

171. Қай хайуанаттың бойындағы майы жасыл түсті?



- A) Қолтырауын
- B) Гишпопотам
- C) Мүйізтұмсық
- D) Жылан
- E) Бақа

172. Қандай өсімдіктердің жапырақтары Күннің бағытын көрсете алады?



- 
- A) Жабайы салат, сільфий, эвкалипт
  - B) Жаңғақ
  - C) Қылқан жапырақты ағаштар
  - D) Қарағай
  - E) Кипарис

173. Дүние жүзіндегі ең үлкен өрмекші қандай?



A) A) әлемдегі ең ірі өрмекші - *Heteropoda maxima* (лат.), Sparassidae тұқымдасынан, Лаостың Хаммуан провинциясында тіршілік етеді. Ұрғашыларының денесінің ұзындығы 4,6 см-ге дейін барады, аталықтары шамамен 3,0 см. Аяқ-қолдарының аралығы 25-тен 30 см-ге дейін.

Оңтүстік Америкадағы Голиат «Құс жегіші» аяқ-қолдарының ұзындығы бойынша одан кіші, бірақ дене мөлшері бойынша одан айтарлықтай асып түседі

B) Кенелер (Акари)

C) Шаяндар (скорпиондалар)

D) Сушаяндар

E) Қаракұрт

174. Жер бетіндегі ең үлкен жылан



A) Анаконда, 9 м дейін.

B) Молга

C) Қара мамба

D) Қайсақа

E) Бумсленг

175. Қай акуланың көздері бір-бірінен 2 метр қашықтықта орналасқан?



- A) Балға балық (Carcharhiniformes)
- B) Үлкен ақ акула (Lamniformes)
- C) Қара ұшты акула (Katranidae)
- D) Ала акула (Wobbegongiformes)
- E) Аапон ара балығы (Sawfish)

176. Қай көбелек саяхаттағанды ұнатады: күзде оңтүстікке, Африкаға құстарша ұшып кетіп, көктемде кері қайтады.



- A) Боялған көбелек
- B) Адмирал
- C) Аполлон Мнемосин
- D) Автоной мариголдтары
- E) Ағаш көбелегі

177. Қай бақа өзінің итбалықтарына арнап терезесі, шатыры бар, бірақ есігі жоқ үй салады?



- A) Темір ұстасы – квакша бақасы
- B) Қиыршығыстық бақа
- C) Сібірлік бақа
- D) Шөпте жүретін бақа


Е) Көлдегі бақалар

178. Қандай жылан соқыр болса да бәрін естиді, иіссіз-ақ жылуды «көреді».



- А) Қалқантұмсық жылан
- В) Анаконда
- С) Сужылан
- Д) Аспид
- Е) Африкалық бумсленг

179. Дүние жүзіндегі ең ұзын ағаш



- А) 187 м-ге дейінгі эвкалипт ағашы
- В) Секвоия
- С) Арша
- Д) Шырша
- Е) Кипарис

180. Кең жайыла өсетін үлкен ағаш



- A) Секвойя
- B) Арша
- C) Кипарис
- D) Эвкалипт
- E) Шырша

181. Ең берік ағаш



- A) Темір ағаш – «Parrotia persica»
- B) Пандо
- C) Журупа емені
- D) Ескі Тикко
- E) Ескі Расмус

182. Суда қалқып жүретін ең үлкен қалқыма-өсімдік?



- A) «Виктория Регия» - жапырақтарының диаметрі 2 м-ге жуық, 50 кг-ға дейінгі дисперсті жүктемеге төтеп бере алады
- B) Macrocytis балдырларының ұзындығы 200 метрге жетеді
- C) Nereocystis, ұзындығы 200 метрге жетеді

- D) Теңіз балдырлары
- E) Ірі су лалагүлі: «Виктория боливия» – жапырағының диаметрі 3 м.

183. Алып гүлдер?



- A) «Rafflesia Arnoldii» - гүлінің ұзындығы 1 метр, гүлінің салмағы 10 кг-ға жуық.
- B) «Титан арум»
- C) «Магнолия Кампбеллиі»
- D) «Талипотты пальма»
- E) Алып лотос

184. Қандай құс қатты аязда балапан шығарады?



- A) Айқыш құс (клест)
- B) Патша құс (зимородок)
- C) Тоқылдақ
- D) Тит (синица)
- E) Ақ үкі



185. Шаңғы жасау үшін қандай ағаш қолданылады?

- A) Қайың
- B) Көктерек

- C) Үйеңкі
- D) Емен
- E) Тал

186. Белгілі ойды жеткізуге арналған сөз немесе сөз тіркесі қалай аталады?


- A) Термин
- B) Омонимдер
- C) Синонимдер
- D) Категория
- E) Предикат

187. Ұлудың тістері бар ма?



- A) Иә, бар. Ұлудың тістері тілінде орналасқан. Ұлудың 135 қатардан тұратын тістері бар. Әр қатарда 105 тіс бар. Барлығы 14175 тісі бар.
- B) Тістері жоқ
- C) 100 тіс
- D) 80 тіс
- E) 40 тіс

188. Қарағайлар орташа есеппен неше жыл өмір сүреді ?



- A) 120-140 жыл
- B) 100 жыл
- C) 110 жыл

D) 115 жыл

E) 130 жыл

189. «Тауықтар ұшады, өйткені тауықтар - құс, ал барлық құстар ұшады» деген пікірдің дрыс болмау себебін анықтаңыз:

A) Аргументтің сенімсіздігі

B) Дәлелдердегі қайшылық

C) Дәлелдердің жеткіліксіздігі

D) Жалпылау ережелерін бұзу

E) Шектеу ережелерін бұзу

190. Каштан ағашында орта есеппен қанша жапырақ болады?



A) 19 мың

B) 18 мың


C) 20 мың

D) 10 мың

E) 15 мың

191. Теректе орта есеппен қанша жапырақ бар?

## ДЕРЕВЬЯ



- A) 70 мыңнан 119 мыңға дейін
- B) 60 мыңнан 120 мыңға дейін
- C) 50 мыңнан 110 мыңға дейін
- D) 40 мыңнан 119 мыңға дейін
- E) 30 мыңнан 119 мыңға дейін

192. Онсыз адам өмірі мүмкін емес табиғи шудың шегі қай деңгейде болғаны дұрыс?

- A) Рұқсат етілген дыбыс шегі 80-85 децибел. 130 дцб. адамда ауырсыну тудырады, 150 дцб. адам төзгісіз азап әкеледі
- B) Сыбдырлаған шөп – 10 децибел
- C) Қатты сөйлеу - 60-70 децибел
- D) Көше көлігінің шуы 80-100 децибел
- E) Максимальды дыбыс деңгейі 110 дБА-дан аспауы керек, ал импульстік шу үшін - 125 дБА. Тіпті кез келген октава диапазонында дыбыс қысымының деңгейі 135 дБ жоғары аймақтарда қысқа мерзімді болуға тыйым салынады

193. Дүние жүзіндегі ең үлкен кесіртке ?



- A) Комодо кесірткесі
- B) Мегалания (*Varanus priscus*, [син. *Megalania prisca*])
- C) Жасыл игуана – ұзындығы 1,5 метр, салмағы – 7 кг.

D) Қолтырауындар

E) Ұшатын айдаһар (лат. Draco) — кесірткелер тұқымдасының Оңтүстік-Шығыс Азияда мекендейтін ағама тұқымдасы

194. Дүние жүзіндегі ең ірі жыртқыш қандай?



A) Ақ аю

B) Қара қаймандар

C) Миссисипи аллигаторы

D) Қоңыр аюлар

E) Қасқырлардың үйірлері

195. Орман хайуанаттарының ішіндегі ең ірі, тұяқты жануар?



A) Бұлан (лось)

B) Тау ешкілері

C) Зебралар

D) Ақбөкен

E) Жабайы қабандар

196. Дүние жүзіндегі ең ірі сүтқоректі жануар?



A) Морж

B) Тангалунга

C) Антарктикалық піл итбалығы (лат. *Mirounga leonina*)

D) Ала гиена

E) Жолақты мангуст

197. Пианиноны қандай ағаштан жасайды ?



**Сосна**

**Ель**

- A) Шыршадан
- B) Көктеректен
- C) Қайың
- D) Үйеңкі
- E) Емен

198. Дүние жүзіндегі ең үлкен көбелек ?



- A) Агриппина - қанатының ұзындығы 27 см.
- B) Геркулес көбелегі, немесе *Coscinocera hercules* (лат. *Coscinocera hercules*) - қанаттары 27 см-ге дейін жетеді
- C) *Saturnia atlas Atlas* – қанатының ұзындығы 26 см-ге дейін
- D) Маактың қарлығаш құйрығы – қанаты 13,5 см-ге дейін
- E) Ажал бас сұңқар көбелегі - өлшемі 46-60 мм. Қанаттары: 80-120 мм.

199. Жер бетінде тіршілік еткен қалталы хайуанаттардың ең күштісі?



- A) Тилацин
- B) Алып кенгуру
- C) Вирджиния опоссумы
- D) Тасмания шайтаны
- E) Қызыл кенгуру

200. Ең ірі сүтқоректі жануар?



- A) Африка пілі – биіктігі 4 м, салмағы 7 тоннаға дейін  
 B) Тұзды су қолтырауыны – салмағы 800 кг.  
 C) финвал (*Balaenoptera physalus*), ең ірі теңіз сүтқоректісі – ұзындығы 26 метрге дейін, салмағы 80 т.  
 D) Кашалот (*Physeter macrocephalus*) – үлкен тісті жыртқыш, ұзындығы 24 метрге дейін, салмағы 50 тоннаға дейін  
 E) Ақ аю (*Ursus maritimus*) – салмағы 800 кг.
201. Ежелгі Египетте мысықтар – жеңіс символы ретінде дәріптелген. Ал онда мысырлықтар қандай жануарды зұлымдық пен жойылудың символы деп санады?  
 A) Гиппопотам (Бегемот)  
 B) Тінтуір (тышқан)  
 C) Қолтырауын  
 D) Мысық  
 E) Бүркіт
202. Жапондықтар қандай жануарды «арқасы ісіп кеткен жылқы» деп атайды?  
 A) Түйе  
 B) Піл  
 C) Мүйізтұмсық

- D) Бұлан  
E) Динозавр
- 203.Қай жануар артқы аяқтарын алға қойып жүгіреді?  
A) Қоян  
B) Жолбарыс  
C) Елік  
D) Барыс  
E) Кенгуру
- 204.Қандай жәндік орман алқаптарын зиянды шыбындардан қорғайды?  
A) Инелік  
B) Шмель  
C) Шегіртке  
D) Бал арасы  
E) Ара
- 205.Ертеде қандай жануар оттың рухы деп саналған?  
A) Саламандр  
B) Тритон  
C) Бақа  
D) Жылан  
E) Мысық
- 206.Токио мен Парижде қандай жануарды тойлайды?  
A) Бақа  
B) Саламандр  
C) Құрт  
D) Көбелек  
E) Ит
- 207.Көкек-араларды неліктен «көкек» деп атайды?  
A) Көкек-аралар жұмыртқаларын басқа жәндіктердің ұяларына салады  
B) Әрдайым көкек құстарының жанында ұшады  
C) Түсі көкекке ұқсайды  
D) Тобымен ұшады  
E) Мүйіздері бар
- 208.«Інжілде» қай жануар туралы ешқашан айтылмайды?  
A) Мысық  
B) Қой  
C) Ит  
D) Скорпион  
E) Саламандр
- 209.Жер бетіндегі ең қатты дыбыстарды қай жануар шығарады?  
A) Кит  
B) Гиппопотам  
C) Қоңыр аю  
D) Піл  
E) Айдаһар
- 210.Қай құс қамшының жарығы мен иттің үргеніне еліктейді?  
A) Starling  
B) Magpie  
C) Тоқылдақ  
D) Көгершін  
E) Лейлек
- 211.Францияда қандай құсты «ұшатын егеуқұйрық» деп атайды?

- A) Көгершін
  - B) Делек
  - C) Альбатрос
  - D) Жарқанат
  - E) Сауысқан
212. Қай жануар мәңгі өлмейтін, ажалсыз деп саналады?
- A) Қызыл медуза
  - B) Тұзды су қолтырауыны
  - C) Бульдог құмырсқасы
  - D) Жылан
  - E) Саламандр
213. Қай жануардың денесінде миы болмайды?
- A) Теңіз жұлдызы
  - B) Шаян
  - C) Ара
  - D) Медуза
  - E) Құрт
214. Тірі организмдерді өлі заттардан ажырататын қасиеттерді атаңыз:
- A) Қоршаған ортамен зат алмасуы
  - B) Қозғалыс
  - C) Өлшемдерінің өзгеруі
  - D) Түстің өзгеруі
  - E) Энергияның бөлінуі
215. «Жасуша» ұғымын алғаш енгізген кім?
- A) Роберт Гук
  - B) Вирхов
  - C) Аристотель
  - D) Сократ
  - E) Платон
216. Чарльз Дарвиннің пікірінше, көптүрліліктің негізінде не жатыр?
- A) Тұқым қуалаушылық өзгергіштік және табиғи сұрыпталу
  - B) Көбею
  - C) Ұрпақтардың көбеюі
  - D) Барлығының барлығына қарсы күресі
  - E) Джунгли заңы
217. Жануарлар дүниесіндегі бәсекелестік нелердің арасында пайда болады?
- A) Ұқсас түрлер арасында
  - B) Жыртқыштар мен паразиттер арасында
  - C) Күштілер мен әлсіздер арасында
  - D) Ата-аналар мен балалар арасында
  - E) Сүтқоректілер мен бауырымен жорғалаушылар арасында
218. Тірі тіршіліктің ең кіші бірлігі қандай?
- A) Жасуша
  - B) Мүше
  - C) Түйіршік
  - D) Бөлшек
  - E) Квант
219. Денсаулықты сақтау және адамның жұмысы мен демалысын дұрыс ұйымдастыру ғылымы қалай аталады?
- A) Гигиена
  - B) Антропология
  - C) Зоология

- D) Физиология  
 E) Биология
220. Адамның тұқым қуалау материалы...
- A) ДНҚ  
 B) Жасуша  
 C) Ядро  
 D) Митохондрия  
 E) Цитоплазма
221. Адам терісі негізінен неден тұрады?
- A) Эпителий тінінен  
 B) Дәнекер тінінен  
 C) Жиырылғыш тіннен  
 D) Жүйке тінінен  
 E) Бұлшықеттерден
222. Адамда қанша қабырға бар?
- A) 12 жұп  
 B) 6 жұп  
 C) 6 жұп  
 D) 12 қабырға  
 E) 20 қабырға
223. Бірінші (нөлдік) топтағы қанды қай топтағы адамдарға құюға болады?
- A) Тек бірінші топтағыларға  
 B) Тек екінші топтағыларға  
 C) Тек үшінші топтағыларға  
 D) Тек төртінші топтағыларға  
 E) Кез келген топтағыларға
224. Вакцинация нәтижесінде:
- A) Табиғи белсенді иммунитет қалыптасады  
 B) Табиғи пассивті иммунитет қалыптасады  
 C) Жасанды белсенді иммунитет қалыптасады  
 D) Жасанды пассивті иммунитет қалыптасады  
 E) Иммунитет толығымен жойылады
225. Адамның жүйке жүйесіне жатпайтын не?
- A) Сүйек кемігі  
 B) Ми  
 C) Жұлын  
 D) Нейроглия  
 E) Ми
226. Төмендегі организмдердің қайсысында жасушалық құрылым жоқ?
- A) Вирустар  
 B) Бактериялар  
 C) Балдырлар  
 D) Саңырауқұлақтар  
 E) Кох таяқшалары
227. Бактериялар қашан пайда болды?
- A) Шамамен 4,0–3,5 миллиард жыл бұрын  
 B) «Үлкен жарылыстан» кейін бірден  
 C) Жердің пайда болуы кезінде бірден  
 D) 500 000 жыл бұрын  
 E) 100 миллиард жыл бұрын
228. Таяқша тәрізді бактериялар:

- A) Бациллалар
  - B) Спириллалар
  - C) Вирустар
  - D) Вибриондар
  - E) Саңырауқұлақтар
229. Бактериялардың көбеюі мынадай жолдармен іске асады:
- A) Жасушалардың бөлінуі
  - B) Бүршіктену арқылы
  - C) Гифальды түзілімдер
  - D) Споралар мен кисталардың таралуы
  - E) Жыныстық қатынас
230. Неліктен қолыңызды антибактериалды сабынмен немесе зарарсыздандырғышпен жиі жууға болмайды?
- A) Олар пайдалы және зиянды бактерияларды өлтіреді
  - B) Құрамында қауіпті бактериялар бар
  - C) Теріні ерітеді
  - D) Пайдалы бактерияларды ғана өлтіреді
  - E) Теріні құрғатады
231. Бактериялардың тіршілігі үшін аса қажет нәрсе не?
- A) Қант
  - B) Су
  - C) Ауа
  - D) Адам денесінің температурасы
  - E) Оттегі
232. Сүттің бұзылуына жол бермеу үшін оны арнайы ыдыста 65°C дейін 30 минут қыздырады. Бұл әдісті ашқан:
- A) Луи Пастер
  - B) Луи Кох
  - C) Энтони ван Левенгук
  - D) Илья Мечников
  - E) Иван Павлов
233. Антибиотиктер – бұл:
- A) Пайдалы және зиянды бактерияларды өлтіретін дәрілер
  - B) Тек зиянды бактерияларды өлтіретін дәрілер
  - C) Барлық тірі организмдерді өлтіретін заттар
  - D) Ағзаның ауруға төзімділігін төмендететін заттар
  - E) Ағза ресурстарын толық жоятын заттар
234. Бактериялар таралмайтын, берілмейтін жолды көрсетіңіз:
- A) Терінің жарақатсыз, бүтін болуы
  - B) Түшкіру, жөтелу арқылы
  - C) Қан арқылы
  - D) Су арқылы
  - E) Ортақ заттарды пайдалану арқылы
235. Жер бетіндегі тірі тіршіліктің ең көп таралған түрін атаңыз:
- A) Жәндіктер
  - B) Өрмекшітәрізділер
  - C) Шаянтәрізділер
  - D) Ұлулар
  - E) Сүтқоректілер
236. Қандай зерттеу әдісі сызғыш пен таразыны пайдалану арқылы жүргізіледі?
- A) Өлшеу
  - B) Бақылау

- C) Зерттеу  
 D) Тәжірибе  
 E) Салыстыру
237. Төмендегі организмдердің қайсысының жасушалық құрылымы жоқ?  
 A) Вирустар  
 B) Кірпікшелер  
 C) Бактериялар  
 D) Саңырауқұлақтар  
 E) Эукариоттар
238. Су қабаты дегеніміз:  
 A) Гидросфера  
 B) Атмосфера  
 C) Литосфера  
 D) Стратосфера  
 E) Мантия
239. Жануарлар жүйесіндегі ең кіші бірлікті көрсетіңіз:  
 A) Түр  
 B) Тұқым  
 C) Туыс  
 D) Класс  
 E) Отряд
240. Қандай өсімдіктер ежелгі болып саналмайды?  
 A) Жапырақты ағаштар, шалғынды шөптер, дәнді дақылдар және бақша гүлдері  
 B) Балдырлар  
 C) Папоротниктер  
 D) Мүктер  
 E) Сағақшабақтар
241. Балдырлар қалай тыныс алады?  
 A) Олардың бүкіл дене беті арқылы  
 B) Желбезектер арқылы  
 C) Арнайы устьицалар арқылы  
 D) Өзгертілген жапырақтар арқылы  
 E) Тамыршалар арқылы
242. Жансыз табиғаттың тірі организмдерге тікелей немесе жанама әсері қандай факторға байланысты?  
 A) Абиотикалық  
 B) Биологиялық  
 C) Антропогендік  
 D) Экологиялық  
 E) Психологиялық
243. Қай таксономиялық санат ең үлкен?  
 A) Патшалық  
 B) Тұқым  
 C) Туыс  
 D) Түр  
 E) Топ
244. Дамыған, сөйлеуді, өнерді және денесін жабуды алғаш болып игерген ежелгі адам:  
 A) Кроманьон  
 B) Палеотроп  
 C) Неандерталь

- D) Питекантроп  
E) Архантроп
245. Сыртқы паразиттерге мыналар жатады:  
A) Бүргелер  
B) Дөңгелек құрттар  
C) Ленталық құрттар  
D) Таспа құрттар  
E) Флюкстер
246. Жасушаның құрылымын зерттеу үшін қажет құрал:  
A) Микроскоп  
B) Ұлғайтқыш әйнек  
C) Телескоп  
D) Камера қақпаны  
E) Стетоскоп
247. Барлық тірі жасушалардың құрамында болатын нәрсе:  
A) Су  
B) Ядро  
C) Ауа  
D) Жасуша қабырғасы  
E) Аяқ-қолдар
248. Нанға немесе пирогқа қамыр жасау үшін сізге қажет нәрсе:  
A) Саңырауқұлақ ашытқысы  
B) Саңырауқұлақтар  
C) Бактериялар  
D) Жануарлар  
E) Вирустар
249. Қайсысы жауын құрттарының ең жақын туыстары?  
A) Сүліктер  
B) Планариялар  
C) Аскарис  
D) Сиыр етінің таспа құрты  
E) Гельминттер
250. Інжу-маржандар ненің нәтижесінде пайда болады?  
A) Қосжарнақты моллюскалардың тіршілік әрекеті  
B) Өктасқа күшті қысым болғанда  
C) Ежелгі жәндіктердің тіршілік әрекеті  
D) Көмірге күшті қысым болғанда  
E) Су тіршілігінің қалдықтарының трансформация процесі
251. Паразит құрттардың қай мүшесі жақсы дамыған?  
A) Көбею жүйесі  
B) Қозғалыс мүшелері  
C) Сезім мүшелері  
D) Жүйке жүйесі  
E) Есту мүшесі
252. Шаяндар қай топқа жатады?  
A) Өрмекшітәрізділерге  
B) Ұлуларға  
C) Шаянтәрізділерге  
D) Жәндіктерге  
E) Омыртқалыларға
253. Бауырымен жорғалаушылардың қосмекенділерден айырмашылығы:

- A) Терілері қабыршақтармен қапталған  
 B) Желбезектері жоқ  
 C) Өкпесі жоқ  
 D) Аяқ-қолдары жоқ  
 E) Сезім мүшелері жоқ
254. Төрт камералы жүрек қайсысында кездеседі?  
 A) Қолтырауындар мен альбатростарда  
 B) Шортандар мен сом балықтарда  
 C) Бақаларда  
 D) Жыландарда  
 E) Варан-кесірткелерде
255. Сүтқоректілерде жоқ нәрсе:  
 A) Киль  
 B) Мишық  
 C) Сілекей бездері  
 D) Құйрық  
 E) Аяқ-қолдар
256. Әлеуметтік жәндіктерге мыналар жатады:  
 A) Термиттер, құмырсқалар, аралар  
 B) Көбелектер, қоңыздар, инеліктер  
 C) Бүргелер, биттер, төсек қандалалары  
 D) Тарақандар  
 E) Шыбындар, масалар
257. Төмендегі сипаттамалардың қайсысы адамдарды жануарлардан ерекшелендіреді?  
 A) Мақсатты әрекет, шығармашылықпен айналысу қабілеті  
 B) Ұрпаққа қамқорлық жасау  
 C) Табиғи материалдарды пайдалану  
 D) Эмоциялар мен сезімдерді білдіру  
 E) Тітіркендіргіштерге жауап беру
258. Жалғыз адам билейтін дара билік және өз билігін мұраға қалдыратын басқару түрі:  
 A) Монархия  
 B) Демократия  
 C) Республика  
 D) Федерация  
 E) Диктатура
259. Әлеуметтік мобильділік нені сипаттайды?  
 A) Адамның қоғамның әлеуметтік құрылымындағы орнының өзгеруін  
 B) Мемлекеттің жаңа заңдарды қабылдауын  
 C) Жаңа бюджетті қабылдауын  
 D) Ел парламентін сайлау процесін  
 E) Тұлғаның өзгеруін
260. Тар мағынада «қоғам» ұғымы нені білдіреді?  
 A) Ортақ мақсаттармен, мүдделермен, шығу тегімен немесе мамандығымен, не белгілі бір тарихи кезеңмен біріктірілген адамдардың нақты тобы  
 B) Өткен, қазіргі және болашақтағы бүкіл адамзат  
 C) Табиғаттан бөлінген материалдық әлемнің бөлігі  
 D) Жалпы барлық адамдар  
 E) Ғаламның барлық тұрғындары
261. «Қоғам» термині кең мағынада нені білдіреді?

- A) Адам қауымдастықтарының барлық түрлерін және олардың өзара әрекеттесуін
- B) Туыстық байланыстарға негізделген адамдардың бірлестіктері
- C) Хоббилерге негізделген адамдардың бірлестіктері
- D) Жалпы барлық адамдар
- E) Ортақ мүдделер мен мақсаттармен біріккен адамдар тобы

262. Әлеуметтік құбылыстарды атаңыз:

- A) Мемлекеттің пайда болуы
- B) Нарықтың дамуы
- C) Адам сезімдерінің дамуы
- D) Сандық гаджеттердің пайда болуы
- E) Өнердің дамуы

263. Адам бойындағы биологиялық сипаттарды атаңыз:

- A) Мінез-құлық
- B) Өзін-өзі бағалау
- C) Дүниетаным
- D) Девиантты мінез-құлық
- E) Әдептілік

264. Әлеуметтік сипаттағы адами қасиеттерді көрсетіңіз:

- A) Өзін-өзі жүзеге асыруға ұмтылыс
- B) Жаулардан қорғану
- C) Тамақ пен суға деген қажеттілік
- D) Көбеюге деген ұмтылыс
- E) Тітіркендіргіштерге реакция

265. Андрейдің достары оны өз анасына өте ұқсас деп санайды. Мұны немен түсіндіруге болады?

- A) Тұқым қуалаушылық
- B) Жасы
- C) Интеллект
- D) Ойын-сауық
- E) Еліктеу

266. Білім дегеніміз не және ол неден тұрады?

- A) Білім беру – адамның ішкі дамуы мен дүниетанымын қалыптастыратын процесс
- B) Білім беру – диплом
- C) Білім беру – диплом немесе білімді растайтын кез келген құжат
- D) Білім беру – сертификат
- E) Білім беру – ақша табуға мүмкіндік беретін құжат

267. «Ұлт» терминінің дұрыс анықтамасын беріңіз.

- A) Жері, дәстүрі, мәдениеті, тілі, тарихы және мемлекеті ортақ этнотоп
- B) Азаматтық
- C) Жеке тұлға
- D) Адамзаттың мәдени дамуы
- E) Антропологиялық сипаттамалар

268. Тіл арқылы адамдардың қарым-қатынас жасау формасы қалай аталады?

- A) Сөйлеу
- B) Нәзік
- C) Түйсік
- D) Белсенділік
- E) Кинетика

269. Нәтижесі алдын ала белгілі жұмыс қалай аталады?

- A) Репродуктивті еңбек
- B) Коммерциялық
- C) Шығармашылық

- D) Продуктивті  
E) Ғылыми
270. Азамат 18 жасқа толғанда қандай құқықтарға ие болады?  
A) Сайлауда дауыс беру және парламентке сайлауға түсу құқығы  
B) Шетелде демалу құқығы  
C) Білім алу құқығы  
D) Қол сұғылмаушылық құқығы  
E) Қалағанын істеу құқығы
271. «Дербестік» терминінің дұрыс анықтамасын табыңыз:  
A) Табандылық, өзін-өзі тәрбиелеу, өз қабілеттеріне сенімділік және шындықты айқын бағалау арқылы мақсаттарға жету  
B) Қалағанын істеу  
C) Спорт  
D) Ойындар  
E) Демалыс
272. Айналадағы шындықты өзгертуге бағытталған адам әрекеті қалай аталады?  
A) Еңбек  
B) Спорт  
C) Ойындар  
D) Демалыс  
E) Ән айту
273. Адамға жаңа білім мен дағдыларды игеруге кедергі болатын терминді атаңыз:  
A) Менмендік  
B) Өзін-өзі тәрбиелеу  
C) Сыни ойлау  
D) Ішкі мотивация және мақсат қою  
E) Жүйелеу және жоспарлау
274. Неліктен ғалымдар адамдарды әлеуметтік тіршілік иелері ретінде сипаттайды?  
A) Адамдар тек қоғамда ғана қалыптасады және жүзеге асады  
B) Адамдар табиғи ортаның бөлігі  
C) Адамдар жануарлармен айналысады  
D) Адамдар әлеуметтік заңдылықтарды зерттейді  
E) Адамдар табиғатпен үйлесімді өмір сүреді
275. ҚОҒАМ ұғымының сипаттамасын таңдаңыз:  
A) Адамдар бірлестіктері және олардың қарым-қатынастары  
B) Ортақ мақсаттары мен идеалдары бар адамдар тобы  
C) Табиғатпен тығыз байланысты әлемнің бір бөлігі  
D) Тұтастай алғанда бүкіл адамзат  
E) Белгілі бір республикада тұратын адамдар
276. Қазіргі әлемде келесі әлеуметтік топтардың қайсысы бар?  
A) Қала тұрғындары  
B) Фермерлер  
C) Діни абыздар  
D) Туристер  
E) Гетералар
277. Кіші әлеуметтік топқа жатпайтын жауапты таңдаңыз.  
A) Христиандар  
B) Отбасы  
C) Спорт бөлімі

- D) Мектеп бөлімі  
E) Колледж
278. ЕГЕМЕНДІКТИҢ анықтамасын көрсетіңіз:  
A) Саяси тәуелсіздік және экономикалық автономия  
B) Елдің негізгі заңы  
C) Сот билігі  
D) Мемлекеттік биліктің тәуелсіздігі және үстемдігі  
E) Мемлекеттік шекаралардың болуы
279. Төмендегі ұғымдардың қайсысы қоғамда болып жатқан дамуды сипаттайды?  
A) Прогресс  
B) Регрессия  
C) Революция  
D) Эволюция  
E) Реформалар
280. Екі тараптың келіспеушіліктерді шешу үшін ортақ шешімге келу қабілеті қалай аталады?  
A) Компромисс, консенсус  
B) Конкуренция  
C) Инцидент  
D) Саммит  
E) Эскалация
281. Адамның ойлау, сараптау, шындық жайлы көзқарасын, өмірдегі өз орнын анықтау қабілетін қалай атауға болады?  
A) Саналылық  
B) Шығармашылық  
C) Биологиялық қажеттілік  
D) Физиологиялық қажеттілік  
E) Эстетикалық қажеттілік
282. Ұжымдық әрекет арқылы қалыптасқан әдеттер қалай аталады?  
A) Әдет-ғұрып  
B) Белгі  
C) Әдеп  
D) Мүлік  
E) Мерекелер
283. Төмендегілердің қайсысы этикет ережелеріне қатысты?  
A) Басқалармен қарым-қатынастағы сыпайылық  
B) Шіркеудегі діни шараларға қатысу  
C) Ұйықтар алдында балаңызға ертегі оқу  
D) Сапар алдында чемоданға отыру  
E) Дұға оқылғаннан кейін қолыңызбен бетіңізге сипау
284. Төмендегілердің қайсысы сарқылатын ресурстарға жатады?  
A) Топырақ  
B) Су энергиясы  
C) Күн энергиясы  
D) Ауа  
E) Ормандар
285. Табиғаттағы өзара байланыстарды, сондай-ақ адамдар мен табиғат арасындағы байланыстарды қандай ғылым зерттейді?  
A) Экология  
B) Геобиология  
C) Биология

- D) География  
E) Биохимия
286. Адамның ішкі тәртібі неге негізделеді?  
A) Өзін-өзі бақылау  
B) Заңның ықпалы  
C) Басқалардан сөгіс  
D) Жазадан қорқу  
E) Ләззат алу
287. Жоғары білімді қайдан алуға болады?  
A) Академиялар, институттар, университеттер, консерваториялар  
B) Даму курстары арқылы  
C) Гимназия арқылы  
D) Лицей арқылы  
E) Колледж арқылы
288. Адамдарға да, жануарларға да тән ортақ сипатты атаңыз:  
A) Ұрпақтарына қамқорлық жасау  
B) Тамаққа деген қажеттілік  
C) Сауаттылық  
D) Өз қалауларын білдіру  
E) Сөйлеу
289. Отбасылық құндылықты атаңыз:  
A) Отбасылық фотосуреттер  
B) Үй  
C) Достар  
D) Зергерлік бұйымдар  
E) Хоббилер
290. Гректер сандал ағашының қабығынан жасалған нәрсені өз денелерін қорғау үшін қолданған. Ол не нәрсе?  
A) Сандал – аяқ киімі  
B) Қалқан  
C) Қылыш  
D) Сауыт  
E) Дулыға
291. Алғашқы оранжереялар Францияда пайда болды. Олар не мақсатта қолданылған?  
A) Апельсин өсіру үшін  
B) Гүл өсіру үшін  
C) Тауық өсіру үшін  
D) Жылқы өсіру үшін  
E) Шошқа өсіру үшін
292. Ең биік шөп қалай аталады?  
A) Бамбук  
B) Банан  
C) Пампас шөбі  
D) *Miscanthus giganteus*  
E) Қиғаш
293. Анам бәліш пісірді. Саша оның  $\frac{1}{4}$  бөлігін, Маша қалғанының  $\frac{1}{3}$  бөлігін, ал әкем қалғанының жартысын жеді. Тәрелкеде 150 грамм қалды. Бастапқыда қанша бәліш болған?  
A) 600 грамм  
B) 400 грамм  
C) 200 грамм

D) 150 грамм

E) 100 грамм

294. Екі апалы-сіңлілінің жастарының қосындысы 11 жас. Біреуі екіншісінен 3 жас үлкен. Олардың әрқайсысы неше жаста?

A) 4 және 7 жаста

B) 5 және 8 жаста

C) 6 және 9 жаста

D) 3 және 6 жаста

E) 2 және 5 жаста

295. Құлпынай қанша тұрады?



A) 1

B) 2

C) 3

D) 4


E) 5

296. Киви қанша тұрады?



- A) 4
- B) 7
- C) 5
- D) 3
- E) 2

297. Макс екі сәтті соққы жасап, 4 ұпай жинады. Аня екі сәтті соққы жасап, 6 ұпай жинады. Енді қандай шарлар қалды?



- A) 5 және 6
- B) 1 және 2
- C) 4 және 6

D) 1 және 3

E) 3 және 4

298. Анасы мен қызының жасын табу керек. Олардың жасын қоссақ, 66 шығады. Анасының жасындағы цифрлардың орнын ауыстырсақ, қызының нақты жасы шығады. Анасы 59 жастан үлкен емес, ал қызы 7 жастан кіші емес. Олардың жасын табыңыз.



A) Анасы 59 жаста, қызы 7 жаста


B) 0 және 66

C) 6 және 60

D) 24 және 42

E) 15 және 51

299. Аю ойыншығы қанша тұрады?



A) 4

B) 5

C) 6

D) 3


E) 2

300. Люда кешкі жиынға дайындалып, өз гардеробына қарап тұр: оның төрт көйлегі мен үш жұп аяқ киімі бар. Сонда Люданың қанша киім нұсқасы бар?



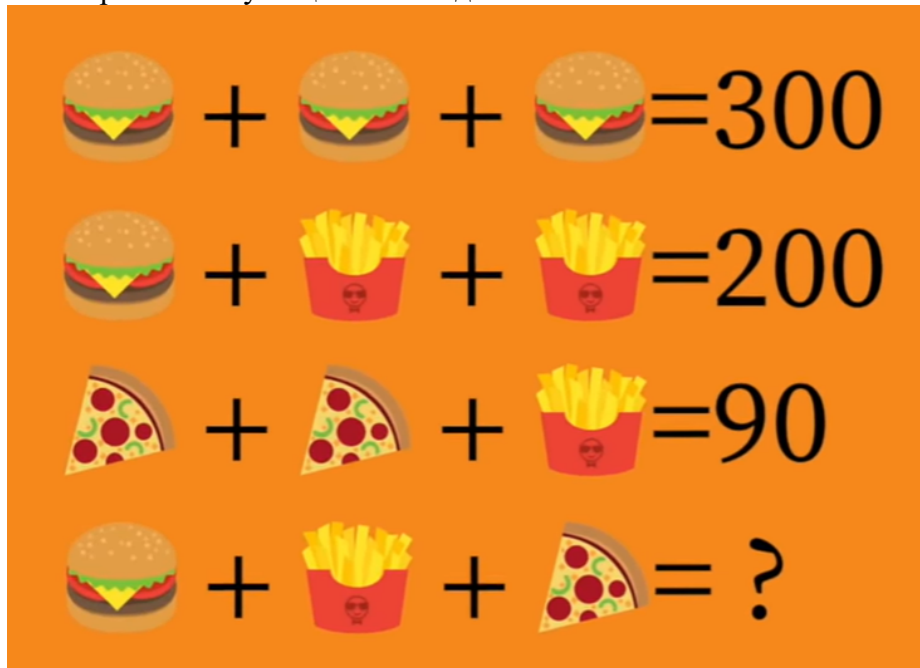
- A) 12
- B) 6
- C) 8
- D) 5
- E) 3

301. Вика, Полина және Коля суреттерді үш түсті қарындашпен: қызыл, көк және жасыл түстермен бояды. Вика қызыл емес және көк емес түстермен бояйды. Коля көк емес түстермен бояйды. Әр баланың қандай қарындашы болды?




- A) Виканың жасыл қарындашы, Полинаның көк қарындашы, Коляның қызыл қарындашы болды
- B) Виканың көк қарындашы, Полинаның қызыл қарындашы, Коляның жасыл қарындашы болды
- C) Виканың қызыл қарындашы, Полинаның көк қарындашы, Коляның жасыл қарындашы болды
- D) Полинаның жасыл қарындашы, Коляның көк қарындашы, Виканың қызыл қарындашы болды
- E) Полинаның қызыл қарындашы, Коляның көк қарындашы, Виканың жасыл қарындашы болды

302. Төртінші келуші қанша төледі?



- A) 170 теңге (100 + 50 + 20)
- B) 300 теңге (100 + 100 + 100)
- C) 200 теңге (100 + 100)
- D) 90 теңге (20 + 20 + 50)
- E) 150 теңге (50 + 50 + 50)

303. Желкенді қайықтың аты қандай?



- A) АССОЛЬ
- B) Виктория (Victoria)

- C) Санта-Мария (Santa María)  
D) Royal  
E) Паллада
304. Таразының бір басында ананас және салмағы 1 кг гір тасы тұр. Екіншісінде – екі ананас бар. Таразының екі басы тең болып тұр. Ананастың салмағы қанша?  
A) 1 кг  
B) 0,5 кг  
C) 1,5 кг  
D) 2,5 кг  
E) 2 кг
305. Анасы алмаларды үш ағайындыларға бөліп берді. Үлкені – барлық алмалардың жартысын, ортаңғысы – қалған алмалардың үштен бір бөлігін, ал кішісі соңғы 12 алманы алды. Бастапқыда қанша алма болған?  
A) 36 алма  
B) 30 алма  
C) 20 алма  
D) 26 алма  
E) 15 алма
306. Ағасы әпкесінен 5 жас үлкен. 3 жылдан кейін ол 14 жаста болады. Әпкесі қазір неше жаста?  
A) 6 жаста  
B) 5 жаста  
C) 4 жаста  
D) 3 жаста  
E) 7 жаста
307. Сөреде 18 кітап бар. Егер 4 кітап қоссаңыз, олардың саны екінші сөредегіден екі есе көп болады. Екінші сөреде қанша кітап бар?  
A) 11 кітап  
B) 10 кітап  
C) 13 кітап  
D) 12 кітап  
E) 14 кітап
308. «Мен ақ, қара, тәтті немесе ащы бола аламын. Мені әдетте жейді, сирек мас етеді. Мен кіммін?»  
A) Шоколад  
B) Балмұздақ  
C) Шарап  
D) Квас  
E) Тұздық
309. Жұмулы көздермен нені көруге болады?  
A) Түс  
B) Ертегі  
C) Кумир  
D) Құдай  
E) Қараңғылықты
310. Машаның әкесінің үш қызы бар: Алина, Вика... Үшінші қызының аты кім?  
A) Маша  
B) Алина  
C) Вика  
D) Алиса  
E) Оля
311. Жылдың неше айында 28 күн бар?

- A) Барлық айларда
  - B) Ақпанда
  - C) Желтоқсанда
  - D) Тамызда
  - E) Мамырда
312. Ит он метрлік арқанға байланып, екі жүз метр бойы түзу сызықпен жүрді. Ол мұны қалай істеді?
- A) Оның арқаны ештеңеге байланбаған болатын
  - B) Арқан шешіліп кеткендіктен
  - C) Ит бір жерде тұрды
  - D) Ит түс көрді
  - E) Ит ұйықтап жатыр еді
313. Әйнекті сындырмай өтетін не?
- A) Жарық
  - B) Дыбыс
  - C) Жебе
  - D) Оқ
  - E) Сурет
314. Қалалар бар, бірақ үйлер жоқ. Таулары бар, бірақ ағаштары жоқ. Су бар, бірақ балығы жоқ. Бұл не?
- A) Географиялық карта
  - B) Фильм
  - C) Сурет
  - D) Елес
  - E) Түс
315. Таңертең басын жоғалтып, түнде қайтып келетін не?
- A) Жастық
  - B) Бас киім
  - C) Гильотина
  - D) Сарқырама
  - E) Көл
316. Қалалар мен егістіктер арқылы өтетін, бірақ ешқашан қозғалмайтын нәрсе не?
- A) Жол
  - B) Метро
  - C) Жайылымдар
  - D) Таулар
  - E) Теңіз
317. Қажет болған кезде лақтырылады. Қажет болмаған кезде қайтарылады. Бұл не?
- A) Зәкір (якорь)
  - B) Егін
  - C) Жеміс өнімі
  - D) Кітаптар
  - E) Ақша
318. Басқалар шешінгенде, ол, керісінше, киінеді. Бұл не?
- A) Киім ілгіш
  - B) Ванна бөлмесі
  - C) Жағажай
  - D) Киім ауыстыратын бөлме
  - E) Сауна
319. Бес ағайынды әрқашан жақын жерде. Олардың үлкендігі әртүрлі және әрқайсысының өз атауы бар. Ол не?

- A) Саусақтар
  - B) Шар
  - C) Доп
  - D) Дөңгелек
  - E) Жылқылар
320. Тамақ жеу үшін арнайы сатып алғанмен, оларды жей алмайды.
- A) Ыдыс-аяқ
  - B) Кептірілген жемістер
  - C) Күнбағыс дәндері
  - D) Жартылай фабрикаттар
  - E) Сусындар
321. Он метрлік баспалдақтан жарақат алмай қалай секіруге болады?
- A) Төменгі баспалдақтан секіру керек
  - B) Баяу түсу
  - C) Жедел көмек күту
  - D) Арқанды пайдалану
  - E) Көзіңізді жұмып
322. Күннің орнын су иеленді, 600 жылдан кейін ол құммен ауыстырылды, ал тағы 1100 жылдан кейін олардың барлығы механизмдермен ауыстырылды. Ол не?
- A) Сағат
  - B) Фрескалар
  - C) Құлпытастар
  - D) Жиһаз
  - E) Диірмен
323. Қандай сөзде тек үш буын және барлығы 42 әріп бар?
- A) «Әліппе»
  - B) Қарбыз
  - C) Ананас
  - D) Жүзім
  - E) Қырыққабат
324. «Он екі ағайынды, бірінің соңынан бірі кезіп жүр, бір-бірін ешқашан тастап кетпейді». Бұл не?
- A) Жыл бойғы 12 ай
  - B) Шекара күзетшілері
  - C) Аңшы
  - D) Орман
  - E) Өзендер мен көлдер туыстары
325. Егер бес мысық бес тышқанды бес минутта ұстаса, бір мысықтың бір тышқанды ұстауы үшін қанша уақыт кеткен?
- A) Бес минут
  - B) Бір минут
  - C) Үш минут
  - D) Он минут
  - E) Екі минут
326. Кәдімгі сіріңкені су астында жағып, оны толығымен өртеп жіберуге бола ма?
- A) Иә, сүңгуір қайықта
  - B) Иә, көше шамының астында
  - C) Иә, оттықтың астында
  - D) Иә, шәйнек қайнап жатқан газ плитасының астында
  - E) Үй аквариумының астында
327. Үшi толған сөз, бiрақ ешқашан сөйлемейтiн нәрсе?

- A) Кітап
  - B) Дыбыс жазғыш
  - C) Микрофон
  - D) Ерік
  - E) Гаджет
328. Екі әке мен екі ұл серуендеп жүріп, үш апельсин тауып алды. Олар апельсиндерді бөліскенде әрқайсысына бір-біреуден тиді. Бұл қалай мүмкін болды?
- A) Олар үшеу еді: атасы, әкесі және ұлы
  - B) Барлығына бір-біреуден берілді
  - C) Көбірек жидек терді
  - D) Барлығын бірден жеуге болмайды
  - E) Ертеңге дейін сақтап қойды
329. Қандай ыдыстан ештеңе жей алмаймыз?
- A) Бос ыдыстан
  - B) Кір ыдыстан
  - C) Кішкентай ыдыстан
  - D) Тар ыдыстан
  - E) Қара ыдыстан
330. Шайды қай қолмен араластырған дұрыс?
- A) Қасық ұстаған қолмен
  - B) Оң қолмен
  - C) Сол қолмен
  - D) Бас бармақпен
  - E) Сұқ саусақпен
331. «Екі өте жылдам ат, шалғын арқылы қайың ағашына дейін, екі жолақты сүйреп, мені қардан алып өтеді». Ол не?
- A) Шаңғылар
  - B) Фэтон
  - C) Арба
  - D) Тіркеме
  - E) Рикша
332. Мен жас кезімде ұзын, ал қартайғанда аласа бойлымын. Мен не екенімді тап.
- A) Шам
  - B) Ұлу
  - C) Бас киім
  - D) Құрт
  - E) Көл
333. Қандай тілде дыбыссыз сөйлейді?
- A) Мылқаулар тілінде
  - B) Жануарлар тілінде
  - C) Балықтар тілінде
  - D) Қуыршақтар тілінде
  - E) Құстар тілінде
334. Қандай құс жұмыртқадан шығады, бірақ жұмыртқа салмайды?
- A) Өтеш
  - B) Асшаян
  - C) Шаян
  - D) Моллюска
  - E) Жылан
335. Торкөз себет қашан суды тартып алады?
- A) Су қатып, мұзға айналғанда
  - B) Су буға айналғанда

- С) Су қайнағанда  
D) Бөтелкеге құйылғанда  
E) Шай сүзілгенде
336. Бір адам отыр. Ол тұрып кетсе де, сіз оның орнына отыра алмайсыз. Ол қайда отыр?  
A) Тізеңізде  
B) Бұтақта  
C) Баспалдақта  
D) Орындықта  
E) Терезе алдында
337. Шерлок Холмс күйеуін неге күдікті деп санады?  
A) Шерлок күйеуіне мекенжайды айтпаған болатын  
B) Күйеуінің киімінде қан дақтары болған  
C) Бұл жұп жиі ұрысатын  
D) Әйелі ажырасуға өтініш берген  
E) Әйелі бай отбасынан шыққан
338. Теңізден шортан аулап, кейін оны суға қайта жіберетін ертегілік кейіпкер кім?  
A) Емеля  
B) Данышпан Василиса  
C) Иванушка  
D) Илья Муромец  
E) Добрыня Никитич
339. Қасқырлармен бірге өмір сүрген бала кім?  
A) Маугли  
B) Иван Царевич  
C) Витя Перестукин  
D) Иванушка  
E) Илья Муромец
340. Барлығын емдейтін жақсы дәрігер кім?  
A) Доктор Айболит  
B) Доктор Ана  
C) Доктор Ватсо  
D) Гиппократ  
E) Ибн Сина
341. Өмір сүру туралы әйгілі мультфильмдегі сөз тіркесі:  
A) «Жігіттер! Бейбіт өмір сүрейік»  
B) «Өмірді рахат үшін сүру керек»  
C) «Бәрі сізге қызғанышпен қарайтындай өмір сүру керек»  
D) «Табысқа емес, мағына беретін құндылықтарға ұмтылыңыз»  
E) «Адам бол!»
342. Ең қорқынышты өзен қандай?  
A) Тигр  
B) Ніл  
C) Үнді  
D) Ганг  
E) Евфрат
343. Ұзындығы, тереңдігі, ені немесе биіктігі жоқ, бірақ өлшеуге болатын нәрсе не?  
A) Температура және уақыт  
B) Жел  
C) Көкжиек  
D) Ымырт  
E) Түгін
344. Жер бетіндегі барлық адамдар бір уақытта не істейді?

- А) Жастары ұлғаяды  
 В) Ұйықтайды  
 С) Тамақтанады  
 D) Күледі  
 E) Жұмыс істейді
345. Адамдар өрмекшілерден аспалы көпірлер салуды үйренді, ал камера диафрагмасын және шағылыстыратын жол белгілерін мысықтардан алды. Ал жыландардың арқасында қандай өнертабыс ойлап табылды?  
 А) Шприц  
 В) Шарф байлау  
 С) Киімге арналған сыдырма  
 D) Колготки  
 E) Аяқ киім бауларын байлау
346. Жерден нені оңай алуға болады, бірақ алысқа лақтыруға болмайды?  
 А) Терек мамығын  
 В) Мысықтың жүнін  
 С) Жастық мамығын  
 D) Құс қауырсынын  
 E) Кілемнің шаңын
347. Бөлмеде үш шам жанып тұр. Жел біреуін сөндірді. Қанша шам қалды?  
 А) Бір  
 В) Екі  
 С) Үш  
 D) Жоқ  
 E) Бір жарым
348. Сіз ұшақта отырсыз; алдыңызда ат, артыңызда көлік тұр. Қайдасыз?  
 А) Карусельде  
 В) Түсімде  
 С) Қиял әлемінде  
 D) Карнавалда  
 E) Елес әлемінде
349. Соня алмаларын бес досымен бөлісті. Ол және оның достары жарты алмадан алды. Соняда қанша алма болды?  
 А) Үш  
 В) Екі жарым  
 С) Төрт  
 D) Бес  
 E) Әрқайсысы бір-бірден алды
350. Үш бала шахмат ойнап отырды. Олардың барлығы үш ойын ойнады. Егер барлығы бірдей ойнаса, әр бала қанша ойын ойнады?  
 А) 2  
 В) 1  
 С) 3  
 D) 4  
 E) 5
351. Қолтырауындар мен түйеқұстар хайуанаттар бағында тұрады. Барлығы 40 бас және 94 аяқ. Хайуанаттар бағында қанша қолтырауын мен түйеқұс бар?  
 А) 7 қолтырауын және 33 түйеқұс  
 В) 10 қолтырауын және 30 түйеқұс  
 С) 12 қолтырауын және 28 түйеқұс  
 D) 9 қолтырауын және 31 түйеқұс  
 E) 12 қолтырауын және 28 түйеқұс

352. Адамдар қандай жәндіктерді қолға үйреткен?
- A) Аралар
  - B) Бал аралары
  - C) Көбелектер
  - D) Шегірткелер
  - E) Май құрттары
353. Неліктен кірпі батып кете алмайды?
- A) Оның инелерінің іші қуыс
  - B) Олар жүзе алады
  - C) Су астында тынысын ұстай алады
  - D) Олар судан жеңіл
  - E) Олар тез әрекет етеді
354. Құлақ жапқыштары бар жалғыз құс қандай?
- A) Үкі
  - B) Делек
  - C) Қарға
  - D) Құс
  - E) Қаз
355. Бір фермердің 15 қойы болған. Бесеуінен басқасының бәрі өлген. Фермердің қанша қойы қалған?
- A) 5
  - B) 10
  - C) 0
  - D) 15
  - E) 3
356. Жемісі өте үлкен болатын өсімдікті атаңыз.
- A) Асқабақ
  - B) Қарбыз
  - C) Джекфрут
  - D) Дуриан
  - E) Ананас
357. Малайлар ішіне тірі торай қамап, құлыпталған бамбук торын пайдаланып нені аулайды?
- A) Питонды
  - B) Малай жолбарысын
  - C) Малай аюын
  - D) Бұлтты қабыланды
  - E) Тұзды су қолтырауынын
358. Ваняның 36 кәмпіті бар. Ол барлық кәмпіттерді достарына тең бөлді. Келесі сандардың қайсысы достарының саны бола алмайды?
- A) 5
  - B) 3
  - C) 4
  - D) 2
  - E) 1
359. XVII ғасырда Марко Арони қандай тағам ойлап тапты?
- A) Макарон
  - B) Спагетти
  - C) Палау
  - D) Лазанья
  - E) Пельмен

360. Галл діни абыздары соғыс кезінде сарбаздарды тез жинаудың ең тиімді жолын тапты. Ол қандай әдіс?
- A) Ең соңынан келген адамды құрбан етті
  - B) Дайындықпен келген адамды құрбан етті
  - C) Жиынға қатыспаған адамды құрбан етті
  - D) Бірінші келген адамға сыйлық берді
  - E) Бірінші болып жеткен адамды жоғары лауазымға тағайындады
361. Ницца қаласында ең ұзақ темекі шегетіндерге арналған байқау өтті. Бір қатысушы қатарынан 60 темекі шегіп, рекорд орнатты. Алайда, ол жүлде алмады. Неліктен?
- A) Ол қайтыс болды
  - B) Қате жолмен жүгірді
  - C) Ол есінен танып қалды
  - D) Ол жанжал шығарды
  - E) Ол қазылар алқасын сабады
362. Адамның он екі жұп қабырғасы бар. Ненің қабырғасы үш жүзге жуық?
- A) Жыландардың
  - B) Қырықаяқтардың
  - C) Құрттардың
  - D) Қолтырауындардың
  - E) Саламандрлардың
363. Адамдар жыл мезгіліне қарамастан бас киімдер мен қолғаптарды қайда киетін болған?
- A) Моншада
  - B) Қаріпте
  - C) Орманда
  - D) Тауларда
  - E) Үңгірлерде
364. Ең үлкен мүйіз қай жануардікі?
- A) Ақ мүйізтұмсық
  - B) Ватуси (үй бұқалары)
  - C) Алып бұғы
  - D) Су бөкені
  - E) Муфлон
365. Футбол төрешілері ысқырықтар пайда болғанға дейін қандай аспап қолданған?
- A) Қоңырау
  - B) Қызыл шүберек
  - C) Сары карта
  - D) Жасыл таяқша
  - E) Ақ шүберек
366. Аппақ болғанда – лас, ал жасыл болғанда – таза деп саналатын нәрсе?
- A) Қара тақта
  - B) Күзгі тротуар
  - C) Орман жолы
  - D) Жағажай
  - E) Батпақ
367. Машаға: «Сіз неше жастасыз?» деп сұрағанда, ол: «Екі жылдан кейін мен бес жыл бұрынғыдан екі есе үлкен боламын» деп жауап берді. Маша неше жаста?
- A) 12
  - B) 11
  - C) 10
  - D) 15
  - E) 14
368. Епископты, рыцарьды және патшаны оңай қозғалтатын күш иесі кім?

- A) Шахматшы
- B) Күшті адам
- C) Иллюзионист
- D) Жын
- E) Әскер

369. Италия туы қызыл, ақ және жасыл түсті. Италияндықтарға осы түстерді таңдауға көмектескен қандай жидек?

- A) Қарбыз
- B) Ананас
- C) Банан
- D) Жүзім
- E) Қызанақ

370. Патшалықтың символы саналатын гүл?

- A) Лилия
- B) Раушан
- C) Магнолия
- D) Орхидея
- E) Күнбағыс

371. Римдіктер оны «сасық өсімдік» деп, ал Пифагор оны «дәмдеуіштердің патшасы» деп атаған. Ол қандай өсімдік?

- A) Сарымсақ
- B) Пияз
- C) Қарбыз
- D) Картоп
- E) Қызанақ

372. Картоп пайда болғанға дейін Еуропадағы кедейлердің негізгі тамағы болған өсімдік. Біз мұны алты кейіпкерден тұратын қысқа ертегіден жақсы білеміз.

- A) Шалқан
- B) Қызылша
- C) Қырыққабат
- D) Сәбіз
- E) Қызылша

373. «Әдемі қыз, бірақ жүрегі тастан жаралған» жұмбағы не туралы?

- A) Шие
- B) Қызанақ
- C) Қарбыз
- D) Асқабақ
- E) Қызылша

374. Бір бөлше нанды үш бөлікке кесу үшін қанша рет кесу керек?

- A) Екі рет
- B) Үш рет
- C) Төрт рет
- D) Жарты рет
- E) Бір рет

375. Жүк көлігі ауылға бара жатты. Жолда төрт көлікке кезікті. Ауылға қанша көлік бара жатыр?

- A) Біреу
- B) Бір жүк көлігі және төрт көлік
- C) Төрт көлік
- D) Бес көлік
- E) Ешбір көлік

376. Екі рет туылады, бір рет өледі. Бұл кім?

- A) Тауық
- B) Жылан
- C) Тасбақа
- D) Шаян
- E) Бақа

377. Әрқашан көбейетін және ешқашан азаймайтын нәрсе не?

- A) Адамның жасы
- B) Артық салмақ
- C) Байлық
- D) Ақша
- E) Ағарған шаш

378. Жоғары-төмен жүретін, бірақ өзгеріссіз қалатын нәрсе не?

- A) Жол
- B) Тау
- C) Ағаш
- D) Ай
- E) Күн

379. Шикідей желінбейтін, бірақ піскен кезде лақтырылатын нәрсе не?

- A) Лавр жапырағы
- B) Сүйек
- C) Нан қабығы
- D) Балық қабыршағы
- E) Ұлу

380. Еуропалықтар оны Таитиге әкелген кезде, арал тұрғындары оны «басында тістері бар шошқа» деп атаған. Біз оны қалай атаймыз?

- A) Сиыр
- B) Бегемот
- C) Итбалық
- D) Піл итбалық
- E) Кашалот киті

381. Ғалымдар қолтырауынның денесіндегі артық тұздардан қалай арылатынын қалай түсіндіреді?

- A) Жылау арқылы арылады
- B) Бұралып, бұрылады
- C) Диета ұстайды
- D) Тек су ішеді
- E) Үздіксіз ұйықтайды

382. Соларға арнап орнатылған ескерткіштердің саны бойынша, адамдардан кейін екінші орында тұрған қай жануар?

- A) Жылқы
- B) Иттер
- C) Көгершіндер
- D) Альбатростар
- E) Аққулар

383. Акулаларға бір сәтке де тоқтауға мүмкіндік бермейтін, әйтпесе олардың суға шөгуіне себепші болатын мүше не?

- A) Жүзу қуығы
- B) Жүрек
- C) Бауыр
- D) Желбезектер
- E) Өкпе

384. Ненің тістері асқазанында орналасқан?

- A) Шаяндардың
  - B) Акулалардың
  - C) Қолтырауындардың
  - D) Киттердің
  - E) Бұландардың
385. XVI ғасырға дейін табиғатта ақ және сары сорттары ғана болған. Кейін голландиялық селекционерлер қызғылт сары түсті сортын шығарған. Бұл не?
- A) Сәбіз
  - B) Қызанақ
  - C) Қауын
  - D) Алма
  - E) Қызғалдақ
386. Соншалықты нәзік нәрсе бар, тіпті оның атын айтудың өзі оны жояды. Ол не?
- A) Үнсіздік
  - B) Құрмет
  - C) Сұлулық
  - D) Дұшпандық
  - E) Бейбітшілік
387. Аквариумда 10 балық бар. Екеуі суға батып, төртеуі жүзіп кетті, үшеуі өлді. Аквариумда қанша балық қалды?
- A) 10
  - B) 9
  - C) 8
  - D) 7
  - E) 6
388. Басқаларды құрғатқан сайын, өзі ылғалдана түсетін не?
- A) Сүлгі
  - B) Шаш кептіргіш
  - C) Сауна
  - D) Жағажай
  - E) Таулар
389. Ұсақ тесіктері көп, бірақ суды жақсы ұстайтын не?
- A) Губка
  - B) Шаңсорғыш
  - C) Шаш кептіргіш
  - D) Сүзгі
  - E) Пеш
390. Екі әке мен екі ұл балық аулап жүріп үш балық аулады. Әрқайсысына бір балықтан тиді. Бұл қалай мүмкін?
- A) Олар үшеу еді: атасы, әкесі және ұлы
  - B) Бұл атасы еді
  - C) Бұл әкесі еді
  - D) Бұл атасы мен оның ұлы еді
  - E) Әкесі мен ұлы еді
391. Жеті шам жанып тұрды. Үш шам сөніп қалды. Қанша шам қалады?
- A) Үш шам
  - B) Бір шам
  - C) Екі шам
  - D) Төрт шам
  - E) Бір жарым шам
392. Қанатсыз ұшып, көзсіз жылайтын не?

- A) Бұлттар
  - B) Кемпірқосақ
  - C) Бұршақ
  - D) Құстар тобы
  - E) Күзгі жапырақтар
393. Бөлмені толтыратын, бірақ орын алмайтын нәрсе не?
- A) Жарық
  - B) Иіс
  - C) Жел
  - D) Дауыл
  - E) Бу
394. Термометр көтеріліп, төмендейді, бірақ әрқашан бір орында тұрады. Бұл не?
- A) Температура көрсеткіші
  - B) Пештегі от
  - C) Шам жарығы
  - D) Ағын
  - E) Жәндіктер
395. Ол тірі емес, бірақ өседі. Өкпесі жоқ, бірақ ауа қажет. Аузы жоқ, бірақ судан өледі. Ол не?
- A) От
  - B) Сел
  - C) Мұхит
  - D) Дауыл
  - E) Карнавал
396. Аняның иттерінің аяқтары мұрындарынан 18-ге артық. Аняның қанша иті бар?
- A) 6
  - B) 5
  - C) 3
  - D) 1
  - E) 2
397. Денис пен Антон көпқабатты үйде тұрады. Антон Денистен 12 қабат жоғары. Денис жарты жолды көтерілгенде 8-қабатта болды. Антон қай қабатта тұрады?
- A) 14
  - B) 12
  - C) 16
  - D) 20
  - E) 2
398. Ол сөйлейді, бірақ сөйлемейді. Сөреде үнсіз жатады, ашқанда әріптер мен суреттер арқылы «сөйлей» бастайды.
- A) Кітап
  - B) Фильм
  - C) Ұялы телефон
  - D) Ноутбук
  - E) Теледидар
399. Оның қолдары бар, бірақ шапалақтай алмайды. Бұл қолдар үнемі қозғалып, маңызды сандарды көрсетеді.
- A) Сағат
  - B) Күнтізбе
  - C) Ұялы телефон
  - D) Ноутбук
  - E) Теледидар
400. Өткір тістері бар, бірақ ешқашан тістемейді, оның орнына тақтайларды кеседі.

- A) Ара
- B) Қолтырауын
- C) Кеміргіш
- D) Зәкір
- E) Пышак