



Мирас®
Университеті

**7M04201/7M04202 –
«Құқықтану» білім беру
бағдарламасы бойынша
түсу сынақтарының
бағдарламасы**

«Мирас» Университеті



Құқық секторы

«БЕКІТІМНІ»
Жаңа білім беру технологиялары мен бағдарламаларын сынақтан өткізу үшін экспериментті іске асыру жөніндегі жұмыс тобының отырысында

Даниярова А.В.-П.
(болшы) (Ф.И.О.)

« 21 » тамыз 2023 ж.



Қабылдау сынақтары
БАҒДАРЛАМАСЫ

7M04201
7M04202
(БББ атауы)

«

Құқықтану
Құқықтану
(БББ атауы)


»

Жаңа білім беру технологиялары мен бағдарламаларын сынақтан өткізу үшін экспериментті іске асыру жөніндегі жұмыс тобының отырысында қаралды және бекітілді.
Хаттама № 2 от « 21 » тамыз 2023 ж.

Шымкент, 2023 ж.

Қабылдау сынақтарының бағдарламасы 7М04201/7М04202 – «Жұқыстану» білім беру бағдарламасына кіретін оқу пәндерінің бағдарламалары негізінде жасалды

Бағдарламаны дайындаған з.ғ. к. аға оқытушы А. Ж. Жаналиева, магистр, аға оқытушы М. О. Алтаева

Сектор менеджері  Жуматаева Ж.А.

1. Терминдер мен анықтамалар

1. *Магистратура* – белгілі бір кәсіптік бағыт бойынша мамандануды тереңдетуге мүмкіндік беретін және алдағы Талдамалық, ғылыми-зерттеу және консультациялық қызметке сапалы дайындықты көздейтін бакалавриаттан кейінгі жоғары білім беру сатысы;

2. *МЖМББС* – Мемлекеттік жалпыға міндетті білім беру стандарты;

3. *Білім беру бағдарламасы* – оқытудың мақсаттарын, нәтижелері мен мазмұнын, білім беру процесін ұйымдастыруды, оларды іске асыру тәсілдері мен әдістерін, оқыту нәтижелерін бағалау өлшемдерін қамтитын білім берудің негізгі сипаттамаларының бірыңғай кешені;

4. *Білім алушылардың оқу жетістіктері* – білім алу процесінде алған және жеке тұлғаның қол жеткізілген даму деңгейін көрсететін білім алушылардың білімі, іскерліктері, дағдылары мен құзыреттері.

2. Нормативтік құжаттар

7M04201/7M04202 – Құқықтану Білім беру бағдарламасы бойынша түсу сынақтарының бағдарламасы мынадай нормативтік-құқықтық актілер негізінде әзірленді:

1. «Мирас» университетін эксперименттік алаң ретінде белгілеу туралы» ХҚКО-ның 2023 жылғы 16 тамыздағы №406 бұйрығы;

2. «Білім туралы» Қазақстан Республикасының 2007 жылғы 27 шілдедегі № 319-III Заңы (өзгертулермен және толықтырулармен);

3. «Мирас» университетінің Академиялық саясаты.

3. Жалпы ережелер

1. Қабылдау сынақтары БББ-ға енгізілген пәндердің жұмыс оқу бағдарламалары негізінде әзірленген осы бағдарлама шеңберінде өткізіледі.

2. 7M04 - Бизнес, басқару және құқық білім беру саласы бойынша қабылдау сынақтары – тест нысанында өткізіледі.

4. Қабылдау сынақтарының нәтижелері «Мирас» университетінің Академиялық саясатында келтірілген бағалау жүйесі бойынша бағаланады.

5. Қабылдау сынақтарының нәтижелері «Мирас» университетінің Академиялық саясатына сәйкес жарияланады.

4. 7M04201/7M04202 – Құқықтану білім беру бағдарламасының негізгі құзыреттері

Жалпы құзіреті (ЖҚ):

ЖҚ -1

Ғылым тарихы мен философиясы саласындағы білімді көрсету, ғылым философиясының негізгі ұғымдарын, логикалық талдаудың әдістері мен тәсілдерін білу қабілеті

ЖҚ -2

Жоғары мектептің дидактикасы саласындағы білімдерін, жоғары мектепте сабақ өткізу дағдыларын көрсету қабілеті

ЖҚ -3

Басқару қызметі субъектісінің психологиясы саласындағы білімді, сондай-ақ басқару қызметінің дағдылары мен қабілеттерін көрсету қабілеті

ЖҚ -4

Халықаралық кәсіби ортаға интеграциялану және кәсіби шет тілін мәдениетаралық, ғылыми және кәсіби қарым-қатынас құралы ретінде пайдалану қабілеті

Базалық құзіреті (БҚ):

БҚ -1

Кәсіби қызметтің тиісті салаларында құқықтық нормаларды іске асыру үшін маңызы бар ақпаратты жинау мен өңдеуді жүзеге асыру, өз бетінше зерттеулер жүргізу, ғылыми проблеманың өзектілігін тұжырымдау, ғылыми зерттеулер жүргізудің отандық және шетелдік тәжірибесін талдау және салыстыру, орындалған зерттеулердің нәтижелері бойынша ғылыми-техникалық есептерді, шолуларды, жарияланымдарды заңды түрде сауатты дайындау дағдыларын меңгеру қабілеті

БҚ -2

Заңсыз кәсіпкерлік фактілерін анықтау және экономикалық қызмет саласындағы қылмыстарды талдау, құқықтық және ұйымдастырушылық шараларды жетілдіру бойынша нақты ұсыныстар мен әдістемелік ұсынымдар әзірлеу, дайындау, кәсіби қызметте ақпараттық-коммуникациялық технологияларды пайдалану қабілеті

БҚ -3

Кәсіби қызметте нормативтік-құқықтық актілер мен еңбек заңнамасын қолдану қабілеті, еңбек құқығының даулы мәселелері бойынша өз ұстанымын дамыта білу, еңбек шарттарын жасау тәртібі мен құрылымын білу, әлеуметтік жұмысты құқықтық реттеу бойынша ғылыми негізделген практикалық ұсынымдар әзірлеу, еңбек құқығының өзекті мәселелері бойынша ғылыми зерттеулер жүргізу қабілеті

БҚ -4

Стандартты ғылыми міндеттерді шешу, білімдерін кеңейту және тереңдету, жағдайларды, құжаттар мен тәуекелдерді, құқықтың жекелеген нормалары мен институттарын, сондай-ақ құқықтық зерттеулерді құқықтық талдау әдістерін меңгеру; заң жазу саласындағы ғылыми-зерттеу дағдылары мен дағдыларын, құқықтану саласындағы Талдамалық жұмысқа тұжырымдамалық тәсілдерді қалыптастыра білу қабілеті

Кәсіптік құзіреті (КҚ):

КҚ -1

Жедел-іздігі қызметі саласында туындайтын жағдайларды талдау және оларды қолданыстағы заңнамаға сәйкес шешу, арнайы техниканы қолдану, тергеу және өзге де органдардың өзара іс-қимылын жалпылау қабілеті; жеке тұлға туралы Ар-намыс пен қадір-қасиетті құрметтеу, адам мен азаматтың құқықтары мен бостандықтарын сақтау және қорғау қабілеті

КҚ -2

Қылмыстық-атқару нормаларын талдау, түсіндіру және дұрыс қолдану, заңды маңызы бар шешімдерді қабылдау және негіздеу кезінде қорытындыларды пайдалану қабілеті; сот сараптамаларының әртүрлі түрлерін тағайындау кезінде мәселелерді тұжырымдау бойынша практикалық дағдыларды меңгеру, сараптамалық зерттеу үшін объектілерді таңдай білу; құқық саласында ғылыми зерттеулерді білікті жүргізу, ғылыми-педагогикалық зерттеулерді ұйымдастыру және жүргізу қабілеті

КҚ -3

Құқықтық фактілер мен құқықтық қатынастарды талдай білу, террористік экстремистік бағыттағы қылмыстарға қарсы іс-қимылдарда құқықтық нормаларды дұрыс қолдану, қылмыстық және криминалистикалық қызметтің негізгі заңдылықтары, ұйымдасқан қылмыс туралы криминологиялық ақпаратты талдай білу, Белгілі бір аумақта немесе объектіде криминогендік жағдайға баға беру қабілеті

КҚ -4

Кәсіби қызметтің нәтижелерін заңдық және өзге де құжаттамада дұрыс және толық көрсету, сондай-ақ зерттеу тақырыбы бойынша қорытындыларды жинақтау және тұжырымдау, зерттеу нәтижелері бойынша есептер дайындау, зерттеу жұмыстарын ұйымдастыруда алған дағдылары мен дағдыларын практикада пайдалану қабілеті

ҚҰҚЫҚТАНУ

Тест сұрақтарының үлгілік тізімі

1. Экономикалық және рухани бірлікпен және тіршілікті ұйымдастырудың тұтастығымен сипатталатын белгілі бір аумақтағы адамдардың қауымдастығы:
 - A) Қоғам
 - B) Табиғат
 - C) Тұтастық
 - D) Құрылым
 - E) Сапа
2. Мәжбүрлеу аппаратына негізделген мемлекеттің функцияларын іске асыратын өзара қатынастар жүйесі:
 - A) Мемлекеттік билік
 - B) Партия
 - C) Қоғамдық бірлестіктер
 - D) Саяси тәртіп
 - E) Қоғамдық қатынастар жүйесі
3. Адамзаттың жеке өкілі, басқалардан сыртқы түрі, бойы, салмағы және т. б. биологиялық ерекшеліктерімен ерекшеленеді:
 - A) Индивид
 - B) Тұлға
 - C) Жеке түр
 - D) Тұқымдас
 - E) Сапасы
4. Мемлекеттік биліктің ел ішіндегі және одан тыс кез келген өзге биліктен (саяси және идеологиялық) тәуелсіздігі, оның айрықша, монополиялық құқығында айқындалатын барлық істерін өз бетінше және еркін шеше алуы:
 - A) Мемлекеттік егемендік
 - B) Саяси жүйе
 - C) Саяси тәртіп
 - D) Мемлекеттік аппарат
 - E) Құқықтық реттеу
5. Мемлекеттің басқаруды қамтамасыз ету және қорғау функцияларын іске асыру бойынша практикалық жұмысты жүзеге асыратын мемлекеттік органдардың, мекемелер мен ұйымдардың тұтас, иерархиялық жүйесі (кешені):
 - A) Мемлекеттік аппарат
 - B) Құзірет
 - C) Мемлекеттің нысаны
 - D) мемлекеттің басқару нысаны
 - E) Құқықтық жүйе
6. Басқару және мемлекеттік аумақтық құрылым нысанында анықталатын елдегі мемлекеттік билікті ұйымдастыру:
 - A) Мемлекет нысаны
 - B) Құқық
 - C) Құқықтық реттеу
 - D) Құқықтық тәртіп
 - E) Құқық көздері

7. Заңдарда, мемлекет мойындайтын өзге де нормаларда бекітілген және заңды рұқсат етілген мінез-құлықтың өлшемі болып табылатын жалпыға бірдей міндетті нормалар жүйесі:

- A) Құқық
- B) Саясат көздері
- C) Құқық субъектілері
- D) Құқықтық жауапкершілік
- E) Патриотизм, білімділік

8. Құқықтық қатынастарға қатысатын құқықтар мен міндеттерге, құқық субъектілігіне ие бола алатын азаматтар, ұйымдар мен қоғамдық бірлестіктер:

- A) Құқық субъектілері
- B) Құқықтық жауапкершілік
- C) Құқықтық норма
- D) Құқықтық тәртіп
- E) Құқықтық жүйе

9. Заңды нормаларды қамтитын ресми құжат:

- A) Нормативтік акт
- B) Құқық жүйесі
- C) Құқық саласы
- D) Құқықтық жауапкершілік
- E) Құқықтық реттеу

10. Мемлекет пен құқықтың негізгі және жалпы заңдылықтары, олардың мәні, қоғамдағы мақсаты мен дамуы туралы жалпыланған білім жүйесі:

- A) Мемлекет және құқық теориясы
- B) Азаматтық құқық теориясы
- C) Формациалық теория
- D) Өркениет теориясы
- E) Циклдік теория

11. Ғылым пәнін түсіну құралдары мен тәсілдерінің жиынтығы:

- A) Әдіс
- B) Нәтиже
- C) Таным
- D) Жааратылыс
- E) Құру

12. Адамның әлемге және оның әлемдегі орнына деген көзқарасы жүйесі; жалпы көзқарасты, әлемді түсінуді, адамның осы әлемдегі орнын анықтайтын көзқарастар, бағалаулар, принциптер мен бейнелі түсініктер жиынтығы:

- A) Дүниетаным
- B) Сана
- C) Қабілет
- D) Қабылдау
- E) Елестету

13. Жаңа білімге жету, адамның санасында объективті шындықты көрсету процесі:

- A) Таным
- B) Тілек
- C) Сана

- D) Елестету
- E) Қабылдау

14. Адамның өз мүдделері мен мақсаттарына сәйкес әрекет ету, өзінің саналы таңдауын жүзеге асыру және өзін-өзі жүзеге асыру үшін жағдай жасау қабілеті:

- A) Еркіндік
- B) Қызығушылық
- C) Тілек
- D) Қызметі
- E) Қабылдау

15. Мемлекет, мемлекеттік биліктің жаратылысы Құдай, «Барлық билік Құдайдан» деп бекітетін және ол тезисті қорғайтын теория:

- A) Теологиялық
- B) Паритархальдық
- C) Экономикалық
- D) Әлеуметтік
- E) Психологиялық

16. Мемлекеттің пайда болуы әлеуметтік-экономикалық факторлармен, яғни жеке меншіктің пайда болуы және қоғамның таптарға бөлінуімен байланыстыратын теория:

- A) Материалистік теория
- B) Органикалық теория
- C) Психологиялық теория
- D) Келісім теориясы
- E) Күштеу теориясы

17. Адамдардың өзара әрекеттесуінің әртүрлі формалары, әртүрлі әлеуметтік топтар арасында пайда болатын байланыстар:

- A) Қоғамдық қатынастар
- B) Қоғам
- C) Жеке қатынастар
- D) Көпшіліктің қарым қатынасы
- E) Табиғи қатынастар

18. Зорлық-зомбылық теориясы бойынша мемлекеттің пайда болуының басты себебі:

- A) Бір халықтың екіншісін жаулап алу және басқаларға үстемдігін орнату
- B) Қалалардың, ақша мен қолөнердің пайда болуы
- C) Таптардың пайда болуы және олардың арасындағы күрес
- D) Адамдар арасында ерікті келісім жасасу
- E) Климаттық жағдайлардың өзгеруі және өндіріс құралдарының дамуы

19. Нормативтік актілерді дайындау және басып шығару жөніндегі мемлекеттің функциялары

- A) Құқықтық шығармашылық
- B) Құқық қорғау
- C) Ұйымдастырушылық – шаруашылық
- D) Ұйымдастырушылық – идеологиялық
- E) Қорғаншылық

20. Қоғамдық-саяси билік - бұл ... жүйесі.

- A) Билік өкілеттігі бар мемлекеттік органдар

- B) Қоғамның саяси өміріне қатысатын қоғамдық ұйымдар
- C) Нормалар, ережелер, әдет-ғұрыптар, мораль
- D) Саяси мекемелер, партиялар, қоғамдық қозғалыстар
- E) Нормативтік-құқықтық актілер

21. Құқықтық мемлекеттің негізгі белгісі:

- A) Заңның үстемдігі
- B) Дербес қоғамдық ұйымдардың болуы
- C) Бір діннің үстемдігі
- D) Бір партияның үстемдігі
- E) Мемлекет рәміздерінің болуы

22. Біртұтас Конституциясы, сот-құқықтық жүйесі, азаматтығы бар, өзінің мемлекеттілігі жоқ әкімшілік-аумақтық бірліктерден тұратын саяси біртекті мемлекет:

- A) Унитарлық
- B) Азаматтық
- C) Құқықтық
- D) Демократиялық
- E) Прогрессивті

23. Бірнеше рет қайталау нәтижесінде әдетке айналған мінез-құлықтың тарихи қалыптасқан ережесі:

- A) Әдет
- B) Норматив
- C) Заң
- D) Құқық нормасы
- E) Кодекс

24. Мемлекеттің мәні мен мақсатын анықтайтын мемлекет қызметінің негізгі бағыттары:

- A) Мемлекеттің функциясы
- B) Мемлекеттің теориясы
- C) Басқару нысаны
- D) Мемлекеттік құрылым нысаны
- E) Саяси тәртіп нысаны

25. Құқықтық мемлекеттің негізгі белгілері:

- A) Мемлекеттік егемендік
- B) Қоғамдық пікірді қалыптастыру
- C) Әлеуметтік топтардың мүдделерін білдіру
- D) Билікті жаулап алуға және жүзеге асыруға бағытталған
- E) Ұйымның болуы - басқарушы органдар, мүшелік, партия жарғысы

26. Қазақстан Республикасындағы мемлекеттің басқару нысаны

- A) Президенттік
- B) Парламенттік
- C) Унитарлы
- D) Федеративтік
- E) Конфедерация

27. Мемлекеттік биліктің жоғары органдарын ұйымдастыру, олардың құрылу тәртібі, қызмет мерзімі мен құзыретінің жүйесі, сондай-ақ осы органдардың бір-бірімен және халықпен өзара іс-қимыл жасау тәртібі және оларды қалыптастыруға халықтың қатысу дәрежесі:

- A) Басқару нысаны
- B) Мемлекеттік құрылым нысаны
- C) Саяси тәртіп
- D) Тоталитарлық тәртіп
- E) Аумақтық құрылым

28. Мемлекеттік биліктің жоғарғы органдарын белгілі бір мерзімге халық сайлайтын, не болмаса өкілдік мекемелері құратын басқару формасы:

- A) Республика
- B) Монархия
- C) Мемлекет
- D) Тоталитаризм
- E) Теократия

29. Мемлекеттегі саяси билікті жүзеге асырудың құралдары мен әдістердің жиынтығы:

- A) Саяси тәртіп
- B) Басқару
- C) Билік ету
- D) Тоталитаризм
- E) Аумақтық құрылым

30. Тоталитарлық саяси режимнің белгілері

- A) Биліктің билеуші азшылық қолында жалпы шоғырлануы
- B) Діни сенім бостандығы
- C) Көп партиялыққа еліктеу
- D) Билік органдарын қалыптастыру саяси көшбасшының жеке жанашырлығына сәйкес жүргізіледі
- E) Азаматтардың саяси құқықтары мен бостандықтарын айтарлықтай шектеу

31. Биліктің жалғыз көзі - халық деп танылатын саяси режим:

- A) Демократия
- B) Басқарма
- C) Теократия
- D) Тоталитаризм
- E) Сайлау құрылымы

32. Мемлекеттік құрылым нысаны бойынша Қазақстан болады:

- A) Унитарлық мемлекет
- B) Президенттік республика
- C) Аралас республика
- D) Авторитарлық республика
- E) Әкімшілік құрылғы

33. Мемлекеттік-аумақтық бірліктері заң тұрғысынан бекітілген саяси дербестік мәртебесіне ие болатын мемлекеттік құрылымның нысаны:

- A) Федерация
- B) Республика
- C) Монархия
- D) Конфедерация
- E) Одақ

34. Өздерінің егемендігі мен тәуелсіздігін толық сақтай отырып, белгілі бір әрекеттерді үйлестіру үшін өз билігінің бір бөлігін бірлескен билікке беретін, нақты мақсаттарға жету үшін біріккен тәуелсіз елдердің ерікті одағы:

- A) Конфедерация
- B) Республика
- C) Монархия
- D) Федерация
- E) Достастық

35. Сайлау құқығы бар адамдардың дауыс беруі арқылы жүзеге асырылатын мемлекеттік органды қалыптастыру немесе лауазымды адамға өкілеттік беру рәсімі:

- A) Сайлау
- B) Референдум
- C) Монархия
- D) Федерация
- E) Одақ

36. Саяси қайраткерлерді сайлауды ұйымдастырумен, дауыс беру нәтижелерін өткізу және анықтау тәсілімен және партиялар арасында мандаттарды бөлумен байланысты саяси институт:

- A) Сайлау жүйесі
- B) Сайлау
- C) Референдум
- D) Дауыс беру
- E) Атқару жүйесі

37. Белгілі бір саяси функцияларды жүзеге асыратын мемлекеттік және мемлекеттік емес әлеуметтік институттар жүйесі:

- A) Қоғамның саяси жүйесі
- B) Ерікті бірлестіктер
- C) Көзқарастардың бірлігі
- D) Органдардың еріктілігі
- E) Саяси билік

38. Заңның үстемдігін қамтамасыз ету мақсатын көздейтін, құқық нормалары сақталатын және адамдардың құқықтары мен бостандықтары қорғалатын мемлекет:

- A) Құқықтық мемлекет
- B) Авторитарлық мемлекет
- C) Парламент
- D) Үкімет
- E) Тоталитарлық мемлекет

39. Мемлекеттік міндеттерді орындайтын және ол үшін тиісті билік өкілеттіктеріне ие ұйым немесе мекеме:

- A) Мемлекеттік орган
- B) Құқықтық нормалар жүйесі
- C) Қоғамдық бірлестіктер
- D) Қоғамдық қозғалыстар
- E) Сайлау жүйесі

40. Мемлекет белгілейтін және қамтамасыз ететін және қоғамдық қатынастарды реттеуге бағытталған жалпыға міндетті, формальды түрде анықталған құқықтық нормалар жүйесі:

- A) Құқық
- B) Мораль
- C) Әдет-ғұрып
- D) Дәстүр
- E) Психология

41. Құқықтың негізгі дерек көздерін (формаларын) атаңыз

- A) Құқықтық әдет, сот прецеденті, нормативтік-құқықтық акт
- B) Құқықтық мәдениет, құқықтық сана
- C) Құқықтық қатынас, құқық бұзушылық, қылмыс
- D) Конституциялық құқық, әкімшілік құқық
- E) Конституциялық құқық, құқық бұзушылық

42. Адамдардың мінез-құлқын реттейтін қоғамда қабылданған нормалар, идеалдар, принциптер жүйесі:

- A) Мораль
- B) Көңіл күй
- C) Әдет ғұрып
- D) Дәстүр
- E) Психология

43. Қоғамдық қатынастарды реттеудегі құқықтың рөлін білдіретін, мінез-құлықтың көзқарастары мен мотивтерін қалыптастыратын құқықтық ықпал етудің негізгі бағыттары:

- A) Құқық функциясы
- B) Азаматтың функциясы
- C) Құқық объектілері
- D) Құқықтық қатынастардың мазмұны
- E) Мемлекеттің функциясы

44. Құқықтың арнайы заңды функцияларын атаңыз

- A) Реттеушілік, қорғаушы
- B) Тәрбиелік, көтермелеу
- C) Ұсыныстық, үстемдік
- D) Жазалаушы, бейбіт
- E) Тәрбиелік, отбасылық

45. Әр түрлі діндерде белгіленген және сенушілер үшін міндетті нормалар мен ережелер:

- A) Дін
- B) Жәй заңдар
- C) Заңдар
- D) Әдет ғұрып
- E) Заңға тәуелді актілер

46. Қоғамдық қатынастардың белгілі бір түрін (аясын) реттейтін құқықтық нормалардың реттелген жиынтығы

- A) Құқық саласы
- B) Әлеуметтік норма
- C) Құқық әдісі
- D) Құқық принциптері
- E) Құқықтық қатынастар

47. Құқықтық нормалардың негізгі элементтері

- A) Диспозиция, санкция, гипотеза
- B) Санкция, гипотеза, лицензия
- C) Санкция, лизинг, лицензия
- D) Гипотеза, санкция, лизинг
- E) Лицензия, патент, лизинг

48. Қазақстандағы өкілді және заң шығарушы билік органы:

- A) Парламент
- B) Үкімет
- C) Министерлік
- D) Комитеттер мен ведомствалар
- E) Соттар

49. Қазақстандағы атқарушы билік органы

- A) Үкімет
- B) Парламент
- C) Сот
- D) Конституциялық Кеңес
- E) Прокуратура

50. Тыйым салуға, міндеттеуге, жазалауға негізделген билік нұсқамаларының, бағыныстылықтың әдісі:

- A) Императивтік
- B) Диспозитивтік
- C) Ұсыныстық
- D) Ынталандыру
- E) Творчестволық

51. Қоғамдық қатынастардың белгілі бір тобын реттейтін құқықтық нормалардың реттелген жиынтығы:

- A) Құқықтық институт
- B) Құқық саласы
- C) Құқықтық нормалардың бірлігі
- D) Дәстүр
- E) Әдет ғұрып

52. Субъектінің қоғамдағы заңды бекітілген жағдайы:

- A) Тұлғаның құқықтық мәртебесі
- B) Тұлғаның сипаттамасы
- C) Тұлғаның абройы
- D) Мемлекеттік істерге қатысу
- E) Сайлауға қатысу

53. 1995 жылғы Қазақстан Республикасының Конституциясының бірінші бөлімін атаңыз

- A) «Жалпы ережелер»
- B) «Адам және азамат»
- C) «Жергілікті мемлекеттік басқару және өзін өзі басқару»
- D) «Президент»
- E) «Үкімет»

54. Заң шығарушы органдар немесе референдум ерекше тәртіппен қабылдаған, халықтың еркін білдіретін, жоғары заңды күшке ие және ең маңызды қоғамдық қатынастарды реттейтін нормативтік акт:

- A) Заң
- B) Әдет ғұрып
- C) Дәстүр
- D) Ереже
- E) Талаптар

55. Заңдар негізінде және оларды орындау үшін шығарылған құқықтық нормаларды қамтитын актілер:

- A) Заңға тәуелді актілер
- B) Заңдар
- C) Кодекстер
- D) Құқықтық прецедент
- E) Нормативтік келісім

56. Мінез құлық үлгісі ретінде қолданылатын қоғамдық қатынасқа қатысушылардың құқықтары мен міндеттерін реттейтін мемлекет мойындаған және қамтамасыз ететін жалпыға бірдей міндетті, формальды түрде анықталған мінез-құлық ережесі:

- A) Құқық нормалары
- B) Заңның кері күші
- C) Құқықтық прецедент
- D) Ғылыми баяндама
- E) Доктрина

57. Заң шығару процесінің маңызды кезеңдерінің бірін атаңыз:

- A) Заңнамалық бастама
- B) Халықтың міндетті қатысуы
- C) Партияның міндетті қатысуы
- D) Лауазымды тұлғалардың қатысуына жол беріледі
- E) Шет ел көшбасшыларына қатысуына жол беріледі

58. Нормативтік актілерді өзіндік мағынасын сақтай отырып, мазмұнын өзгертпей белгілі бір жинақтар мен жиылымдарға біріктірудің жүйелеу нысаны:

- A) Инкорпорация
- B) Консолидация
- C) Кодификация
- D) Біртектілік
- E) Әртүрлілік

59. Қатысушыларының тиісті субъективті құқықтары мен заңды міндеттері бар құқық нормаларымен реттелген қоғамдық қатынас:

- A) Құқықтық қатынас
- B) Отбасы қатынасы
- C) Мүліктік қатынас
- D) Қоғамдық қозғалыс
- E) Таңдау еркіндігі

60. Тиісті субъективті құқықтары мен заңды міндеттерге ие, құқықтық қатынастарға қатысушылар:

- A) Құқықтық қатынастың субъектілері

- В) Құқықтық қатынастың объектілері
- С) Құқықтық қатынастың құрылымы
- Д) Құқық нормалары
- Е) Материалдық қатынастар

61. Еңбек шарты бойынша қызметкердің міндеті:

- А) Ішкі еңбек тәртібін сақтау
- В) Демалыс уақытын жұмыс берушімен келісу
- С) Күн сайын әр іс бойынша жазбаша есеп беру
- Д) Партия мүшесі болу
- Е) Қызмет түрін еркін таңдау

62. Сынақ мерзімі белгіленеді

- А) Үш айдан аспайтын мерзімге
- В) Бір ай мерзімге
- С) Екі айдан аспайтын мерзімге
- Д) Екі апта мерзімге
- Е) Белгіленбейді

63. Кәмелетке толмағандар үшін заңда белгіленген бір апталық жұмыс уақытының ұзақтығы:

- А) 36 сағат
- В) 40 сағат
- С) 41 сағат
- Д) 28 күн
- Е) 15 сағат

64. Мәжбүрлі түрде жұмысқа тартуға мүмкіндік беретін мән-жай:

- А) Төтенше жағдайлар кезінде
- В) Қызметкерлердің өзара келісімі бойынша
- С) Отбасылық мән-жайлар бойынша
- Д) Кез келген уақытта
- Е) Дұрыс жауап жоқ

65. Түнгі сағат 12-де көршілер қабырғаны бұрғылай бастады. Олар қандай құқық бұзушылыққа жол береді?

- А) Әкімшілік теріс қылық
- В) Қылмыстық құқық бұзушылық
- С) Тәртіптік теріс қылық
- Д) Халықаралық қылмыс
- Е) Азаматтық құқық бұзушылық

66. Сот әрекетке қабілетсіз деп таныған, кәмелетке толмаған адамдарды қорғаудың құқықтық нысаны:

- А) Қамқоршылық
- В) Патронат
- С) Шарт
- Д) Отбасы
- Е) Неке

67. Кәмелетке толмаған адамдардың құқықтық жағдайы

- А) Балалық шақ

- B) Патронат
- C) Қамқоршылық
- D) Алимент
- E) Отбасы

68. Құқық нормасы белгілі бір заңды салдардың басталуын байланыстыратын нақты өмірлік жағдай (шарт, ситуация):

- A) Құқықтық факті
- B) Заңдар
- C) Құқықтық нормаларды іске асыру
- D) Құқықты қолдану
- E) Заңды қақтығыстар

69. Азаматтың өз іс-әрекеттерімен азаматтық құқықтарды алу және жүзеге асыру, өзі үшін азаматтық міндеттер құру және оларды орындау қабілеті:

- A) Азаматтық іс әрекет қабілеттілігі
- B) Құқық қабілеттілігі
- C) Заңды тұлға
- D) Субъект
- E) Нысан

70. Қайтыс болғаннан кейін өз мүлкіне билік ету бойынша өз еркін білдіру

- A) Өсиет
- B) Қол хат
- C) Тапсырма
- D) Кепілдік
- E) Беру

71. Кез келген уақытта өсиеттің күшін өзгерте немесе жоя алады

- A) Өсиет қалдырушы
- B) Туысы
- C) Кепілгер
- D) Кепіл беруші
- E) Нотариус

72. Азаматтардың негізгі заңды қасиеттері

- A) Құқық қабілеттілігі және әрекет қабілеттілігі
- B) Төлем қабілеттілігі
- C) Физикалық денсаулық
- D) Сайлау және сайлану мүмкіндігі
- E) Өз елінің патриоты болу

73. Жанама дауыс беру арқылы сайланатын мемлекеттік орган

- A) Сенат
- B) Мәжіліс
- C) Мәслихат
- D) Президент
- E) Конституциялық сот

74. Мемлекет органдарының, лауазымды тұлғалардың, қоғамдық ұйымдардың, жекелеген азаматтардың құқық нормаларының мазмұнын түсіндіруге, билікте тұрған әлеуметтік күштердің білдірген ерік-жігерін ашуға бағытталған қызметі:

- A) Құқық нормаларына түсіндірме

- В) Құқық нормаларын бөлу
- С) Заңды мінез-құлық
- Д) Адамдардың бірлескен қызметі
- Е) Адамдардың бірлестіктері

75. Қоғамның, мемлекеттің, жеке тұлғаның мүдделеріне зиян келтіретін және заңды жауапкершілікке әкеп соғатын адамның кінәлі, құқыққа қайшы, қоғамдық-қауіпті іс-әрекеті:

- А) Құқық бұзушылық
- В) Құқық қабілеттілік
- С) Қоғамдық айыптау
- Д) Заңды жауапкершілік
- Е) Құқықтық қабілеттілік

76. Құқық бұзушылық жасаған адамдарға белгіленген процестік тәртіппен мемлекеттік мәжбүрлеу шараларын қолдану:

- А) Құқықтық жауапкершілік
- В) Құқық бұзушылық
- С) Құқық міндеттілік
- Д) Заңды құқық қабілеттілік
- Е) Құқықтық оқиға

77. Қоғамдық сананың ерекше формасы, адамдардың құқыққа деген көзқарасын білдіретін идеялар мен сезімдердің, көзқарастар мен эмоциялардың, бағалаулар мен көзқарастардың жиынтығы:

- А) Құқықтық сана
- В) Құқықтық мәдениет
- С) Нормативтік акт
- Д) Құқық субъектілік
- Е) Құқықтық қызмет

78. Субъектінің өз қалауы бойынша мүлікті иелену, пайдалану және оған билік ету құқығы:

- А) Меншік құқығы
- В) Құқық субъектілік
- С) Құқық қабілеттілік
- Д) Құқықтық қатынас
- Е) Құқықтық әрекет

79. Әрекетке қабілетсіз адам

- А) Ақыл есі кем
- В) Мүгедек
- С) Ауру
- Д) Апатқа ұшыраған
- Е) Сал ауруына шалдыққан

80. Екі немесе бірнеше адамның азаматтық құқықтар мен міндеттерді белгілеу, өзгерту немесе тоқтату туралы келісімі:

- А) Шарт
- В) Консенсус
- С) Заңды мінез-құлық
- Д) Адамдардың бірлескен қызметі
- Е) Таңдау

81. Белгілі бір қылмыс жасағаны үшін кінәліге қолданылатын жазаның мөлшері мен түрін анықтайтын қылмыстық-құқықтық норманың бөлігі:

- A) Санкция
- B) Гипотеза
- C) Диспозиция
- D) Мазмұны
- E) Таңдау

82. Қылмыстық кодексте жазалау қауімімен тыйым салынған кінәлі қоғамға қауіпті әрекет:

- A) Қылмыс
- B) Теріс қылық
- C) Әрекет
- D) Әрекетсіздік
- E) Іс әрекет

83. Қылмыс құрамының субъективті жағының белгісі:

- A) Кінә
- B) Әрекет
- C) Әрекетсіздік
- D) Қылмыс құралы
- E) Жазаға тарту

84. Құқық бұзушылықтың негізгі түрлері

- A) Қылмыс, теріс қылық
- B) Қылмыс және жаза
- C) Құқық бұзушылық және теріс қылық
- D) Шағын және орташа ауыр
- E) Ауыр және аса ауыр

85. Төменде келтірілгеннен азаматтық құқық принципін көрсетіңіз:

- A) Меншікке қол сұғылмаушылық
- B) Азаматтық құқықтардың қауіпсіздігі
- C) Шет ел тауарларын бақылау
- D) Шет ел азаматтарын бақылау
- E) Азаматтардың құқытары мен бостандықтарын шектеу

86. Егер оның тұрғылықты жері бойынша мәліметтер болмаса, азамат қай мерзім ішінде хабар-ошарсыз кетті деп танылуы мүмкін екенін көрсетіңіз:

- A) 1 жыл
- B) 3 жыл
- C) 2 жыл
- D) 6 ай
- E) 3 ай

87. Азаматты дараландырудың маңызды құралын көрсетіңіз:

- A) Аты
- B) Тұрғылықты жері
- C) Мемлекет
- D) Жасы
- E) Мінез құлқы

88. Азаматты туыстарынан өтініш болған жағдайда хабар ошарсыз кетті деп ... жариялауы мүмкін.
- A) Сот
 - B) Қамқоршылық және қорғаншылық органдары
 - C) Прокуратура органдары
 - D) АХАТ органдары
 - E) ПО
89. Адамдарды жынысы, әлеуметтік шығу тегі, сенімі, мүліктік жағдайы бойынша бөлінуге тыйым салу:
- A) Заң алдындағы теңдік
 - B) Дискриминация
 - C) Адамдардың еркі
 - D) Тұлғаның еркі
 - E) Мәжбүрлеу
90. Жолаушының багажды оны тасымалдаушының межелі пунктке жеткізу үшін тапсыруы ресімделеді:
- A) Багажға берілген квитанциямен
 - B) Жол жүру билетіндегі белгімен
 - C) Тасымалдаушының қолхатымен
 - D) Коносаментпен
 - E) Консенсуальды
91. Жеке тұлғаның мемлекетпен тұрақты саяси-құқықтық байланысы:
- A) Азаматтық
 - B) Құқықтар
 - C) Адамдардың еркі
 - D) Тұлғаның еркі
 - E) Мемлекеттің еркі
92. 14 жасқа дейінгі адамның келтірген зияны өтеледі:
- A) Оның ата анасы немесе қамқоршысымен
 - B) Мектеп мұғалімімен
 - C) Мектеп директорымен
 - D) Қамқоршылық органымен
 - E) Қорғаншылық органымен
93. Азаматтық-құқықтық нормалардың негізінде жатқан ең маңызды (бастама) идеялар
- A) Принциптер
 - B) Критерилер
 - C) Формулалар
 - D) Заңдар
 - E) Фактілер
94. Азаматтық-құқықтық құқықтық актінің негізгі түрі ретінде, азаматтық құқықтар мен міндеттерді белгілеуге, өзгертуге немесе тоқтатуға бағытталған бір немесе бірнеше құқық субъектілерінің (азаматтар мен заңды тұлғалардың) саналы ерікті заңды әрекеті:
- A) Мәміле
 - B) Таңдау
 - C) Азаматтық
 - D) Консенсус

Е) Тілек

95. Қос азаматтығы бар адам:

- А) Бипатрид
- В) Монопатрид
- С) Полипатрид
- Д) Босқын
- Е) Сол мемлекеттің субъектісі

96. Жасалған қылмыс үшін қылмыстық заңда белгіленген жаза немесе өзге де қылмыстық-құқықтық сипаттағы шаралар:

- А) Қылмыстық жауаптылық
- В) Әкімшілік жауаптылық
- С) Плюрализм принципі
- Д) Азаматтық жауаптылық
- Е) Тәртіптік жауаптылық

97. Қоғамдық қауіпті әрекетті нақты қылмыс ретінде сипаттайтын қылмыстық заңда бекітілген объективті және субъективті белгілердің жиынтығы:

- А) Қылмыс құрамы
- В) Қылмыс құрылымы
- С) Қылмыс категориясы
- Д) Қылмыс объектісі
- Е) Қылмыс субъектісі

98. Қылмыстық жауаптылық жасына жеткен жеке, есі дұрыс адам:

- А) Қылмыс субъектісі
- В) Қылмыс объектісі
- С) Қылмыстың объективтілік жағы
- Д) Қылмыстың субъективтілік жағы
- Е) Қылмыстың мазмұны

99. Қылмыс жасаған адам өзінің іс-әрекетінің (әрекетсіздігінің) әлеуметтік қауіпті сипатын түсінеді, әлеуметтік қауіпті салдардың туындау мүмкіндігін немесе сөзсіз болуын алдын ала біледі және олардың басталуын тілейді

- А) Тікелей ниетпен жасалған
- В) Жанама ниетпен жасалған
- С) Болжау
- Д) Тілек
- Е) Альтернативті ниет

100. Қазақстан Республикасының бүкіл аумағында Қазақстан Республикасы Конституциясының үстемдігін қамтамасыз ететін Қазақстан Республикасындағы жоғары сот органы:

- А) Конституциялық сот
- В) Жоғарғы Пленум
- С) Облыстық сот
- Д) Сот Пленумы
- Е) Мамандандырылған сот

101. Мемлекеттің басты белгісі:

- А) Барлығына міндетті заңдар шығару құқығы

- B) Идеологиялық әсер
- C) Мүшелік еріктілігі
- D) Саяси партиялардың құрылуы
- E) Жеке көздерден қаржыландыру

102. Мемлекеттің қоғамның саяси-аумақтық ұйымы ретіндегі негізгі белгісі:

- A) Егемендік
- B) Қайырымдылық
- C) Моральдық нормалар
- D) Отбасылық дәстүрлер
- E) Тіл бірлігі

103. Мемлекеттің міндетті аумақтық белгісі:

- A) Мемлекеттік шекара
- B) Ұлттық мәдениет
- C) Экономикалық саясат
- D) Идеология
- E) Символизм

104. Демократиялық мемлекеттегі мемлекеттік биліктің негізгі көзі:

- A) Халық
- B) Полиция
- C) Парламент
- D) Бюрократия
- E) Президент

105. Мемлекетті басқа ұйымдардан ерекшелендіретін белгі:

- A) Басқару және мәжбүрлеу аппаратының болуы
- B) Ұжымдық басшылықтың болуы
- C) Діни бағытта болуы
- D) Ерікті мүшелікте болуы
- E) Волонтерлік қызметте болуы

106. Мемлекеттің өмір сүру мақсаттарының бірі:

- A) Тәртіп пен тұрақтылықты қамтамасыз ету
- B) Идеологияның таралуы
- C) Өндірісті ұлғайту
- D) Шоу-бизнесі қолдау
- E) Қызметтерді жарнамалау

107. Мемлекеттің ішкі және сыртқы саясатты дербес жүзеге асыру қабілеті:

- A) Егемендік
- B) Партиялық тәртіп
- C) Мүліктік қатынастар
- D) Мәдени автономия
- E) Аумақтық бөлініс

108. Мемлекеттің қоғамдық қатынастарға әсер етуінің негізгі әдісі:

- A) құқықтық реттеу
- B) моральдық сенім
- C) діни уағыз
- D) ерікті келісімдер

Е) Дәстүрлер

109. Заңдардың орындалуын қамтамасыз ететін мемлекет құрылымының элементі:

- A) атқарушы билік
- B) азаматтық қоғам
- C) оппозициялық партиялар
- D) бұқаралық ақпарат құралдары
- E) коммерциялық ұйымдар

110. Егемендігі бар қоғамдық биліктің аумақтық ұйымы:

- A) Мемлекет
- B) Халық
- C) Қоғам
- D) Әлеуметтік топ
- E) Саяси партия

111. Мемлекеттің заңды күш қолдану монополиясы ретіндегі белгісі:

- A) Мәжбүрлеу аппараты
- B) Сот жүйесі
- C) Армия
- D) Саяси режим
- E) Азаматтық қоғам

112. Кез келген мемлекеттің міндетті белгісі:

- A) аумақтың болуы
- B) білім
- C) идеология
- D) өмір сүру деңгейі
- E) дүниетаным

113. Билік орталықта шоғырланған мемлекеттік құрылымның нысаны:

- A) Унитарлық мемлекет
- B) Федерация
- C) Конфедерация
- D) Одақтас мемлекет
- E) Орталықтандырылмаған жүйе

114. Мұрагерлік пен жеке басқаруға негізделген биліктің тарихи нысаны:

- A) Монархия
- B) Республика
- C) Демократия
- D) Теократия
- E) Ақсүйектер

115. Қоғам ішіндегі тұрақтылықты қамтамасыз етуге және азаматтардың құқықтарын қорғауға бағытталған функция:

- A) құқық қорғау қызметі
- B) экологиялық функция
- C) тәрбие функциясы
- D) демографиялық функция
- E) ақпараттық функция

116. Мемлекеттің өз шекараларын, егемендігін және ұлттық қауіпсіздігін қорғау жөніндегі қызметі:
- A) қорғаныс функциясы
 - B) қаржылық функция
 - C) мәдени функция
 - D) моральдық функция
 - E) эстетикалық функция
117. Мемлекеттің экономикадағы тәртіпті қамтамасыз етуі, меншікті реттеу және ресурстарды бөлу:
- A) экономикалық функция
 - B) әлеуметтік функция
 - C) саяси функция
 - D) құқықтық функция
 - E) қаржылық-кредиттік функция
118. Әлеуметтік әділеттілікті, аз қамтылғандарды қолдауды және осал топтарды қорғауды қамтамасыз ету:
- A) әлеуметтік функция
 - B) салық функциясы
 - C) халықаралық функция
 - D) рухани-адамгершілік функциясы
 - E) қаржы саясаты
119. Мемлекеттің халықаралық қатынастармен байланысты елден тыс қызметі:
- A) сыртқы саяси функция
 - B) ақпараттық саясат
 - C) әкімшілік функция
 - D) қаржылық бақылау
 - E) ішкі егемендік
120. Құқықтық жүйені қалыптастыруға, қорғауға және дамытуға байланысты мемлекеттің қызметі:
- A) құқықтық функция
 - B) әскери функция
 - C) демографиялық функция
 - D) мәдени-тарихи миссия
 - E) рекреациялық қызмет
121. Құқықтық және ұйымдастырушылық шаралар жүйесімен қамтамасыз етілген мемлекет функцияларын іске асыру нысандары:
- A) функцияларды іске асыру тетіктері
 - B) басқару нысаны
 - C) азаматтық принциптері
 - D) Конституциялық нормалар
 - E) саяси дәстүрлер
122. Мемлекет функцияларын тұрақты және уақытша деп бөлу мынадай негізде жүзеге асырылады:
- A) әрекет ету ұзақтығы
 - B) мақсаттардың басымдығы
 - C) басқару нысаны

- D) құқықтық дереккөзге
- E) аумақтық белгіге

123. Мемлекет өз функцияларын жүзеге асыратын әдістер мен тәсілдердің жиынтығы:

- A) мемлекеттік басқару әдістері
- B) құқық көздері
- C) заңнама деңгейлері
- D) саяси режимдер
- E) жауапкершілік түрлері

124. Қызметі заңның үстемдігіне, биліктің бөлінуіне және адам құқықтарын қорғауға негізделген мемлекет:

- A) құқықтық мемлекет
- B) әлеуметтік мемлекет
- C) авторитарлық мемлекет
- D) Федерация
- E) полиция мемлекеті

125. Азаматтардың мүдделерін білдіретін және олардың қоғамды басқаруға қатысуын қамтамасыз ететін мемлекеттік емес институттардың жиынтығы:

- A) Азаматтық қоғам
- B) Саяси партия
- C) Атқарушы билік органдары
- D) Конституциялық сот
- E) Муниципалитет

126. Заңның ең жоғары заңды күші бар және Барлығы үшін міндетті болып табылатын қағида:

- A) заңның үстемдігі
- B) саяси плюрализм
- C) баспасөз тәуелсіздігі
- D) әлеуметтік әділеттілік
- E) Қоғамдық шарт

127. Тоталитарлық мемлекеттік-саяси режимнің ерекшелігі неде?

- A) мемлекеттің рөлін шамадан тыс арттыруда, билеуші элитаның қолында билікті шоғырландыруда
- B) жеке тұлғаның жан-жақты және еркін дамуы, оны толыққанды пайдалану үшін жағдай жасау
- C) либералды идеялардың басымдығымен ерекшеленеді, оларды толығымен жүзеге асырады
- D) мемлекеттің қоғамдық өмірге, мемлекеттің тәуелсіздігіне араласуын шектеу
- E) тоталитарлық режим жергілікті өзін-өзі басқаруды дамытуға мүдделі

128. Азаматтарды еркін біріктіру мүмкіндігінен тұратын азаматтық қоғамның белгісі:

- A) қауымдастық бостандығы
- B) тікелей басқару
- C) әкімшілік бақылау
- D) әскери жағдай
- E) сот практикасы

129. Еңбекшілердің мүдделерін білдіретін және олардың құқықтарын қорғайтын азаматтық қоғамның элементі:
- A) Кәсіподақтар
 - B) Прокуратура
 - C) Сот
 - D) Жергілікті әкімдік
 - E) Жоғарғы Кеңес
130. Құқықтық мемлекеттің қызметі негізделетін негізгі құқықтық акт:
- A) Конституция
 - B) Әкімшілік кодекс
 - C) Жергілікті өзін-өзі басқару туралы Заң
 - D) Азаматтық кодекс
 - E) Қылмыстық кодекс
131. Барлық актілердің заңға сәйкестігін білдіретін құқықтық мемлекеттің сипаттамасы:
- A) Заңдылық
 - B) Орталықтандыру
 - C) Федерализм
 - D) Тұрақтылық
 - E) Еңбек құқығы
132. Мемлекеттік билік заң шығарушы, атқарушы және сот болып бөлінеді деген қағида нені білдіреді:
- A) биліктің бөлінуі
 - B) федеративті құрылғы
 - C) президенттік республика
 - D) халықтық егемендік
 - E) өкілдік принципі
133. Адамдар арасындағы қатынастарды реттейтін мемлекет белгілеген жалпыға міндетті мінез-құлық ережелері:
- A) құқық нормалары
 - B) әдет-ғұрыптар
 - C) дәстүрлер
 - D) қоғамдық пікір
 - E) прецеденттер
134. Қоғамдық қатынастарды реттейтін құқықтық нормалардың жиынтығы:
- A) құқықтық жүйе
 - B) әлеуметтік топ
 - C) білім беру жүйесі
 - D) әкімшілік рәсім
 - E) қоғам
135. Құқықтық әсерді қамтитын қоғамдық қатынастарды реттеудің бір жолы:
- A) нормативтік реттеу
 - B) моральдық әсер
 - C) психологиялық әсер
 - D) экономикалық ынталандыру
 - E) саяси басқару

136. Қазақстанның құқықтық жүйесіндегі құқықтық реттеудің негізгі көзі:

- A) Заң
- B) Адамгершілік
- C) Шарт
- D) Діни көзқарастар
- E) Ғылыми көзқарастар

137. Белгіленген тәртіппен қабылданған және заңды күші бар азаматтар мен ұйымдардың мінез-құлқын реттейтін нормалар:

- A) құқықтық нормалар
- B) діни нормалар
- C) этикалық нормалар
- D) эстетикалық нормалар
- E) эмоционалды реакциялар

138. Мемлекеттің қай нысанында діни билік мемлекетке үстемдік етеді?

- A) Теократияда
- B) Республикада
- C) Федерацияда
- D) Монархияда
- E) Демократияда

139. Қоғамдық қатынастарды нормативтік реттеудің мақсаты:

- A) тәртіп пен тұрақтылықты орнату
- B) эстетикалық талғамдарды қалыптастыру
- C) музыкалық мәдениетті дамыту
- D) өнерді насихаттау
- E) дене дайындығын арттыру

140. Құқықтық нормаларды білдіру нысандарына не жатады?:

- A) заңдар және заңға тәуелді актілер
- B) жеке сенімдер
- C) этикалық көзқарастар
- D) қоғамдық пікір
- E) ауызша дәстүрлер

141. Құқықтық норманың айрықша белгісі:

- A) Жалпыға міндетті
- B) Еріктілік
- C) Эмоционалдылық
- D) Даралық
- E) Ситуациялық

142. Құқықты басқа әлеуметтік нормалардан ерекшелендіретін белгі:

- A) мемлекеттік мәжбүрлеу
- B) орындау еріктілігі
- C) ауызша беру
- D) стихиялық қалыптастыру
- E) Эмоционалдылық

143. Қоғамдағы құқықтың негізгі мақсаты:

- A) қоғамдық қатынастарды реттеу

- B) дәстүрлерді сақтау
- C) көркемдік құндылықтарды құру
- D) діни рәсімдерді қамтамасыз ету
- E) эстетикалық талғамның қалыптасуы

144. Құқықтық нормаларды білдірудің сыртқы нысаны:

- A) құқық көзі
- B) моральдық принцип
- C) сендіру
- D) тұлғаның мінез-құлқы
- E) саяси ілім

145. Құқықтық норманың тән ерекшелігі:

- A) жалпыға міндетті және ресми сенімділік
- B) даралық
- C) адамгершілік бағалау
- D) дәстүр
- E) мистика

146. Құқықтың қасиеті, оның нормалары ресми құжаттарда бекітілгенін білдіреді:

- A) Ресми сенімділік
- B) Еріктілік
- C) Еріктілік
- D) Ауызша
- E) Ситуациялық

147. Қоғамдық тәртіпті қорғауға бағытталған құқық функциясы:

- A) Күзетші
- B) Тәрбиелік
- C) Эстетикалық
- D) Саяси
- E) Символдық

148. Адамдардың мінез-құлқына және қоғамдық қатынастарға әсер ету тәсілі:

- A) құқықтық реттеу
- B) діни ықпал
- C) ауызша нұсқау
- D) эмоционалды қабылдау
- E) психологиялық әсер

149. Объективті мағынада құқық:

- A) жалпыға міндетті нормалар жүйесі
- B) өз қалауы бойынша түсу мүмкіндігі
- C) адам міндеттерінің жиынтығы
- D) адамгершілік принциптері
- E) жеке қалау

150. Құзыретті мемлекеттік органдардың құқықтық нормаларды қабылдау, өзгерту немесе жою жөніндегі қызметі:

- A) Заң шығару
- B) Құқық қолдану
- C) Заңдылық

- D) Инкорпорация
- E) Сот практикасы

151. Заң шығару қызметінің негізгі нәтижесі:

- A) Нормативтік құқықтық акт
- B) Сот шешімі
- C) Ғылыми мақала
- D) Қоғамдық пікір
- E) Заңды прецедент

152. Заң шығарудың негізгі принциптерінің бірі:

- A) Заңдылық
- B) Стихиялылық
- C) Ауызша
- D) Еріктілік
- E) Құпиялылық

153. Ескірген нормаларды жоюмен және жаңа жүйелік актіні қабылдаумен заңнаманы кешенді қайта өңдеу:

- A) Кодификация
- B) Инкорпорация
- C) Түсініктеме
- D) Делегация
- E) Жеңілдету

154. Жеке актілер мәнін өзгертпестен біреуіне біріктірілетін жүйелеу нысаны:

- A) Шоғырландыру
- B) Біріктіру
- C) Кодификация
- D) Біріздендіру
- E) Қорытындылау

155. Қолданыстағы нормативтік актіге жаңа нормаларды енгізу процесі:

- A) Өзгерістер енгізу
- B) Бекіту
- C) Делегация
- D) Қайта басып шығару
- E) Мұрағаттау

156. Нормативтік құқықтық актінің негізгі белгісі:

- A) Жалпыға міндетті
- B) Даралық
- C) Ауызша
- D) Ұсыныс сипаты
- E) Тұлғалық бағыт

157. Нормативтік құқықтық актілерді жүйелеу мыналар үшін қажет:

- A) заңнаманы ретке келтіру
- B) сауалнамалар жүргізу
- C) саяси үгіт-насихат
- D) әлеуметтанулық талдау
- E) бағдарламалық қамтамасыз ету

158. Қатысушыларының субъективті құқықтық құқықтары мен міндеттері бар құқықтық нормалармен реттелген қоғамдық қатынастар:

- A) құқықтық қатынастар
- B) моральдық нормалар
- C) қоғамдық пікір
- D) экономикалық байланыстар
- E) әлеуметтік нормалар

159. Құқықтық қатынастардың пайда болуының қажетті шарты:

- A) Заңды факт
- B) Қоғамдық пікір
- C) Заң жобасы
- D) Нұсқама
- E) Нормативтік түсіндіру

160. Субъектінің құқықтық қатынастар шеңберінде құқықтарға ие болу және міндеттерді атқару қабілеті:

- A) Құқық Қабілеттілігі
- B) Жауапкершілік
- C) Әрекет Қабілеттілігі
- D) Құқық Қолдану
- E) Заңға Бағыну

161. Белгілі бір жолмен әрекет ету мүмкіндігінен тұратын құқықтық қатынастың ажырамас элементі:

- A) субъективті құқық
- B) заңды міндет
- C) құқықтық қатынастар объектісі
- D) кінәсіздік презумпциясы
- E) Санкция

162. Оған қатысушылардың әрекеттері бағытталған құқықтық қатынастың элементіне не жатады?:

- A) құқықтық қатынастар объектісі
- B) құқық көзі
- C) заң шығарушы орган
- D) мінез-құлық мотиві
- E) заңнамалық рәсім

163. Құқықтық қатынастарға түсетін тараптар қалай аталады?:

- A) құқықтық қатынастар субъектілері
- B) құқық институттары
- C) заң техникасы
- D) құқық көздері
- E) шаруашылық жүргізуші субъектілер

164. Құқықтық норманың диспозициясына не жатады?:

- A) рұқсатты, нұсқаманы немесе тыйымды қамтитын ережелер
- B) осы құқық бұзушылық үшін жаза
- C) шектеулерді айқындайтын шарт
- D) бұл құқықтың қайнар көзі

Е) ауызша келісім

165. Құқықтық нормалардың келесі түрлерінің қайсысы мәміле тараптарының құқықтары мен міндеттерін белгілейді?

- А) азаматтық-құқықтық нормалар
- В) қылмыстық-құқықтық нормалар
- С) әкімшілік-құқықтық нормалар
- Д) экологиялық құқықтық нормалар
- Е) қаржылық-құқықтық нормалар

166. Санкция дегеніміз не?

- А) норманы бұзғаны үшін жаза
- В) норманы қолдану мәселесі
- С) мінез-құлық ережесі
- Д) норма жасау процесі
- Е) түзету объектісі

167. Құқықтық нормалар құрылымының элементтерін көрсетіңіз:

- А) Гипотеза, Диспозиция, Санкция
- В) Заң, Қаулы, Акт
- С) Заңнама, Заң, Жарлық
- Д) Қаулы, Акт, Шешім
- Е) Бұйрық

168. Қазақстан Республикасының Конституциясы меншік түрлерін таниды және бірдей қорғайды:

- А) Мемлекеттік және жеке
- В) Жеке және муниципалды
- С) Тек мемлекеттік
- Д) Мемлекеттік және бірлескен
- Е) Мемлекеттік және оқшауланған

169. Мемлекеттік органдардың құқықтары мен міндеттері қандай?

- А) адам құқықтарын қорғау
- В) тек командалық функция
- С) тек басқару
- Д) тек сот жүйесі
- Е) саяси қызмет

170. Диспозиция нені білдіреді?

- А) құқықтық норманың мазмұны
- В) құқықтық норманың күші
- С) құқықтық норманың шарттары
- Д) құқықтық норманың қолданылуы
- Е) құқықтық нормаларды іске асыру

171. Құқықтық нормаларды қалай анықтауға болады?

- А) Заң мәтіні бойынша
- В) Тек қоғамдық пікірді ескере отырып
- С) Экономикалық зерттеулер арқылы
- Д) Халықаралық келісімдермен
- Е) Тек саяси партиялардың ұстанымы бойынша

172. Құқықтық нормалардың иерархиясы қандай?

- A) Заңдар, Кодекстер және қаулылар
- B) Тек жекелеген актілерден тұрады
- C) Тек халықаралық құқықтан тұрады
- D) Тек әкімшілік нормалардан тұрады
- E) Дәстүрлі нормаларды құрайды

173. Заңның үстемдігі дегеніміз не?

- A) заңның үстемдігі мен құқықтың үстемдігін қамтамасыз ететін Мемлекет
- B) тек саяси биліктің күшіне негізделген мемлекет
- C) экономикалық мүдделердің жай-күйі
- D) тек мемлекеттік аппаратты басқару жүйесі
- E) әлеуметтік қызмет көрсету институты

174. Құқық үстемдігінің негізгі принциптері қандай?

- A) заңның үстемдігі, құқықтық теңдік, азаматтардың құқықтарын қорғау
- B) тек күш пен билік
- C) тек экономикалық қызығушылық
- D) саяси партиялардың үстемдігі
- E) дәстүрлер мен әдет-ғұрыптар

175. Азаматтық қоғамның дамуына не әсер етеді?

- A) азаматтардың белсенділігі мен құқықтық сауаттылығы
- B) тек экономикалық жағдай
- C) тек саяси жағдай
- D) халықаралық саясат
- E) достық

176. Азаматтардың құқықтық мемлекеттегі міндеттері қандай?

- A) заңдардың сақталуын қамтамасыз ету және құқықтарды қорғау
- B) тек мемлекеттік қызметте болу
- C) тек экономикалық қатынастарда болу
- D) тек саяси партияларға қатысу
- E) халықаралық ұйымдарға қатысу

177. Қазақстан Республикасының Конституциясы бойынша адамның құқықтары мен бостандықтары қандай?

- A) әркімнің табиғи құқығы ретінде танылады
- B) мемлекеттік органның келісімімен ғана айқындалады
- C) қоғамдық ұйымдардың келісімімен ғана айқындалады
- D) заңмен және моральмен шектелген
- E) жұмыс берушілер ғана таниды және белгілейді

178. Қазақстан Республикасында білім алу құқығы қандай қағидатқа негізделген?

- A) барлығына бірдей мүмкіндіктер
- B) тек ауқатты азаматтарға
- C) тек мемлекеттік қызметшіге
- D) саяси партиялардың мүшелеріне
- E) тек жас азаматтар үшін

179. Конституция бойынша Қазақстан азаматтарының саяси құқықтарына не жатады?

- A) сайлау құқығы
- B) заңсыз наразылық
- C) жекешелендіру құқығы
- D) жеке меншікке иелік ету
- E) сот арқылы қорғау

180. Құқықтық мемлекеттің белгісі ретінде қандай құқықтық нормалар қолданылады?

- A) заңдар мен құқықтық актілер
- B) тек мемлекеттік жарлықтар
- C) халықаралық стандарттар
- D) жергілікті әкімшіліктің шешімдері
- E) саяси партиялардың мүдделері

181. Қандай жағдайларда азаматтар Қазақстан Республикасының Конституциясы бойынша өз пікірін білдіруге құқылы?

- A) заңмен шектелмеген кез келген жағдайда
- B) мемлекет тексерген жағдайда
- C) тек партиялық ұйымдар арқылы
- D) жекешелендіру келісімімен
- E) саяси қарсыластармен келісе отырып

182. Кінәнің негізгі түрлері қандай?

- A) ниет пен абайсыздық
- B) моральдық және негізгі
- C) моральдық және құқықтық
- D) заңды және заңсыз
- E) қылмыстық және әкімшілік

183. Жаза тағайындау кезінде әділеттілік принципі нені білдіреді?

- A) қылмыстың ауырлығына сәйкес жаза тағайындау
- B) жазаның ең жеңіл түрін тағайындау
- C) әр адамға бірдей жаза қолдану
- D) қылмыскердің әлеуметтік жағдайын есепке алу
- E) қоғамдық пікірге сүйену

184. Үкім шығарудың заңдылық принципі нені білдіреді?

- A) тек заңда көзделген жазаны тағайындау
- B) қылмыскердің мінез-құлқын ескере отырып
- C) қоғамдық пікірді есепке алу
- D) жазаны жеңілдету мүмкіндігі
- E) сот шешіміне дау айту

185. Адамгершілік принципі қандай жағдайда қолданылады?

- A) қылмыскердің құқықтары мен ар-намысын қорғауда
- B) қылмыстың ауырлығына қарамастан жаза тағайындау кезінде
- C) Қылмыстық кодексті қатаң сақтау кезінде
- D) қылмыс құрбандарына көмек көрсету кезінде
- E) қоғамдық қауіпті қылмыскерлерге қатаң жаза қолдану кезінде

186. Қандай қағида жазаның қылмыстық әрекетке пропорционалды болуын талап етеді?

- A) әділеттілік
- B) ізгілік

- C) теңдік
- D) заңдылық
- E) қоғамдық пікір

187. Үкім шығару кезінде жеңілдететін жағдай не болып саналады?

- A) қылмыс жасалғаннан кейін ерікті түрде тану
- B) топта қылмыс жасау
- C) қаруды заңсыз қолдану
- D) қайталанатын қылмыс
- E) жәбірленушінің мүлкіне зақым келтіру

188. Мас күйінде қылмыс жасағаны үшін жазаның мән-жайы қандай?

- A) ауырлататын жағдай
- B) Жеңілдету
- C) қылмыстық жауаптылықтан босату
- D) қылмысты кешіру
- E) айыппұлды азайту

189. Төмендегілердің қайсысы ауырлататын жағдай?

- A) қасақана қылмыс
- B) қылмысты жас жігіт жасаған
- C) қылмыскерді тану
- D) қылмыс құрбанына көмек
- E) алғаш рет қылмыс жасау

190. Үкім шығарудың жеңілдететін жағдайы қандай?

- A) қажетті қорғаныс жағдайында зиян келтіріңіз
- B) қылмысты алдын ала жоспарлау
- C) қаруды, оқ-дәрілерді, жарылғыш заттарды қолдана отырып немесе жалпы қауіпті тәсілмен қылмыстық қылмыс жасау
- D) төтенше жағдай кезінде қылмыстық құқық бұзушылық жасау
- E) ерекше қатыгездікпен, садизммен, қорлаумен қылмыстық құқық бұзушылық жасау

191. Үкім шығару кезінде қандай жағдай ауырлатады?

- A) топта қылмыс жасау
- B) кінәні мойындау
- C) абайсызда қылмыс жасау
- D) өзін-өзі қорғау
- E) қылмыстық құқық бұзушылықпен келтірілген мүліктік зиянды ерікті түрде өтеу

192. Мемлекеттің саяси режимінің түрлерін көрсетіңіз:

- A) демократиялық, демократиялық емес
- B) унитарлық, демократиялық емес
- C) тұрақты, демократиялық емес
- D) федералды, унитарлық
- E) демократиялық, жазылмаған

193. Құқықтық білім деңгейі, құқықты құрметтеу және жеке адамның және жалпы қоғамның белсенді заңды мінез-құлқы:

- A) құқықтық мәдениет
- B) құқықтық сана
- C) саяси мәдениет

- D) Білім
- E) заңды жауапкершілік

194. Құқықтық нигилизмге қарама-қарсы:

- A) құқықтық идеализм
- B) заңға немқұрайлылық
- C) әлеуметтік наразылық
- D) саяси адалдық
- E) конформизм

195. Қоғамдағы құқықтық мәдениетті арттыру тәсілі:

- A) құқықтық тәрбие
- B) жазаны қатаңдату
- C) саяси қысым
- D) шектеулер белгілеу
- E) әкімшілік ықпал ету

196. Саяси-экономикалық сипаттағы ортақ мүдделерді қанағаттандыру мақсатында біріккен мемлекеттердің уақытша одағы қалай аталады?

- A) конфедерация
- B) унитарлық
- C) федеративті мемлекет
- D) ұлттық-аумақтық федерация
- E) империя

197. Әрбір азаматтың мемлекет істерін басқаруға қатысу құқығы келесідей бекітілген:

- A) саяси құқық
- B) жеке құқық
- C) Экономикалық құқық
- D) Міндеті
- E) мораль нормасы

198. Қазақстан Республикасының алғашқы Конституциясы қашан қабылданды?

- A) 1993 ж.
- B) 1991 ж.
- C) 1995 ж.
- D) 1996 ж.
- E) 1990 ж.

199. Қазақстан Республикасының Конституциясы мен заңдарын сақтау міндеті мыналарға жатады:

- A) азаматтардың негізгі міндеттері
- B) сайлау құқықтарына
- C) саяси бостандықтарға
- D) халықаралық міндеттемелерге
- E) мемлекеттің міндеттері

200. Адам құқықтарын әмбебап деп жариялаған негізгі халықаралық құжат:

- A) Адам Құқықтарының Жалпыға Бірдей Декларациясы
- B) Адам құқықтары жөніндегі Еуропалық конвенция
- C) Азаматтық және саяси құқықтар туралы халықаралық пакт
- D) Бала құқықтары туралы Конвенция

Е) БҰҰ Хартиясы

201. Ешкімді қылмыс жасағаны үшін сот үкімінен басқа жолмен кінәлі деп тануға болмайды деген қағида:

- А) кінәсіздік презумпциясы
- В) сот ісін жүргізудің жариялылығы
- С) тараптардың теңдігі
- Д) процестің бәсекелестігі
- Е) жеке тұлғаға қол сұғылмаушылық

202. Мемлекетте жоғары заңдық күші бар нормативтік құқықтық актінің түрі:

- А) Конституция
- В) Президенттің Жарлығы
- С) Үкімет Қаулысы
- Д) Кодекс
- Е) Заң

203. Субъектінің өзі өзіне берілген құқықтық мүмкіндіктерді пайдаланатын құқықты іске асыру нысаны:

- А) құқықты пайдалану
- В) құқықты қолдану
- С) құқықты түсіндіру
- Д) міндетін атқару
- Е) Заң Шығару

204. Нақты заң ісін шешу жөніндегі уәкілетті органдардың қызметі:

- А) құқықты қолдану
- В) заңнаманы жүйелеу
- С) Заң Шығару
- Д) құқықты түсіндіру
- Е) Инкорпорация

205. Адамның еркіне қарамастан туындайтын заңды факт:

- А) Оқиға
- В) Әрекет
- С) Мәміле
- Д) Бұйрық
- Е) Шешім

206. Еңбек тәртібін бұзғаны үшін қолданылатын заңды жауапкершілік түрі:

- А) Тәртіптік
- В) Қылмыстық
- С) Әкімшілік
- Д) азаматтық-құқықтық
- Е) Халықаралық

207. Құқық бұзылғанға дейін болған жағдайды қалпына келтіруден көрінетін азаматтық құқықтарды қорғау тәсілі:

- А) Жағдайды қалпына келтіру
- В) Айыппұл
- С) Қамауға алу
- Д) Бас бостандығынан айыру
- Е) Тәркілеу

208. Билік өкілеттіктері бар және мемлекет атынан әрекет ететін субъект:

- A) Мемлекеттік орган
- B) Қоғамдық бірлестік
- C) Саяси партия
- D) Коммерциялық ұйым
- E) Бастамашыл топ

209. Халықаралық шартты ресми тану тәсілі:

- A) Ратификациялау
- B) Күшін жою
- C) Интерпретация
- D) Имплементация
- E) Өкілдік ету

210. Тараптардың теңдігіне және шарттың еркіндігіне негізделген құқықтық реттеу әдісі:

- A) Диспозитивті
- B) Императивті
- C) Әкімшілік
- D) Жазалау
- E) Тыйым салу

211. Құқық нормаларын іске асыру процесінде туындайтын қоғамдық қатынас:

- A) Құқықтық қатынастар
- B) Моральдық қатынас
- C) Саяси көзқарас
- D) Экономикалық байланыс
- E) Әлеуметтік топ

212. Жаңа бірыңғай актіні жасау жолымен нормативтік актілерді ретке келтіру тәсілі:

- A) Кодификациялау
- B) Инкорпорация
- C) Шоғырландыру
- D) Жүйелеу
- E) Интерпретация

213. Мемлекеттердің халықаралық ынтымақтастығының негізгі қағидаты:

- A) Егеменді теңдік
- B) Үстемдік
- C) Экспансия
- D) Бағыну
- E) Ассимиляция

214. Неғұрлым қоғамдық қауіптілікпен сипатталатын құқық бұзушылық түрі:

- A) Қылмыс
- B) Теріс қылық
- C) Бұзушылық
- D) Деликт
- E) Қақтығыс

215. Адамның азаматтық құқықтары мен міндеттеріне ие болу қабілеті:

- A) Құқық қабілеттілігі

- B) Өрекет қабілеттілігі
- C) Делинквенттілік
- D) Құқық субъектілігі
- E) Заңдылық

216. Билік мұрагерлік бойынша берілетін басқару нысаны:

- A) Монархия
- B) Республика
- C) Федерация
- D) Демократия
- E) Конфедерация

217. Заңдардың орындалуын қамтамасыз ететін мемлекеттік органның түрі:

- A) Атқарушы билік
- B) Заң шығарушы билік
- C) Сот билігі
- D) Қоғамдық ұйым
- E) Кәсіподақ

218. Құқық нормаларын ресми көрсету және бекіту тәсілі:

- A) Құқық көзі
- B) Құқықтық доктрина
- C) Заң техникасы
- D) Құқықтық идеология
- E) Құқықтық мәдениет

219. Азаматтардың заңды мінез-құлқын қалыптастыруға бағытталған құқық функциясы:

- A) Тәрбиелік
- B) Күзет
- C) Жазалау
- D) Реттеу
- E) Процестік

220. Құқықтық қатынастардың туындауының, өзгеруінің немесе тоқтатылуының негізі:

- A) Заңдық факт
- B) Құқықтық норма
- C) Құқықты талқылау
- D) Прецедент
- E) Құқықты түсіндіру

221. Мемлекеттік билікті жүзеге асыруға халықтың тікелей қатысу нысаны:

- A) Референдум
- B) Жарлық
- C) Кодекс
- D) Прецедент
- E) Декрет

222. Жалпыға міндетті күші бар мемлекеттің еркін білдіру тәсілі:

- A) Нормативтік құқықтық акт
- B) Жеке шарт
- C) Саяси мәлімдеме
- D) Ұсыным

Е) Әдет-ғұрып

223. Жоғары билік органдарының ұйымдастырылуын сипаттайтын мемлекет нысанының элементі:

- А) Басқару нысаны
- В) Саяси идеология
- С) Экономикалық жүйе
- Д) Құқықтық мәдениет
- Е) Әлеуметтік құрылым

224. Мемлекеттік егемендіктің сыртқы көрінісі:

- А) Тәуелсіздік
- В) Федерализм
- С) Демократия
- Д) Заңдылық
- Е) Плурализм

225. Мемлекеттік билікті жүзеге асыру әдістерінің жиынтығы:

- А) Саяси режим
- В) Басқару нысаны
- С) Мемлекеттің нысаны
- Д) Мемлекеттік аппарат
- Е) Құқықтық жүйе

226. Қоғамның құқықтық нормаларға және жария билікке негізделген ұйымы:

- А) Мемлекет
- В) Қоғам
- С) Қауым
- Д) Ұжым
- Е) Қауымдастық

227. Заң алдында барлығының теңдігін бекітетін құқық қағидаты:

- А) Тең құқылық
- В) Иерархия
- С) Субординация
- Д) Орталықтандыру
- Е) Монополия

228. Жалпы сипаттағы мінез-құлық ережесін қамтитын құқықтық норманың түрі:

- А) Реттеу нормасы
- В) Жеке акт
- С) Ұсыным
- Д) Доктрина
- Е) Қағидаты

229. Біртекті қатынастар тобын реттейтін заң нормаларының жиынтығы:

- А) Құқық институты
- В) Құқық саласы
- С) Құқық жүйесі
- Д) Құқықтық жүйе
- Е) Кодекс

230. Құқықтық нормалардың мазмұнын ресми түсіндіру тәсілі:

- A) Құқықты түсіндіру
- B) Құқық шығармашылығы
- C) Жүйелеу
- D) Қолдану
- E) Кодификациялау

231. Мекеменің ішкі ұйымдастырылуын реттейтін құқықтық актінің түрі:

- A) Жарғы
- B) Заң
- C) Конституция
- D) Шарт
- E) Хаттама

232. Мемлекеттің құрылымы мен функцияларын бекітетін негізгі құжат:

- A) Конституция
- B) Шарт
- C) Жарғы
- D) Хаттама
- E) Кодекс

233. Әкімшілік құқық бұзушылық үшін заңды жауапкершілік түрі:

- A) Әкімшілік
- B) Қылмыстық
- C) Тәртіптік
- D) Азаматтық
- E) Халықаралық

234. Адамның өз әрекеттерімен құқықтары мен міндеттерін жүзеге асыру қабілеті:

- A) Әрекет қабілеттілігі
- B) Құқық қабілеттілігі
- C) Деликтке қабілеттілік
- D) Құқық субъектілігі
- E) Заңдылық

235. Мораль нормаларымен реттелген қоғамдық қатынас:

- A) Моральдық қатынас
- B) Құқықтық қатынастар
- C) Саяси көзқарас
- D) Экономикалық қатынас
- E) Заңдық қатынас

236. Мемлекеттік ерік білдіру нысаны мінез-құлық қағидалары түрінде:

- A) Құқық нормасы
- B) Прецедент
- C) Доктрина
- D) Ұсыным
- E) Дәстүр

237. Мемлекет тетігінің негізгі элементі:

- A) Мемлекеттік орган
- B) Саяси партия

- C) Азаматтық қоғам
- D) Қоғамдық қозғалыс
- E) БАҚ

238. Функцияларды бөлуге негізделген билікті ұйымдастыру тәсілі:

- A) Билікті бөлу
- B) Орталықтандыру
- C) Монополияландыру
- D) Конфедерация
- E) Біріктіру

239. Аумақтар автономиясы бар мемлекеттік құрылыстың түрі:

- A) Федерация
- B) Біртұтас мемлекет
- C) Монархия
- D) Конфедерация
- E) Одақ

240. Билік органдарының сайланбалылығына негізделген саяси құрылым нысаны:

- A) Республика
- B) Монархия
- C) Олигархия
- D) Теократия
- E) Аристократия

241. Мінез-құлықтың міндетті қағидаларын қамтитын заң құжаты:

- A) Заң
- B) Хат
- C) Хабарландыру
- D) Есеп
- E) Ұсыным

242. Қоғамдық қатынастарды реттеу әдістерінің жиынтығы:

- A) Құқық әдістері
- B) Құқық көздері
- C) Құқық жүйесі
- D) Құқықтық сана
- E) Қағидаттар

243. Құқық нормалары заңдық салдарды байланыстыратын мән-жайлар:

- A) Заңдық фактілер
- B) Құқықтық қағидаттар
- C) Мораль нормалары
- D) Саяси оқиғалар
- E) Әлеуметтік байланыстар

244. Абайсызда жасалатын құқық бұзушылық түрі:

- A) Теріс қылық
- B) Қылмыс
- C) Қақтығыс
- D) Бұзушылық
- E) Делегация

245. Заңнаманы жүйелеу нысаны мазмұнын өзгертпей:

- A) Инкорпорация
- B) Кодификациялау
- C) Шоғырландыру
- D) Реформа
- E) Интерпретация

246. Құқықтық норманың негізгі белгісі:

- A) Жалпыға міндеттілік сипат
- B) Жекешілік сипат
- C) Эмоционалдық сипат
- D) Кездейсоқтық сипат
- E) Еріктілік сипат

247. Жалпыға міндетті мінез-құлық қағидалары жүйесі:

- A) Құқық
- B) Мораль
- C) Дін
- D) Дәстүр
- E) Әдет-ғұрып

248. Жазаны көздейтін санкция түрі:

- A) Жазалау
- B) Көтермелеу
- C) Ұсынымдық
- D) Декларативтік
- E) Баламалы

249. Міндеттемелік құқықтық қатынаста субъектінің өзіне жүктелген заңды міндетті жүзеге асыру нысаны:

- A) Орындау
- B) Пайдалану
- C) Тыйым салу
- D) Түсіндіру
- E) Өкілдік ету

250. Мемлекеттің құқық тәртібін қорғау жөніндегі қызметі:

- A) Құқық қорғау функциясы
- B) Экономикалық функция
- C) Мәдени функция
- D) Әлеуметтік функция
- E) Сыртқы функция

251. Жоғары биліктің құрылымын көрсететін мемлекет нысаны:

- A) Басқару нысаны
- B) Саяси режим
- C) Мемлекеттік аппарат
- D) Егемендік
- E) Федерализм

252. Билік өкілеттіктері бар ұйым:

- A) Мемлекеттік орган
- B) Қоғамдық ұйым
- C) Қауымдастық
- D) Одақ
- E) Клуб

253. Тараптардың құқықтары мен міндеттерінің тең дәрежеде танылуын қамтамасыз ететін құқықтық қағида:

- A) Теңдік қағидасы
- B) Иерархиялық бағыныштылық
- C) Бағыну қағидасы
- D) Орталықтандыру қағидасы
- E) Монополиялық үстемдік

254. Президент шығаратын құқықтық актінің түрі:

- A) Жарлық
- B) Заң
- C) Шешім
- D) Бұйрық
- E) Хаттама

255. Мүліктік қатынастарды реттейтін нормалар жүйесі:

- A) Азаматтық құқық
- B) Қылмыстық құқық
- C) Әкімшілік құқық
- D) Конституциялық құқық
- E) Халықаралық құқық

256. Қылмыстық құқық бұзушылықтар үшін жауаптылықтың негіздері мен тәртібін реттейтін құқықтық нормалардың жиынтығы:

- A) Қылмыстық құқық
- B) Азаматтық құқық
- C) Еңбек құқығы
- D) Қаржылық құқық
- E) Отбасылық құқық

257. Құқықтық нормалардың сыртқы ресми көрініс табу және бекітілу нысаны:

- A) Құқықтың қайнар көзі
- B) Құқықтық сана
- C) Доктрина
- D) Дәстүр
- E) Әдет-ғұрып

258. Мінез-құлық ережесін белгілейтін құқықтық норманың элементі:

- A) Диспозиция
- B) Гипотеза
- C) Санкция
- D) Кіріспе
- E) Қағидаты

259. Құқық бұзушылық жасалған жағдайда қолданылатын құқықтық салдарды белгілейтін құқық нормасының элементі:

- A) Санкция
- B) Гипотеза
- C) Диспозиция
- D) Кіріспе
- E) Доктрина

260. Құқықтық норманың қай бөлігі оның қашан және қандай жағдайда қолданылатынын көрсетеді?:

- A) Гипотеза
- B) Санкция
- C) Диспозиция
- D) Түсіндіру
- E) Қағидаты

261. Атқарушы билікті жүзеге асыратын орган:

- A) Үкімет
- B) Парламент
- C) Сот
- D) Прокуратура
- E) Адвокатура

262. Субъектінің құқықтары мен міндеттерінің жиынтығы:

- A) Құқықтық статус
- B) Құқықтық сана
- C) Әрекет қабілеттілігі
- D) Құқық қабілеттілігі
- E) Заңдық факт

263. Мұрагерлік билікке негізделген мемлекеттің нысаны:

- A) Монархия
- B) Республика
- C) Федерация
- D) Демократия
- E) Конфедерация

264. Тыйым салуды қамтитын заң нормасының түрі:

- A) Императивті
- B) Диспозитивті
- C) Ұсынымдық
- D) Баламалы
- E) Декларативтік

265. Мемлекеттік органдардың жүйесі:

- A) Мемлекеттік аппарат
- B) Азаматтық қоғам
- C) Саяси партия
- D) Одақ
- E) Қауымдастық

266. Мемлекеттің негізгі белгісі:

- A) Егемендік
- B) Еріктілік

- C) Ынтымақтастық
- D) Теңдік
- E) Уағдаластық

267. Құқықты іске асыру сот шешімі арқылы жүзеге асырылатын нысан қалай аталады?

- A) Қолдану
- B) Пайдалану
- C) Орындау
- D) Сақтау
- E) Түсіндіру

268. Аталған әрекеттердің қайсысы әлеуметтік қауіпті?

- A) қылмыстық жазаланатын әрекет
- B) мінез-құлықтың әлеуметтік нормасы (әдет-ғұрып)
- C) дәстүрлердің қалыптасқан тәртібі
- D) мүдделер қақтығысы (қақтығыс)
- E) жоғары дәрежедегі құқық бұзушылық (теріс қылық)

269. Сот тәртібімен құқықты қорғау үшін қандай нысандар пайдаланылады?

- A) Талап-арыз
- B) Шағым
- C) Өтініш
- D) Айналым
- E) Петиция

270. Құқықтың барлық салаларының жиынтығы:

- A) Құқық жүйесі
- B) Құқықтық қатынастар
- C) Құқық нормасы
- D) Құқық институты
- E) Құқық қағидаты

271. Парламент қабылдайтын нормативтік актінің түрі:

- A) Заң
- B) Жарлық
- C) Қаулы
- D) Бұйрық
- E) Өкім

272. Заңды жауапкершілікті білдіру нысаны:

- A) Жаза
- B) Ұсыным
- C) Мақтау
- D) Сенім
- E) Келісім

273. Қоғамды құқық негізінде ұйымдастыру тәсілі:

- A) Құқықтық мемлекет
- B) Авторитарлық мемлекет
- C) Тоталитарлық мемлекет
- D) Монархия
- E) Олигархия

274. Барлығының заңға бағынуын қамтамасыз ететін принцип:

- A) Заңдылық
- B) Еріктілік
- C) Анархия
- D) Адалдық
- E) Дискреция

275. Сот шешімдеріне негізделген құқық нысаны:

- A) Прецедент
- B) Заң
- C) Әдет-ғұрып
- D) Шарт
- E) Доктрина

276. Еңбек қатынастарын реттейтін нормалардың жиынтығы:

- A) Еңбек құқығы
- B) Азаматтық құқық
- C) Қылмыстық құқық
- D) Қаржылық құқық
- E) Экологиялық құқық

277. Мүліктік зиян үшін заңды жауапкершілік түрі:

- A) Азаматтық-құқықтық
- B) Қылмыстық
- C) Әкімшілік
- D) Тәртіптік
- E) Халықаралық

278. Құқықты жүйелеу тәсілі:

- A) Кодификациялау
- B) Өкілдік ету
- C) Ратификациялау
- D) Жекешелендіру
- E) Тәркілеу

279. Негізгі құқық субъектісі:

- A) Адам
- B) Мемлекет
- C) Ұйым
- D) Сот
- E) Партия

280. Әрекеттерге тыйым салуға байланысты құқықты іске асыру нысаны:

- A) Сақтау
- B) Пайдалану
- C) Қолдану
- D) Түсіндіру
- E) Өкілдік ету

281. Азаматтық қоғамның элементі:

- A) Кәсіподақ

- B) Сот
- C) Парламент
- D) Полиция
- E) Армия

282. Құқықтық сананың негізгі көзі:

- A) Құқықтық мәдениет
- B) Экономика
- C) Саясат
- D) Дін
- E) Технологиялар

283. Құқықтық институттың түрі:

- A) Отбасылық құқық
- B) Конституция
- C) Заң
- D) Жарлық
- E) Шарт

284. Халықаралық құқықтың негізгі көзі:

- A) Шарт
- B) Заң
- C) Прецедент
- D) Әдет-ғұрып
- E) Доктрина

285. Мемлекеттік құрылым нысаны:

- A) Біртұтас мемлекет
- B) Республика
- C) Монархия
- D) Демократия
- E) Теократия

286. Құқықтық жүйенің түрі:

- A) Роман-герман
- B) Әлеуметтік
- C) Саяси
- D) Экономикалық
- E) Мәдени

287. Тараптардың еркін білдіру тәсілі:

- A) Шарт
- B) Заң
- C) Жарлық
- D) Бұйрық
- E) Шешім

288. Құқықтық мемлекеттің негізгі элементі:

- A) Билікті бөлу
- B) Билік монополиясы
- C) Саяси тәуелділік
- D) Идеологиялық бақылау

Е) Әлеуметтік иерархия

289. Мемлекеттік режим нысаны:

- А) Демократиялық
- В) Унитарлық
- С) Федеративтік
- Д) Монархиялық
- Е) Аумақтық

290. Қоғамдық қатынастарды реттеу тәсілі:

- А) Құқықтық реттеу
- В) Моральдық тәрбие
- С) Діни әсер
- Д) Саяси үгіт
- Е) Әлеуметтік жарнама

291. Құқықтық актінің түрі:

- А) Қаулы
- В) Ән
- С) Сөйлеу
- Д) Эссе
- Е) Дәріс

292. мемлекеттің негізгі элементі:

- А) Аумақ
- В) Азаматтық
- С) Тіл
- Д) Мәдениет
- Е) Дәстүрлер

293. Құқық білдіру нысаны:

- А) Заң
- В) Пікір
- С) Тілек
- Д) Эмоция
- Е) Пайымдау

294. Құқық субъектісінің түрі:

- А) Заңды тұлға
- В) Моральдық тұлға
- С) Әлеуметтік топ
- Д) Қоғам
- Е) Мемлекет

295. Заңдық ықпал ету тәсілі:

- А) Тыйым салу
- В) Наным
- С) Өтініш
- Д) Кеңестер
- Е) Ұсынымдар

296. Азаматтық құқықтың негізгі қағидаты:

- A) Тараптардың теңдігі
- B) Орталықтандыру
- C) Бағыну
- D) Монополия
- E) Иерархия

297. Қоғамның саяси ұйымдастыру нысаны:

- A) Мемлекет
- B) Отбасы
- C) Ұжым
- D) Топ
- E) Қауым

298. Құқықтық реттеу түрі:

- A) Императивті
- B) Эмоциялық
- C) Стихиялық
- D) Әлеуметтік
- E) Мәдени

299. құқық шығармашылығының негізгі нәтижесі:

- A) Заң
- B) Мораль
- C) Дәстүр
- D) Әдет-ғұрып
- E) Эмоция

300. Заңды бақылау нысаны:

- A) Қадағалау
- B) Ұсыным
- C) Өтініш
- D) Кеңес
- E) Талқылау

301. Отбасылық құқық нормаларын бұзғаны үшін туындайтын заңды жауапкершілік түрі:

- A) Отбасылық-құқықтық жауапкершілік
- B) Қылмыстық жауаптылық
- C) Әкімшілік жауапкершілік
- D) Тәртіптік жауапкершілік
- E) Халықаралық жауапкершілік

302. Құқық нормаларын жазбаша нысанда бекіту тәсілі:

- A) Нормативтік актіні жариялау
- B) Ауызша дәстүр
- C) Әлеуметтік дәстүр
- D) Саяси мәлімдеме
- E) Моральдық ереже

303. Құқықтық институттың негізгі белгісі:

- A) Қатынастардың біртекті тобын реттеу
- B) Саяси бағыттылық
- C) Аумақтық шектеулілік

- D) Экономикалық функция
- E) Идеологиялық негіз

304. Адамның құқыққа қайшылығын сезінетін, бірақ салдарын қаламайтын кінә нысаны:

- A) Жанама ниет
- B) Тікелей ниет
- C) Абайсыздық
- D) Ұқыпсыздық
- E) Өзіндік сенімділік

305. Салдарларды болжамайтын абайсыздық нысаны, дегенмен:

- A) ұқыпсыздық
- B) Тікелей ниет
- C) Жанама ниет
- D) Аффект
- E) Өзін-өзі қорғау

306. Әрекеттің сыртқы көрінісін сипаттайтын қылмыс құрамының элементі:

- A) Объективті жағы
- B) Субъект
- C) Субъективті тарап
- D) Нысан
- E) Себеп

307. Адамның әрекетке ішкі қатынасын сипаттайтын қылмыс құрамының элементі:

- A) Субъективті тарап
- B) Объективті жағы
- C) Нысан
- D) Субъект
- E) Санкция

308. Қылмыс объектісі - бұл:

- A) Заңмен қорғалатын қоғамдық қатынастар
- B) Қылмыс жасаған адам
- C) Іс бойынша дәлелдемелер
- D) Сот шешімі
- E) Қылмыстың себебі

309. Қылмыс субъектісі - бұл:

- A) Белгіленген жастағы ақыл-есі дұрыс жеке тұлға
- B) Кез келген тұлға
- C) Заңды тұлға
- D) Мемлекеттік орган
- E) Жәбірленуші

310. Ақшалай өндіріп алу түріндегі жазаның түрі:

- A) Айыппұл
- B) Бас бостандығынан айыру
- C) Қамауға алу
- D) Түзеу жұмыстары
- E) Тәркілеу

311. Сот талқылауының ашықтығын қамтамасыз ететін қылмыстық процесс принципі:

- A) Жариялылық
- B) Тергеу құпиясы
- C) Құпиялылық
- D) Императивтілік
- E) Диспозитивтілік

312. Үкімет шығаратын заң актісінің нысаны:

- A) Қаулы
- B) Заң
- C) Конституция
- D) Прецедент
- E) Шарт

313. заңды құжатты ресми растау тәсілі:

- A) Ратификациялау
- B) Болдырмау
- C) Интерпретация
- D) Өкілдік ету
- E) Декларация

314. Құқық тасымалдаушы болу қабілетін білдіретін заңдық санат:

- A) Құқық субъектілігі
- B) Құқықтық сана
- C) Делинквенттілік
- D) Құқықтық тәртіп
- E) Құқық қолдану

315. құқыққа негізделген қоғамдық қатынастар жүйесі:

- A) Құқықтық тәртіп
- B) Мораль
- C) Әдет-ғұрып
- D) Дәстүр
- E) Саясат

316. Дербес құрылымдары жоқ мемлекеттік құрылым нысаны:

- A) Біртұтас мемлекет
- B) Федерация
- C) Конфедерация
- D) Одақ
- E) Империя

317. Мемлекеттің қаржы қызметін реттейтін нормалардың жиынтығы:

- A) Қаржылық құқық
- B) Азаматтық құқық
- C) Еңбек құқығы
- D) Қылмыстық құқық
- E) Отбасылық құқық

318. Сотқа жүгінуде көрінетін құқықты қорғау тәсілі:

- A) Талап
- B) Бұйрық

- C) Жарлық
- D) Шешім
- E) Хаттама

319. құқықтық жүйенің негізгі элементі:

- A) Құқықтық норма
- B) Саяси партия
- C) Экономикалық құрылым
- D) Әлеуметтік топ
- E) Мемлекеттік орган

320. Мемлекеттік билікті білдіру нысаны:

- A) Заң
- B) Әдет-ғұрып
- C) Дәстүр
- D) Мораль
- E) Дін

321. Азаматтың қоғамдағы жағдайын айқындайтын құқықтық мәртебенің түрі:

- A) Жалпы құқықтық мәртебе
- B) Жеке мәртебесі
- C) Арнайы мәртебе
- D) Іс жүргізу мәртебесі
- E) Халықаралық мәртебе

322. Білім беру саласындағы қатынастарды реттейтін нормалардың жиынтығы:

- A) Білім беру құқығы
- B) Азаматтық құқық
- C) Еңбек құқығы
- D) Әкімшілік құқық
- E) Қылмыстық құқық

323. Адамның іс-әрекетіне негізделген заңды фактінің түрі:

- A) Әрекет
- B) Оқиға
- C) Апат
- D) Табиғи құбылыс
- E) Дүлей зілзала

324. Ерікті мінез-құлыққа байланысты құқықты іске асыру тәсілі:

- A) Сақтау
- B) Қолдану
- C) Түсіндіру
- D) Өкілдік ету
- E) Мәжбүрлеу

325. Мінез-құлықты таңдауға мүмкіндік беретін заңдық норманың түрі:

- A) Диспозитивті
- B) Императивтік
- C) Тыйым салу
- D) Жазалау
- E) Абсолюттік

326. Қылмыстық құқықтың негізгі көзі:

- A) Қылмыстық кодекс
- B) Конституция
- C) Жарғы
- D) Шарт
- E) Прецедент

327. Қызметкерлерге қолданылатын заңдық жауапкершілік нысаны:

- A) Тәртіптік
- B) Қылмыстық
- C) Халықаралық
- D) Конституциялық
- E) Саяси

328. Құқықтар мен міндеттердің болуын білдіретін заңдық санат:

- A) Құқықтық мәртебе
- B) Құқықтық норма
- C) Құқықтық дәстүр
- D) Құқықтық идеология
- E) Құқықтық дәстүр

329. құқықтық реттеу құралдары мен әдістерінің жиынтығы:

- A) Құқық әдісі
- B) Құқық көзі
- C) Құқық жүйесі
- D) Құқық институты
- E) Құқық қағидаты

330. Қазақстандағы заң шығарушы биліктің негізгі органы:

- A) Парламент
- B) Үкімет
- C) Сот
- D) Прокуратура
- E) Әкімдік

331. Қазақстан Республикасы Парламентінің палатасы:

- A) Сенат
- B) Кабинет
- C) Кеңес
- D) Комитет
- E) Алқа

332. Тікелей сайлау жолымен қалыптастырылатын Палата:

- A) Мәжіліс
- B) Сенат
- C) Кабинет
- D) Сот
- E) Прокуратура

333. Заңдылықты қадағалауды жүзеге асыратын мемлекеттік органның түрі:

- A) Прокуратура

- B) Парламент
- C) Үкімет
- D) Әкімдік
- E) Полиция

334. Мүлікке зиян келтіргені үшін туындайтын жауапкершілік нысаны:

- A) Азаматтық-құқықтық
- B) Қылмыстық
- C) Әкімшілік
- D) Тәртіптік
- E) Халықаралық

335. Құқықтық мемлекет қағидаты:

- A) Заңның үстемдігі
- B) Саяси монополия
- C) Идеологиялық үстемдік
- D) Билікті орталықтандыру
- E) Әкімшілік бағыныстылық

336. Адам құқықтарын құқықтық қорғау нысаны:

- A) Соттық қорғау
- B) Саяси ықпал
- C) Әлеуметтік жарнама
- D) Экономикалық реттеу
- E) Мәдени саясат

337. Заң негізінде қабылданатын құқықтық актінің түрі:

- A) Заңға тәуелді акт
- B) Конституция
- C) Шарт
- D) Прецедент
- E) Әдет-ғұрып

338. Халықаралық құқықтың негізгі қағидаты:

- A) Мемлекеттердің егеменді теңдігі
- B) Күшті мемлекеттердің үстемдігі
- C) Саяси тәуелділік
- D) Экономикалық артықшылық
- E) Идеологиялық бірлік

339. Көтермелеуді білдіретін заң санкциясының нысаны:

- A) Көтермелеу
- B) Жазалау
- C) Тыйым салу
- D) Шектеу
- E) Императивті

340. Мұрагерлік қатынастарды реттейтін құқықтық нормалардың жиынтығы:

- A) Мұрагерлік құқық
- B) Еңбек құқығы
- C) Әкімшілік құқық
- D) Қаржылық құқық

Е) Экологиялық құқық

341. Заңды тұлғаның түрі:

- А) Коммерциялық ұйым
- В) Жеке тұлға
- С) Мемлекет
- Д) Сот
- Е) Азамат

342. Азаматтық құқықтарды қорғау тәсілі:

- А) Құқықты тану
- В) Құқықтан бас тарту
- С) Елемеу
- Д) Ауызша келісім
- Е) Әлеуметтік қысым

343. Жергілікті органдар қабылдайтын нормативтік актінің түрі:

- А) Шешім
- В) Заң
- С) Конституция
- Д) Шарт
- Е) Прецедент

344. Әкімшілік құқықтың негізгі қағидаты:

- А) Бағыну
- В) Тараптардың теңдігі
- С) Еріктілік
- Д) Диспозитивтілік
- Е) Дербестік

345. Мемлекеттік мәжбүрлеу шараларының жүйесін білдіретін заңдық санат:

- А) Жауапкершілік
- В) Еркіндік
- С) Саясат
- Д) Экономика
- Е) Мораль

346. Мемлекеттер арасындағы қатынастарды реттейтін құқық түрі:

- А) Халықаралық құқық
- В) Азаматтық құқық
- С) Еңбек құқығы
- Д) Отбасылық құқық
- Е) Қылмыстық құқық

347. Тыйым салуға негізделген құқықтық реттеу нысаны:

- А) Императивті
- В) Диспозитивті
- С) Ұсынымдық
- Д) Баламалы
- Е) Факультативтік

348. Құқықтық сананың негізгі элементі:

- A) Құқықты білу
- B) Нормаларды елемей
- C) Саяси белсенділік
- D) Экономикалық қызмет
- E) Әлеуметтік топ

349. Міндетті нұсқаманы қамтитын құқықтық норманың түрі:

- A) Императивті
- B) Диспозитивті
- C) Ұсынымдық
- D) Декларативтік
- E) Баламалы

350. Заңнаманы жүйелеудің негізгі тәсілі:

- A) Кодификациялау
- B) Демократияландыру
- C) Ырықтандыру
- D) Орталықтандыру
- E) Біріздендіру

351. Мемлекет басшысы белгілі бір мерзімге сайланатын басқару нысаны:

- A) Республика
- B) Монархия
- C) Теократия
- D) Аристократия
- E) Олигархия

352. Мемлекеттің еркін ресми бекіту тәсілі:

- A) Нормативтік құқықтық акт
- B) Ауызша уағдаластық
- C) Әлеуметтік дәстүр
- D) Саяси мәлімдеме
- E) Моральдық норма

353. Табиғат оқиғаларының басталуына байланысты заңды фактінің түрі:

- A) Оқиға
- B) Әрекет
- C) Мәміле
- D) Бұйрық
- E) Шешім

354. Азаматтық сот ісін жүргізудің негізгі қағидаты:

- A) Тараптардың бәсекелестігі
- B) Дара басшылық
- C) Процестің жабықтығы
- D) Әкімшілік бағыныстылық
- E) Саяси тәуелділік

355. Меншік құқығын растайтын заңды құжат:

- A) Меншік құқығы туралы куәлік
- B) Қарыз шарты
- C) Қолхат

- D) Хаттама
- E) Тексеру актісі

356. Тыйым салуды белгілейтін құқықтық норманың түрі:

- A) Тыйым салушы
- B) Реттеуші
- C) Көтермелеу
- D) Диспозитивті
- E) Декларативтік

357. Тәуелсіз мемлекеттерді біріктіретін мемлекеттік құрылым нысаны:

- A) Конфедерация
- B) Федерация
- C) Біртұтас мемлекет
- D) Монархия
- E) Республика

358. Құқықтық реттеудің негізгі белгісі:

- A) Мемлекеттік мәжбүрлеу
- B) Еріктілік
- C) Ұсынымдық сипат
- D) Эмоциялық
- E) Стихиялылық

359. әрекет жасаған адамды сипаттайтын құқық бұзушылық құрамының элементі:

- A) Субъект
- B) Объект
- C) Объективті жағы
- D) Санкция
- E) Гипотеза

360. Конституциялық нормаларды бұзғаны үшін заңды жауапкершілік түрі:

- A) Конституциялық
- B) Азаматтық
- C) Тәртіптік
- D) Қылмыстық
- E) Әкімшілік

361. Заңдылықтың сақталуын бақылауды жүзеге асыратын орган:

- A) Прокуратура
- B) Парламент
- C) Үкімет
- D) Әкімдік
- E) Саяси партия

362. Қылмыстық процестің негізгі принципі:

- A) Заңдылық
- B) Еріктілік
- C) Саяси орындылық
- D) Экономикалық пайда
- E) Әкімшілік қысым

363. Құқықтық норманы білдіру нысаны:

- A) Заңның бабы
- B) Моральдық ереже
- C) Саяси шешім
- D) Әлеуметтік дәстүр
- E) Діни догмат

364. Кәсіби қызметке байланысты құқықтық мәртебенің түрі:

- A) Арнайы
- B) Жалпы
- C) Жеке
- D) Халықаралық
- E) Конституциялық

365. Мемлекет белгілеген мінез-құлық қағидаларының жиынтығы:

- A) Құқық
- B) Мораль
- C) Дәстүр
- D) Дін
- E) Әдет-ғұрып

366. Құқықтық қатынастардың пайда болу тәсілі:

- A) Заңдық факт
- B) Саяси шешім
- C) Әлеуметтік пікір
- D) Экономикалық процесс
- E) Мәдени норма

367. Уәкілетті органның нормаларды қолдануына байланысты құқықты іске асыру нысаны:

- A) Қолдану
- B) Пайдалану
- C) Сақтау
- D) Орындау
- E) Түсіндіру

368. Қазақстанға тән құқықтық жүйенің түрі:

- A) Роман-герман
- B) Англосаксондық
- C) Діни
- D) Дәстүрлі
- E) Аралас

369. Конституциялық құқықтың негізгі көзі:

- A) Конституция
- B) Прецедент
- C) Әдет-ғұрып
- D) Шарт
- E) Доктрина

370. Қоғамдағы орнықты тәртіпті көрсететін заңдық санат:

- A) Құқықтық тәртіп
- B) Хаос

- C) Қақтығыс
- D) Саясат
- E) Экономика

371. Бас бостандығынан айыруға байланысты заңды жауапкершіліктің түрі:

- A) Қылмыстық
- B) Азаматтық
- C) Тәртіптік
- D) Әкімшілік
- E) Халықаралық

372. Құқық нормасы құрылымының негізгі элементі:

- A) Гипотеза, диспозиция, санкция
- B) Заң, кодекс, акт
- C) Қағидаты, әдісі, нысаны
- D) Шарт, келісім, хаттама
- E) Бұйрық, өкім, жарлық

373. Еркін сайлаумен сипатталатын мемлекеттік режимнің нысаны:

- A) Демократиялық
- B) Авторитарлық
- C) Тоталитарлық
- D) Теократиялық
- E) Олигархиялық

374. Азаматтардың құқықтарын әкімшілік тәртіппен қорғау тәсілі:

- A) Шағым
- B) Талап
- C) Прецедент
- D) Шарт
- E) Хаттама

375. Мемлекеттің саяси ұйым ретіндегі негізгі белгісі:

- A) Егемендік
- B) Еріктілік
- C) Теңдік
- D) Уағдаластық
- E) Ынтымақтастық

376. Үкімет қабылдайтын нормативтік актінің түрі:

- A) Қаулы
- B) Заң
- C) Конституция
- D) Прецедент
- E) Әдет-ғұрып

377. Жауапкершілікті алу қабілетін білдіретін заңдық санат:

- A) Деликтке қабілеттілік
- B) Құқық қабілеттілігі
- C) Әрекет қабілеттілігі
- D) Құқық субъектілігі
- E) Заңдылық

378. Құқықпен реттелетін қоғамдық қатынастардың жиынтығы:

- A) Құқықтық жүйе
- B) Экономика
- C) Саясат
- D) Мәдениет
- E) Әлеуметтік құрылым

379. Бірнеше рет қолдануға негізделген құқық нысаны:

- A) Құқықтық дәстүр
- B) Заң
- C) Шарт
- D) Прецедент
- E) Кодекс

380. Сот билігінің негізгі органы:

- A) Сот
- B) Парламент
- C) Үкімет
- D) Полиция
- E) Әкімдік

381. Жеке сипаттағы заң актісінің түрі:

- A) Сот шешімі
- B) Конституция
- C) Заң
- D) Кодекс
- E) Жарғы

382. Адам құқықтарын қорғауды қамтамасыз ететін құқықтық мемлекет қағидаты:

- A) Құқықтардың кепілдігі
- B) Орталықтандыру
- C) Авторитаризм
- D) Билік монополиясы
- E) Саяси бақылау

383. Азаматтық құқықта тараптардың еркін білдіру нысаны:

- A) Мәміле
- B) Заң
- C) Жарлық
- D) Хаттама
- E) Бұйрық

384. Мінез-құлықтың вариативтілігіне жол беретін заң нормасының түрі:

- A) Диспозитивті
- B) Императивтік
- C) Тыйым салу
- D) Жазалау
- E) Абсолюттік

385. Зорлық-зомбылық теориясы бойынша мемлекеттің пайда болу тәсілі:

- A) Жаулап алу

- B) Шарт
- C) Эволюция
- D) Келісім
- E) Реформа

386. Азаматтық қоғамның негізгі элементі:

- A) Мемлекеттік емес ұйымдар
- B) Сот
- C) Армия
- D) Үкімет
- E) Парламент

387. Нақты жағдайды реттейтін құқықтық актінің түрі:

- A) Жеке акт
- B) Нормативтік акт
- C) Конституция
- D) Кодекс
- E) Заң

388. Әкімшілік құқықтың негізгі қағидаты:

- A) Билік-бағыныстылық
- B) Тараптардың теңдігі
- C) Еріктілік
- D) Диспозитивтілік
- E) Шарт еркіндігі

389. Норманың міндеттілігін білдіретін заңдық санат:

- A) Императивтілік
- B) Еріктілік
- C) Ұсынымдылық
- D) Баламалылық
- E) Факультативтілік

390. Заңдық жазаның түрі:

- A) Бас бостандығынан айыру
- B) Сыйлықақы беру
- C) Көтермелеу
- D) Марапат
- E) Алғыс

391. Азаматтық құқықтың негізгі қайнар көзі:

- A) Азаматтық кодекс
- B) Конституция
- C) Жарлық
- D) Прецедент
- E) Әдет-ғұрып

392. Заңдарға негізделген құқықтық жүйенің нысаны:

- A) Позитивтік құқық
- B) Табиғи құқық
- C) Діни құқық
- D) Кәдімгі құқық

Е) Дәстүрлі құқық

393. Тыйым салу арқылы құқықтық ықпал ету тәсілі:

- A) Тыйым салу
- B) Наным
- C) Көтермелеу
- D) Ұсыным
- E) Кеңес

394. Құқық шығармашылығының негізгі қағидаты:

- A) Заңдылық
- B) Еріктілік
- C) Өзінен-өзі
- D) Құпиялылық
- E) Импровизация

395. Отбасылық құқықтағы құқықтық институттың түрі:

- A) Неке
- B) Заң
- C) Кодекс
- D) Жарлық
- E) Прецедент

396. Сот жүйесінің негізгі элементі:

- A) Сот
- B) Партия
- C) Кәсіподақ
- D) Әкімдік
- E) Қазақстан Республикасы

397. Құқықты ерікті мінез-құлық арқылы іске асыру нысаны:

- A) Сақтау
- B) Қолдану
- C) Түсіндіру
- D) Өкілдік ету
- E) Бақылау

398. Тұрақты құқықтық тәртіпті көрсететін заңдық санат:

- A) Заңдылық
- B) Хаос
- C) Қақтығыс
- D) Анархия
- E) Дезорганизация

399. Жергілікті деңгейдегі нормативтік актінің негізгі түрі:

- A) Шешім
- B) Конституция
- C) Заң
- D) Кодекс
- E) Шарт

400. Құқықтар мен міндеттерді белгілейтін заң нормасының түрі:

- A) Реттеуші
- B) Декларативтік
- C) Ұсынымдық
- D) Символдық
- E) Емшара бөлмесі

ЛОГИКА ЖӘНЕ СЫНИ ОЙЛАУ

Тест сұрақтарының үлгілік тізімі


1. Қиылысты құрап тұрған бір көшенің бойына 11 ағаш, қиылысты құрап тұрған екінші көшенің бойына 11 ағаш отырғызуға болатын орын бар. Қиылысты құрап тұрған екі көшеге отырғызылатын ағаштардың ең аз саны қанша болмақ?

- A) Ағаштар саны 21
- B) Ағаштар саны 23
- C) Ағаштар саны 15
- D) Ағаштар саны 17
- E) Ағаштар саны 19



2. Дәптер - қаламсапқа қарағанда арзан, ал қарындашқа қарағанда қымбат. Қайсысы арзан?

- A) Қарындаш
- B) Қаламсап
- C) Дәптер
- D) Кітап
- E) Бояу



3. Белгісіз азаматтың әкесінің аты - Абай САМАТҰЛЫ, ұлының аты – Жамбыл ОМАРҰЛЫ.

Белгісіз азаматтың аты-жөні кім?

- A) Омар Абайұлы
- B) Абай Жамбылұлы
- C) Абай Омарұлы
- D) Самат Омарұлы
- E) Жамбыл Абайұлы



4. Ваня Петядан жоғарғы қабатта, бірақ Сенядан төменгі қабатта, ал Коля - Петядан төменгі этажда тұрады. Олардың әрқайсысы төрт қабатты үйдің қай қабаттарында тұрады?

- A) 1 қабатта-Коля, 2 қабатта-Петя, 3 қабатта-Ваня, 4 қабатта-Сеня
- B) 1 қабатта-Ваня, 2 қабатта – Коля, 3 қабатта-Сеня, 4 қабатта-Петя
- C) 1 қабатта-Петя, 2 қабатта – Коля, 3 қабатта-Сеня, 4 қабатта-Ваня
- D) 1 қабатта-Коля, 2 қабатта-Ваня, 3 қабатта-Сеня, 4 қабатта-Петя
- E) 1 қабатта-Сеня, 2 қабатта – Петя, 3 қабатта-Ваня, 4 қабатта-Коля



5. Екі жолаушыөзенге жақындады. Өтуге болатын қайық бір адамға арналған. Екі адамның салмағын көтере алмайды! Жағадағы екі жолаушыешбір көмексіз екеуі де осы қайықпен келесі жағаға өтті. Олар мұны қалай жасады?

- A) Екеуі бір өзеннің қарам-қарсы жағаларында болды. Алдымен біреуі, содан кейін екіншісі өтті.
- B) Екеуі өзеннің бір жағасында болды. Біреуі қайықпен өтті, екіншісі жүзіп кетті. Шаршаған кезде орындарын ауыстырды.
- C) Екеуі өзеннің бір жағасында болды. Екеуі де қайықпен өтті.
- D) Екеуі өзеннің бір жағасында болды. Екеуі де жүзіп өтті.
- E) Екеуі екі түрлі өзеннің жағасында болды. Ешқайсысы келесі жағаға өте алмады.



6. Бір жарым лимон - 150 теңге тұрады. 10 лимон қанша тұрады?

- A) 1000 теңге
- B) 150 теңге
- C) 200 теңге
- D) 300 теңге
- E) 1500 теңге



7. Кітап үшін 1000 теңге және кітап құнының тағы жартысы төленді. Кітап қанша тұрады?

- A) 2000 теңге
- B) 100 теңге
- C) 300 теңге
- D) 400 теңге
- E) 500 теңге



8. Бір минут сайын бөрененің бір метрлік бөлігі кесіледі. Ұзындығы 6 метр болатын бөрене

қанша минутта кесіледі?

- A) 5 минутта кесіледі
- B) 10 минутта кесіледі
- C) 15 минутта кесіледі
- D) 20 минутта кесіледі
- E) 30 минутта кесіледі



9. Қайсысы ауыр? 1 килограмдық таразы тасы немесе 1 килограмм шарлар?

- A) Олардың салмағы тең
- B) 1 килограмдық таразы тасы ауыр
- C) 1 килограмм шарлар ауыр
- D) Алдымен тең салмақ болады, бірақ біртіндеп, шарлардың көлемі үлкен болғандықтан, оларға архимедтік күш әсер ететіндіктен таразы басы ауырлай түседі
- E) Алдымен салмағы бірдей болады, бірақ олардың массасы әртүрлі, сондықтан 1 килограмдық таразы тасы біртіндеп ауырлай түседі (Архимедтік заң күшін ескере отырып).



10. Санап шығыңыз! Автобус жүріп келеді. Онда 5 жолаушы отыр. Аялдамада 6 жолаушы кірді. Келесі аялдамада 4 жолаушы түсіп қалды, және 2 жолаушы кірді, келесі аялдамада 3 жолаушы шығып кетті де 4 жолаушы кірді, келесі аялдамада ешкім шықпады, бірақ 8

жолаушы кірді, келесі аялдамада 6 жолаушы шығып, 1 адам кірді, келесіде - 5 шығып, 4 кірді. Автобус барлығы неше аялдамаға тоқтады?

- A) 8
- B) 9
- C) 7
- D) 6
- E) 5



11. Сізде 5 таяқша бар деп елестетіңіз. Егер олардың екеуін екіге бөлсеңіз, барлығы қанша таяқша болады?

- A) Жеті таяқша.
- B) Үш таяқша.
- C) Бес таяқша.
- D) Он таяқша.
- E) Он бір таяқша.



12. Бір отбасыдағы екі апалы-сіңлілі қыздардың әрқайсысының үш ағасы бар. Отбасында қанша бала бар? Әрбір қыздың үш ағасы болса, онда отбасында қанша ұл бар?

- A) 5 бала: үш ұл және екі қыз.
- B) 8 бала: алты ұл және екі қыз.
- C) 6 бала: үш ұл және үш қыз.
- D) 7 бала: үш ұл және төрт қыз.
- E) 9 бала: бес ұл және төрт қыз.



13. Дүкенге 4 бала барды: Дима, Коля, Никита және Андрей, дүкенге барар жолда олар 4 теңге тапты. Никита дүкенге жалғыз барса, қанша ақша табар еді? Ал егер фильмде 25 бала болса, олар қанша ақша табады?

- A) 4 теңге
- B) 20 теңге
- C) 16 теңге
- D) 12 теңге
- E) 100 теңге

14. Бір күндік жәндіктер қанша уақыт өмір сүреді ?

- A) 1 күн
- B) 1 ай
- C) 1 жыл
- D) 1 апта
- E) 10 жыл

15. Аулада тауықтар мен қойлар болды. Олардың 3 басы және 8 аяғы бар. Қанша тауық және қанша қой болды?

- A) 3 тауық және 2 қой.
- B) 2 тауық және 2 қой.
- C) 3 тауық және 3 қой.
- D) 2 тауық және 1 қой.
- E) 1 тауық және 2 қой.

16. Менің әкем 31 жаста болғанда, мен 8 жаста едім, ал қазір әкем менен екі есе үлкен. Мен қазір неше жастамын?

- A) 16, әкесі 40.
- B) 18, Әкеге 42.
- C) 23, Әкеге 46.
- D) 20, әкесі 40.
- E) 22, Әкеге 44.

17. Ағасы 14 жаста, ал әпкесі 10 жаста. Әпкесі қазір қанша жаста болса, ағасы қанша жаста болады?

- A) 16 жыл.
- B) 18 жаста.
- C) 20 жыл.
- D) 22 жыл.
- E) 21 жыл.



18. Ең жылдам жәндікті көрсетіңіз?

- A) Шабандоз-қоңыз
- B) Тарақан
- C) Ұлу
- D) Құмырсқалар
- E) Қырықаяқ

19. Ұмытшақ бала үйден шығып, досы Эндрюге барды. Ол жарты жолдан өтіп, демалуға отырғанда, кітабын үйінде қалдырып кеткенін есіне түсірді. Бала үйіне оралып, кітапты алып, Эндрюге қайта барды. Ол Эндрюдің үйіне енді жеткенде бағана демалуға отырған жерде сөмкесін ұмытып кеткенін білді. Бала сөмкесіне қайтадан барып, содан соң досына келуге мәжбүр болды. Ол Эндрюге келгенде екі шақырымның орнына әлдеқайда көп жүргенін түсінді. Бала неше шақырым жер жүрді?

- A) 2 км.
- B) 4 км.
- C) 6 км.
- D) 7 км.
- E) 8 км.



20. Екі ана, Екі қыз және Әжесі мен немересі. Барлығы қанша?

- A) 3
- B) 6
- C) 4
- D) 5
- E) 2



21. Бөренені 2 бөлікке кесу үшін 1000 теңге төлеу керек. Бөренені 4 бөлікке кесу қанша тұрады?

- A) 3000 теңге.
- B) 4000 теңге.
- C) 2000 теңге.
- D) 1000 теңге.
- E) 5000 теңге.



@dreamstime.com

22. Терезенің алдында 8 жасыл қызанақ жатты. Үш күннен кейін олар қызарып кетті. Қанша жасыл қызанақ қалды?

- A) 0
- B) 8
- C) 16
- D) 4
- E) 2



23. Екі бояушы екі сағат ішінде екі бөлмені бояй алады. Алты сағат ішінде 18 бөлмені бояу

үшін қанша суретші қажет?

- A) 24
- B) 8
- C) 18
- D) 12
- E) 6



24. Ваня мен Коля - Серёжа мен Сашадан үлкен. Серёжа мен Саша - Петядан үлкен. Ең кішісі кім?

- A) Петя
- B) Саша
- C) Серёжа
- D) Ваня
- E) Коля

25. Пәтерде иттер мен мысықтар тұрады. Барлық жануарлардың тек біреуі ит емес, ал бір үй жануарынан басқасының бәрі мысық. Мысықтар мен иттердің барлығы қанша?

- A) Бір ит пен бір мысық
- B) Бір ит пен үш мысық
- C) Төрт ит және көптеген мысықтар
- D) Бір ит пен үш мысық
- E) Екі ит пен екі мысық



26. Маша мен Ваняның әрқайсысында 3 соратын кәмпиттен бар. Маша өзінің 2 кәмпитін жеді. Ваня да солай істеді. Ваняда қанша кәмпит қалды?

- A) 1
- B) 2
- C) 0
- D) 4
- E) 3



27. Егер сіз жарысқа қатысып, үшінші орындағы адамды басып озсаңыз, қандай орынға ие боласыз?

- A) Үшінші
- B) Екінші
- C) Үшінші
- D) Бірінші
- E) Бесінші



28. 100-ден 2-ні қанша рет шегеруге болады?

- A) 1 рет, $100-2=98$. Келесі азайту 100-ден шегеруге жатпайды.
- B) 100
- C) 0
- D) 25
- E) 50.

29. Фермада екі жылқы, бір қоян, бір күшік, бір мысық, шошқа мен шошқа, сиыр мен бұзау, күркетауық пен қаз болды. Иесі итпен келді. Фермада қанша аяқ болды?

- A) Екі аяқ
- B) 44
- C) 46
- D) 34
- E) 26

30. Бұл тізімге қайсысы енбеуі керек? Майшабақ, кит, акула, тунец, треска.

- A) Кит
- B) Майшабақ
- C) Акула
- D) Тунец
- E) Треска

31. Адамдар қартайған Атадан:

- Сіз неше жастасыз?- деп сұрады

"Мен кейбір туыстарымнан алты жүз есе үлкенмін", - деп жауап берді ол.

Рас па?

Солай болуы мүмкін бе?

- A) Егер атасы 50 жаста болса, ал немересі 1 айлық болса, онда атасы немересінен 600 есе үлкен.
- B) Егер атасы 50 жаста болса, ал немересі 1 айлық болса, онда атасы немересінен 100 есе үлкен.
- C) Егер атасы 50 жаста болса, ал немересі 1 айлық болса, онда атасы немересінен 200 есе үлкен.
- D) Егер атасы 50 жаста болса, ал немересі 1 айлық болса, онда атасы немересінен 60 есе үлкен.
- E) Егер атасы 50 жаста болса, ал немересі 1 айлық болса, онда атасы немересінен 65 есе үлкен.



32. Жеті ағайынды ұлдардың әрқайсысының бір-біреуден қарындасы бар.

Ол үйде барлығы неше қарындас бар?

- A) Біреу
- B) Үшеу
- C) Екеу
- D) Төртеу
- E) Алтау



33. Қаздар ұшып барады. Аңшы біреуін атып құлатты.

Нешеуі қалды?

- A) Оқ тиіп құлаған біреуі қалды, қалғандары ұшып кетті
- B) Үш

- C) Он
- D) Екі
- E) Бес



34. Үйректер тобы ұшып барады: бір үйрек алдында, екеуі артта; біреуі - артта, екеуі алдында; біреуі екеуінің арасында және үшеуі қатарда. Барлығы қанша үйрек болды?

- A) 3 үйрек
- B) 4 үйрек
- C) 5 үйрек
- D) 2 үйрек
- E) 10 үйрек



35. “Ия, сен. Иә, мен - иә, сен екеуміз”.

Біз нешеуміз?

- A) Екеу
- B) Үшеу
- C) Жетеу
- D) Он
- E) Біреу

36. Әкесі мен ұлы, ұлы мен әкесі, немересі және атасы.

Олар барлығы нешеу?

- A) Үшеу
- B) Екеу
- C) Жетеу
- D) Он

Е) Біреу

37. Олар тобымен жүріп келеді: қайыненесі, күйеуі және күйеуі әйелімен, Анасы қызымен, әжесі - немересімен, қызы - әкесімен. Олар барлығы нешеу?

- A) Төртеу
- B) Үшеуі
- C) Жеті
- D) Бір
- E) Екеу



38. Алмұртта 37 алмұрт жемісі өсіп тұр, ал анар талының жемісі аздау. Анар талында қанша алмұрт өсіп тұр?

- A) Анар талында алмұрт өспейді
- B) Сансыз көп
- C) 37
- D) 50
- E) 100

39. Күн мен түн бірге қанша сағатқа созылады?


- A) 24 сағат.
- B) 48 сағат.
- C) 72 сағат.
- D) 12 сағат.
- E) 10 сағат.

40. Көшенің бір бетіндегі соңғы үйдің нөмірі 27. Көшенің қарсы бетінде қанша үй бар?

- A) 14
- B) 27
- C) 13
- D) 28
- E) 12

41. Екі шаңғышы бір уақытта бір-бірімен кездесуге қарсы бағытта жолға шықты. Біріншісі кездесетін жерге дейін 2 сағат жүрді. Екінші шаңғышы кездесуге дейін қанша уақыт жүрді?

- A) 2 сағат
- B) 3 сағат
- C) 1 сағат
- D) 4 сағат
- E) 30 минут




42. Екі оқушы қыз мектептен үйіне, ал үш ұл оларға қарсы жүріп келеді. Барлығы қанша бала үйлеріне қайтып барады?

- A) 2
- B) 5
- C) 7
- D) 10
- E) 1



43. Үстелде 1 алма жатыр. Ол 4 бөлікке бөлінді. Енді үстелде қанша алма бар?

- A) 1
- B) 4
- C) 2
- D) 5
- E) 3



44. Үш түйеқұс ұшып кетті. Бір аңшы атып тастады. Қанша түйеқұс қалды?

- A) 0
- B) 2
- C) 1
- D) 3
- E) 4

45. Қызда 5 алма бар. Ол 3-нен басқасының бәрін жеді. Қызда қанша алма қалды?

- A) 3
- B) 2

- C) 1
- D) 4
- E) 5

46. Неліктен тарақандар лас жерлерде жорғаласа да жұқпалы ауруларға шалдықпайды?

- A) Тарақандардың миында антибиотиктер бар.
- B) Тарақанның құрсау тәрізді терісі оны инфекциядан қорғайды.
- C) Тарақанның мұрты инфекцияны дереу залалсыздандырады.
- D) Тарақанның қанаттары оны инфекциядан қорғайды.
- E) Тарақанның денесі кез-келген сыртқы инфекцияны өлтіреді.

47. Ағайынды үш ұлдың әрқайсысының бір-бір қарындасы бар. Отбасында барлығы қанша бала бар?

- A) 4
- B) 5
- C) 1
- D) 2
- E) 3

48. 6 трактормен жер жыртылды.

Олардың 2-уі тоқтап қалды.

Далада барлығы қанша трактор бар?

- A) 6
- B) 2
- C) 3
- D) 4
- E) 1



49. Бөлменің 4 бұрышы бар. Әр бұрышта 1 мысықтан отыр. Әр мысыққа қарама-қарсы 3 мысық отыр. Бөлмеде қанша мысық бар?

- A) 4
- B) 2
- C) 3
- D) 1
- E) 5

50. Таяқтың 2 ұшы бар. Егер біреуін кессеңіз, онда қанша ұшы қалады?

- A) 2
- B) 1
- C) 3
- D) 0

Е) 4

51. Бір аяғымен тұрған әтештің салмағы 3 кг. Екі аяғымен тұрса салмағы қанша болады?

- А) 3 кг.
- В) 2 кг.
- С) 1 кг.
- Д) 4кг.
- Е) 0 кг.

52. Сағатына үш жылқы қосылып бірге 24 км шапты. Сонда, аттың әрқайсыс неше шақырым шапты?

- А) 24 км
- В) 0 км.
- С) 12 км
- Д) 2 км
- Е) 10 км

53. Бір жұмыртқаны 5 минут пісіру керек. Ал 6 жұмыртқаны пісіру қанша уақыт алады?

- А) 5 минут.
- В) 10 минут.
- С) 15 минут.
- Д) 20 минут.
- Е) 30 минут.



54. Төрт адам 20 минут бойы домино ойнады. Сонда олардың әрқайсысы неше минут ойнады?

- А) 10 минуттан.
- В) 20 минуттан.
- С) 20 минуттан.
- Д) 20 минуттан.
- Е) 20 минуттан.

55. Отбасында екі бала бар. Самат - Бейбіттің ағасы, бірақ Бейбіт - Саматтың інісі емес. Бұлай болуы мүмкін бе? Бейбіт кім?

- А) Қарындасы
- В) Көршісі
- С) Ағайы
- Д) Жиені
- Е) Немере бауыры

56. Қала бағыты бойынша 3 көлік, ал оларға қарсы 5 автобус жүріп келеді.

Қалаға қанша көлік келе жатыр?

- А) 3 машина.
- В) 1 машина.
- С) 2 Машина.

- D) 0 машина.
- E) 5 машина.

57. Үш бала дойбы ойнады. Барлығы үш партия ойналды. Әр бала қанша партия ойнады?

- A) Үш партиядан.
- B) Алты партиядан.
- C) Бес партиядан.
- D) Бір партиядан.
- E) Екі партиядан.

58. Бүкіл әлем қандай жәндікке "қол шапалақтайды"?

- A) "Күйе-көбелекке"
- B) Көбелектерге
- C) Инеліктерге
- D) Масаларға
- E) Шыбындарға

59. Алты аяғы, екі басы, құйрығы бір. Мынау не?

- A) Атқа мінген шабандоз
- B) Қолтырауын
- C) Айдаһар
- D) Ұлу
- E) Медуза

60. Үйлері жоқ қалалар, суы жоқ өзендер және ағаштары жоқ ормандар қайда бар?

- A) Географиялық картада
- B) Фильмдерде
- C) Қиялда
- D) Жұмақта
- E) Түнде көретін түстерде

61. Кімдер бір орныда отырып "жүреді"?

- A) Шахматшылар
- B) Арбадағы мүгедектер
- C) Жүргізуші
- D) Тракторшы
- E) Нашақорлар

62. Бастау оңай, мүмкін, аяқтау қиын.

- A) Әңгіме
- B) Сым
- C) Белдік
- D) Жанжал
- E) Арақатынас

63. Сұрақ болып табылмайды. Бірақ жауап беруді қажет етеді. Ол не?

- A) Сыртқы есіктің қоңырауы немесе телефонның қоңырауы.
- B) Хат
- C) Жеделхат
- D) Достық
- E) Жанжал

64. Барлығын көре алатын кезде сіз оны көре алмайсыз,
Ал ештеңе көрінбейтін кезде оны көресіз.

- A) Қараңғылық
- B) Тұман
- C) Өрт
- D) Таңсәрі
- E) Жаңбыр

65. Профессор достарына өз қолымен көкөніс салатын дайындап беруді шешті. Ол үшін оған қажет болды: бұрыш - 3 дана және сонша қызанақ; қияр қызанақтан аздау, бірақ шалғамнан көп. Профессор салатқа қанша түрлі көкөністі қолданды?

- A) 9
- B) 6
- C) 7
- D) 8
- E) 5



66. Сізге тиесілі нәрсе, бірақ сізден гөрі басқалар көп қолданатын нәрсе.

Ол не?

- A) Сіздің есіміңіз
- B) Сіздің бойыңыз
- C) Сіздің мейірімділігіңіз
- D) Сіздің көркіңіз
- E) Сіздің ақыл-қабілетіңіз

67. Құлағында жүрекшесі бар жалғыз құс?

- A) Үкі
- B) Түйеқұс
- C) Тырна
- D) Феникс
- E) Қырғауыл

68. Римдіктер шанышқының дизайнына революциялық жаңалық енгізді-барлық кейінгі модельдер римдік шешімнің жетілдірілген түрі. Римдік жаңалыққа дейін шанықылар қандай болды?

- A) Біртісті
- B) Көптісті
- C) Тұтастісті
- D) Үштісті
- E) Төртбұрышты

69. Ең үлкен жемісі бар өсімдікті атаңыз.

- A) Асқабақ
- B) Қарбыз
- C) Қауын
- D) Қызанақ

Е) Кокос

70. Кез келген ғарышкер ұшу кезінде не жоғалтады?

- A) Салмақ
- B) Оттегі
- C) Әлеммен байланыс
- D) Ұйқы
- E) Қорқыныш

71. Адамның он екі жұп қабырғасы бар. Ненің үш жүзге жуық қабырғасы бар?

- A) Жыланның
- B) Пілдің
- C) Қырықаяқтың
- D) Тасбақаның
- E) Киттердің

72. 90% ы өртеніп, 10% ы тасталатын дақылды атаңыз.

- A) Темекі
- B) Тары
- C) Жүгері
- D) Бидай
- E) Арпа

73. Ең үлкен мүйіздің иесі - мүйізтұмсық (158 см-ге дейін). Ал, ең жұмсақ мүйізі бар қай жәндік?

- A) Ұлу
- B) Ешкі
- C) Ақбөкен
- D) Сиыр
- E) Бұғы

74. Неліктен “бір күндік” жәндіктер тез өледі?

- A) Олардың ас қорыту жүйесі, тіпті аузы жоқ
- B) Олар - жұқпалы ауруға шалдыққан
- C) Олар суыққа төзбейді
- D) Олар ыстыққа төзбейді
- E) Олар у-шу мен жарыққа төзбейді

75. "Бұл ауру. Бірақ өте сирек кездесетін дерт. Өкінішке орай, жұқпалы емес", - деді Гиппократ. Гиппократ не туралы айтты?

- A) Данышпандық туралы
- B) Психика туралы
- C) Ұйқы туралы
- D) Батылдық туралы
- E) Әзілкештік туралы

76. Егер түріктер "ауылды күзет" деп айтқысы келсе олар "қара авыл" дейтін болған. Ал бүгінгі күні ол қалай айтылады?

- A) "Қарауылда!"
- B) "Тоқта!"
- C) "Қатып қал!"
- D) "Кетпе!"

Е) "Қарама!"

77. Юлий Цезарь шеберлерге өз сарбаздарының қалқандары мен қаруларын зергерлік бұйымдармен безендіруді бұйырды. Неге?

- А) Лақтырып тастап кетпеулері үшін
- В) Мотивация үшін
- С) Бедел үшін
- Д) Рухты көтеру үшін
- Е) Батылдық үшін

78. Егер түнгі сағат 12-де жаңбыр жауса, "72 сағаттан кейін күн ашық болады" деп күтуге бола ма?

- А) Жоқ, өйткені 72 сағаттан кейін қайтадан түн ортасы болады
- В) Түскі уақыт болады
- С) Күн болады
- Д) Қар жауады
- Е) Иә, күн ашық болады

79. Шамда 20 лампа бар болған. Оның 5-і жанып кетті. Қанша лампа қалды?

- А) 20 (жиырма шам - 15 жұмыс істейтін және 5 күйген лампа).
- В) 15
- С) 19
- Д) 12
- Е) 5.

80. Қай жәндіктің мұрты өз аяқтарынан ұзын болады?

- А) Тарақанның
- В) Жирафтың
- С) Бұғының
- Д) Медузаның
- Е) Ұлудың

81. Бір джентльмен өзінің досына тапсырыс бойынша суретшіге салдырған портретті көрсетіп тұрып: "Менің әпкелерім де, бауырларым да жоқ, бірақ бұл адамның әкесі - менің әкемнің ұлы болған", - деді. Портретте кім бейнеленген?

- А) Джентльменнің ұлы.
- В) Джентльменнің ағасы.
- С) Джентльменнің атасы.
- Д) Джентльменнің немересі.
- Е) Джентльменнің өзі.

82. Саябақта 8 орындық бар. Үшеуі қайта боялды. Саябақта қанша орындық қалды?

- А) Сегіз
- В) Бес
- С) Алты
- Д) Жеті
- Е) Он

83. Термометр плюс +15 градусты көрсетіп тұр. Егер термометр екеу болса қанша градус көрсеткен болар еді?

- А) + 15 градус
- В) + 30 градус

- C) + 45 градус
- D) + 60 градус
- E) 0 градус

84. Қайсысы ауыр, қайсысы жеңіл: 1 кг мақта немесе 1 кг темір?

- A) Бірдей
- B) 1 кг алма
- C) 1 кг бидай
- D) 1 кг тұз
- E) 1 кг мақта

85. “Екі рет туады, бір рет өледі”?

- A) Жылан
- B) Тасбақа
- C) Кесіртке
- D) Сушаян
- E) Өрмекші

86. Адам бойындағы еш азаймайтын, тек көбейе беретін нәрсе не?

- A) Адамның жасы
- B) Ақыл
- C) Адамның салмағы
- D) Білімпаздық
- E) Достық.

87. Сіз одан көп алған сайын ол үлкейе береді. Ол не?

- A) Шұңқыр
- B) Ақша
- C) Жад
- D) Махаббат
- E) Ластанбау

88. Күн сайын тауға барады, таудан қайтады, бірақ орнында қалады?

- A) Жол
- B) Күн
- C) Ай
- D) Жаңбыр
- E) Өзен

89. Денесіне шеге қағуға болатын жалғыз жануар?

- A) Жылқы
- B) Бұқа
- C) Мүйізтұмсық
- D) Піл
- E) Ит

90. Қандай жануардың терісінен ағаш және мәрмәр тасты жылтырататын егеуіш жасалады?

- A) Акулалардың
- B) Бұқаның
- C) Мүйізтұмсықтың
- D) Пілдің
- E) Жылқылардың

91. Аш қарынға қанша жұмыртқа жеуге болады?
A) 1 (қалғандары “аш қарынға жеген“ деп саналмайды).
B) 10
C) 2
D) 3
E) 0
92. “Әкемнің ұлы, бірақ менің ағам емес”. Кім туралы айтылып тұр?
A) Немере аға туралы
B) Туған аға туралы
C) Менің ұлым
D) Мен өзім
E) Менің немерем
93. “Тамақтандырсаңыз ол тіріледі. Шөлін қандырсаңыз, ол өледі”. Ол не?
A) От
B) Жануарлар
C) Өсімдіктер
D) Достық
E) Қақтығыстар
94. Отқа жанбайтын және суға батпайтын не?
A) Мұз
B) Титан
C) Шыны
D) Пластик
E) Ғалымдардың еңбектері
95. Австралиялықтар қай жәндікті “теңіз арасы” деп атайды?
A) Медузаны
B) Пингвиндерді
C) Итбалықтарды
D) Теңіз кірпілерін
E) Кірпікшешенді
96. Үш тауық үш күнде үш жұмыртқа береді. 12 күнде 12 тауық қанша жұмыртқа салады?
A) 48
B) 12
C) 24
D) 36
E) 4
97. Адам қолға үйреткен насеком?
A) Аралар
B) Көбелектер
C) Инелік
D) Масалар
E) Шыбындар
98. Қандай сұраққа "иә" деп жауап беру мүмкін емес?
A) "Сіз ұйықтап жатырсыз ба?»

- B) "Сіз серуендеп жүрсіз бе?"»
- C) "Сіз істеп жатырсыз ба?"»
- D) "Сен бақыттысың ба?"»
- E) "Сен ақылдысың ба?"»

99. Қандай түйінді тарқату мүмкін емес?

- A) Теміржол
- B) Туыстық қатынастар
- C) Мемлекеттік
- D) Махаббат
- E) Қылмыстық

100. Қандай жануарлар әрқашан көздерін ашып ұйықтайды?

- A) Балықтар
- B) Балалар
- C) Маймылдар
- D) Қолтырауындар
- E) Үкі

101. Екі солдат өзеннің сол жағалауына жақындады, олар келесі жағалауға өтуі керек еді. Екі жасөспірім жағаға жақын жерде қайықпен жүзіп жүрді, суда басқа қалқымалы қайықтар болған жоқ. Алайда қайық суда 100 кг-нан артық салмақты көтере алмайды.

Сарбаздарды оң жағалауға өткізуді қалай ұйымдастыруға болады және мұны қанша сапарда жасауға болады? Бір сарбазды өткізу үшін екі сапар қажет: бірінші сапарда екі жасөспірім қарсы жағалауға өтеді, екеуінің біреуі сол жерде қалады, ал екінші жасөспірім қайықпен бастапқы жағалауға оралады.

Екінші рейсте жасөспірім қайықты солдаттардың біреуіне береді. Солдат оң жағалауға өтіп, қайықты екінші жасөспірімге қайтарады. Екінші жасөспірім бастапқы жағалауға жетеді. Осылайша, бір сарбазды паромға апару үшін екі сапар қажет болса, екеуін судан өткізу үшін неше сапар қажет?



- A) 4 рейс қажет болады
- B) 3 рейс қажет болады
- C) 2 рейс қажет болады
- D) 5 рейс қажет болады
- E) 1 рейс қажет болады

102. Англияда бұл гүлді ақындар жырлаған



Ол сәби перілер мен нәзік эльфтер үшін бесік ретінде қызмет етеді. Отаны - Парсы, ол жерден Түркияға қоныс аударып, XIX ғасырда Еуропаға тарады. Голландияда бұл гүлге табыну болды. Амстердамда бұл гүлдің екі үш пиязына (ұрығына) екі тас үй сатып алынғаны туралы тарихи дәлел бар.

- A) Қызғалдақтар
- B) Раушан гүлі
- C) Орхидеялар
- D) Магнолия
- E) Лиандралар

103. Өрттен қорқынышты не бар?



- A) Түтін
- B) Жанартаудың оянуы
- C) Жер сілкінісі
- D) Соғыс
- E) Сел

104. Әнді музыкасыз орындау қалай аталады?



- A) Акапелла
- B) Ария


- C) Хор
- D) Соло
- E) Речитатив

105. Қандай жануардың салмағы 190 тоннаға дейін жетеді?



- A) Көк кит
- B) Гиппопотам
- C) Піл
- D) Мүйізтұмсық
- E) Қолтырауын

106. Катя Ирадан жылдам,
ал Ира Ленадан жылдамырақ.
Сонда, кім бәрінен жылдам қимылдайды?



- A) Катя
- B) Ира
- C) Лена
- D) Надя
- E) Оля

107. Екі көліктің біреуі кең жолмен, екіншісі тар жолмен келе жатыр.
Жүк көлігі тар жолмен келе жатқан жоқ.
Жеңіл көлік қандай жолмен келеді?
Жүк көлігі ше?



- A) Жүк көлігі кең жолмен келе жатыр
- B) Жеңіл көлік кең жолмен келе жатыр

- С) Жүк көлігі кең жолмен келе жатқан жоқ
- Д) Жүк көлігі тар емес жолмен келе жатқан жоқ
- Е) Жеңіл көлік тар жолмен келе жатқан жоқ

108. Вераның терісі Людамен салыстырғанда қара түсті.
Вера Катямен салыстырғанда әлдеқайда ақ түсті.
Олардың ішіндегі ақшылы кім?



- А) Вера
- В) Люда
- С) Катя
- Д) Оля
- Е) Наташа

109. Нені дайындауға болады, бірақ жеуге болмайды?

- А) Сабақ бойынша үй тапсырмасын
- В) Бәліш
- С) Тамақ
- Д) Сусын
- Е) Бауырсақ

110. Толя Игорьден биік,
Игорь Колядан биік.
Сонда, ең ұзыны кім?

- А) Толя
- В) Игорь
- С) Коля
- Д) Юра
- Е) Андрей

111. Құрлықтағы адамдар ауырмайтын ауру?

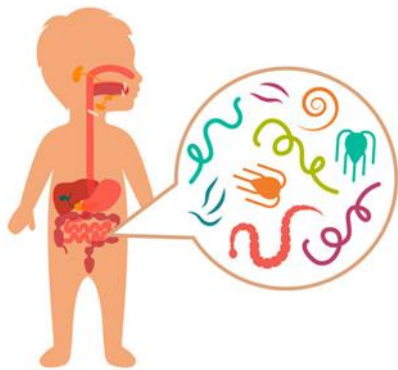
- А) «Теңіз ауруы»
- В) Құтыру
- С) Іш сүзегі
- Д) Летаргиялық ұйқы
- Е) Туретта синдромы

112. Саша Толяға қарағанда көңілді,
Толя Ванядан көңілді.
Сонда, ең көңілдісі кім?

- А) Саша
- В) Толя
- С) Ваня
- Д) Юра

Е) Андрей

113. Қандай құрттардың ішектері болмайды?



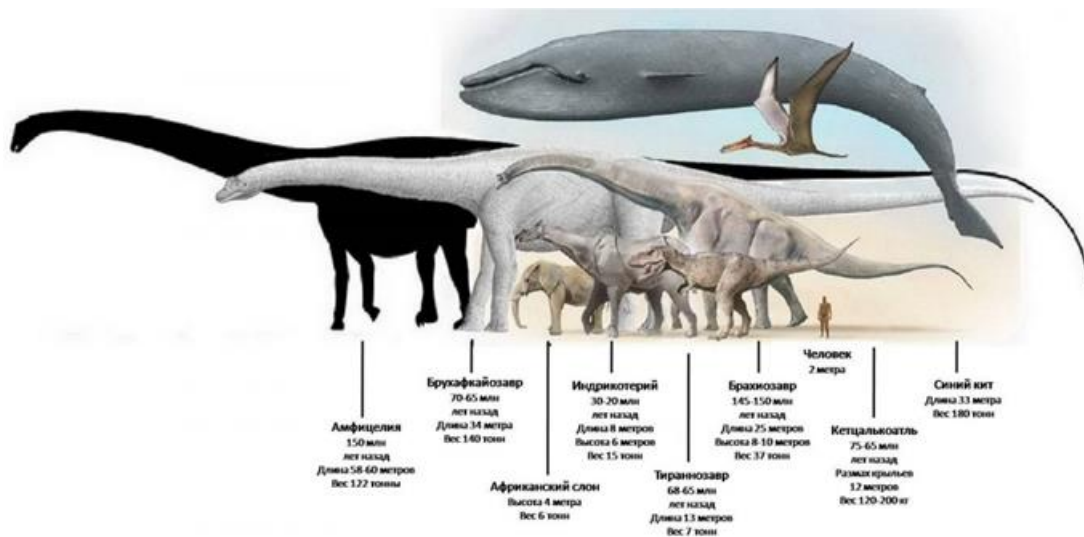
- А) Таспа құрттар
- В) Қосмекенділер
- С) Жұлдызды құрттар
- Д) Жауын құрттары
- Е) Мұз құрттары

114. Қандай моллюскілерді тірідей жейді?



- А) Устрицалар (Ostreidae)
- В) Брондалған (Polyplacophora)
- С) Қосжақпақтылар (Bivalvia)
- Д) Күрекаяқтар (Scaphopoda)
- Е) Қарынаяқтылар (Gastropoda)

115. Ең ірі жануар?



- A) Көк кит – «жолақ кит»
- B) Гиппопотам
- C) Мүйізтұмсық
- D) Піл
- E) Мегалодон

116. Өзге организмдегі ағза шырындарымен қоректенетін, басқалардың есебінен өмір сүретін тіршілік қалай аталады?



- A) Паразиттер
- B) Құрттар
- C) Жатыпшішерлер
- D) Арамтамақтар
- E) Өзгенің нанын жегіштер

117. Аралдар салатын су тіршілігі қалай аталады?



- A) Инжу-маржан полиптері
- B) Балықтар
- C) Құрттар
- D) Аралар
- E) Құстар

118. Қандай құстар ұша алмайды?



- A) Түйеқұстар
- B) Тотықұстар
- C) Көгершіндер
- D) Үкілер
- E) Қаршыға құс

119. Бәліш үш бөлікке кесілді.

Бәлішті үшке бөлу үшін барлығы неше тілік жасалды?



- A) Үш
- B) Екі
- C) Бір
- D) Төрт
- E) Бес

120. Терезе әйнегін бес ағайындылардың қайсысы сындырды.?

Андрей: «Бұл Витя немесе Толя», - деді.

Витя: «Мұны мен де, Юра да жасаған жоқпыз», - деді.

Дима: «Бұлардың біреуі шындықты айтты, ал екіншісі айтпады», - деді.

Юра: «Жоқ, Дима, сен қателесесің», - деді.

Әкелері кем дегенде үш ағайынды шындықты айтқанына сенімді.

Терезені кім сындырды?

- A) Толя сындырды
- B) Андрей сындырды
- C) Витя сындырды
- D) Дима сындырды
- E) Юра сындырды

121. Маша Светаға қарағанда жылдам жүгіреді.

Света Оляға қарағанда жылдам.

Қай қыз бәрінен жылдам жүгіреді?



- A) Маша
- B) Света
- C) Оля
- D) Надя
- E) Галя

122. Лиза мен Петя саңырауқұлақтар мен жидектерді жинауға орманға барды. Лиза саңырауқұлақ терген жоқпын. Петя не жинады?



- A) Петя саңырауқұлақ жинады
- B) Петя саңырауқұлақ жинамады
- C) Петя жидек жинады
- D) Петя жидек жинамады
- E) Лиза саңырауқұлақ жинады

123. Ираның бойы Клаваға қарағанда 3 см қысқа.

Клава Любадан 5 см қысқа.

Сонда, ең ұзыны кім?

- A) Люба
- B) Клава

- C) Ира
- D) Майя
- E) Надя

124. Екі қайың өсіп тұр. Әр қайыңда төрт бұр (шишка) бар. Екі қайыңда барлығы неше бұр бар?

- A) қайың ағашында бұр (шишка) болмайды
- B) 8 бұр
- C) 7 бұр
- D) 6 бұр
- E) 12 бұр

125. Қандай жәндік өз салмағынан 10 есе ауыр жүкті көтере алады?

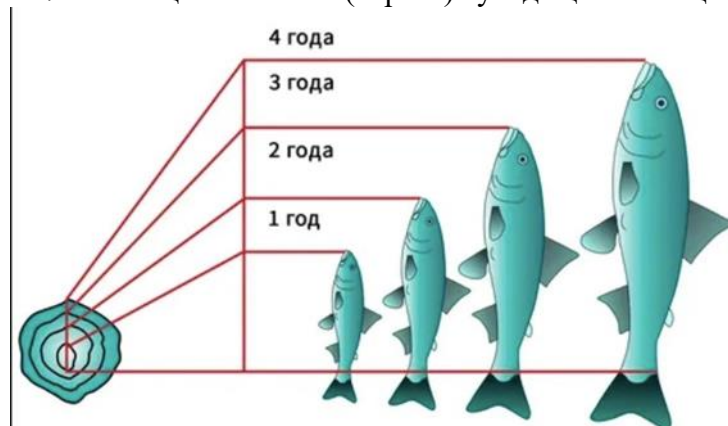


- A) Құмырсқа
- B) Кірпі
- C) Ақуыз
- D) Ара
- E) Тасбақа

126. Су қоймасындағы судың температурасы Цельсий бойынша 17 градус. Онда тіршілік ететін балықтардың дене температурасы қандай?

- A) 18 градус Цельсий
- B) 20 градус Цельсий
- C) 25 градус Цельсий
- D) 22 градус Цельсий
- E) 23 градус Цельсий

127. Сіз мөңке балығын (карась) ауладыңыз. Оның жасы нешеде екенін қалай білеміз?



- A) Қабыршағындағы сақиналарды санаңыз
- B) Балықтың ұзындығын өлшеңіз
- C) Тұмсығының ұшынан құйрық қанатына дейін өлшеңіз
- D) Қабыршақты жамылғыны өлшеңіз


Е) Балықтың қалыңдығын өлшеңіз

128. Қандай организмдер өмір бойы тоқтаусыз өседі?



- A) Маржандар
- B) Киттер
- C) Мөңке балығы
- D) Кірпікшелілер
- E) Сегізаяқтар

129. Оттегісіз ортада өмір сүре алмайтын тіршілік иелері?



- A) Балық
- B) Балдырлар
- C) Гельминттер
- D) Анаэробты микроорганизмдер
- E) Аскаридалар

130. Дөңгелекте 8 спиц бар.

Спицалар арасында қанша бөлік бар?

- A) 7
- B) 8
- C) 6
- D) 5
- E) 3

131. Тоғайға қарай бір топ құс ұшып келді.

Олар бір бұтаққа екеуден қонып еді, бір бұтақ бос қалды.

Әрқайсысы жеке қонып еді, біреуіне бұтақ жетпей қалды.

Тоғайда неше ағаш бар, барлығы қанша құс ұшып келді?



- А) Үш ағаш, төрт құс
- Ә) Төрт ағаш, төрт құс
- С) Төрт ағаш, үш құс
- Д) Үш ағаш, үш құс
- Е) Төрт ағаш, бес құс

132. Толя мен Игорь сурет салып отыр.

Бірі - үйдің, екіншісі - жапырақты бұтақтың бейнесін салуда.

Игорь үйді салмаса, Толя ненің суретін салды?

- А) Толя үйдің суретін салып отыр
- Б) Толя жапырақтың суретін салып отыр
- С) Толя ұшақтың суретін салып отыр
- Д) Толя машинаның суретін салып отыр
- Е) Толя ағаштың суретін салып отыр

133. Үш құрбы ақ, жасыл, көк көйлек, аяқ киім киіп шықты. Бірдей түсті көйлек пен аяқ киім Аняда ғана бар. Валяның аяқ киімі де, көйлегі де аппақ емес. Наташа жасыл аяқ киім киген.



Құрбылардың әрқайсысының көйлектері мен аяқ киімдерінің түсін анықтаңыз.

- А) Наташа көк көйлек пен жасыл туфлимен, Валя - жасыл көйлек пен көк туфлимен, Аня ақ көйлек пен ақ туфлимен шықты. Наташа көк көйлек пен жасыл туфлимен, Аня жасыл көйлек пен көк туфлимен шықты. Валя жасыл көйлек пен көк туфлиде
- Б) Наташа көк көйлек пен жасыл туфлимен, Аня жасыл көйлек пен көк туфлимен шықты
- С) Валя - жасыл көйлек пен көк туфлиде
- Д) Валя - жасыл көйлек пен көк туфлиде

Е) Аня ақ көйлек, ақ туфли киген

134. Халықаралық конгрессте төрт ғалым кездесті: физик, тарихшы, биолог және математик. Олардың ұлттары әртүрлі болды және ғалымдардың әрқайсысы төрт тілдің екеуінде (орыс, ағылшын, француз және итальян) сөйлегенімен, олардың төртеуі де сөйлейтін тіл болмады. Үшеуі де сөйлейтін тіл болды. Ғалымдардың ешқайсысы бір мезгілде французша да, орысша да сөйлемеген. Физик ағылшын тілін білмесе де, биолог пен тарихшы бір-бірімен сөйлескісі келсе, аудармашы қызметін атқара алатын. Тарихшы француз тілінде сөйлейді және математикпен сөйлесе алады, бірақ соңғысы бірде-бір орыс сөзін білмейді. Физик, биолог және математик бір тілде бірге сөйлесе алмайды.



Әрбір ғалым қандай екі тілді біледі?

- A) Физик француз және итальян тілдерінде, тарихшы орыс және итальян тілдерінде, биолог ағылшын және француз тілдерінде, математик ағылшын және итальян тілдерінде сөйлейді.
- B) Физик орыс және итальян тілдерінде, биолог ағылшын және француз тілдерінде, математик ағылшын және итальян тілдерінде сөйлейді.
- C) Физик ағылшын және француз тілдерінде, тарихшы орыс және итальян тілдерінде, биолог ағылшын және француз тілдерінде, математик француз және итальян тілдерінде сөйлейді.
- D) Физик араб және итальян тілдерінде, тарихшы француз және испан тілдерінде, биолог ағылшын және француз тілдерінде, математик ағылшын және итальян тілдерінде сөйлейді.
- E) Физик француз және итальян тілдерінде, тарихшы орыс және итальян тілдерінде, биолог ағылшын және француз тілдерінде, математик ағылшын және итальян тілдерінде сөйлейді.

135. Кино билеттеріне кезекте тұрғандар: Юра, Миша, Володя, Саша және Олег. Белгілі болғаны:

- 1) Юра билетті Мишадан ерте, бірақ Олегтен кеш сатып алады.
- 2) Володя мен Олег бір-бірінің қасында тұрған жоқ.
- 3) Саша Олегке, Юраға немесе Володяға жақын тұрған жоқ.



Кезекте кім кімнен кейін тұр?



- A) Ұлдар келесі ретпен тұр: Олег, Юра, Володя, Миша және Саша
- B) Миша мен Саша, Олег, Юра, Володя
- C) Юра, Володя, Миша және Саша, Олег
- D) Саша, Олег, Юра, Миша және Володя
- E) Саша, Миша, Володя, Олег, Юра

136. Отбасыда үш перзент бар.

Ұлдардан гөрі қыздар көп.

Отбасында неше әпке бар?

- A) Екі әпкесі бар
- B) Екі ұл, бір әпкесі бар
- C) Бір әпкесі, екі інісі бар
- D) Үш әпкесі бар
- E) Үш інісі бар

137. Отбасында төрт бала бар. Олар 5, 8, 13 және 15 жаста. Балалардың есімдері - Аня, Боря, Вера және Галя.

Бір қыз бала бақшаға барса, Аня Борядан үлкен болса, Аня мен Вераның жасының қосындысы үшке бөлінсе, әр бала неше жаста?

- A) Вера 5 жаста, Бор 8 жаста, Аня 13 жаста, Гала 15 жаста
- B) Вера 5 жаста, Боря 8 жаста, Аня 13 жаста, Гала 5 жаста
- C) Вера 15 жаста, Боря 18 жаста, Аня 3 жаста, Гала 5 жаста
- D) Вера 5 жаста, Бор 8 жаста, Аня 13 жаста, Гала 12 жаста
- E) Вера 3 жаста, Бор 8 жаста, Аня 3 жаста, Гала 5 жаста

Шешім. Аня мен Вераның жасының қосындысы үшке бөлінеді және бұл бір қыз 5 жаста, екіншісі 13 жаста болған жағдайда мүмкін болады. Бірақ мәселе бойынша Аня Борядан үлкен. Демек, Аня 13 жаста, ал Вера 5 жаста. Сонымен бірге Галя 15 жаста екені анық.

138. Саша Игорьден 10 жас кіші.

Игорь Лешадан 2 жас үлкен.

Ең жасы кім?

- A) Саша
- B) Леша
- C) Игорь
- D) Дима
- E) Юра

139. Төрт қыз әңгімелесіп отыр: Аня, Валя, Галя және Надя.

1) Жасыл көйлектегі қыз - Аня емес, Валя емес - көк көйлектегі қыз бен Надяның арасында тұрады.

2) Ақ көйлек киген қыз қызғылт көйлекті қыз бен Валяның арасында тұрады.

Әр қыз қандай түсті көйлек киеді?

- A) Галяның көйлегі жасыл, Надяныкі қызғылт, Валяныкі көк, Аняныкі ақ.

- В) Галя қызыл түсті көйлек киген
- С) Надя ақ түсті көйлек киген
- Д) Вали қызғылт түсті көйлек киген
- Е) Аня көк көйлек киген

140. Төрт дос (Петя, Боря, Алеша және Коля) апаларымен бірге мектептегі Жаңа жылдық балға барды.

Бірінші би кезінде олардың әрқайсысы өз әпке-қарындастарынан өзгелермен биледі. Лена - Петямен, Светлана - Наташаның ағасымен, Оля - Светлананың ағасымен, Боря - Алешаның әпкесімен, Алеша Петяның әпкесімен биледі.

Кім-кімнің ағасы? Кім кіммен билеген?



- А) Петя - Оляның ағасы, Петя Ленамен биледі
Боря - Наташаның ағасы, Боря Светланамен биледі
Алеша - Светлананың ағасы, Алеша Олямен биледі
Коля - Ленаның ағасы, Коля Наташамен биледі
- В) Петя - Наташаның ағасы, ал Боря Светланамен биледі
- С) Коля - Оляның ағасы, ал Петя Ленамен биледі
- Д) Алеша - Светлананың ағасы, Алеша Олямен биледі
- Е) Алеша Ленаның ағасы, Коля Наташамен биледі

141. Миша Олегтен күшті,

Миша Петядан әлсіз.

Ең күштілері кім?

- А) Петя
- В) Миша
- С) Олег
- Д) Алексей
- Е) Иван

142. Ең ірі маймыл қайсысы?

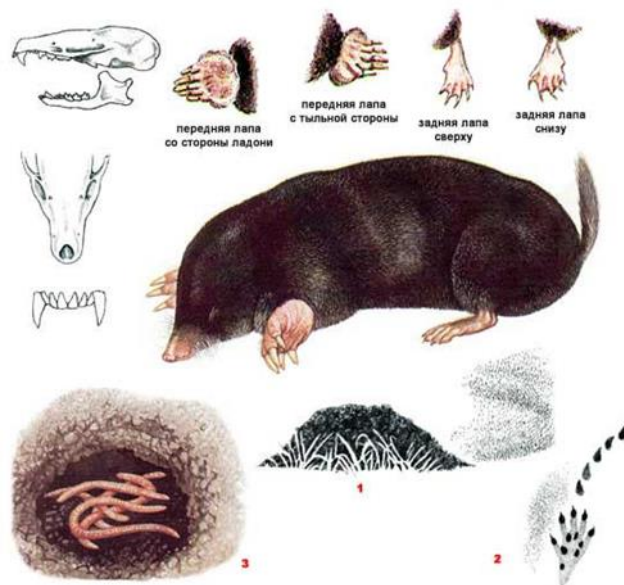


- A) Горилла
- B) Непалдық сұр лангур
- C) Мандрель
- D) Тибет макакасы
- E) Сары бабуиндар

143. Жүзге дейінгі сандардың қосындысы неге тең?

- A) 1-ден 100-ге (қоса алғанда) дейінгі сандардың қосындысы 5050-ге, 1-ден 100-ге дейінгі сандардың қосындысы (100-ді қоспағанда) 4950-ге тең.
- B) 5050
- C) 5000
- D) 4500
- E) 4900

144. Көптің қыс мезгіліне арналған азықты қалай дайындайды?



- A) Бастарын кесіп, қоймаға салады
- B) Жерге көмеді
- C) Жапырақтарға орап қояды
- D) Кептіреді
- E) Ұсақтайды және жинап қояды

145. Көктемнің алғашқы хабаршысы қандай құстар?



- A) Қарғалар
- B) Бұлғаулар
- C) Жұлдызқұрттар
- D) Қарақұйрықтар
- E) Далалық қызғыш құс

146. Құйрығы үш метрлік этеш сорты қай елде шығарылды?



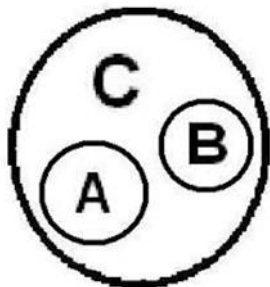
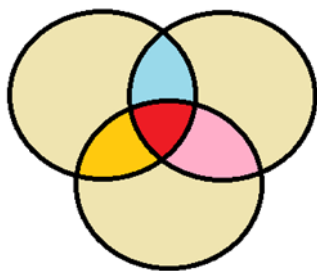
- A) Жапонияда
- B) Австралияда
- C) Австрияда
- D) Тайландта
- E) Индонезияда

147. Қай жәндіктің есту қабілеті жоқ?



- A) Шыбында
- B) Инелікте
- C) Масада
- D) Көбелекте
- E) Тарақанда

148. «Студент» және «спортшы» ұғымдарының арасындағы байланысты анықтаңыз:



- A) Қиылысу
- B) Бағыныштылық
- C) Ерекшелік
- D) Сәйкестік
- E) Қайшылық

149. (Жауапсыз махаббат).



Үш жас жігіт: Коля, Петя және Юра үш қызға ғашық: Таня, Зина және Галя. Бірақ бұл жауапсыз махаббат.

1. Коля - Таняны жақсы көретін жас жігітке ғашық болған қызды жақсы көреді.
2. Петя - Зинаны жақсы көретін жас жігітке ғашық болған қызды жақсы көреді.
3. Зина Юраны жақсы көрмейді.

Кім кімге ғашық?

- A) Коля – Галяға, Галя – Петяға, Петя – Таняға, Таня – Юраға, Юра – Зинаға, Зина – Коляға ғашық.
- B) Коля Таняны жақсы көреді

- C) Петя Зинаны жақсы көреді
- D) Тая Юраны жақсы көреді
- E) Петя Галяға ғашық

150. Қандай қосмекенділер бір жылда төрт рет терісін ауыстырады және әр жолы алдыңғысын өзі жейді.



- A) Бақалар
- B) Жыландар
- C) Шаян
- D) Сегізаяқтар
- E) Жыланбалықтар мен сәулелер

151. «Икебана» гүл шоғын жинау өнері қай елде қалыптасты?



- A) Жапонияда
- B) Қытайда
- C) Тайландта
- D) Тайванда
- E) Малайзияда

152. Қайсы гүл Күннің және Жапонияның символы саналады?



- A) Хризантема
- B) Пиондар
- C) Қызғалдақ
- D) Гербера
- E) Гортензиялар

153. Қандай гүл өз-өзіне сұқтанып, тек өзін ғана тамашалайды?



- A) Нарцисс
- B) Гортензиялар
- C) Хризантема
- D) Гербера
- E) Пиондар

154. Қандай тірі тіршіліктің бойында үш жүректен бар?



- A) Сегізаяқ, кеспе, кальмар
- B) Бақалар, жыландар
- C) Шаяндар, сегізаяқтар
- D) Жыланбалықтар мен сәулелер
- E) Киттер, кірпікшелілер

155. Моллюсктердің қанының түсі қандай?

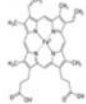
КРОВЬ

КРАСНАЯ



Люди и большинство позвоночных животных

В состав входит гемоглобин

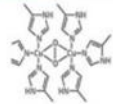


ГОЛУБАЯ



Ракообразные, паукообразные, головоногие моллюски

В состав входит гемоцианин



- A) Көілдір
- B) Мөлдір
- C) Қызыл
- D) Сұр
- E) Қара

156. Қай өсімдіктен бал жақсы жиналады?



- A) Линден
- B) Жалбыз
- C) Қарақұмық
- D) Жоңышқа
- E) Бақ-бақ

157. Құрлықтағы ең жылдам хайуанат?



- A) Гепард, 110 км/сағ.
- B) Түйеқұс
- C) Кенгуру
- D) Барыс
- E) Жолбарыс

158. Табиғаттағы ең жіңішке жіп?



- A) Веб
- B) Табиғи жіп
- C) Синтетикалық жіп
- D) Нейлон жіп
- E) Жібек жіп

159. Қай жылан түкіреді?

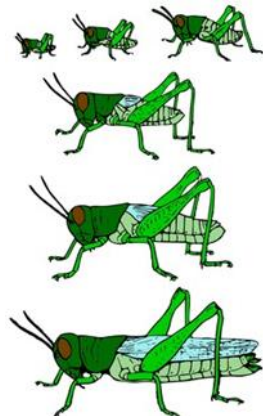
- A) Кобра
- B) Боа тартқышы
- C) Сужылан
- D) Мамба
- E) Анаконда

160. Ең ұзын тілдің иегері?



- A) «Құмырсқажегіш», ұзындығы 61 см.
- B) Жылан
- C) Сиыр
- D) Жираф
- E) Комодо айдаһары

161. Шегірткенің құлағы қайда орналасқан?



- A) Аяғында
- B) Маңдайында
- C) Қанаттарында
- D) Артқы жағында
- E) Құйрығында

162. Бекас-құстың маңыраған даусы қай жерінен шығады?



- A) Құйрық
- B) Іш
- C) Бас
- D) Қанаттарынан
- E) Бүкіл денесінен

163. Қандай жануар тамақ ішкеннен кейін тісін жуады - аузын шаяды?



- A) Жолбарыс
- B) Түйе
- C) Аю
- D) Піл
- E) Жираф

164. Қандай құстардың қанаттары қырлы болады?

У каких птиц крылья покрыты не перьями, а чешуей?



У пингинов

- A) Пингвиндердің
- B) Пеликандардың
- C) Құтанның
- D) Ләйлектің

Е) Қаздың

165. Қандай хайуанаттың мойын омыртқалары көбірек?



- A) Жираф
- B) Шошқа
- C) Піл
- D) Қолтырауын
- E) Жылан

166. Түйе су қорын қайда сақтайды?




- A) Қанында
- B) Өркешінде
- C) Асқазанда
- D) Тері астында
- E) Денеде

167. Сіріңке қандай ағаштан жасалады?



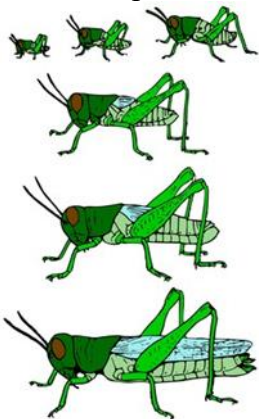
- A) Көктерек
- B) Қайың
- C) Үйеңкі
- D) Емен
- E) Тал

168. Қандай балық шахмат тақтасына айнала алады?



- A) Камбала
- B) Тұқы
- C) Иваси
- D) Килька
- E) Мөңке балығы

169. Шегірткенің шырылы қалай шығады?



- A) Аяқты қанатқа үйкеу арқылы
- B) Іш
- C) Бас
- D) Таразылар
- E) Бүкіл денемен

170. Қандай құстың қанаты мүлде жоқ?



- A) Киви-киви
- B) Пингвин
- C) Түйеқұс
- D) Тотықұс
- E) Шағала

171. Қай хайуанаттың бойындағы майы жасыл түсті?



- A) Қолтырауын
- B) Гишпопотам
- C) Мүйізтұмсық
- D) Жылан
- E) Бақа

172. Қандай өсімдіктердің жапырақтары Күннің бағытын көрсете алады?



-
- A) Жабайы салат, сільфий, эвкалипт
 - B) Жаңғақ
 - C) Қылқан жапырақты ағаштар
 - D) Қарағай
 - E) Кипарис

173. Дүние жүзіндегі ең үлкен өрмекші қандай?




- А) А) әлемдегі ең ірі өрмекші - *Heteropoda maxima* (лат.), Sparassidae тұқымдасынан, Лаостың Хаммуан провинциясында тіршілік етеді. Ұрғашыларының денесінің ұзындығы 4,6 см-ге дейін барады, аталықтары шамамен 3,0 см. Аяқ-қолдарының аралығы 25-тен 30 см-ге дейін. Оңтүстік Америкадағы Голиат «Құс жегіші» аяқ-қолдарының ұзындығы бойынша одан кіші, бірақ дене мөлшері бойынша одан айтарлықтай асып түседі
- В) Кенелер (Акари)
С) Шаяндар (скорпиондалар)
D) Сушаяндар
E) Қарақұрт

174. Жер бетіндегі ең үлкен жылан



- А) Анаконда, 9 м дейін.
В) Молга
С) Қара мамба
D) Қайсақа
E) Бумсленг

175. Қай акуланың көздері бір-бірінен 2 метр қашықтықта орналасқан?



- A) Балға балық (Carcharhiniformes)
- B) Үлкен ақ акула (Lamniformes)
- C) Қара ұшты акула (Katranidae)
- D) Ала акула (Wobbegongiformes)
- E) Аапон ара балығы (Sawfish)

176. Қай көбелек саяхаттағанды ұнатады: күзде оңтүстікке, Африкаға құстарша ұшып кетіп, көктемде кері қайтады.



- A) Боялған көбелек
- B) Адмирал
- C) Аполлон Мнемосин
- D) Автоной мариголдтары
- E) Ағаш көбелегі

177. Қай бақа өзінің итбалықтарына арнап терезесі, шатыры бар, бірақ есігі жоқ үй салады?



- A) Темір ұстасы – квакша бақасы
- B) Қиыршығыстық бақа
- C) Сібірлік бақа
- D) Шөпте жүретін бақа


Е) Көлдегі бақалар

178. Қандай жылан соқыр болса да бәрін естиді, иіссіз-ақ жылуды «көреді».



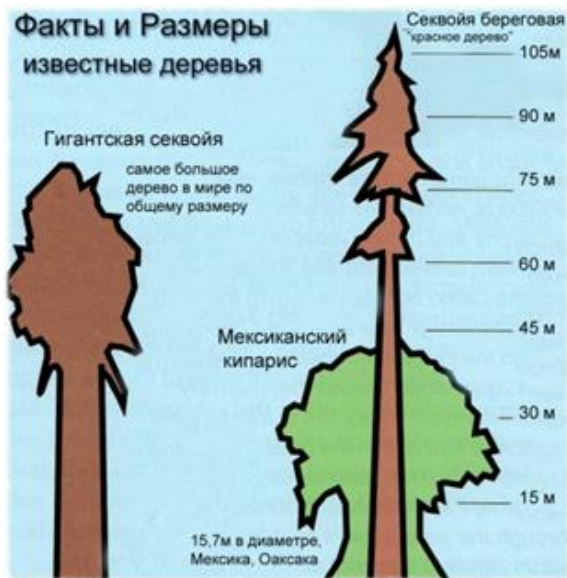
- А) Қалқантұмсық жылан
- В) Анаконда
- С) Сужылан
- Д) Аспид
- Е) Африкалық бумсленг

179. Дүние жүзіндегі ең ұзын ағаш



- А) 187 м-ге дейінгі эвкалипт ағашы
- В) Секвоия
- С) Арша
- Д) Шырша
- Е) Кипарис

180. Кең жайыла өсетін үлкен ағаш



- A) Секвойя
- B) Арша
- C) Кипарис
- D) Эвкалипт
- E) Шырша

181. Ең берік ағаш



- A) Темір ағаш – «Parrotia persica»
- B) Пандо
- C) Журупа емені
- D) Ескі Тикко
- E) Ескі Расмус

182. Суда қалқып жүретін ең үлкен қалқыма-өсімдік?



- A) «Виктория Регия» - жапырақтарының диаметрі 2 м-ге жуық. 50 кг-ға дейінгі дисперсті жүктемеге төтеп бере алады
- B) Macrocytis балдырларының ұзындығы 200 метрге жетеді
- C) Nereocystis, ұзындығы 200 метрге жетеді

- D) Теңіз балдырлары
- E) Ірі су лалагүлі: «Виктория боливия» – жапырағының диаметрі 3 м.

183. Алып гүлдер?



- A) «Rafflesia Arnoldii» - гүлінің ұзындығы 1 метр, гүлінің салмағы 10 кг-ға жуық.
- B) «Титан арум»
- C) «Магнолия Кампбелли»
- D) «Талипотты пальма»
- E) Алып лотос

184. Қандай құс қатты аязда балапан шығарады?



- A) Айқыш құс (клест)
- B) Патша құс (зимородок)
- C) Тоқылдақ
- D) Тит (синица)
- E) Ақ үкі

185. Шаңғы жасау үшін қандай ағаш қолданылады?

- A) Қайың
- B) Көктерек



- C) Үйеңкі
- D) Емен
- E) Тал

186. Белгілі ойды жеткізуге арналған сөз немесе сөз тіркесі қалай аталады?


- A) Термин
- B) Омонимдер
- C) Синонимдер
- D) Категория
- E) Предикат

187. Ұлудың тістері бар ма?



- A) Иә, бар. Ұлудың тістері тілінде орналасқан. Ұлудың 135 қатардан тұратын тістері бар. Әр қатарда 105 тіс бар. Барлығы 14175 тісі бар.
- B) Тістері жоқ
- C) 100 тіс
- D) 80 тіс
- E) 40 тіс

188. Қарағайлар орташа есеппен неше жыл өмір сүреді ?



- A) 120-140 жыл
- B) 100 жыл
- C) 110 жыл

D) 115 жыл

E) 130 жыл

189. «Тауықтар ұшады, өйткені тауықтар - құс, ал барлық құстар ұшады» деген пікірдің дрыс болмау себебін анықтаңыз:

A) Аргументтің сенімсіздігі

B) Дәлелдердегі қайшылық

C) Дәлелдердің жеткіліксіздігі

D) Жалпылау ережелерін бұзу

E) Шектеу ережелерін бұзу

190. Каштан ағашында орта есеппен қанша жапырақ болады?



A) 19 мың

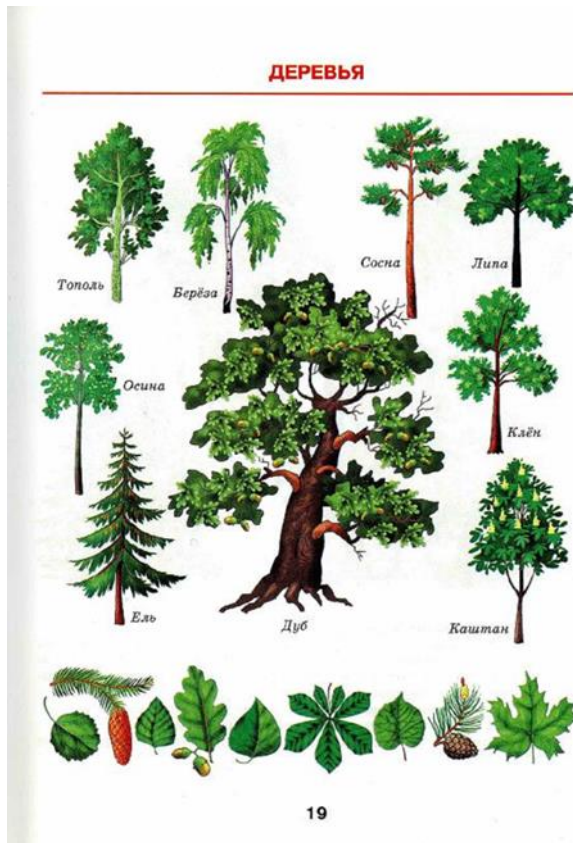
B) 18 мың

C) 20 мың

D) 10 мың

E) 15 мың

191. Теректе орта есеппен қанша жапырақ бар?



- A) 70 мыңнан 119 мыңға дейін
- B) 60 мыңнан 120 мыңға дейін
- C) 50 мыңнан 110 мыңға дейін
- D) 40 мыңнан 119 мыңға дейін
- E) 30 мыңнан 119 мыңға дейін

192. Онсыз адам өмірі мүмкін емес табиғи шудың шегі қай деңгейде болғаны дұрыс?

- A) Рұқсат етілген дыбыс шегі 80-85 децибел. 130 дцб. адамда ауырсыну тудырады, 150 дцб. адам төзгісіз азап әкеледі
- B) Сыбдырлаған шөп – 10 децибел
- C) Қатты сөйлеу - 60-70 децибел
- D) Көше көлігінің шуы 80-100 децибел
- E) Максималды дыбыс деңгейі 110 дБА-дан аспауы керек, ал импульстік шу үшін - 125 дБА. Тіпті кез келген октава диапазонында дыбыс қысымының деңгейі 135 дБ жоғары аймақтарда қысқа мерзімді болуға тыйым салынады

193. Дүние жүзіндегі ең үлкен кесіртке ?



- A) Комодо кесірткесі
- B) Мегалания (*Varanus priscus*, [син. *Megalania prisca*])
- C) Жасыл игуана – ұзындығы 1,5 метр, салмағы – 7 кг.

D) Қолтырауындар

E) Ұшатын айдаһар (лат. Draco) — кесірткелер тұқымдасының Оңтүстік-Шығыс Азияда мекендейтін ағама тұқымдасы

194. Дүние жүзіндегі ең ірі жыртқыш қандай?



A) Ақ аю

B) Қара қаймандар

C) Миссисипи аллигаторы

D) Қоңыр аюлар

E) Қасқырлардың үйірлері

195. Орман хайуанаттарының ішіндегі ең ірі, тұяқты жануар?



A) Бұлан (лось)

B) Тау ешкілері

C) Зебралар

D) Ақбөкен

E) Жабайы қабандар

196. Дүние жүзіндегі ең ірі сүтқоректі жануар?



A) Морж

B) Тангалунга

C) Антарктикалық піл итбалығы (лат. *Mirounga leonina*)

D) Ала гиена

E) Жолақты мангуст

197. Пианиноны қандай ағаштан жасайды ?



Сосна



Ель


- A) Шыршадан
- B) Көктеректен
- C) Қайың
- D) Үйеңкі
- E) Емен

198. Дүние жүзіндегі ең үлкен көбелек ?



- A) Агриппина - қанатының ұзындығы 27 см.
- B) Геркулес көбелегі, немесе *Coscinocera hercules* (лат. *Coscinocera hercules*) - қанаттары 27 см-ге дейін жетеді
- C) *Saturnia atlas Atlas* – қанатының ұзындығы 26 см-ге дейін
- D) Маактың қарлығаш құйрығы – қанаты 13,5 см-ге дейін
- E) Ажал бас сұңқар көбелегі - өлшемі 46-60 мм. Қанаттары: 80-120 мм.

199. Жер бетінде тіршілік еткен қалталы хайуанаттардың ең күштісі?



- A) Тилацин
- B) Алып кенгуру
- C) Вирджиния опоссумы
- D) Тасмания шайтаны
- E) Қызыл кенгуру

200. Ең ірі сүтқоректі жануар?



- A) Африка пілі – биіктігі 4 м, салмағы 7 тоннаға дейін
B) Тұзды су қолтырауыны – салмағы 800 кг.
C) финвал (*Balaenoptera physalus*), ең ірі теңіз сүтқоректісі – ұзындығы 26 метрге дейін, салмағы 80 т.
D) Кашалот (*Physeter macrocephalus*) – үлкен тісті жыртқыш, ұзындығы 24 метрге дейін, салмағы 50 тоннаға дейін
E) Ақ аю (*Ursus maritimus*) – салмағы 800 кг.
201. Ежелгі Египетте мысықтар – жеңіс символы ретінде дәріптелген. Ал онда мысырлықтар қандай жануарды зұлымдық пен жойылудың символы деп санады?
A) Гиппопотам (Бегемот)
B) Тінтуір (тышқан)
C) Қолтырауын
D) Мысық
E) Бүркіт
202. Жапондықтар қандай жануарды «арқасы ісіп кеткен жылқы» деп атайды?
A) Түйе
B) Піл
C) Мүйізтұмсық

- D) Бұлан
E) Динозавр
203. Қай жануар артқы аяқтарын алға қойып жүгіреді?
A) Қоян
B) Жолбарыс
C) Елік
D) Барыс
E) Кенгуру
204. Қандай жәндік орман алқаптарын зиянды шыбындардан қорғайды?
A) Инелік
B) Шмель
C) Шегіртке
D) Бал арасы
E) Ара
205. Ертеде қандай жануар оттың рухы деп саналған?
A) Саламандр
B) Тритон
C) Бақа
D) Жылан
E) Мысық
206. Токио мен Парижде қандай жануарды тойлайды?
A) Бақа
B) Саламандр
C) Құрт
D) Көбелек
E) Ит
207. Көкек-араларды неліктен «көкек» деп атайды?
A) Көкек-аралар жұмыртқаларын басқа жәндіктердің ұяларына салады
B) Әрдайым көкек құстарының жанында ұшады
C) Түсі көкекке ұқсайды
D) Тобымен ұшады
E) Мүйіздері бар
208. «Інжілде» қай жануар туралы ешқашан айтылмайды?
A) Мысық
B) Қой
C) Ит
D) Скорпион
E) Саламандр
209. Жер бетіндегі ең қатты дыбыстарды қай жануар шығарады?
A) Кит
B) Гиппопотам
C) Қоңыр аю
D) Піл
E) Айдаһар
210. Қай құс қамшының жарығы мен иттің үргеніне еліктейді?
A) Starling
B) Magpie
C) Тоқылдақ
D) Көгершін
E) Лейлек
211. Францияда қандай құсты «ұшатын егеуқұйрық» деп атайды?

- A) Көгершін
 - B) Делек
 - C) Альбатрос
 - D) Жарқанат
 - E) Сауысқан
212. Қай жануар мәңгі өлмейтін, ажалсыз деп саналады?
- A) Қызыл медуза
 - B) Тұзды су қолтырауыны
 - C) Бульдог құмырсқасы
 - D) Жылан
 - E) Саламандр
213. Қай жануардың денесінде миы болмайды?
- A) Теңіз жұлдызы
 - B) Шаян
 - C) Ара
 - D) Медуза
 - E) Құрт
214. Тірі организмдерді өлі заттардан ажырататын қасиеттерді атаңыз:
- A) Қоршаған ортамен зат алмасуы
 - B) Қозғалыс
 - C) Өлшемдерінің өзгеруі
 - D) Түстің өзгеруі
 - E) Энергияның бөлінуі
215. «Жасуша» ұғымын алғаш енгізген кім?
- A) Роберт Гук
 - B) Вирхов
 - C) Аристотель
 - D) Сократ
 - E) Платон
216. Чарльз Дарвиннің пікірінше, көптүрліліктің негізінде не жатыр?
- A) Тұқым қуалаушылық өзгергіштік және табиғи сұрыпталу
 - B) Көбею
 - C) Ұрпақтардың көбеюі
 - D) Барлығының барлығына қарсы күресі
 - E) Джунгли заңы
217. Жануарлар дүниесіндегі бәсекелестік нелердің арасында пайда болады?
- A) Ұқсас түрлер арасында
 - B) Жыртқыштар мен паразиттер арасында
 - C) Күштілер мен әлсіздер арасында
 - D) Ата-аналар мен балалар арасында
 - E) Сүтқоректілер мен бауырымен жорғалаушылар арасында
218. Тірі тіршіліктің ең кіші бірлігі қандай?
- A) Жасуша
 - B) Мүше
 - C) Түйіршік
 - D) Бөлшек
 - E) Квант
219. Денсаулықты сақтау және адамның жұмысы мен демалысын дұрыс ұйымдастыру ғылымы қалай аталады?
- A) Гигиена
 - B) Антропология
 - C) Зоология

D) Физиология

E) Биология

220. Адамның тұқым қуалау материалы...

A) ДНК

B) Жасуша

C) Ядро

D) Митохондрия

E) Цитоплазма

221. Адам терісі негізінен неден тұрады?

A) Эпителий тінінен

B) Дәнекер тінінен

C) Жиырылғыш тінен

D) Жүйке тінінен

E) Бұлшықеттерден

222. Адамда қанша қабырға бар?

A) 12 жұп

B) 6 жұп

C) 6 жұп

D) 12 қабырға

E) 20 қабырға

223. Бірінші (нөлдік) топтағы қанды қай топтағы адамдарға құюға болады?

A) Тек бірінші топтағыларға

B) Тек екінші топтағыларға

C) Тек үшінші топтағыларға

D) Тек төртінші топтағыларға

E) Кез келген топтағыларға

224. Вакцинация нәтижесінде:

A) Табиғи белсенді иммунитет қалыптасады

B) Табиғи пассивті иммунитет қалыптасады

C) Жасанды белсенді иммунитет қалыптасады

D) Жасанды пассивті иммунитет қалыптасады

E) Иммунитет толығымен жойылады

225. Адамның жүйке жүйесіне жатпайтын не?

A) Сүйек кемігі

B) Ми

C) Жұлын

D) Нейроглия

E) Ми

226. Төмендегі организмдердің қайсысында жасушалық құрылым жоқ?

A) Вирустар

B) Бактериялар

C) Балдырлар

D) Саңырауқұлақтар

E) Кох таяқшалары

227. Бактериялар қашан пайда болды?

A) Шамамен 4,0–3,5 миллиард жыл бұрын

B) «Үлкен жарылыстан» кейін бірден

C) Жердің пайда болуы кезінде бірден

D) 500 000 жыл бұрын

E) 100 миллиард жыл бұрын

228. Таяқша тәрізді бактериялар:

- A) Бациллалар
- B) Спириллалар
- C) Вирустар
- D) Вибриондар
- E) Саңырауқұлақтар

229. Бактериялардың көбеюі мынадай жолдармен іске асады:

- A) Жасушалардың бөлінуі
- B) Бүршіктену арқылы
- C) Гифальды түзілімдер
- D) Споралар мен кисталардың таралуы
- E) Жыныстық қатынас

230. Неліктен қолыңызды антибактериалды сабынмен немесе зарарсыздандырғышпен жиі жууға болмайды?

- A) Олар пайдалы және зиянды бактерияларды өлтіреді
- B) Құрамында қауіпті бактериялар бар
- C) Теріні ерітеді
- D) Пайдалы бактерияларды ғана өлтіреді
- E) Теріні құрғатады

231. Бактериялардың тіршілігі үшін аса қажет нәрсе не?

- A) Қант
- B) Су
- C) Ауа
- D) Адам денесінің температурасы
- E) Оттегі

232. Сүттің бұзылуына жол бермеу үшін оны арнайы ыдыста 65°C дейін 30 минут қыздырады. Бұл әдісті ашқан:

- A) Луи Пастер
- B) Луи Кох
- C) Энтони ван Левенгук
- D) Илья Мечников
- E) Иван Павлов

233. Антибиотиктер – бұл:

- A) Пайдалы және зиянды бактерияларды өлтіретін дәрілер
- B) Тек зиянды бактерияларды өлтіретін дәрілер
- C) Барлық тірі организмдерді өлтіретін заттар
- D) Ағзаның ауруға төзімділігін төмендететін заттар
- E) Ағза ресурстарын толық жоятын заттар

234. Бактериялар таралмайтын, берілмейтін жолды көрсетіңіз:

- A) Терінің жарақатсыз, бүтін болуы
- B) Түшкіру, жөтелу арқылы
- C) Қан арқылы
- D) Су арқылы
- E) Ортақ заттарды пайдалану арқылы

235. Жер бетіндегі тірі тіршіліктің ең көп таралған түрін атаңыз:

- A) Жәндіктер
- B) Өрмекшітәрізділер
- C) Шаянтәрізділер
- D) Ұлулар
- E) Сүтқоректілер

236. Қандай зерттеу әдісі сызғыш пен таразыны пайдалану арқылы жүргізіледі?

- A) Өлшеу
- B) Бақылау

- C) Зерттеу
- D) Тәжірибе
- E) Салыстыру

237. Төмендегі организмдердің қайсысының жасушалық құрылымы жоқ?

- A) Вирустар
- B) Кірпікшелер
- C) Бактериялар
- D) Саңырауқұлақтар
- E) Эукариоттар

238. Су қабаты дегеніміз:

- A) Гидросфера
- B) Атмосфера
- C) Литосфера
- D) Стратосфера
- E) Мантия

239. Жануарлар жүйесіндегі ең кіші бірлікті көрсетіңіз:

- A) Түр
- B) Тұқым
- C) Туыс
- D) Класс
- E) Отряд

240. Қандай өсімдіктер ежелгі болып саналмайды?

- A) Жапырақты ағаштар, шалғынды шөптер, дәнді дақылдар және бақша гүлдері
- B) Балдырлар
- C) Папоротниктер
- D) Мүктер
- E) Сағақшабақтар

241. Балдырлар қалай тыныс алады?

- A) Олардың бүкіл дене беті арқылы
- B) Желбезектер арқылы
- C) Арнайы устыцалар арқылы
- D) Өзгертілген жапырақтар арқылы
- E) Тамыршалар арқылы

242. Жансыз табиғаттың тірі организмдерге тікелей немесе жанама әсері қандай факторға байланысты?

- A) Абиотикалық
- B) Биологиялық
- C) Антропогендік
- D) Экологиялық
- E) Психологиялық

243. Қай таксономиялық санат ең үлкен?

- A) Патшалық
- B) Тұқым
- C) Туыс
- D) Түр
- E) Топ

244. Дамыған, сөйлеуді, өнерді және денесін жабуды алғаш болып игерген ежелгі адам:

- A) Кроманьон
- B) Палеотроп
- C) Неандерталь

D) Питекантроп

E) Архантроп

245. Сыртқы паразиттерге мыналар жатады:

A) Бүргелер

B) Дөңгелек құрттар

C) Ленталық құрттар

D) Таспа құрттар

E) Флюкстер

246. Жасушаның құрылымын зерттеу үшін қажет құрал:

A) Микроскоп

B) Ұлғайтқыш әйнек

C) Телескоп

D) Камера қақпаны

E) Стетоскоп

247. Барлық тірі жасушалардың құрамында болатын нәрсе:

A) Су

B) Ядро

C) Ауа

D) Жасуша қабырғасы

E) Аяқ-қолдар

248. Нанға немесе пирогқа қамыр жасау үшін сізге қажет нәрсе:

A) Саңырауқұлақ ашытқысы

B) Саңырауқұлақтар

C) Бактериялар

D) Жануарлар

E) Вирустар

249. Қайсысы жауын құрттарының ең жақын туыстары?

A) Сүліктер

B) Планариялар

C) Аскарис

D) Сиыр етінің таспа құрты

E) Гельминттер

250. Інжу-маржандар ненің нәтижесінде пайда болады?

A) Қосжарнақты моллюскалардың тіршілік әрекеті

B) Өктасқа күшті қысым болғанда

C) Ежелгі жәндіктердің тіршілік әрекеті

D) Көмірге күшті қысым болғанда

E) Су тіршілігінің қалдықтарының трансформация процесі

251. Паразит құрттардың қай мүшесі жақсы дамыған?

A) Көбею жүйесі

B) Қозғалыс мүшелері

C) Сезім мүшелері

D) Жүйке жүйесі

E) Есту мүшесі

252. Шаяндар қай топқа жатады?

A) Өрмекшітәрізділерге

B) Ұлуларға

C) Шаянтәрізділерге

D) Жәндіктерге

E) Омыртқалыларға

253. Бауырымен жорғалаушылардың қосмекенділерден айырмашылығы:

- A) Терілері қабыршақтармен қапталған
- B) Желбезектері жоқ
- C) Өкпесі жоқ
- D) Аяқ-қолдары жоқ
- E) Сезім мүшелері жоқ

254. Төрт камералы жүрек қайсысында кездеседі?

- A) Қолтырауындар мен альбатростарда
- B) Шортандар мен сом балықтарда
- C) Бақаларда
- D) Жыландарда
- E) Варан-кесірткелерде

255. Сүтқоректілерде жоқ нәрсе:

- A) Киль
- B) Мишық
- C) Сілекей бездері
- D) Құйрық
- E) Аяқ-қолдар

256. Әлеуметтік жәндіктерге мыналар жатады:

- A) Термиттер, құмырсқалар, аралар
- B) Көбелектер, қоңыздар, инеліктер
- C) Бүргелер, биттер, төсек қандалалары
- D) Тарақандар
- E) Шыбындар, масалар

257. Төмендегі сипаттамалардың қайсысы адамдарды жануарлардан ерекшелендіреді?

- A) Мақсатты әрекет, шығармашылықпен айналысу қабілеті
- B) Ұрпаққа қамқорлық жасау
- C) Табиғи материалдарды пайдалану
- D) Эмоциялар мен сезімдерді білдіру
- E) Тітіркендіргіштерге жауап беру

258. Жалғыз адам билейтін дара билік және өз билігін мұраға қалдыратын басқару түрі:

- A) Монархия
- B) Демократия
- C) Республика
- D) Федерация
- E) Диктатура

259. Әлеуметтік мобильділік нені сипаттайды?

- A) Адамның қоғамның әлеуметтік құрылымындағы орнының өзгеруін
- B) Мемлекеттің жаңа заңдарды қабылдауын
- C) Жаңа бюджетті қабылдауын
- D) Ел парламентін сайлау процесін
- E) Тұлғаның өзгеруін

260. Тар мағынада «қоғам» ұғымы нені білдіреді?

- A) Ортақ мақсаттармен, мүдделермен, шығу тегімен немесе мамандығымен, не белгілі бір тарихи кезеңмен біріктірілген адамдардың нақты тобы
- B) Өткен, қазіргі және болашақтағы бүкіл адамзат
- C) Табиғаттан бөлінген материалдық әлемнің бөлігі
- D) Жалпы барлық адамдар
- E) Ғаламның барлық тұрғындары

261. «Қоғам» термині кең мағынада нені білдіреді?

- A) Адам қауымдастықтарының барлық түрлерін және олардың өзара әрекеттесуін
- B) Туыстық байланыстарға негізделген адамдардың бірлестіктері
- C) Хоббилерге негізделген адамдардың бірлестіктері
- D) Жалпы барлық адамдар
- E) Ортақ мүдделер мен мақсаттармен біріккен адамдар тобы

262. Әлеуметтік құбылыстарды атаңыз:

- A) Мемлекеттің пайда болуы
- B) Нарықтың дамуы
- C) Адам сезімдерінің дамуы
- D) Сандық гаджеттердің пайда болуы
- E) Өнердің дамуы

263. Адам бойындағы биологиялық сипаттарды атаңыз:

- A) Мінез-құлық
- B) Өзін-өзі бағалау
- C) Дүниетаным
- D) Девиантты мінез-құлық
- E) Әдептілік

264. Әлеуметтік сипаттағы адами қасиеттерді көрсетіңіз:

- A) Өзін-өзі жүзеге асыруға ұмтылыс
- B) Жаулардан қорғану
- C) Тамақ пен суға деген қажеттілік
- D) Көбеюге деген ұмтылыс
- E) Тітіркендіргіштерге реакция

265. Андрейдің достары оны өз анасына өте ұқсас деп санайды. Мұны немен түсіндіруге болады?

- A) Тұқым қуалаушылық
- B) Жасы
- C) Интеллект
- D) Ойын-сауық
- E) Еліктеу

266. Білім дегеніміз не және ол неден тұрады?

- A) Білім беру – адамның ішкі дамуы мен дүниетанымын қалыптастыратын процесс
- B) Білім беру – диплом
- C) Білім беру – диплом немесе білімді растайтын кез келген құжат
- D) Білім беру – сертификат
- E) Білім беру – ақша табуға мүмкіндік беретін құжат

267. «Ұлт» терминінің дұрыс анықтамасын беріңіз.

- A) Жері, дәстүрі, мәдениеті, тілі, тарихы және мемлекеті ортақ этнотоп
- B) Азаматтық
- C) Жеке тұлға
- D) Адамзаттың мәдени дамуы
- E) Антропологиялық сипаттамалар

268. Тіл арқылы адамдардың қарым-қатынас жасау формасы қалай аталады?

- A) Сөйлеу
- B) Нәзік
- C) Түйсік
- D) Белсенділік
- E) Кинетика

269. Нәтижесі алдын ала белгілі жұмыс қалай аталады?

- A) Репродуктивті еңбек
- B) Коммерциялық
- C) Шығармашылық

D) Продуктивті

E) Ғылыми

270. Азамат 18 жасқа толғанда қандай құқықтарға ие болады?

A) Сайлауда дауыс беру және парламентке сайлауға түсу құқығы

B) Шетелде демалу құқығы

C) Білім алу құқығы

D) Қол сұғылмаушылық құқығы

E) Қалағанын істеу құқығы

271. «Дербестік» терминінің дұрыс анықтамасын табыңыз:

A) Табандылық, өзін-өзі тәрбиелеу, өз қабілеттеріне сенімділік және шындықты айқын бағалау арқылы мақсаттарға жету

B) Қалағанын істеу

C) Спорт

D) Ойындар

E) Демалыс

272. Айналадағы шындықты өзгертуге бағытталған адам әрекеті қалай аталады?

A) Еңбек

B) Спорт

C) Ойындар

D) Демалыс

E) Ән айту

273. Адамға жаңа білім мен дағдыларды игеруге кедергі болатын терминді атаңыз:

A) Менмендік

B) Өзін-өзі тәрбиелеу

C) Сыни ойлау

D) Ішкі мотивация және мақсат қою

E) Жүйелеу және жоспарлау

274. Неліктен ғалымдар адамдарды әлеуметтік тіршілік иелері ретінде сипаттайды?

A) Адамдар тек қоғамда ғана қалыптасады және жүзеге асады

B) Адамдар табиғи ортаның бөлігі

C) Адамдар жануарлармен айналысады

D) Адамдар әлеуметтік заңдылықтарды зерттейді

E) Адамдар табиғатпен үйлесімді өмір сүреді

275. ҚОҒАМ ұғымының сипаттамасын таңдаңыз:

A) Адамдар бірлестіктері және олардың қарым-қатынастары

B) Ортақ мақсаттары мен идеалдары бар адамдар тобы

C) Табиғатпен тығыз байланысты әлемнің бір бөлігі

D) Тұтастай алғанда бүкіл адамзат

E) Белгілі бір республикада тұратын адамдар

276. Қазіргі әлемде келесі әлеуметтік топтардың қайсысы бар?

A) Қала тұрғындары

B) Фермерлер

C) Діни абыздар

D) Туристер

E) Гетералар

277. Кіші әлеуметтік топқа жатпайтын жауапты таңдаңыз.

A) Христиандар

B) Отбасы

C) Спорт бөлімі

D) Мектеп бөлімі

E) Колледж

278. ЕГЕМЕНДІКТИҢ анықтамасын көрсетіңіз:
- A) Саяси тәуелсіздік және экономикалық автономия
 - B) Елдің негізгі заңы
 - C) Сот билігі
 - D) Мемлекеттік биліктің тәуелсіздігі және үстемдігі
 - E) Мемлекеттік шекаралардың болуы
279. Төмендегі ұғымдардың қайсысы қоғамда болып жатқан дамуды сипаттайды?
- A) Прогресс
 - B) Регрессия
 - C) Революция
 - D) Эволюция
 - E) Реформалар
280. Екі тараптың келіспеушіліктерді шешу үшін ортақ шешімге келу қабілеті қалай аталады?
- A) Компромисс, консенсус
 - B) Конкуренция
 - C) Инцидент
 - D) Саммит
 - E) Эскалация
281. Адамның ойлау, сараптау, шындық жайлы көзқарасын, өмірдегі өз орнын анықтау қабілетін қалай атауға болады?
- A) Саналылық
 - B) Шығармашылық
 - C) Биологиялық қажеттілік
 - D) Физиологиялық қажеттілік
 - E) Эстетикалық қажеттілік
282. Ұжымдық әрекет арқылы қалыптасқан әдеттер қалай аталады?
- A) Әдет-ғұрып
 - B) Белгі
 - C) Әдеп
 - D) Мүлік
 - E) Мерекелер
283. Төмендегілердің қайсысы этикет ережелеріне қатысты?
- A) Басқалармен қарым-қатынастағы сыпайылық
 - B) Шіркеудегі діни шараларға қатысу
 - C) Ұйықтар алдында балаңызға ертегі оқу
 - D) Сапар алдында чемоданға отыру
 - E) Дұға оқылғаннан кейін қолыңызбен бетіңізге сипау
284. Төмендегілердің қайсысы сарқылатын ресурстарға жатады?
- A) Топырақ
 - B) Су энергиясы
 - C) Күн энергиясы
 - D) Ауа
 - E) Ормандар
285. Табиғаттағы өзара байланыстарды, сондай-ақ адамдар мен табиғат арасындағы байланыстарды қандай ғылым зерттейді?
- A) Экология
 - B) Геобиология
 - C) Биология
 - D) География
 - E) Биохимия
286. Адамның ішкі тәртібі неге негізделеді?

- A) Өзін-өзі бақылау
- B) Заңның ықпалы
- C) Басқалардан сөгіс
- D) Жазадан қорқу
- E) Ләззат алу

287. Жоғары білімді қайдан алуға болады?

- A) Академиялар, институттар, университеттер, консерваториялар
- B) Даму курстары арқылы
- C) Гимназия арқылы
- D) Лицей арқылы
- E) Колледж арқылы

288. Адамдарға да, жануарларға да тән ортақ сипатты атаңыз:

- A) Ұрпақтарына қамқорлық жасау
- B) Тамаққа деген қажеттілік
- C) Сауаттылық
- D) Өз қалауларын білдіру
- E) Сөйлеу

289. Отбасылық құндылықты атаңыз:

- A) Отбасылық фотосуреттер
- B) Үй
- C) Достар
- D) Зергерлік бұйымдар
- E) Хоббилер

290. Гректер сандал ағашының қабығынан жасалған нәрсені өз денелерін қорғау үшін қолданған. Ол не нәрсе?

- A) Сандал – аяқ киімі
- B) Қалқан
- C) Қылыш
- D) Сауыт
- E) Дулыға

291. Алғашқы оранжереялар Францияда пайда болды. Олар не мақсатта қолданылған?

- A) Апельсин өсіру үшін
- B) Гүл өсіру үшін
- C) Тауық өсіру үшін
- D) Жылқы өсіру үшін
- E) Шошқа өсіру үшін

292. Ең биік шөп қалай аталады?

- A) Бамбук
- B) Банан
- C) Пампас шөбі
- D) *Miscanthus giganteus*
- E) Қиғаш

293. Анам бәліш пісірді. Саша оның $\frac{1}{4}$ бөлігін, Маша қалғанының $\frac{1}{3}$ бөлігін, ал әкем қалғанының жартысын жеді. Тәрелкеде 150 грамм қалды. Бастапқыда қанша бәліш болған?

- A) 600 грамм
- B) 400 грамм
- C) 200 грамм
- D) 150 грамм
- E) 100 грамм

294. Екі апалы-сіңлілінің жастарының қосындысы 11 жас. Біреуі екіншісінен 3 жас үлкен. Олардың әрқайсысы неше жаста?

- A) 4 және 7 жаста
- B) 5 және 8 жаста
- C) 6 және 9 жаста
- D) 3 және 6 жаста
- E) 2 және 5 жаста

295. Құлпынай қанша тұрады?




- A) 1
- B) 2
- C) 3
- D) 4
- E) 5

296. Киви қанша тұрады?



- A) 4
- B) 7
- C) 5
- D) 3
- E) 2

297. Макс екі сәтті соққы жасап, 4 ұпай жинады. Аня екі сәтті соққы жасап, 6 ұпай жинады. Енді қандай шарлар қалды?



- A) 5 және 6
- B) 1 және 2
- C) 4 және 6

D) 1 және 3

E) 3 және 4

298. Анасы мен қызының жасын табу керек. Олардың жасын қоссақ, 66 шығады. Анасының жасындағы цифрлардың орнын ауыстырсақ, қызының нақты жасы шығады. Анасы 59 жастан үлкен емес, ал қызы 7 жастан кіші емес. Олардың жасын табыңыз.



A) Анасы 59 жаста, қызы 7 жаста


B) 0 және 66

C) 6 және 60

D) 24 және 42

E) 15 және 51

299. Аю ойыншығы қанша тұрады?



A) 4

B) 5

C) 6

D) 3


E) 2

300. Люда кешкі жиынға дайындалып, өз гардеробына қарап тұр: оның төрт көйлегі мен үш жұп аяқ киімі бар. Сонда Люданың қанша киім нұсқасы бар?



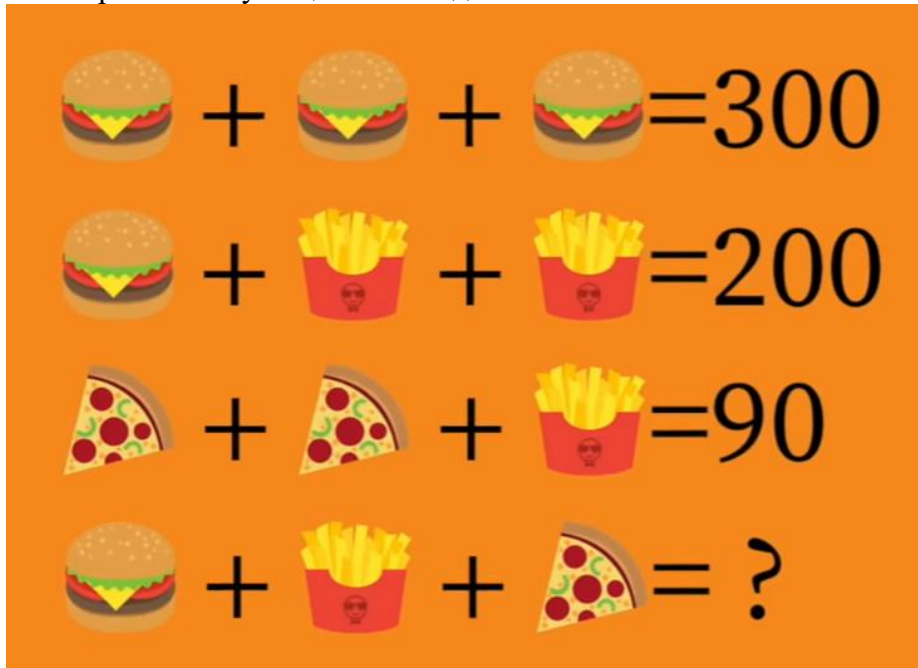
- A) 12
- B) 6
- C) 8
- D) 5
- E) 3

301. Вика, Полина және Коля суреттерді үш түсті қарындашпен: қызыл, көк және жасыл түстермен бояды. Вика қызыл емес және көк емес түстермен бояйды. Коля көк емес түстермен бояйды. Әр баланың қандай қарындашы болды?




- A) Виканың жасыл қарындашы, Полинаның көк қарындашы, Коляның қызыл қарындашы болды
- B) Виканың көк қарындашы, Полинаның қызыл қарындашы, Коляның жасыл қарындашы болды
- C) Виканың қызыл қарындашы, Полинаның көк қарындашы, Коляның жасыл қарындашы болды
- D) Полинаның жасыл қарындашы, Коляның көк қарындашы, Виканың қызыл қарындашы болды
- E) Полинаның қызыл қарындашы, Коляның көк қарындашы, Виканың жасыл қарындашы болды

302. Төртінші келуші қанша төледі?



- A) 170 теңге (100 + 50 + 20)
- B) 300 теңге (100 + 100 + 100)
- C) 200 теңге (100 + 100)
- D) 90 теңге (20 + 20 + 50)
- E) 150 теңге (50 + 50 + 50)

303. Желкенді қайықтың аты қандай?



- A) АССОЛЬ
- B) Виктория (Victoria)

C) Санта-Мария (Santa María)

D) Royal

E) Паллада

304. Таразының бір басында ананас және салмағы 1 кг гiр тасы тұр. Екіншісінде – екі ананас бар. Таразының екі басы тең болып тұр. Ананастың салмағы қанша?

A) 1 кг

B) 0,5 кг

C) 1,5 кг

D) 2,5 кг

E) 2 кг

305. Анасы алмаларды үш ағайындыларға бөліп берді. Үлкені – барлық алмалардың жартысын, ортаңғысы – қалған алмалардың үштен бір бөлігін, ал кішісі соңғы 12 алманы алды.

Бастапқыда қанша алма болған?

A) 36 алма

B) 30 алма

C) 20 алма

D) 26 алма

E) 15 алма

306. Ағасы әпкесінен 5 жас үлкен. 3 жылдан кейін ол 14 жаста болады. Әпкесі қазір неше жаста?

A) 6 жаста

B) 5 жаста

C) 4 жаста

D) 3 жаста

E) 7 жаста

307. Сөреде 18 кітап бар. Егер 4 кітап қоссаңыз, олардың саны екінші сөредегіден екі есе көп болады. Екінші сөреде қанша кітап бар?

A) 11 кітап

B) 10 кітап

C) 13 кітап

D) 12 кітап

E) 14 кітап

308. «Мен ақ, қара, тәтті немесе ащы бола аламын. Мені әдетте жейді, сирек мас етеді. Мен кімін?»

A) Шоколад

B) Балмұздақ

C) Шарап

D) Квас

E) Тұздық

309. Жұмулы көздермен нені көруге болады?

A) Түс

B) Ертегі

C) Кумир

D) Құдай

E) Қараңғылықты

310. Машаның әкесінің үш қызы бар: Алина, Вика... Үшінші қызының аты кім?

A) Маша

B) Алина

C) Вика

D) Алиса

E) Оля

311. Жылдың неше айында 28 күн бар?

- A) Барлық айларда
- B) Ақпанда
- C) Желтоқсанда
- D) Тамызда
- E) Мамырда

312. Ит он метрлік арқанға байланып, екі жүз метр бойы түзу сызықпен жүрді. Ол мұны қалай істеді?

- A) Оның арқаны ештеңеге байланбаған болатын
- B) Арқан шешіліп кеткендіктен
- C) Ит бір жерде тұрды
- D) Ит түс көрді
- E) Ит ұйықтап жатыр еді

313. Әйнекті сындырмай өтетін не?

- A) Жарық
- B) Дыбыс
- C) Жебе
- D) Оқ
- E) Сурет

314. Қалалар бар, бірақ үйлер жоқ. Таулары бар, бірақ ағаштары жоқ. Су бар, бірақ балығы жоқ. Бұл не?

- A) Географиялық карта
- B) Фильм
- C) Сурет
- D) Елес
- E) Түс

315. Таңертең басын жоғалтып, түнде қайтып келетін не?

- A) Жастық
- B) Бас киім
- C) Гильотина
- D) Сарқырама
- E) Көл

316. Қалалар мен егістіктер арқылы өтетін, бірақ ешқашан қозғалмайтын нәрсе не?

- A) Жол
- B) Метро
- C) Жайылымдар
- D) Таулар
- E) Теңіз

317. Қажет болған кезде лақтырылады. Қажет болмаған кезде қайтарылады. Бұл не?

- A) Зәкір (якорь)
- B) Егін
- C) Жеміс өнімі
- D) Кітаптар
- E) Ақша

318. Басқалар шешінгенде, ол, керісінше, киінеді. Бұл не?

- A) Киім ілгіш
- B) Ванна бөлмесі
- C) Жағажай
- D) Киім ауыстыратын бөлме
- E) Сауна

319. Бес ағайынды әрқашан жақын жерде. Олардың үлкендігі әртүрлі және әрқайсысының өз атауы бар. Ол не?

- A) Саусақтар
- B) Шар
- C) Доп
- D) Дөңгелек
- E) Жылқылар

320. Тамақ жеу үшін арнайы сатып алғанмен, оларды жей алмайды.

- A) Ыдыс-аяқ
- B) Кептірілген жемістер
- C) Күнбағыс дәндері
- D) Жартылай фабрикаттар
- E) Сусындар

321. Он метрлік баспалдақтан жарақат алмай қалай секіруге болады?

- A) Төменгі баспалдақтан секіру керек
- B) Баяу түсу
- C) Жедел көмек күту
- D) Арқанды пайдалану
- E) Көзіңізді жұмып

322. Күннің орнын су иеленді, 600 жылдан кейін ол құммен ауыстырылды, ал тағы 1100 жылдан кейін олардың барлығы механизмдермен ауыстырылды. Ол не?

- A) Сағат
- B) Фрескалар
- C) Құлпытастар
- D) Жиһаз
- E) Диірмен

323. Қандай сөзде тек үш буын және барлығы 42 әріп бар?

- A) «Әліппе»
- B) Қарбыз
- C) Ананас
- D) Жүзім
- E) Қырыққабат

324. «Он екі ағайынды, бірінің соңынан бірі кезіп жүр, бір-бірін ешқашан тастап кетпейді». Бұл не?

- A) Жыл бойғы 12 ай
- B) Шекара күзетшілері
- C) Аңшы
- D) Орман
- E) Өзендер мен көлдер туыстары

325. Егер бес мысық бес тышқанды бес минутта ұстаса, бір мысықтың бір тышқанды ұстауы үшін қанша уақыт кеткен?

- A) Бес минут
- B) Бір минут
- C) Үш минут
- D) Он минут
- E) Екі минут

326. Кәдімгі сіріңкені су астында жағып, оны толығымен өртеп жіберуге бола ма?

- A) Иә, сүңгуір қайықта
- B) Иә, көше шамының астында
- C) Иә, оттықтың астында
- D) Иә, шәйнек қайнап жатқан газ плитасының астында
- E) Үй аквариумының астында

327. Үшi толған сөз, бірақ ешқашан сөйлемейтiн нәрсе?

- A) Кітап
- B) Дыбыс жазғыш
- C) Микрофон
- D) Ерік
- E) Гаджет

328. Екі әке мен екі ұл серуендеп жүріп, үш апельсин тауып алды. Олар апельсиндерді бөліскенде әрқайсысына бір-біреуден тиді. Бұл қалай мүмкін болды?

- A) Олар үшеу еді: атасы, әкесі және ұлы
- B) Барлығына бір-біреуден берілді
- C) Көбірек жидек терді
- D) Барлығын бірден жеуге болмайды
- E) Ертеңге дейін сақтап қойды

329. Қандай ыдыстан ештеңе жей алмаймыз?

- A) Бос ыдыстан
- B) Кір ыдыстан
- C) Кішкентай ыдыстан
- D) Тар ыдыстан
- E) Қара ыдыстан

330. Шайды қай қолмен араластырған дұрыс?

- A) Қасық ұстаған қолмен
- B) Оң қолмен
- C) Сол қолмен
- D) Бас бармақпен
- E) Сұқ саусақпен

331. «Екі өте жылдам ат, шалғын арқылы қайың ағашына дейін, екі жолақты сүйреп, мені қардан алып өтеді». Ол не?

- A) Шаңғылар
- B) Фэтон
- C) Арба
- D) Тіркеме
- E) Рикша

332. Мен жас кезімде ұзын, ал қартайғанда аласа бойлымын. Мен не екенімді тап.

- A) Шам
- B) Ұлу
- C) Бас киім
- D) Құрт
- E) Көл

333. Қандай тілде дыбыссыз сөйлейді?

- A) Мылқаулар тілінде
- B) Жануарлар тілінде
- C) Балықтар тілінде
- D) Қуыршақтар тілінде
- E) Құстар тілінде

334. Қандай құс жұмыртқадан шығады, бірақ жұмыртқа салмайды?

- A) Әтеш
- B) Асшаян
- C) Шаян
- D) Моллюска
- E) Жылан

335. Торкөз себет қашан суды тартып алады?

- A) Су қатып, мұзға айналғанда
- B) Су бұға айналғанда

- С) Су қайнағанда
 - Д) Бөтелкеге құйылғанда
 - Е) Шай сүзілгенде
336. Бір адам отыр. Ол тұрып кетсе де, сіз оның орнына отыра алмайсыз. Ол қайда отыр?
- А) Тізеңізде
 - В) Бұтақта
 - С) Баспалдақта
 - Д) Орындықта
 - Е) Терезе алдында
337. Шерлок Холмс күйеуін неге күдікті деп санады?
- А) Шерлок күйеуіне мекенжайды айтпаған болатын
 - В) Күйеуінің киімінде қан дақтары болған
 - С) Бұл жұп жиі ұрысатын
 - Д) Әйелі ажырасуға өтініш берген
 - Е) Әйелі бай отбасынан шыққан
338. Теңізден шортан аулап, кейін оны суға қайта жіберетін ертегілік кейіпкер кім?
- А) Емеля
 - В) Данышпан Василиса
 - С) Иванушка
 - Д) Илья Муромец
 - Е) Добрыня Никитич
339. Қасқырлармен бірге өмір сүрген бала кім?
- А) Маугли
 - В) Иван Царевич
 - С) Витя Перестукин
 - Д) Иванушка
 - Е) Илья Муромец
340. Барлығын емдейтін жақсы дәрігер кім?
- А) Доктор Айболит
 - В) Доктор Ана
 - С) Доктор Ватсо
 - Д) Гиппократ
 - Е) Ибн Сина
341. Өмір сүру туралы әйгілі мультфильмдегі сөз тіркесі:
- А) «Жігіттер! Бейбіт өмір сүрейік»
 - В) «Өмірді рахат үшін сүру керек»
 - С) «Бәрі сізге қызғанышпен қарайтындай өмір сүру керек»
 - Д) «Табысқа емес, мағына беретін құндылықтарға ұмтылыңыз»
 - Е) «Адам бол!»
342. Ең қорқынышты өзен қандай?
- А) Тигр
 - В) Ніл
 - С) Үнді
 - Д) Ганг
 - Е) Евфрат
343. Ұзындығы, тереңдігі, ені немесе биіктігі жоқ, бірақ өлшеуге болатын нәрсе не?
- А) Температура және уақыт
 - В) Жел
 - С) Көкжиек
 - Д) Ымырт
 - Е) Түгін
344. Жер бетіндегі барлық адамдар бір уақытта не істейді?

- A) Жастары ұлғаяды
- B) Ұйықтайды
- C) Тамақтанады
- D) Күледі
- E) Жұмыс істейді

345. Адамдар өрмекшілерден аспалы көпірлер салуды үйренді, ал камера диафрагмасын және шағылыстыратын жол белгілерін мысықтардан алды. Ал жыландардың арқасында қандай өнертабыс ойлап табылды?

- A) Шприц
- B) Шарф байлау
- C) Киімге арналған сыдырма
- D) Колготки
- E) Аяқ киім бауларын байлау

346. Жерден нені оңай алуға болады, бірақ алысқа лақтыруға болмайды?

- A) Терек мамығын
- B) Мысықтың жүнін
- C) Жастық мамығын
- D) Құс қауырсынын
- E) Кілемнің шаңын

347. Бөлмеде үш шам жанып тұр. Жел біреуін сөндірді. Қанша шам қалды?

- A) Бір
- B) Екі
- C) Үш
- D) Жоқ
- E) Бір жарым

348. Сіз ұшақта отырсыз; алдыңызда ат, артыңызда көлік тұр. Қайдасыз?

- A) Карусельде
- B) Түсімде
- C) Қиял әлемінде
- D) Карнавалда
- E) Елес әлемінде

349. Соня алмаларын бес досымен бөлісті. Ол және оның достары жарты алмадан алды. Соняда қанша алма болды?

- A) Үш
- B) Екі жарым
- C) Төрт
- D) Бес
- E) Әрқайсысы бір-бірден алды

350. Үш бала шахмат ойнап отырды. Олардың барлығы үш ойын ойнады. Егер барлығы бірдей ойнаса, әр бала қанша ойын ойнады?

- A) 2
- B) 1
- C) 3
- D) 4
- E) 5

351. Қолтырауындар мен түйеқұстар хайуанаттар бағында тұрады. Барлығы 40 бас және 94 аяқ. Хайуанаттар бағында қанша қолтырауын мен түйеқұс бар?

- A) 7 қолтырауын және 33 түйеқұс
- B) 10 қолтырауын және 30 түйеқұс
- C) 12 қолтырауын және 28 түйеқұс
- D) 9 қолтырауын және 31 түйеқұс
- E) 12 қолтырауын және 28 түйеқұс

352.Адамдар қандай жәндіктерді қолға үйреткен?

- A) Аралар
- B) Бал аралары
- C) Көбелектер
- D) Шегірткелер
- E) Май құрттары

353.Неліктен кірпі батып кете алмайды?

- A) Оның инелерінің іші қуыс
- B) Олар жүзе алады
- C) Су астында тынысын ұстай алады
- D) Олар судан жеңіл
- E) Олар тез әрекет етеді

354.Құлақ жапқыштары бар жалғыз құс қандай?

- A) Үкі
- B) Делек
- C) Қарға
- D) Құс
- E) Қаз

355.Бір фермердің 15 қойы болған. Бесеуінен басқасының бәрі өлген. Фермердің қанша қойы қалған?

- A) 5
- B) 10
- C) 0
- D) 15
- E) 3

356.Жемісі өте үлкен болатын өсімдікті атаңыз.

- A) Асқабақ
- B) Қарбыз
- C) Джекфрут
- D) Дуриан
- E) Ананас

357.Малайлар ішіне тірі торай қамап, құлыпталған бамбук торын пайдаланып нені аулайды?

- A) Питонды
- B) Малай жолбарысын
- C) Малай аюын
- D) Бұлтты қабыланды
- E) Тұзды су қолтырауынын

358.Ваняның 36 кәмпиті бар. Ол барлық кәмпиттерді достарына тең бөлді. Келесі сандардың қайсысы достарының саны бола алмайды?

- A) 5
- B) 3
- C) 4
- D) 2
- E) 1

359.XVII ғасырда Марко Арони қандай тағам ойлап тапты?

- A) Макарон
- B) Спагетти
- C) Палау
- D) Лазанья
- E) Пельмен

360.Галл діни абыздары соғыс кезінде сарбаздарды тез жинаудың ең тиімді жолын тапты. Ол қандай әдіс?

- A) Ең соңынан келген адамды құрбан етті
 - B) Дайындықпен келген адамды құрбан етті
 - C) Жиынға қатыспаған адамды құрбан етті
 - D) Бірінші келген адамға сыйлық берді
 - E) Бірінші болып жеткен адамды жоғары лауазымға тағайындады
361. Ницца қаласында ең ұзақ темекі шегетіндерге арналған байқау өтті. Бір қатысушы қатарынан 60 темекі шегіп, рекорд орнатты. Алайда, ол жүлде алмады. Неліктен?
- A) Ол қайтыс болды
 - B) Қате жолмен жүгірді
 - C) Ол есінен танып қалды
 - D) Ол жанжал шығарды
 - E) Ол қазылар алқасын сабады
362. Адамның он екі жұп қабырғасы бар. Ненің қабырғасы үш жүзге жуық?
- A) Жыландардың
 - B) Қырықаяқтардың
 - C) Құрттардың
 - D) Қолтырауындардың
 - E) Саламандрлардың
363. Адамдар жыл мезгіліне қарамастан бас киімдер мен қолғаптарды қайда киетін болған?
- A) Моншада
 - B) Қаріпте
 - C) Орманда
 - D) Тауларда
 - E) Үңгірлерде
364. Ең үлкен мүйіз қай жануардікі?
- A) Ақ мүйізтұмсық
 - B) Ватуси (үй бұқалары)
 - C) Алып бұғы
 - D) Су бөкені
 - E) Муфлон
365. Футбол төрешілері ысқырықтар пайда болғанға дейін қандай аспап қолданған?
- A) Қоңырау
 - B) Қызыл шүберек
 - C) Сары карта
 - D) Жасыл таяқша
 - E) Ақ шүберек
366. Аппақ болғанда – лас, ал жасыл болғанда – таза деп саналатын нәрсе?
- A) Қара тақта
 - B) Күзгі тротуар
 - C) Орман жолы
 - D) Жағажай
 - E) Батпақ
367. Машаға: «Сіз неше жастасыз?» деп сұрағанда, ол: «Екі жылдан кейін мен бес жыл бұрынғыдан екі есе үлкен боламын» деп жауап берді. Маша неше жаста?
- A) 12
 - B) 11
 - C) 10
 - D) 15
 - E) 14
368. Епископты, рыцарьды және патшаны оңай қозғалтатын күш иесі кім?
- A) Шахматшы
 - B) Күшті адам

С) Иллюзионист

Д) Жын

Е) Әскер

369.Италия туы қызыл, ақ және жасыл түсті. Италияндықтарға осы түстерді таңдауға көмектескен қандай жидек?

А) Қарбыз

В) Ананас

С) Банан

Д) Жүзім

Е) Қызанақ

370.Патшалықтың символы саналатын гүл?

А) Лилия

В) Раушан

С) Магнолия

Д) Орхидея

Е) Күнбағыс

371.Римдіктер оны «сасық өсімдік» деп, ал Пифагор оны «дәмдеуіштердің патшасы» деп атаған. Ол қандай өсімдік?

А) Сарымсақ

В) Пияз

С) Қарбыз

Д) Картоп

Е) Қызанақ

372.Картоп пайда болғанға дейін Еуропадағы кедейлердің негізгі тамағы болған өсімдік. Біз мұны алты кейіпкерден тұратын қысқа ертегіден жақсы білеміз.

А) Шалқан

В) Қызылша

С) Қырыққабат

Д) Сәбіз

Е) Қызылша

373.«Әдемі қыз, бірақ жүрегі тастан жаралған» жұмбағы не туралы?

А) Шиө

В) Қызанақ

С) Қарбыз

Д) Асқабақ

Е) Қызылша

374.Бір бөлке нанды үш бөлікке кесу үшін қанша рет кесу керек?

А) Екі рет

В) Үш рет

С) Төрт рет

Д) Жарты рет

Е) Бір рет

375.Жүк көлігі ауылға бара жатты. Жолда төрт көлікке кезікті. Ауылға қанша көлік бара жатыр?

А) Біреу

В) Бір жүк көлігі және төрт көлік

С) Төрт көлік

Д) Бес көлік

Е) Ешбір көлік

376.Екі рет туылады, бір рет өледі. Бұл кім?

А) Тауық

В) Жылан

- C) Тасбақа
- D) Шаян
- E) Бақа

377. Әрқашан көбейетін және ешқашан азаймайтын нәрсе не?

- A) Адамның жасы
- B) Артық салмақ
- C) Байлық
- D) Ақша
- E) Ағарған шаш

378. Жоғары-төмен жүретін, бірақ өзгеріссіз қалатын нәрсе не?

- A) Жол
- B) Тау
- C) Ағаш
- D) Ай
- E) Күн

379. Шикідей желінбейтін, бірақ піскен кезде лақтырылатын нәрсе не?

- A) Лавр жапырағы
- B) Сүйек
- C) Нан қабығы
- D) Балық қабыршағы
- E) Ұлу

380. Еуропалықтар оны Таитиге әкелген кезде, арал тұрғындары оны «басында тістері бар шошқа» деп атаған. Біз оны қалай атаймыз?

- A) Сиыр
- B) Бегемот
- C) Итбалық
- D) Піл итбалық
- E) Кашалот киті

381. Ғалымдар қолтырауынның денесіндегі артық тұздардан қалай арылатынын қалай түсіндіреді?

- A) Жылау арқылы арылады
- B) Бұралып, бұрылады
- C) Диета ұстайды
- D) Тек су ішеді
- E) Үздіксіз ұйықтайды

382. Соларға арнап орнатылған ескерткіштердің саны бойынша, адамдардан кейін екінші орында тұрған қай жануар?

- A) Жылқы
- B) Иттер
- C) Көгершіндер
- D) Альбатростар
- E) Аққулар

383. Акулаларға бір сәтке де тоқтауға мүмкіндік бермейтін, әйтпесе олардың суға шөгуіне себепші болатын мүше не?

- A) Жүзу қуығы
- B) Жүрек
- C) Бауыр
- D) Желбезектер
- E) Өкпе

384. Ненің тістері асқазанында орналасқан?

- A) Шаяндардың
- B) Акулалардың

С) Қолтырауындардың

Д) Киттердің

Е) Бұландардың

385. XVI ғасырға дейін табиғатта ақ және сары сорттары ғана болған. Кейін голландиялық селекционерлер қызғылт сары түсті сортын шығарған. Бұл не?

А) Сәбіз

В) Қызанақ

С) Қауын

Д) Алма

Е) Қызғалдақ

386. Соншалықты нәзік нәрсе бар, тіпті оның атын айтудың өзі оны жояды. Ол не?

А) Үнсіздік

В) Құрмет

С) Сұлулық

Д) Дұшпандық

Е) Бейбітшілік

387. Аквариумда 10 балық бар. Екеуі суға батып, төртеуі жүзіп кетті, үшеуі өлді. Аквариумда қанша балық қалды?

А) 10

В) 9

С) 8

Д) 7

Е) 6

388. Басқаларды құрғатқан сайын, өзі ылғалдана түсетін не?

А) Сүлгі

В) Шаш кептіргіш

С) Сауна

Д) Жағажай

Е) Таулар

389. Ұсақ тесіктері көп, бірақ суды жақсы ұстайтын не?

А) Губка

В) Шаңсорғыш

С) Шаш кептіргіш

Д) Сүзгі

Е) Пеш

390. Екі әке мен екі ұл балық аулап жүріп үш балық аулады. Әрқайсысына бір балықтан тиді. Бұл қалай мүмкін?

А) Олар үшеу еді: атасы, әкесі және ұлы

В) Бұл атасы еді

С) Бұл әкесі еді

Д) Бұл атасы мен оның ұлы еді

Е) Әкесі мен ұлы еді

391. Жеті шам жанып тұрды. Үш шам сөніп қалды. Қанша шам қалады?

А) Үш шам

В) Бір шам

С) Екі шам

Д) Төрт шам

Е) Бір жарым шам

392. Қанатсыз ұшып, көзсіз жылайтын не?

А) Бұлттар

В) Кемпірқосақ

С) Бұршақ

D) Құстар тобы

E) Күзгі жапырақтар

393.Бөлмені толтыратын, бірақ орын алмайтын нәрсе не?

A) Жарық

B) Иіс

C) Жел

D) Дауыл

E) Бу

394.Термометр көтеріліп, төмендейді, бірақ әрқашан бір орында тұрады. Бұл не?

A) Температура көрсеткіші

B) Пештегі от

C) Шам жарығы

D) Ағын

E) Жәндіктер

395.Ол тірі емес, бірақ өседі. Өкпесі жоқ, бірақ ауа қажет. Аузы жоқ, бірақ судан өледі. Ол не?

A) От

B) Сел

C) Мұхит

D) Дауыл

E) Карнавал

396.Аняның иттерінің аяқтары мұрындарынан 18-ге артық. Аняның қанша иті бар?

A) 6

B) 5

C) 3

D) 1

E) 2

397.Денис пен Антон көпқабатты үйде тұрады. Антон Денистен 12 қабат жоғары. Денис жарты жолды көтерілгенде 8-қабатта болды. Антон қай қабатта тұрады?

A) 14

B) 12

C) 16

D) 20

E) 2

398.Ол сөйлейді, бірақ сөйлемейді. Сөреде үнсіз жатады, ашқанда әріптер мен суреттер арқылы «сөйлей» бастайды.

A) Кітап

B) Фильм

C) Ұялы телефон

D) Ноутбук

E) Теледидар

399.Оның қолдары бар, бірақ шапалақтай алмайды. Бұл қолдар үнемі қозғалып, маңызды сандарды көрсетеді.

A) Сағат

B) Күнтізбе

C) Ұялы телефон

D) Ноутбук

E) Теледидар

400.Өткір тістері бар, бірақ ешқашан тістемейді, оның орнына тақтайларды кеседі.

A) Ара

B) Қолтырауын

C) Кеміргіш

- D) Зәкір
- E) Пышак

Оқулықтар:

1. Селевко г. К. білім беру технологиялары энциклопедиясы / г. К. Селевко. - Мәскеу: халықтық білім, 2005. - 535 Б.
2. Загашев М. А. сыни тұрғыдан ойлау: даму технологиясы / М. О. Загашев. – Санкт-Петербург: Альянс-Дельта, 2003. -284 Б.
3. Никита Непряхин, Тарас Пащенко. "Сыни тұрғыдан ойлау. Барлық жағдайларға арналған темір логика". Баспагер: Альпина.Балалар, 2022.
4. Том Чатфилд "сыни ойлау". Баспагер: Альпина.Балалар, 2022. ISBN: 978-5-9614-2081-4; беттер саны: 328.
5. Виктория Шиманская, Никита Карпов " сыни ойлау. Барлық жағдайларға арналған темір логика". Баспагер: Альпина.Балалар, 2022.

Бұл тапсырма ақпаратты сауатты таңдауды, не болып жатқанын сыни тұрғыдан бағалай білуді,